

ГИА-9

Под редакцией
Ф.Ф. Лысенко, С.Ю. Кулабухова

МАТЕМАТИКА

РЕШЕБНИК

ПОДГОТОВКА К ГИА-2015

9

КЛАСС

УЧЕБНО-МЕТОДИЧЕСКИЙ КОМПЛЕКС
«МАТЕМАТИКА. ПОДГОТОВКА К ГИА»



Учебно-методический комплекс «Математика. Подготовка к ГИА»

Под редакцией Ф. Ф. Лысенко, С. Ю. Кулабухова

МАТЕМАТИКА

РЕШЕБНИК

9 КЛАСС

ПОДГОТОВКА К ГИА–2015

Учебно-методическое пособие



ЛЕГИОН
Ростов-на-Дону
2014

Рецензенты: *Л. Н. Евич* — кандидат физико-математических наук,
доцент ДГТУ

Л. Л. Иванова — Заслуженный учитель школ
Российской Федерации

Авторский коллектив:

Коннова Е. Г., Нужа Г. Л., Ольховая Л. С., Резникова Н. М.,
Фридман Е. М., Ханин Д. И.

Р 47 **Решебник. Математика. 9 класс. Подготовка к государственной итоговой аттестации-2015:** учебно-методическое пособие / Под ред. Ф. Ф. Лысенко, С. Ю. Кулабухова. — Ростов-на-Дону: Легион, 2014. — 336 с. — (ГИА-9)

ISBN 978-5-9966-0601-6

Решебник предназначен для самостоятельной или коллективной подготовки учащихся к государственной итоговой аттестации (ГИА-9) по математике в 9-м классе. Он содержит решения **всех тестовых заданий повышенного уровня сложности и всех задач из раздела «Задачник»** пособия «Математика. 9 класс. Подготовка к ГИА-2015» под редакцией Ф. Ф. Лысенко, С. Ю. Кулабухова, за исключением решений, которые представлены в указанной выше книге.

Предлагаемый материал поможет девятиклассникам отработать навыки выполнения заданий предстоящего экзамена и систематизировать знания в процессе подготовки к ГИА-9. Пособие также адресовано учителям, организующим подготовку учеников к экзамену.

Книга является частью **учебно-методического комплекса «Математика. Подготовка к ГИА-9»**, в который также включены пособия «Математика. 9 класс. Тематические тесты для подготовки к ГИА-2015», «Математика. Базовый уровень ГИА-2015» (3 пособия — «Алгебра», «Геометрия», «Реальная математика») и др.

Обсудить издание, оставить отзыв можно на форумах издательства <http://f.legionr.ru>,
<http://legion-posobiya.livejournal.com>.

Оглавление

Глава I. Решения учебно-тренировочных тестов	4
Решение варианта № 1	4
Решение варианта № 2	7
Решение варианта № 3	10
Решение варианта № 4	13
Решение варианта № 6	17
Решение варианта № 7	20
Решение варианта № 8	24
Решение варианта № 9	28
Решение варианта № 10	31
Решение варианта № 11	34
Решение варианта № 12	37
Решение варианта № 13	40
Решение варианта № 14	43
Решение варианта № 15	47
Решение варианта № 16	50
Решение варианта № 17	54
Решение варианта № 18	56
Решение варианта № 19	59
Решение варианта № 20	63
Решение варианта № 21	66
Решение варианта № 22	69
Решение варианта № 23	72
Решение варианта № 24	75
Решение варианта № 25	79
Решение варианта № 26	81
Решение варианта № 27	85
Решение варианта № 28	87
Решение варианта № 29	90
Решение варианта № 30	93
Глава II. Решения задач из сборника	98
Литература	327

Глава I. Решения учебно-тренировочных тестов

Решение варианта № 1

21. Решим неравенство $x^2(-x^2 - 64) \leq 64(-x^2 - 64)$.

$$-x^4 - 64x^2 \leq -64x^2 - 64 \cdot 64,$$

$$-x^4 \leq -64 \cdot 64, \quad x^4 \geq 64 \cdot 64, \quad x^4 \geq 8^4, \quad |x| \geq 8,$$

$$x \leq -8 \text{ и } x \geq 8.$$

Ответ: $(-\infty; -8] \cup [8; +\infty)$.

22. Пусть x км — расстояние от города, из которого выехал второй велосипедист, до места встречи, тогда $(75 - x)$ км — расстояние от города, из которого выехал первый велосипедист, до места встречи.

$\frac{75 - x}{20}$ ч — время движения первого велосипедиста до места встречи.

$\frac{x}{30}$ ч — время движения второго велосипедиста до места встречи.

$$\frac{x}{30} = \frac{75 - x}{20} + \frac{25}{60},$$

$$2x = 225 - 3x + 25, \quad 5x = 250, \quad x = 50.$$

Расстояние от города, из которого выехал второй велосипедист, до места встречи равно 50 км.

Ответ: 50 км.

23. Построим график функции $y = \frac{4,5|x| - 1,5}{1,5 \cdot |x| - 4,5x^2}$.

Упростим выражение $\frac{4,5|x| - 1,5}{1,5 \cdot |x| - 4,5x^2} = \frac{1,5(3|x| - 1)}{1,5|x|(1 - 3|x|)} = \frac{-1}{|x|}$, при условии, что $3|x| - 1 \neq 0$, $x \neq 0$.

То есть $x \neq 0$ и $x \neq \pm \frac{1}{3}$.

Итак, $y = -\frac{1}{|x|}$ (см. рис. 1). Прямая $y = kx$ не имеет с графиком ни одной общей точки, когда она проходит через точки $(-\frac{1}{3}; -3)$; $(\frac{1}{3}; -3)$ или совпадает с осью Ox , то есть $k = \pm 9$ и $k = 0$.

Ответ: $\pm 9; 0$.

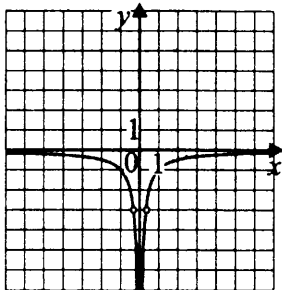


Рис. 1

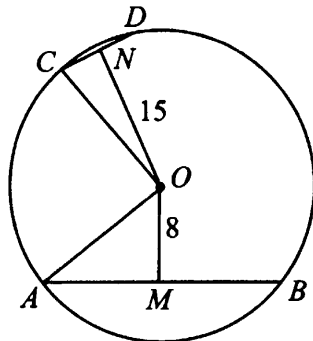


Рис. 2

24. Пусть O — центр окружности, тогда радиусы OA , OB , OC и OD равны. В равнобедренных $\triangle AOB$ и $\triangle COD$ высоты OM и ON являются медианами, $AM = MB$, $CN = ND$.

В $\triangle AOM$ (см. рис. 2) $\angle AMO = 90^\circ$, $AM = \frac{AB}{2} = 15$ (см),

$$AO = \sqrt{OM^2 + AM^2} = \sqrt{64 + 225} = 17 \text{ (см)}.$$

В $\triangle CON$ $\angle CNO = 90^\circ$, $CN = \frac{CD}{2}$, $CD = 2CN$.

$$CN = \sqrt{CO^2 - NO^2} = \sqrt{289 - 225} = 8 \text{ (см)}.$$

$$CD = 2CN = 16 \text{ (см)}.$$

Ответ: 16 см.

25. В $\triangle BCD$ и $\triangle ABD$ $\angle CBD = \angle BDA$ — как накрест лежащие углы при параллельных прямых BC и AD и секущей BD (см. рис. 3). Рассмотрим стороны, образующие эти углы, а именно BC и BD , BD и AD ,

$$\frac{BC}{BD} = \frac{BD}{AD} = \frac{1}{4}.$$

Отсюда, на основании второго признака подобия треугольников, треугольники ADB и BCD подобны.

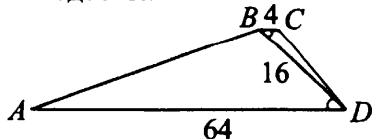


Рис. 3

26. Центры вписанных окружностей лежат на биссектрисе угла (см. рис. 4). Используя свойство касательных, проведённых из одной точки к окружности, имеем $BK = BL$ (обозначим через y).

$AK = AP$, $AP = AN$, следовательно, $AK = AP = AN$, $CL = PC$, $PC = CM$, следовательно, $CL = PC = CM$. $\triangle ABC$ — равнобедренный, значит, BP — не только биссектриса, а и высота, и медиана, то есть $AP = PC$. Отсюда $AP = PC = CM = CL$. Таким образом: $AK = AP = AN = CL = PC = CM$ (обозначим их x). Радиус R описанной около треугольника ABC окружности можно вычислить по теореме синусов $\frac{AC}{\sin B} = 2R$, $R = \frac{AC}{2 \sin B}$.

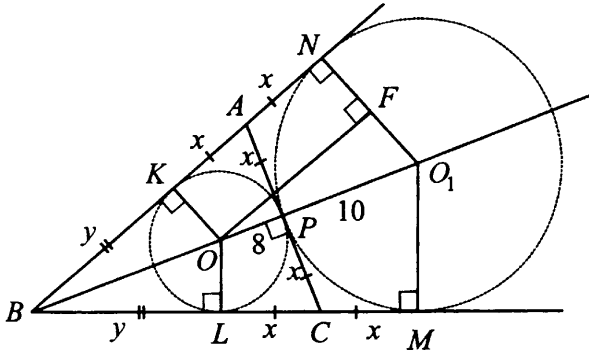


Рис. 4

Найдём BO , треугольник BKO подобен треугольнику BNO_1 (оба прямоугольные, $\angle KBO$ — общий).

Из подобия следует $\frac{BO}{BO_1} = \frac{KO}{NO_1}$, $\frac{BO}{BO + 18} = \frac{8}{10}$, $\frac{BO}{BO + 18} = \frac{4}{5}$,
 $BO = 72$, $BP = 72 + 8 = 80$.

Из $\triangle BKO$ $BK = \sqrt{BO^2 - KO^2} = \sqrt{72^2 - 8^2} = 32\sqrt{5}$, $y = 32\sqrt{5}$.

Найдём AC , для этого рассмотрим прямоугольную трапецию KNO_1O , в ней $OF = 2x$. В треугольнике OFO_1
 $OF = \sqrt{OO_1^2 - FO_1^2} = \sqrt{18^2 - 2^2} = 8\sqrt{5}$.

$2x = 8\sqrt{5}$, $AC = 8\sqrt{5}$, $BA = y + x = 36\sqrt{5}$.

Найдём $\sin \angle B$ из площади $\triangle ABC$.

$$S_{ABC} = \frac{1}{2} \cdot AC \cdot BP = \frac{1}{2} \cdot BA \cdot BC \cdot \sin \angle B,$$

$$\sin \angle B = \frac{AC \cdot BP}{BA \cdot BC} = \frac{8\sqrt{5} \cdot 80}{36\sqrt{5} \cdot 36\sqrt{5}} = \frac{8\sqrt{5}}{81}.$$

$$\text{Тогда } R = \frac{8\sqrt{5} \cdot 81}{2 \cdot 8\sqrt{5}} = \frac{81}{2} = 40,5.$$

Ответ: 40,5.

Решение варианта № 2

21. Решим уравнение $x^3 + 5x^2 - x - 5 = 0$,

$$x^3 + 5x^2 - x - 5 = 0,$$

$$x^2(x + 5) - (x + 5) = 0,$$

$$(x + 5)(x^2 - 1) = 0,$$

$$(x + 5)(x - 1)(x + 1) = 0,$$

$$x = -5, x = \pm 1.$$

Ответ: $-5; -1; 1$.

22. Примем всю работу за 1, тогда каменщики Антон и Пётр за 1 час выполняют $\frac{1}{8}$ часть работы, Пётр и Дмитрий — $\frac{1}{12}$ часть работы, а Антон и

Дмитрий — $\frac{1}{9,6}$ часть работы. Таким образом, они за 2 часа совместной

работы выполняют $\frac{1}{8} + \frac{1}{12} + \frac{1}{9,6} = \frac{1}{8} + \frac{1}{12} + \frac{5}{48} = \frac{5}{16}$ часть работы,

за 1 час они выполняют $\frac{5}{32}$ работы, и всю работу втроём они выполнят за

$$\frac{32}{5} = 6,4 \text{ (ч)}.$$

Ответ: 6,4 часа.

23. Построим график функции $y = x^2 - 5|x| - x$.

$$y = \begin{cases} x^2 - 6x, & \text{если } x \geq 0, \\ x^2 + 4x, & \text{если } x < 0. \end{cases}$$

$$1) y = x^2 - 6x, \text{ при } x \geq 0.$$

Графиком функции является часть параболы, ветви которой направлены вверх, вершина в точке с координатами $(3; -9)$, $y = 0$ при $x = 0$ и $x = 6$.

$$2) y = x^2 + 4x, \text{ если } x < 0 \text{ (см. рис. 5)}.$$

Графиком функции является часть параболы, ветви которой направлены вверх, вершина в точке с координатами $(-2; -4)$; $y = 0$ при $x = 0$ и $x = -4$.

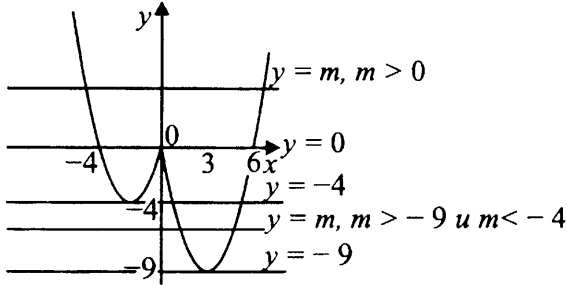


Рис. 5

3) Прямая $y = m$ имеет с графиком не менее одной, но не более трёх общих точек при $m \in [-9; -4] \cup [0; +\infty)$.

Ответ: $[-9; -4] \cup [0; +\infty)$.

24. Треугольник COD — равнобедренный, OK — расстояние от точки O до хорды CD . OK в треугольнике COD — высота, она является и медианой. $CK = KD = 7$ (см. рис. 6).

$$\text{В } \triangle COK \quad CO = \sqrt{OK^2 + CK^2} = \sqrt{225 + 49} = \sqrt{274}.$$

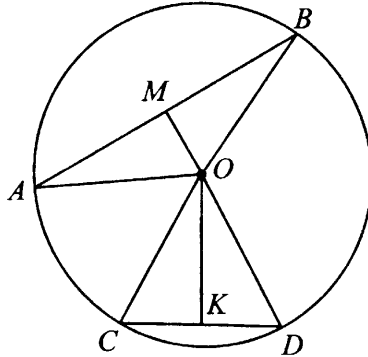


Рис. 6

Треугольник AOB — равнобедренный, MO — расстояние от точки O до хорды AB . MO — высота равнобедренного треугольника, $MO = 7$. MO является медианой в $\triangle AOB$, значит, $AM = MB$.

$$\text{Из } \triangle AMO \quad AM = \sqrt{AO^2 - MO^2} = \sqrt{274 - 49} = 15.$$

$$AB = 2AM = 30.$$

Ответ: 30.

25. 1) Четырёхугольник $KВPH$ — выпуклый, вокруг него можно описать окружность ($\angle НКВ + \angle ВРН = 180^\circ$), отсюда $ВН$ — диаметр, вписанные углы, опирающиеся на диаметр, — прямые, (по условию) (см. рис. 7).

2) Докажем, что треугольник KBP подобен треугольнику ABC , используя первый признак подобия. $\angle ВКР = \angle ВНР$ (вписанные углы, опирающиеся на одну дугу). $\angle ВНР + \angle НВР = 90^\circ$ (острые углы прямоугольного $\triangle ВНР$). $\angle ВСН + \angle НВР = 90^\circ$ (острые углы прямоугольного $\triangle ВНС$). Отсюда $\angle ВНР = \angle ВСН$. Но $\angle ВКР = \angle ВНР$, значит, $\angle ВКР = \angle ВСН$.

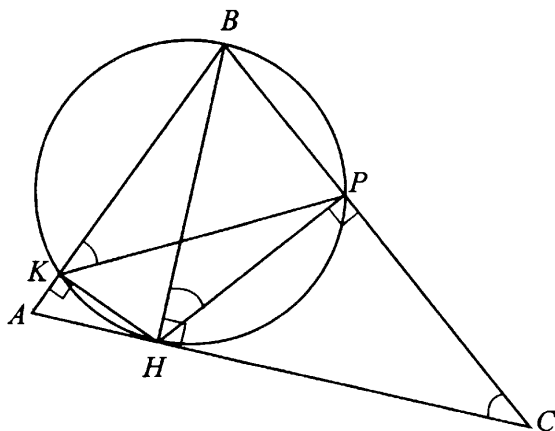


Рис. 7

В $\triangle KBP$ и $\triangle ABC$ — $\angle ABC$ общий, $\angle ВКР = \angle АСВ$. Следовательно, $\triangle KBP \sim \triangle ABC$ (по двум углам), что и требовалось доказать.

26. На стороне BC остроугольного треугольника ABC ($AB \neq AC$) как на диаметре построена окружность, пересекающая высоту AH в точке P и сторону AC в точке K (см. рис. 8).

В $\triangle ВКС$ $\angle K$ — вписанный, опирающийся на диаметр BC , следовательно, равен 90° .

По свойству двух секущих, выходящих из одной точки, имеем $AC \cdot AK = AM \cdot AP$.

Учитывая, что $MН = PН = 18$, $AH = 24$ (по условию), имеем $AM = AH + HM = 24 + 18 = 42$, следовательно, $AP = 42 - 18 \cdot 2 = 6$.

Получаем $AC \cdot AK = 42 \cdot 6 = 252$.

Прямоугольные треугольники AKF и AHC подобны ($\angle A$ — общий, $\angle AKF = \angle AHC = 90^\circ$).

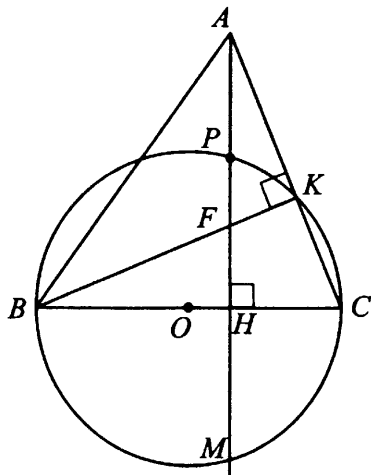


Рис. 8

В подобных треугольниках AKF и AHC сходственные стороны пропорциональны:

$$\frac{AF}{AC} = \frac{AK}{AH}.$$

Пусть $AF = x$, тогда $\frac{x}{AC} = \frac{AK}{24}$.

$$24x = AC \cdot AK, 24x = 252, x = \frac{252}{24} = 10,5.$$

Ответ: 10,5.

Решение варианта № 3

21. Решим неравенство $\frac{18}{x^2 - 5x + 4} \leq 0$.

$18 > 0$, тогда $x^2 - 5x + 4 < 0$.

$$x^2 - 5x + 4 = 0, x_1 = 1, x_2 = 4.$$

$$x^2 - 5x + 4 < 0, \text{ при } 1 < x < 4.$$

Ответ: (1; 4).

22. Свежие фрукты и высушенные состоят из воды и сухого вещества. В высушенных фруктах — 88% сухого вещества, то есть в 64 кг — $64 \cdot 0,88 = 56,32$ кг сухого вещества. Эти 56,32 кг сухого вещества должны

составлять 11% от массы свежих фруктов. Таким образом, свежих фруктов требуется взять $\frac{56,32}{0,11} = 512$ (кг).

Ответ: 512 кг.

23. Построим график функции $y = \begin{cases} x^2 - 4x + 5, & \text{если } x \geq 1, \\ 2x, & \text{если } x < 1. \end{cases}$

1) $y = x^2 - 4x + 5$, если $x \geq 1$, графиком этой функции является часть параболы, ветви которой направлены вверх ($a > 0$), вершина в точке с координатами (2; 1). Составим таблицу и построим график (см. рис. 9).

x	1	2	3	4
$y = x^2 - 4x + 5$	2	1	2	5

2) $y = 2x$, если $x < 1$. Графиком этой функции является часть прямой, расположенной в 1 и 3-й четвертях. Составим таблицу и построим график.

x	1	0
$y = 2x$	2	0

Прямая $y = m$ будет иметь с графиком данной функции ровно две общие точки при $m = 1$, $m = 2$ (см. рис. 9).

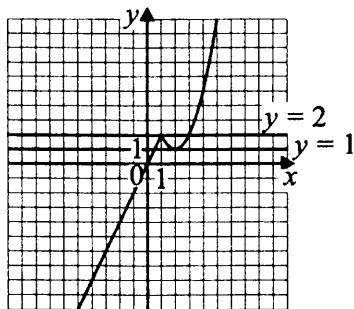


Рис. 9

Ответ: 1; 2.

24. Треугольники LKB и ABC (см. рис. 10) подобны по двум углам: $\angle B$ — общий, $\angle LKB = \angle ACB$ (как соответственные углы при параллельных прямых LK и AC и секущей BC).

Отсюда, их соответствующие стороны пропорциональны, $\frac{BK}{BC} = \frac{LK}{AC}$,

$$AC = \frac{LK \cdot BC}{BK} = \frac{9 \cdot 20}{5} = 36.$$

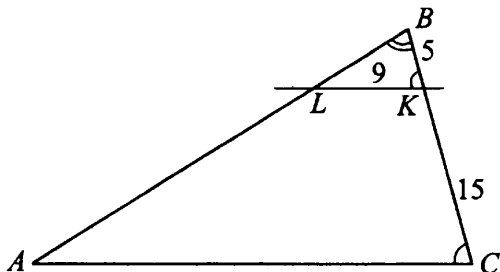


Рис. 10

Ответ: 36.

25. 1) Около треугольника LMK можно описать окружность и

$\angle LMK = \frac{\sphericalangle LK}{2}$ (см. рис. 11).

2) Допустим, что точка N не принадлежит этой окружности, то есть находится либо вне её, либо внутри неё;

а) если вне её, то величина угла LNK равна полуразности дуг, заключённых между сторонами, то есть $\angle LNK < \angle LMK$, что противоречит условию;

б) если внутри неё, то величина угла LNK равна полусумме противоположных дуг, отсекаемых хордами, то есть получается, что $\angle LNK > \angle LMK$, что также противоречит условию.

Остаётся случай, когда точка N лежит на той же окружности, что и точка M .

3) $\angle MNL = \angle MKL$, так как это вписанные углы, измеряющиеся половиной дуги ML . Что и требовалось доказать.

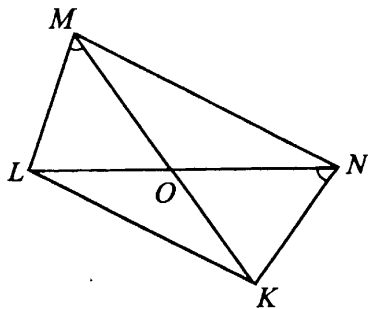


Рис. 11

26. По условию CN — биссектриса треугольника ABC , значит, $\frac{AC}{BC} = \frac{AN}{NB} = \frac{6}{11}$ (см. рис. 12).

$\triangle DAC \sim \triangle DCB$ по первому признаку подобия ($\angle D$ — общий, $\angle DCA = \angle DBC$, так как $\angle DCA = \frac{1}{2} \sphericalangle AC$ как угол между касательной и хордой, а $\angle DBC = \frac{1}{2} \sphericalangle AC$ как вписанный, опирающийся на дугу AC).

Из подобия треугольников следует $\frac{AD}{CD} = \frac{AC}{BC}$, $\frac{AD}{CD} = \frac{6}{11}$, $AD = \frac{6}{11}CD$.

$$\frac{AD}{CD} = \frac{CD}{BD}, CD^2 = AD \cdot BD, CD^2 = \frac{6}{11}CD(AD + 17),$$

$$CD = \frac{6}{11} \left(\frac{6}{11}CD + 17 \right), CD = \frac{36}{121}CD + \frac{102}{11}, \frac{85}{121}CD = \frac{102}{11}, CD = 13,2.$$

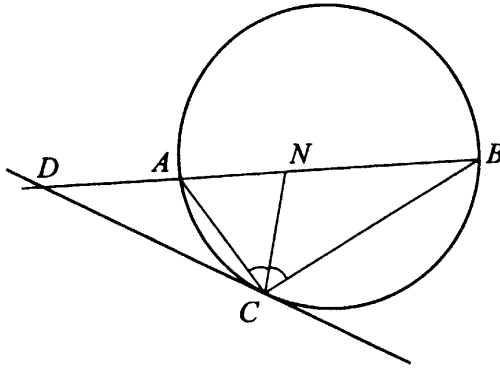


Рис. 12

Ответ: 13,2.

Решение варианта № 4

21. Решим систему уравнений $\begin{cases} x^2 + 4x + y^2 = 9, \\ 2x^2 + 8x + 2y^2 = 9y. \end{cases}$

$$2x^2 + 8x + 2y^2 = 9y, 2(x^2 + 4x + y^2) = 9y, 18 = 9y, y = 2.$$

$$x^2 + 4x + 4 = 9, x^2 + 4x - 5 = 0, x_1 = -5, x_2 = 1.$$

Ответ: $(-5; 2); (1; 2)$.

22. Пусть x км/ч — скорость первого катера, $(x + 10)$ км/ч — скорость второго катера. Составим уравнение и решим его.

$$\frac{60}{x} - \frac{60}{x+10} = \frac{12}{60}, \quad \frac{5}{x} - \frac{5}{x+10} = \frac{1}{60}, \quad 60 \cdot 50 = x^2 + 10x,$$

$$x^2 + 10x - 3000 = 0, \quad x_1 = -60, \quad x_2 = 50.$$

$x > 0, x = 50$. Скорость первого катера равна 50 км/ч.

Ответ: 50.

23. Построим график функции $y = \begin{cases} x + 3, & \text{если } x < -1, \\ -2x, & \text{если } -1 \leq x < 1, \\ 0,5x - 2,5, & \text{если } x \geq 1. \end{cases}$

1) $y = x + 3$, если $x < -1$. Графиком этой функции является часть прямой $y = x + 3$ при $x < -1$. Составим таблицу и построим график (см. рис. 13).

x	-2	-1
$y = x + 3$	1	2

2) $y = -2x$, если $-1 \leq x < 1$. Графиком этой функции является часть прямой $y = -2x$ при $-1 \leq x < 1$. Составим таблицу и построим график (см. рис. 13).

x	-1	0
$y = -2x$	2	0

3) $y = 0,5x - 2,5$, если $x \geq 1$. Графиком этой функции является часть прямой $y = 0,5x - 2,5$ при $x \geq 1$. Составим таблицу и построим график (см. рис. 13).

x	1	3
$y = 0,5x - 2,5$	-2	-1

4) Прямая $y = t$ имеет с графиком ровно две общие точки при $t = -2; t = 2$.

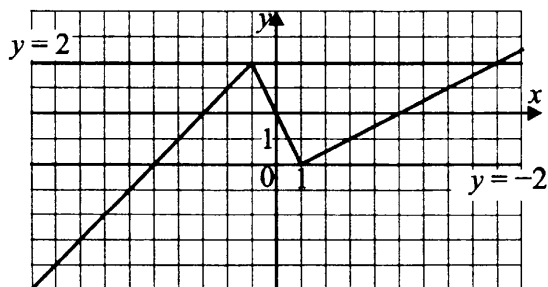


Рис. 13

Ответ: -2; 2.

24. $MB = BK$, $KC = CP$, $AP = AM$ — как отрезки касательных, проведённых к окружности из одной точки (см. рис. 14).

$$\angle ABC = 180^\circ - 2\angle BMK,$$

$$\angle BCA = 180^\circ - 2\angle CKP,$$

$$\angle CAB = 180^\circ - 2\angle APM,$$

$$\angle BMK = \frac{1}{2}\sphericalangle MK = 66^\circ,$$

$$\angle CKP = \frac{1}{2}\sphericalangle KP = 52^\circ,$$

$$\angle APM = \frac{1}{2}\sphericalangle MP = 62^\circ.$$

$$\text{Следовательно, } \angle ABC = 180^\circ - 2 \cdot 66^\circ = 48^\circ,$$

$$\angle BCA = 180^\circ - 2 \cdot 52^\circ = 76^\circ,$$

$$\angle CAB = 180^\circ - 2 \cdot 62^\circ = 56^\circ.$$

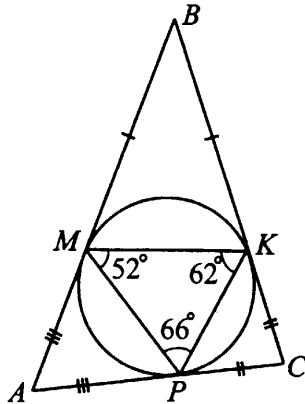


Рис. 14

Ответ: 48° , 56° , 76° .

25. Медиана делит треугольник на равные по площади треугольники: $S_{AEF} = S_{DEF}$, $S_{BFE} = S_{CFE}$. По условию $S_{AED} = S_{BFC}$, тогда $S_{BFE} = S_{AEF}$; в треугольниках BFE и AEF общая часть OFE , тогда $S_{BOE} = S_{AOF}$; $\frac{1}{2}BO \cdot OE \sin \angle BOE = \frac{1}{2}OF \cdot AO \sin \angle AOF$ (см. рис. 15). Учитывая, что $\angle BOE = \angle AOF$ (как вертикальные), получаем $BO \cdot OE = OF \cdot AO$, $\frac{AO}{OE} = \frac{BO}{OF}$, следовательно, треугольники AOB

и EOF подобны, отсюда $\angle ABF = \angle BFE$. То есть AB параллельно FE . Аналогично рассуждая, получим $DC \parallel FE$, следовательно, $AB \parallel DC$, то есть $ABCD$ — трапеция или параллелограмм. Что и требовалось доказать.

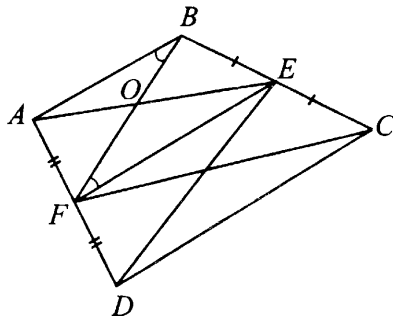


Рис. 15

26. AK — касательная к окружности, AT — секущая, тогда $AK^2 = AT \cdot AS$, $AK^2 = 12 \cdot 6$, $AK^2 = 72$ (см. рис. 16).

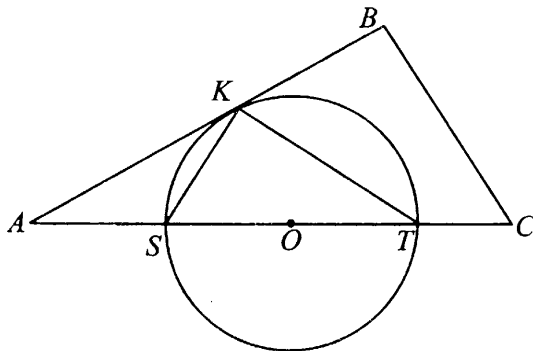


Рис. 16

$$\text{В треугольнике } AKS: KS^2 = AK^2 + AS^2 - 2 \cdot AK \cdot AS \cdot \cos \angle BAC.$$

$$KS^2 = 72 + 36 - 2 \cdot 6\sqrt{2} \cdot 6 \cdot \cos \angle BAC = 108 - 2 \cdot 6\sqrt{2} \cdot 6 \cdot \frac{2\sqrt{2}}{3} = 12.$$

$$\text{В треугольнике } AKT: KT^2 = AK^2 + AT^2 - 2 \cdot AK \cdot AT \cdot \cos \angle BAC.$$

$$KT^2 = 72 + 144 - 2 \cdot 6\sqrt{2} \cdot 12 \cdot \frac{\sqrt{8}}{3} = 216 - 192 = 24.$$

$$ST = AT - AS = 12 - 6 = 6, \quad ST^2 = 36.$$

Так как $ST^2 = KS^2 + KT^2$, то по теореме, обратной теореме Пифагора, $\angle SKT = 90^\circ$.

В прямоугольном треугольнике радиус описанной окружности равен половине гипотенузы. $R = \frac{ST}{2} = \frac{6}{2} = 3$.

Ответ: 3.

Решение варианта № 6

$$21. \frac{(201^2 - 99^2) \cdot 3^{3n-5}}{27^{n-1}} = \frac{(201 - 99)(201 + 99) \cdot 3^{3n}}{3^{3n-3} \cdot 3^5} =$$

$$= \frac{102 \cdot 300 \cdot 3^{3n}}{3^{3n} \cdot 3^2} = \frac{102 \cdot 300}{9} = 3400.$$

Ответ: 3400.

22. Пусть один воланчик стоит y рублей, а одна ракетка — x рублей. Составим пропорции.

1) Ракетка x — 100%

7 воланчиков $7y$ — $(100 - 2)\%$

$$\frac{x}{7y} = \frac{100}{98}, x = \frac{7y \cdot 100}{98} = \frac{700y}{98} \text{ (р.)}$$

2) Ракетка $\frac{700y}{98}$ — 100%

9 воланчиков $9y$ — $t\%$

$$\frac{700y}{98} : 9y = 100 : t, t = \frac{900y \cdot 98}{700y} = 126\%.$$

3) $126\% - 100\% = 26\%$.

Ответ: 26.

$$23. y = \begin{cases} x^2 + 6x - 7, & \text{если } x < 0, \\ \frac{-x^2 + 22x - 57}{x - 19}, & \text{если } x \geq 0. \end{cases}$$

Построим график заданной функции.

1) На промежутке $x < 0$ функция задаётся формулой $y = x^2 + 6x - 7$. Графиком является парабола, ветви которой направлены вверх, вершина в точке с координатами $(-3; -16)$. $y(0) = -7$.

2) На промежутке $x \geq 0$ функция задаётся формулой

$$y = \frac{-x^2 + 22x - 57}{x - 19} = \frac{-(x - 19)(x - 3)}{(x - 19)} = -x + 3, x \neq 19.$$

Прямая $y = p$ имеет с графиком функции ровно одну общую точку при $p \leq -16$ и при $p > 3$ (см. рис. 17).

Ответ: $(-\infty; -16] \cup (3; +\infty)$.

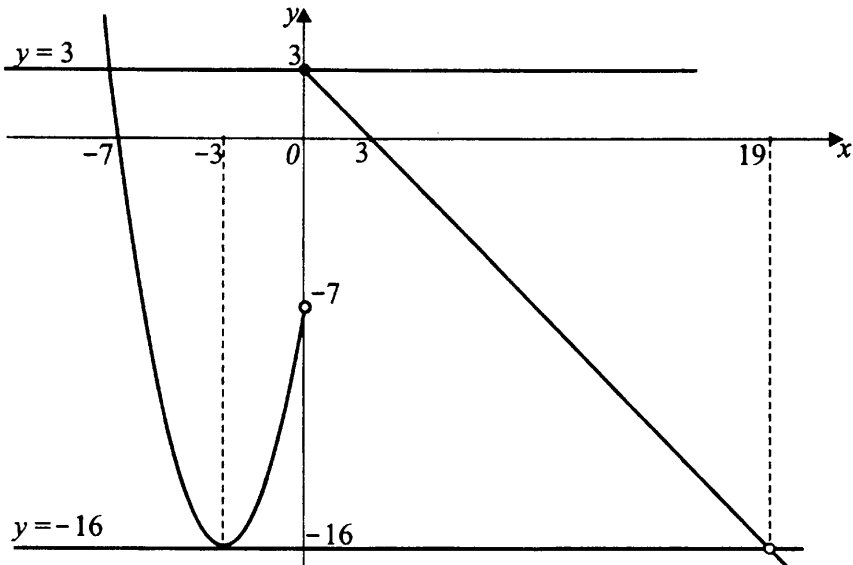


Рис. 17

24. По теореме синусов $\frac{AB}{\sin C} = 2R$, где R — радиус окружности, описанной около $\triangle ABC$ (см. рис. 18).

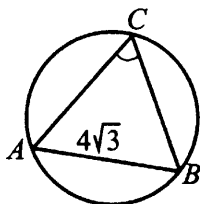


Рис. 18

$$2R = \frac{AB}{\sqrt{1 - \cos^2 C}} = \frac{4\sqrt{3}}{\sqrt{1 - \frac{6}{9}}} = \frac{4\sqrt{3} \cdot 3}{\sqrt{3}} = 12, \quad R = 6.$$

Ответ: 6.

25. Около выпуклого четырёхугольника (см. рис. 19) можно описать окружность, если сумма противоположных углов равна 180° . Докажем, что $\angle B + \angle D = 180^\circ$. В треугольниках ABC и ADC :

$$1) 25^2 = 7^2 + 24^2; \quad 625 = 49 + 576; \quad 625 = 625,$$

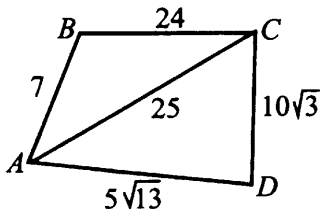


Рис. 19

$$2) 25^2 = (5\sqrt{13})^2 + (10\sqrt{3})^2; \quad 625 = 325 + 300; \quad 625 = 625.$$

По теореме, обратной теореме Пифагора, треугольники ABC и ADC — прямоугольные, у которых углы ABC и ADC прямые. Имеем $\angle B + \angle D = 90^\circ + 90^\circ = 180^\circ$, значит, около четырёхугольника можно описать окружность, что и требовалось доказать.

26. 1) В равнобедренном остроугольном треугольнике ABC с основанием AC (см. рис. 20) $BC = AB = 10$. Проведём высоту BH , тогда $AH = CH = 6$ (в равнобедренном треугольнике высота, проведённая к основанию, совпадает с медианой).

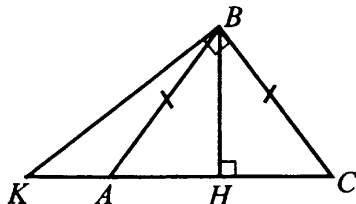


Рис. 20

$$2) \text{ В } \triangle BHC: \cos C = \frac{HC}{BC} = \frac{6}{10} = 0,6.$$

3) В прямоугольном треугольнике $\triangle CBK$:

$$\cos C = \frac{BC}{KC}, \quad KC = \frac{BC}{\cos C} = \frac{10}{0,6} = 16\frac{2}{3}.$$

$$AK = KC - AC = 16\frac{2}{3} - 12 = 4\frac{2}{3}.$$

Ответ: $4\frac{2}{3}$.

Решение варианта № 7

21. Решим систему уравнений
$$\begin{cases} \frac{x+3}{2} + \frac{y}{4} = 3, \\ 4x - y = 3. \end{cases}$$

Из второго уравнения $y = 4x - 3$ подставим в первое уравнение.

$$\frac{x+3}{2} + \frac{4x-3}{4} = 3, \quad 2x+6+4x-3 = 12, \quad 6x+3 = 12, \quad x = \frac{3}{2}, \quad x = 1,5.$$

$$y = 4 \cdot 1,5 - 3 = 3.$$

Ответ: (1,5; 3).

22. Пусть x дней бригада реально затратила на посадку деревьев, тогда предполагаемое количество дней $x+2$. Реальное количество деревьев, высаженных за один день, было $\frac{240}{x}$, а предполагаемое — $\frac{240}{x+2}$. Учитывая, что по условию задачи бригада ежедневно сажала на 4 дерева больше, чем предполагалось, составим и решим уравнение.

$$\frac{240}{x} = \frac{240}{x+2} + 4, \quad x > 0, \quad 240(x+2) = 240x + 4x \cdot (x+2),$$

$4x^2 + 8x - 480 = 0, \quad x^2 + 2x - 120 = 0, \quad x_1 = 10, \quad x_2 = -12$ — не удовлетворяет условию $x > 0$. Бригада затратила на работу 10 дней.

Ответ: 10.

23. Построим график функции.

$$y = \begin{cases} (x+3)^2, & \text{при } |x+2| < 3; \\ -\frac{20}{x}, & \text{при } |x+2| \geq 3; \end{cases}$$

1) $y = (x+3)^2$, при $|x+2| < 3$. Решим неравенство $|x+2| < 3$,
 $-3 < x+2 < 3$,
 $-5 < x < 1$.

Графиком функции является часть параболы, определённой на множестве $(-5; 1)$ и принимающей значения $[0; 16]$. Ветви направлены вверх, вершина в точке $(-3; 0)$. Составим таблицу и построим график (см. рис. 21).

x	-5	-3	-1	0	1
$y = (x+3)^2$	4	0	4	9	16

2) $y = -\frac{20}{x}, |x+2| \geq 3$.

Решим неравенство $|x+2| \geq 3$.

$$\begin{cases} x + 2 \geq 3, \\ x + 2 \leq -3; \\ x \geq 1, \\ x \leq -5. \end{cases}$$

Графиком этой функции является часть гиперболы, определённая на множестве $(-\infty; -5] \cup [1; +\infty)$, ветви находятся во 2-й и 4-й четвертях. Составим таблицу и построим график (см. рис. 21).

x	-10	-8	-5	1	2	4	5
$y = -\frac{20}{x}$	2	2,5	4	-20	-10	-5	-4

3) Прямая $y = c$ пересекает построенный график функции в одной точке, когда $c \in [-20; 0] \cup (4; 16)$.

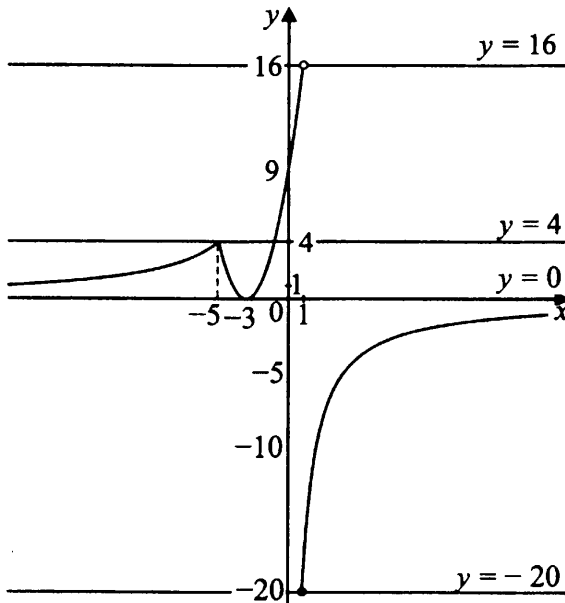


Рис. 21

Ответ: $[-20; 0] \cup (4; 16)$.

24. В треугольнике ABC (см. рис. 22) $AB = 8$, $AC = 5$, $\cos \angle BAC = -\frac{11}{80}$, тогда по теореме косинусов получаем $CB^2 = AC^2 + AB^2 - 2 \cdot AC \cdot AB \cdot \cos \angle BAC$,

$$CB^2 = 25 + 64 - 2 \cdot 5 \cdot 8 \cdot \left(-\frac{11}{80}\right), CB^2 = 100, CB = 10.$$

$$AB^2 = CB^2 + AC^2 - 2 \cdot CB \cdot AC \cdot \cos \angle BCA,$$

$$\cos \angle BCA = \frac{CB^2 + AC^2 - AB^2}{2CB \cdot AC} = \frac{100 + 25 - 64}{2 \cdot 10 \cdot 5} = 0,61.$$

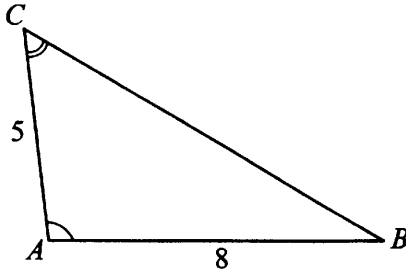


Рис. 22

Ответ: 0,61.

25. Доказательство.

Лучи AB и AC выходят из одной точки и пересекают окружность в точках E, B и F, C соответственно (см. рис. 23).

Обозначим $\angle BAC = \angle 1$, $\angle ABF = \angle 2$, $\angle BFC = \angle 3$.

$\angle 3$ — внешний угол $\triangle BAF$, он равен сумме двух углов треугольника, не смежных с ним.

$$\angle 3 = \angle 2 + \angle 1, \angle 1 = \angle 3 - \angle 2.$$

$\angle 3 = \frac{1}{2} \sphericalcap BC$, $\angle 2 = \frac{1}{2} \sphericalcap EF$, как вписанные, опирающиеся на дуги BC и EF соответственно.

$$\angle 1 = \frac{1}{2} \sphericalcap BC - \frac{1}{2} \sphericalcap EF = \frac{1}{2} (\sphericalcap BC - \sphericalcap EF).$$

$$\angle BAC = \frac{1}{2} (\sphericalcap BC - \sphericalcap EF), \text{ что и требовалось доказать.}$$

26. 1. В параллелограмме $ABCD$ биссектрисы углов ABC и BCD пересекают основание AD в точках L и K (см. рис. 24). Отсюда $\angle ABL = \angle CBL$ и $\angle BCK = \angle DCK$.

2. $\angle LBC = \angle BLA$ как накрест лежащие при параллельных прямых BC и AD и секущей BL . Отсюда $\triangle ABL$ — равнобедренный, $AB = AL$.

3. $\angle BCK = \angle CKD$ как накрест лежащие при параллельных прямых BC и AD и секущей KC . $\triangle KCD$ — равнобедренный, $KD = CD$.

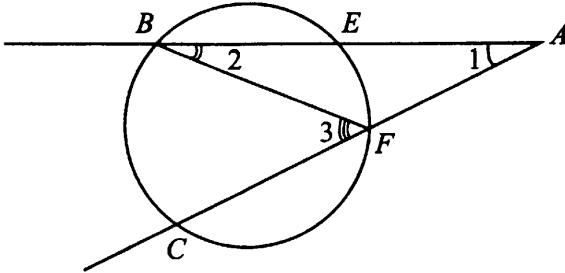


Рис. 23

4. Могут представиться две конфигурации, выберем ту, которая соответствует условию $AD = \frac{3}{2}AB$.

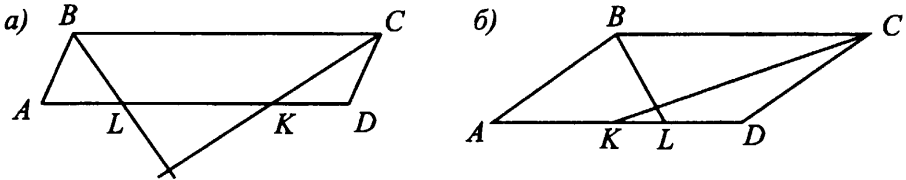


Рис. 24

$AB = CD$ — как противоположные стороны параллелограмма.

$AB = AL, CD = KD$ по доказанному, откуда

$$AB = AL = CD = KD.$$

Обозначим $AB = x$, тогда $AD = \frac{3}{2}x$.

Рассмотрим конфигурацию а):

$$AD = AL + LK + KD = x + LK + x = 2x + LK > \frac{3}{2}x, \text{ следовательно,}$$

условию задачи удовлетворяет конфигурация б).

5. Площадь параллелограмма $S = AB \cdot AD \cdot \sin \angle BAD$.

По теореме косинусов в треугольнике ABL получим:

$$BL^2 = AB^2 + AL^2 - 2AB \cdot AL \cdot \cos \angle BAD,$$

$$64 = 2x^2(1 - \cos \angle BAD), \quad 32 = x^2(1 - \cos \angle BAD),$$

$$x^2 = \frac{32}{1 - \cos \angle BAD}.$$

Аналогично в треугольнике KCD :

$$CK^2 = CD^2 + KD^2 - 2CD \cdot KD \cdot \cos \angle CDK,$$

$$144 = 2x^2(1 - \cos \angle CDK), 72 = x^2(1 - \cos \angle (180^\circ - \angle BAD)),$$

$$x^2 = \frac{72}{1 + \cos \angle BAD}.$$

Найдём значение $\cos \angle BAD$.

$$\frac{32}{1 - \cos \angle BAD} = \frac{72}{1 + \cos \angle BAD}, 32(1 + \cos \angle BAD) = 72(1 - \cos \angle BAD),$$

$$4(1 + \cos \angle BAD) = 9(1 - \cos \angle BAD), 13 \cos \angle BAD = 5, \cos \angle BAD = \frac{5}{13},$$

$$\sin \angle BAD = \frac{12}{13}.$$

$$x = \sqrt{\frac{32}{1 - \frac{5}{13}}} = \sqrt{\frac{32 \cdot 13}{8}} = 2\sqrt{13}, \text{ то есть } AB = 2\sqrt{13},$$

$$AD = \frac{3}{2} \cdot 2\sqrt{13} = 3\sqrt{13}.$$

$$S = 2\sqrt{13} \cdot 3\sqrt{13} \cdot \frac{12}{13} = 72.$$

Ответ: 72.

Решение варианта № 8

21. Решим систему уравнений
$$\begin{cases} \frac{x}{2} + \frac{y+x}{4} = 3, \\ 2x - y = 3. \end{cases}$$

Из второго уравнения $y = 2x - 3$ подставим в первое уравнение.

$$\frac{x}{2} + \frac{2x - 3 + x}{4} = 3, 2x + 2x - 3 + x = 12, 5x = 15, x = 3. y = 2 \cdot 3 - 3, y = 3.$$

Ответ: (3; 3).

22. Пусть x деталей в час изготавливает молодой рабочий, тогда $x + 4$ деталей в час делает опытный рабочий. $\frac{40}{x+4}$ часов — время опытного рабочего, затраченное на изготовление 40 деталей, $\frac{30}{x}$ часов — время молодого рабочего, затраченное на изготовление 30 деталей. По условию задачи $\frac{30}{x}$

больше $\frac{40}{x+4}$ на 1.

Составим и решим уравнение.

$$\frac{30}{x} - \frac{40}{x+4} = 1, x > 0, 30x + 120 - 40x = x(x+4), x^2 + 14x - 120 = 0,$$

$$x_1 = 6, x_2 = -20 \text{ — не удовлетворяет условию } x > 0.$$

Оба рабочих изготавливают $6 + 10 = 16$ деталей в час.

За $\frac{224}{16} = 14$ часов, работая вместе, рабочие изготовят 224 детали.

Ответ: 14.

23. Построим график функции

$$y = \begin{cases} (x+2)^2, & \text{при } |x+1| \leq 2, \\ -\frac{3}{x}, & \text{при } |x+1| > 2. \end{cases}$$

1) $y = (x+2)^2$, при $|x+1| \leq 2$.

Решим неравенство $|x+1| \leq 2$.

$$-2 \leq x+1 \leq 2,$$

$$-3 \leq x \leq 1.$$

Графиком функции является часть параболы, определённой на множестве $[-3; 1]$ и принимающей значения $[0; 9]$. Ветви направлены вверх, вершина в точке $(-2; 0)$. Составим таблицу и построим график (см. рис. 25).

x	-3	-2	-1	0	1
$y = (x+2)^2$	1	0	1	4	9

2) $y = -\frac{3}{x}$, при $|x+1| > 2$.

Решим неравенство $|x+1| > 2$.

$$\begin{cases} x+1 > 2, \\ x+1 < -2; \\ x > 1, \\ x < -3. \end{cases}$$

Графиком функции является часть гиперболы, определённой на множестве $(-\infty; -3) \cup (1; +\infty)$, ветви находятся во 2-й и 4-й четвертях. Составим таблицу и построим график (см. рис. 25).

x	-6	-3	1	3	6
$y = -\frac{3}{x}$	0,5	1	-3	-1	-0,5

3) Прямая $y = c$ пересекает построенный график функции в двух точках, когда $c = 1$.

Ответ: 1.

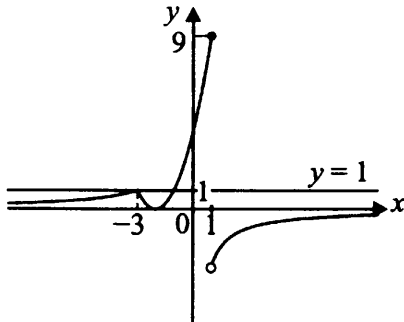


Рис. 25

24. По условию $\triangle KAC \sim \triangle ABC$, значит, их углы соответственно равны. В $\triangle KAC$ $\angle KAC$ — наибольший по условию, а в $\triangle ABC$ $\angle ABC$ — наибольший, так как лежит против большей стороны AC , равной 10, отсюда $\angle KAC = \angle ABC$. $\angle ACK$ составляет часть $\angle ACB$, значит, $\angle ACK \neq \angle ACB$, следовательно, $\angle AKC = \angle ACB$. В $\triangle ABC$ по теореме косинусов

$$AB^2 = BC^2 + AC^2 - 2BC \cdot AC \cdot \cos \angle ACB.$$

$$\cos \angle ACB = \frac{BC^2 + AC^2 - AB^2}{2BC \cdot AC},$$

$$\cos \angle ACB = \frac{25 + 100 - 81}{2 \cdot 5 \cdot 10} = \frac{44}{100} = 0,44,$$

$$\cos \angle AKC = \cos \angle ACB = 0,44.$$

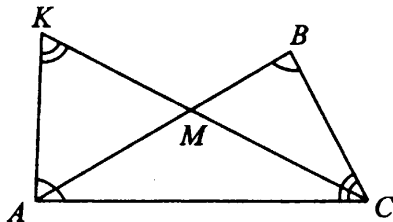


Рис. 26

Ответ: 0,44.

25. Доказательство.

По условию, продолжение хорды AB пересекает касательную к той же окружности в точке D , точка E — точка касания (см. рис. 27).

$\triangle EDB \sim \triangle ADE$ по двум углам ($\angle D$ — общий, $\angle DEB = \frac{1}{2} \overset{\frown}{BE}$ как

угол между касательной и хордой, $\angle EAB = \frac{1}{2} \sphericalcap BE$ как вписанный угол, опирающийся на $\sphericalcap BE$, значит, $\angle DEB = \angle EAB$).

Из подобия следует $\frac{DB}{DE} = \frac{DE}{AD} \Rightarrow DE^2 = DB \cdot AD$, что и требовалось доказать.

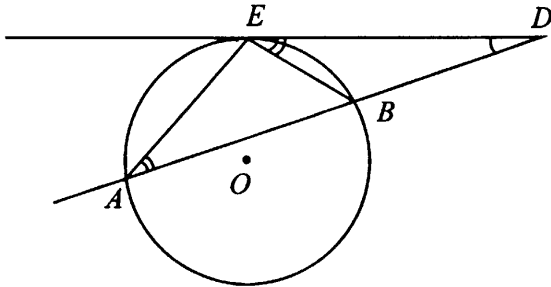


Рис. 27

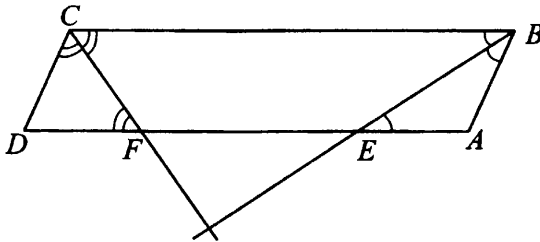


Рис. 28

26. 1) В параллелограмме $ABCD$ BE и CF (см. рис. 28) биссектрисы углов ABC и BCD соответственно, значит, $\angle ABE = \angle CBE$ и $\angle BCF = \angle DCF$.

$\angle BCF = \angle CFD$ — как накрест лежащие при параллельных прямых AD и BC и секущей CF , значит, $\triangle CDF$ — равнобедренный, $CD = DF$.

$\angle CBE = \angle BEA$ — как накрест лежащие при параллельных прямых AD и BC и секущей BE , значит, $\triangle BAE$ — равнобедренный, $AB = AE$.

Выберем конфигурацию аналогично тому, как это было сделано в задаче 26 варианта 7.

2) Обозначим $\angle CDA = \alpha$, тогда $\angle DAB = 180^\circ - \alpha$.

В треугольнике CDF по теореме косинусов

$$CF^2 = CD^2 + DF^2 - 2CD \cdot DF \cdot \cos \angle \alpha, \quad CF^2 = 2CD^2 - 2CD^2 \cos \alpha,$$

$$CF^2 = 2CD^2(1 - \cos \alpha),$$

$$64 = 2CD^2(1 - \cos \alpha), \quad 32 = CD^2(1 - \cos \alpha).$$

В треугольнике BAE по теореме косинусов

$$BE^2 = AB^2 + AE^2 - 2AB \cdot AE \cdot \cos(180^\circ - \alpha),$$

$$BE^2 = 2AB^2 + 2AB^2 \cdot \cos \alpha, \quad BE^2 = 2AB^2(1 + \cos \alpha),$$

$$144 = 2AB^2(1 + \cos \alpha), \quad 72 = AB^2(1 + \cos \alpha).$$

$$AB = CD, \quad AD = 4AB, \quad AD = 4CD, \quad 1 - \cos \alpha = \frac{32}{CD^2},$$

$$\cos \alpha = 1 - \frac{32}{CD^2}, \quad 1 + \cos \alpha = \frac{72}{CD^2}, \quad \cos \alpha = \frac{72}{CD^2} - 1.$$

$$1 - \frac{32}{CD^2} = \frac{72}{CD^2} - 1; \quad \frac{104}{CD^2} = 2; \quad 52 = CD^2, \quad CD = 2\sqrt{13}.$$

$$AD = 4 \cdot 2\sqrt{13} = 8\sqrt{13}.$$

$$\cos \alpha = 1 - \frac{32}{52} = \frac{20}{52} = \frac{5}{13}, \quad \sin \alpha = \sqrt{1 - \frac{25}{169}} = \frac{12}{13}.$$

$$3) S_{ABCD} = CD \cdot DA \cdot \sin \alpha = 2\sqrt{13} \cdot 8\sqrt{13} \cdot \frac{12}{13} = 192.$$

Ответ: 192.

Решение варианта № 9

$$21. \frac{3^{2n+2} \cdot 5^{n-2}}{45^{n+1}} = \frac{3^{3n+2} \cdot 5^{n-2}}{3^{2n+2} \cdot 5^{n+1}} = 5^{n-2-(n+1)} = 5^{-3} = \frac{1}{125} = 0,008.$$

Ответ: 0,008.

22. Пусть x км/ч — собственная скорость катера, а y км/ч — собственная скорость моторной лодки. Тогда время движения катера от пристани до острова будет $\frac{21}{x-3}$ ч, а время движения моторной лодки от пристани до

острова в 2 раза меньше времени в пути катера, то есть $\frac{21}{2(x-3)}$ ч или

$\frac{21}{y-3}$ ч. Время движения моторной лодки на обратном пути (от острова

до пристани) — $\frac{21}{y+3}$ ч, и оно равно 35 минутам, или $\frac{7}{12}$ часа, то есть

$$\frac{21}{y+3} = \frac{7}{12}.$$

Составим систему уравнений и решим её.

$$\begin{cases} \frac{21}{2(x-3)} = \frac{21}{y-3}, \\ \frac{21}{y+3} = \frac{7}{12}; \end{cases}$$

$$\frac{21}{y+3} = \frac{7}{12}, 21 \cdot 12 = 7(y+3), y+3 = 36, y = 33.$$

$$\frac{21}{2(x-3)} = \frac{21}{y-3}, \frac{1}{2(x-3)} = \frac{1}{30}, x-3 = 15, x = 18.$$

Итак, время в пути катера (от острова до пристани) равно $\frac{21}{18+3} = \frac{21}{21} = 1$ (час).

Таким образом, на обратном пути катеру нужно выехать на $60 - 35 = 25$ (мин.) раньше моторной лодки.

Ответ: 25.

23. Построим график функции

$$y = \frac{x^4 - 52x^2 + 576}{(x+6)(x-4)}.$$

$$\frac{x^4 - 52x^2 + 576}{(x+6)(x-4)} = \frac{(x^2 - 36)(x^2 - 16)}{(x+6)(x-4)} = (x-6)(x+4), \text{ при } x \neq -6, x \neq 4.$$

График исходной функции — это парабола $y = x^2 - 2x - 24$ с выколотыми точками $(-6; 24)$ и $(4; -16)$, ветви направлены вверх, вершина в точке $(1; -25)$ (см. рис. 29).

Прямая $y = c$ имеет с графиком ровно одну общую точку при $c = -25$; $c = -16$; $c = 24$.

Ответ: $-25; -16; 24$.

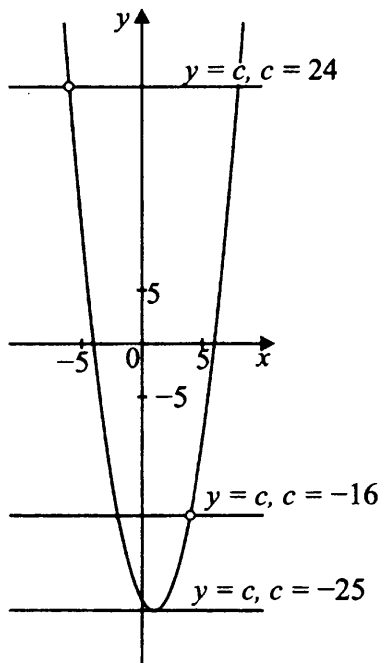


Рис. 29

24. В $\triangle CBH$ (см. рис. 30) $\angle CHB = 90^\circ$, $\operatorname{tg} \angle CBH = \frac{4\sqrt{3}}{12} = \frac{\sqrt{3}}{3}$.

$\angle CBH = \angle CBA$. Следовательно, $\operatorname{tg} \angle CBA = \frac{\sqrt{3}}{3}$.

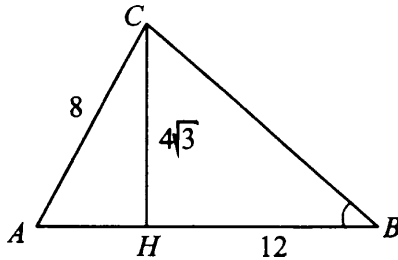


Рис. 30

Ответ: $\frac{\sqrt{3}}{3}$.

25. В трапеции $MNPК$ точки A, B, C, D — середины сторон (см. рис. 31). Необходимо доказать, что если $ABCD$ — ромб, то трапеция $MNPК$ — равнобедренная.

Пусть сторона ромба $ABCD$ равна a , BC — средняя линия $\triangle KNP$, поэтому $KN = 2BC = 2a$. Аналогично $MP = 2a$. $MP = MK$.

Если диагонали трапеции равны, то она равнобедренная, что и требовалось доказать.

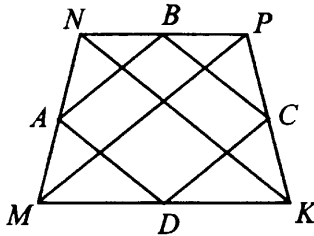


Рис. 31

26. 1) По условию MN — средняя линия $\triangle ABC$ (см. рис. 32), значит, $MN \parallel AC$ и $MN = \frac{1}{2}AC = 3,5$.

По условию $BC = 5$, $NC = \frac{1}{2}BC = 2,5$.

CO — биссектриса $\angle ACB$, $\angle NCO = \angle ACO$ и $\angle NOC = \angle OCA$ — как накрест лежащие углы при параллельных прямых MN и AC , секущей CO . Следовательно, $\triangle ONC$ — равнобедренный и $ON = NC$, $ON = 2,5$.

$$MO = MN - ON = 3,5 - 2,5 = 1.$$

2) Необходимо найти отношение $MO : ON$, $MO = 1$, $ON = 2,5$.
 $MO : ON = 1 : 2,5 = 2 : 5$.

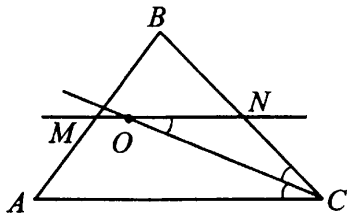


Рис. 32

Ответ: 2 : 5.

Решение варианта № 10

21. Сократим дробь $\frac{7^{n+1} \cdot 2^{3n-4}}{56^{n-1}} = \frac{7^{n+1} \cdot 2^{3n-4}}{2^{3(n-1)} \cdot 7^{n-1}} =$
 $= 7^{n+1-(n-1)} \cdot 2^{3n-4-3(n-1)} = 7^2 \cdot 2^{-1} = \frac{49}{2} = 24,5$.

Ответ: 24,5.

22. 1) Время поезда, вышедшего из A в B , равно

$$20 \text{ ч } 42 \text{ мин} - 15 \text{ ч } 00 \text{ мин} = 5 \text{ часов } 42 \text{ мин}, \text{ то есть } 5 \frac{42}{60} = 5 \frac{7}{10} = 5,7 \text{ (ч)},$$

скорость поезда равна $285 : 5,7 = 50$ (км/ч).

2) Время поезда, вышедшего из B в A , равно $5 \text{ ч } 42 \text{ мин} + 38 \text{ мин} = 6 \text{ ч}$

$$20 \text{ мин} = 6 \frac{1}{3} \text{ ч}, \text{ скорость поезда равна } 285 : 6 \frac{1}{3} = 45 \text{ (км/ч)}.$$

3) Скорость сближения поездов равна $50 + 45 = 95$ (км/ч), а время, через которое встретятся оба поезда, равно $\frac{285}{95} = 3$ (ч) = 180 (минут).

Ответ: 180.

23. Построим график функции $y = \frac{x^4 - 26x^2 + 25}{(x-5)(x+1)}$.

$$\frac{x^4 - 26x^2 + 25}{(x-5)(x+1)} = \frac{(x^2 - 25)(x^2 - 1)}{(x-5)(x+1)} = (x+5)(x-1) \text{ при } x \neq 5; \\ x \neq -1.$$

График исходной функции — парабола $y = x^2 + 4x - 5$ с выколотыми точками $(-1; -8)$ и $(5; 40)$. Ветви направлены вверх, вершина в точке $(-2; -9)$ (см. рис. 33).

Прямая $y = c$ имеет с графиком ровно одну общую точку при $c = -9$, $c = -8$, $c = 40$.

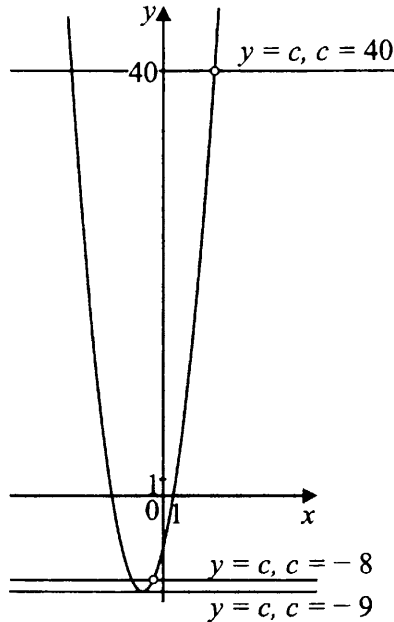


Рис. 33

Ответ: $-9; -8; 40$.

24. В прямоугольном треугольнике ABC (см. рис. 34) высота $AH = \sqrt{CH \cdot HB}$, $AH = \sqrt{2 \cdot 6}$, $AH = 2\sqrt{3}$.

$$S = \frac{1}{2}BC \cdot AH, S = \frac{1}{2}(2 + 6) \cdot 2\sqrt{3} = 8\sqrt{3}.$$

Ответ: $8\sqrt{3}$.

25. Доказательство.

Рассмотрим трапецию $ABCD$ с основаниями BC и AD (см. рис. 35), O — точка пересечения диагоналей. Заметим, что $\triangle BOC \sim \triangle AOD$ по первому признаку подобия ($\angle BOC = \angle AOD$ как вертикальные, а

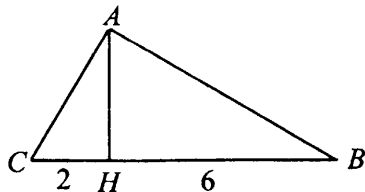


Рис. 34

$\angle OAD = \angle BCO$ как накрест лежащие углы при параллельных прямых BC и AD и секущей AC).

Из подобия следует $\frac{OC}{OA} = \frac{OB}{OD} = k$, где k — коэффициент подобия.

Тогда $S_{AOB} = \frac{1}{2}OB \cdot OA \sin \angle BOA = \frac{1}{2}OA \cdot k \cdot OD \sin \angle BOA$,

$S_{COD} = \frac{1}{2}OC \cdot OD \sin \angle COD = \frac{1}{2}k \cdot OA \cdot OD \sin \angle COD$.

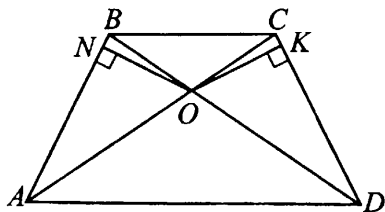


Рис. 35

Однако $\angle BOA = \angle COD$ как вертикальные, значит, $\sin \angle BOA = \sin \angle COD$ и $S_{AOB} = S_{COD}$.

К боковым сторонам AB и CD проведены перпендикуляры ON и OK соответственно.

Тогда $S_{AOB} = \frac{1}{2}AB \cdot ON$, $S_{COD} = \frac{1}{2}CD \cdot OK$ и потому

$\frac{1}{2}AB \cdot ON = \frac{1}{2}CD \cdot OK$. По условию $ON = OK$, значит, $AB = CD$, следовательно, трапеция $ABCD$ — равнобедренная, что и требовалось доказать.

26. Пусть $AE = 3x$, $EC = 2x$, так как по условию $AE : EC = 3 : 2$.

$\triangle ABE \sim \triangle EDC$ по двум углам ($\angle ABD = \angle ACD$ — вписанные углы, опирающиеся на дугу AD , $\angle AEB = \angle DEC$ — как вертикальные). Из подобия этих треугольников следует пропорциональность отрезков:

$$\frac{AB}{CD} = \frac{AE}{DE}, \frac{3}{\sqrt{6}} = \frac{3x}{DE}, DE = x\sqrt{6}.$$

$$\frac{AB}{CD} = \frac{BE}{EC}, \frac{3}{\sqrt{6}} = \frac{BE}{2x}, BE = \frac{6x}{\sqrt{6}} = x\sqrt{6}.$$

Найдём отношение $BE : ED = x\sqrt{6} : x\sqrt{6} = 1 : 1$.

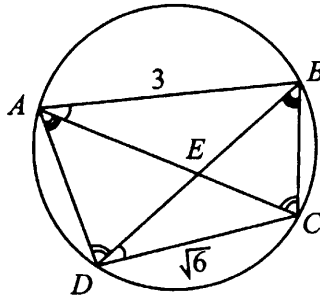


Рис. 36

Ответ: 1 : 1.

Решение варианта № 11

$$21. \frac{98^{n+1}}{7^{2n+1} \cdot 2^{n-1}} = \frac{(7^2 \cdot 2)^{n+1}}{7^{2n+1} \cdot 2^{n-1}} = \frac{7^{2n+2} \cdot 2^{n+1}}{7^{2n+1} \cdot 2^{n-1}} = 7 \cdot 2^2 = 28.$$

Ответ: 28.

22. Пусть S км — расстояние, на которое туристы отплыли от пристани. По условию скорость течения реки равна 4 км/ч, собственная скорость катера равна 8 км/ч, поэтому скорость катера против течения реки равна 4 км/ч, а по течению — 12 км/ч. Тогда время, которое катер шёл против течения реки, равно $\frac{S}{4}$ ч, а по течению — $\frac{S}{12}$ ч.

Так как туристы отправились от пристани в 7 часов утра, а вернулись обратно в 19 часов вечера, то всего они затратили 12 часов. С другой стороны, это время складывается из времени, затраченного на путь от пристани, отдых и путь к пристани.

Составим уравнение и решим его.

$$\frac{S}{4} + \frac{S}{12} + 6 = 12, \frac{S}{3} = 6, S = 18 \text{ (км)}.$$

Ответ: 18 км.

23. Преобразуем выражение $\frac{x^4 - 17x^2 + 16}{(x+1)(x-4)}$.

$$\frac{x^4 - 17x^2 + 16}{(x+1)(x-4)} = \frac{(x^2 - 16)(x^2 - 1)}{(x+1)(x-4)} = \frac{(x-4)(x+4)(x-1)(x+1)}{(x+1)(x-4)} =$$

$$= (x+4)(x-1), x \neq -1, x \neq 4.$$

Построим график функции $y = (x+4)(x-1)$, $x \neq -1$, $x \neq 4$ (см. рис. 37).

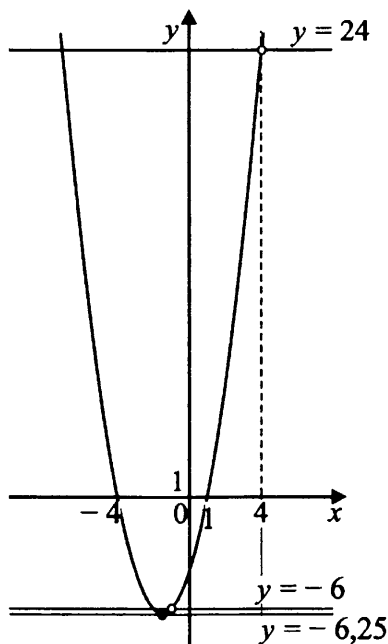


Рис. 37

Графиком функции является парабола с выколотыми точками $(-1; -6)$; $(4; 24)$ и вершиной в точке $(-1,5; -6,25)$.

Прямая $y = a$ имеет с графиком ровно одну общую точку при $a = -6,25$, $a = -6$, $a = 24$.

Ответ: $-6,25$; -6 ; 24 .

24. Пусть K и B — точки пересечения луча LO с окружностью (см. рис. 38). KB — диаметр, поэтому $\sphericalangle KMB = 180^\circ$. По условию

$\sphericalangle KOM = 130^\circ$, значит, и центральный угол KOM равен 130° . Тогда $\sphericalangle MOL = 50^\circ$. $OM \perp ML$ как радиус, проведённый в точку касания. $\triangle OML$ — прямоугольный, тогда $\sphericalangle MLO = 40^\circ$.

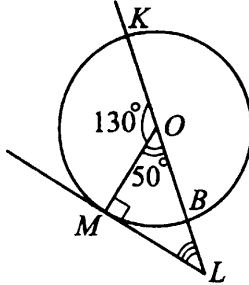


Рис. 38

Ответ: 40° .

25. Пусть O — центр окружности, K — точка касания окружности и прямой F_1L_1 (см. рис. 39). OK — радиус, проведённый в точку касания. Следовательно, $OK \perp F_1L_1$. По условию $FF_1 \perp F_1L_1$, $LL_1 \perp F_1L_1$, значит, $OK \parallel FF_1 \parallel LL_1$. $OF = OL$ как радиусы окружности. Параллельные прямые отсекают на прямой FL равные отрезки, по теореме Фалеса на прямой F_1L_1 они также отсекают равные отрезки $F_1K = KL_1$, то есть K — середина отрезка F_1L_1 .

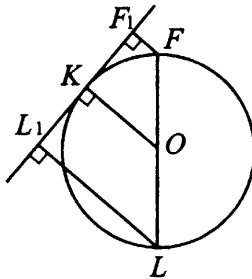


Рис. 39

26. Введём обозначения: $AM = 2t$, $MN = t$, $NB = 2t$, $BT = TP = l$, $PC = 5l$ (см. рис. 40). $S_{ABC} = \frac{1}{2} AB \cdot BC \cdot \sin \angle ABC$.

$$140 = \frac{1}{2} \cdot 5t \cdot 7l \cdot \sin \angle ABC.$$

$$l \cdot t \cdot \sin \angle ABC = 8.$$

Четырёхугольник, площадь которого нужно найти, — параллелограмм со сторонами l , t и углом, равным $\angle ABC$, между ними.

Докажем, например, что $T_2P_2 = l$. TPP_2T_2 — параллелограмм, так как по условию его стороны попарно параллельны, значит, его противоположные стороны равны и $T_2P_2 = TP = l$. Аналогично другая сторона четырёхугольника равна t . $\angle ABC = \angle T_1TC$ как соответственные при $BA \parallel TT_1$, секущая BT . $\angle T_1TC = \angle T_1T_2P_2$ как соответственные при $NP_2 \parallel BC$, секущая TT_1 . Значит, $\angle T_1T_2P_2 = \angle ABC$.

Площадь искомого четырёхугольника равна

$$l \cdot t \sin \angle T_1T_2P_2 = l \cdot t \sin \angle ABC = 8.$$

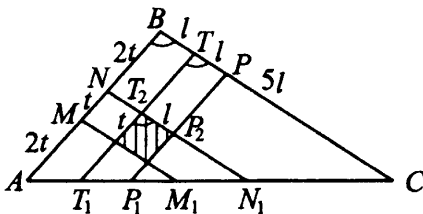


Рис. 40

Ответ: 8.

Решение варианта № 12

$$21. \frac{75^{n+2}}{5^{2n+3} \cdot 3^{n-1}} = \frac{(5^2 \cdot 3)^{n+2}}{5^{2n+3} \cdot 3^{n-1}} = \frac{5^{2n+4} \cdot 3^{n+2}}{5^{2n+3} \cdot 3^{n-1}} = 5 \cdot 3^3 = 135.$$

Ответ: 135.

22. Пусть S км — расстояние, на которое туристы отплыли от пристани. По условию скорость течения реки равна 2 км/ч, а собственная скорость катера равна 8 км/ч, поэтому скорость катера против течения реки равна 6 км/ч, а по течению — 10 км/ч. Тогда время, которое катер шёл против течения реки, равно $\frac{S}{6}$ ч, а по течению — $\frac{S}{10}$ ч.

Так как туристы отправились от пристани в 8 часов утра, а вернулись обратно в 18 часов вечера, то всего они затратили 10 часов. С другой стороны, это время складывается из времени, затраченного на путь от пристани, отдых и путь к пристани. Составим уравнение и решим его.

$$\frac{S}{6} + \frac{S}{10} + 4 = 10, \quad \frac{2S}{15} = 3, \quad S = 22,5.$$

Ответ: 22,5 км.

23. Преобразуем выражение $\frac{x^4 - 5x^2 + 4}{(x-2)(x+1)}$.

$$\begin{aligned} \frac{x^4 - 5x^2 + 4}{(x-2)(x+1)} &= \frac{(x^2 - 4)(x^2 - 1)}{(x+1)(x-2)} = \\ &= \frac{(x-2)(x+2)(x-1)(x+1)}{(x+1)(x-2)} = (x+2)(x-1), \quad x \neq -1, \quad x \neq 2. \end{aligned}$$

Построим график функции $y = (x+2)(x-1)$, $x \neq -1$, $x \neq 2$ (см. рис. 41). Графиком является парабола с выколотыми точками $(-1; -2)$, $(2; 4)$, вершиной с координатами $(-0,5; -2,25)$

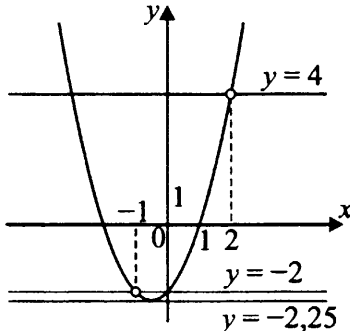


Рис. 41

Прямая $y = c$ имеет с графиком ровно одну общую точку при $c = -2,25$, $c = -2$, $c = 4$.

Ответ: $-2,25$; -2 ; 4 .

24. В прямоугольном треугольнике медиана, проведённая из вершины прямого угла, равна половине гипотенузы:

$$NK = \frac{1}{2}LM = \frac{1}{2} \cdot \sqrt{LN^2 + NM^2} = \frac{1}{2} \cdot \sqrt{9^2 + 12^2} = \frac{1}{2} \cdot 15 = 7,5.$$

Ответ: 7,5.

25. По условию точка N симметрична точке O относительно точки M , поэтому $OM = MN$, $OM \perp ML$ как радиус, проведённый в точку касания. $\triangle LMO = \triangle LMN$ (по двум катетам), поэтому $\angle NLM = \angle MLO$

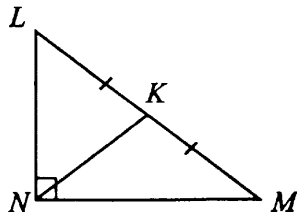


Рис. 42

(см. рис. 43). $\triangle LOM = \triangle LOK$ (по катету и гипотенузе), следовательно, $\angle OLM = \angle OLK$, откуда $\angle KLN = 3\angle MLN$.

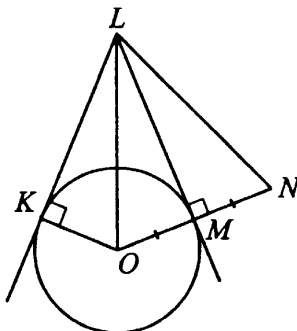


Рис. 43

26. Введём обозначения: $AN = 3t$, $MN = 2t$, $MB = 3t$, $BK = l$, $KL = 2l$, $LC = 6l$ (см. рис. 44). $S_{ABC} = \frac{1}{2} AB \cdot BC \cdot \sin \angle ABC$.

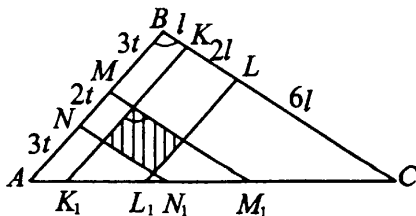


Рис. 44

$$S_{ABC} = \frac{1}{2} \cdot 8t \cdot 9l \cdot \sin \angle ABC = 36t \cdot l \sin \angle ABC.$$

Четырёхугольник, площадь которого известна, — параллелограмм со сторонами $2l$, $2t$ и углом, равным $\angle ABC$, между ними (докажите это са-

мостоятельно, пользуясь доказательством №26 варианта 11). Так как по условию площадь четырёхугольника равна 18, то $4l \cdot t \cdot \sin \angle ABC = 18$.

Тогда $S_{ABC} = 18 \cdot 9 = 162$.

Ответ: 162.

Решение варианта № 13

$$21. \begin{cases} \frac{x+5}{3} - \frac{y-2}{4} = 1, \\ x^2 - y = 6; \end{cases} \begin{cases} 4(x+5) - 3(y-2) = 12, \\ y = x^2 - 6; \end{cases}$$

$$\begin{cases} 4x + 20 - 3y + 6 = 12, \\ y = x^2 - 6; \end{cases} \begin{cases} 4x - 3y = -14, \\ y = x^2 - 6; \end{cases}$$

$$\begin{cases} 3x^2 - 4x - 32 = 0, \\ y = x^2 - 6; \end{cases}$$

$$\begin{cases} \begin{cases} x = 4, \\ x = -\frac{8}{3}, \\ y = x^2 - 6; \end{cases} \\ \begin{cases} x = 4, \\ y = 10; \\ x = -\frac{8}{3}, \\ y = \frac{10}{9}. \end{cases} \end{cases}$$

Итак, решением системы являются пары $(4; 10)$ и $(-\frac{8}{3}; \frac{10}{9})$.

Ответ: $(4; 10); (-\frac{8}{3}; \frac{10}{9})$.

22. Обозначим через x литров объём второго раствора, тогда объём первого раствора $-(x+2)$ л, а объём смеси $-(2x+2)$ л.

Внесём данные в таблицу.

Раствор	Объём раствора (в литрах)	Объём кислоты (в литрах)
Первый раствор	$x+2$	$0,1(x+2)$
Второй раствор	x	$0,4x$
Смесь	$2x+2$	$0,15(2x+2)$

Составим уравнение и решим его.

$$0,15(2x + 2) = 0,1(x + 2) + 0,4x,$$

$$15(2x + 2) = 10(x + 2) + 40x,$$

$$30x + 30 = 10x + 20 + 40x,$$

$$20x = 10,$$

$$2x = 1, 2x + 2 = 3.$$

Таким образом, объём полученной смеси равен 3 л.

Ответ: 3 л.

23. Раскроем знак модуля в выражении $x^2 + 2x + \frac{|x|}{x}$. Тогда функция примет вид

$$y = \begin{cases} 2x + 8, & \text{если } x < -3, \\ x^2 + 2x - 1, & \text{если } -3 \leq x < 0, \\ x^2 + 2x + 1, & \text{если } x > 0. \end{cases}$$

Построим график функции (см. рис. 45).

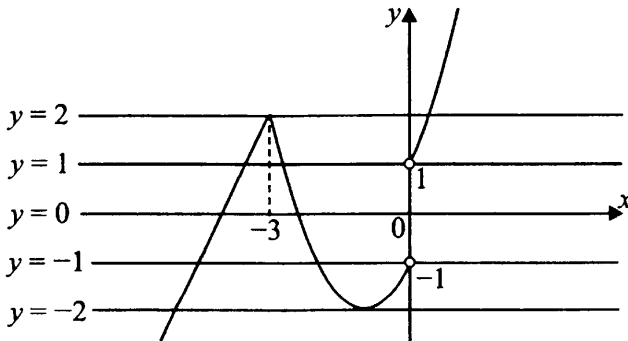


Рис. 45

Прямая $y = a$ имеет с графиком ровно две общие точки при $a = 2$, $-1 \leq a \leq 1$, $a = -2$.

Ответ: $[-1; 1] \cup \{-2; 2\}$.

24. $\angle MAB = 90^\circ : 2 = 45^\circ$, так как AM — биссектриса прямого угла A .

Угол между биссектрисой AM и медианой AD равен:

$$\angle MAD = 45^\circ - \angle DAB \text{ (см. рис. 46).}$$

$\triangle DAB$ — равнобедренный, так как медиана, проведённая из вершины прямого угла, равна половине гипотенузы, следовательно, $\angle DAB = \angle DBA = 28^\circ$.

Значит, $\angle MAD = 45^\circ - 28^\circ = 17^\circ$.

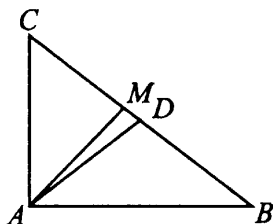


Рис. 46

Ответ: 17° .

25. В прямоугольнике противоположные стороны равны, $BA = CD$, $BC = AD$.

Введём обозначения: $BE = DK = t$, $EA = CK = 4t$, $DP = BF = l$, $AP = FC = 4l$ (см. рис. 47).

$\triangle BEF = \triangle PDK$, $\triangle AEP = \triangle CFK$ по двум катетам, следовательно, $EF = PK$, $EP = FK$.

Итак, в четырёхугольнике $EFKP$ противоположные стороны попарно равны, значит, четырёхугольник $EFKP$ — параллелограмм. Что и требовалось доказать.

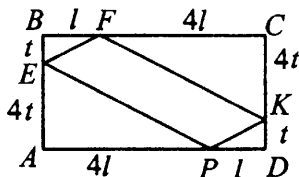


Рис. 47

26. $AT^2 = AC \cdot AL$ (на основании теоремы о касательной и секущей) (см. рис. 48).

Проведём высоту BL треугольника ABC . Точка L лежит на окружности, так как прямой угол BLC опирается на диаметр BC .

$\triangle APQ \sim \triangle ABL$ по двум углам. Тогда $\frac{PQ}{BL} = \frac{AP}{AL}$, $\frac{PQ}{BL} = \frac{10}{AL}$
 $PQ = \frac{10BL}{AL}$ (1).

По условию $S_{ABC} = 4S_{APQ}$; $4 \cdot \frac{1}{2}AP \cdot PQ = \frac{1}{2}AC \cdot BL$,
 $40QP = AC \cdot BL$, $PQ = \frac{AC \cdot BL}{40}$ (2).

Из (1) и (2) получаем $\frac{10BL}{AL} = \frac{AC \cdot BL}{40}$, $\frac{10}{AL} = \frac{AC}{40}$.

$AL \cdot AC = 400$, значит, $AT^2 = 400$, откуда $AT = 20$.

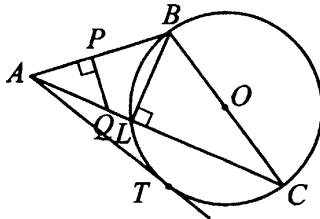


Рис. 48

Ответ: 20

Решение варианта № 14

$$21. \begin{cases} \frac{x+3}{4} - \frac{y-5}{3} = 4, \\ y^2 + x = 13. \end{cases}$$

$$\begin{cases} 3x + 9 - 4y + 20 = 48, \\ x = 13 - y^2; \end{cases} \quad \begin{cases} 3x - 4y = 19, \\ x = 13 - y^2; \end{cases}$$

$$\begin{cases} 3(13 - y^2) - 4y = 19, \\ x = 13 - y^2; \end{cases} \quad \begin{cases} 3y^2 + 4y - 20 = 0, \\ x = 13 - y^2; \end{cases}$$

$$\begin{cases} \left[\begin{array}{l} y = 2, \\ y = -\frac{10}{3}, \\ x = 13 - y^2; \end{array} \right. \end{cases}$$

$$\left\{ \begin{array}{l} \left\{ \begin{array}{l} x = 9, \\ y = 2; \end{array} \right. \\ \left\{ \begin{array}{l} x = \frac{17}{9}, \\ y = -\frac{10}{3}. \end{array} \right. \end{array} \right.$$

Итак, решением системы являются пары $(9; 2)$ и $(\frac{17}{9}; -\frac{10}{3})$.

Ответ: $(9; 2); (\frac{17}{9}; -\frac{10}{3})$.

22. Обозначим через x кг массу второго слитка, тогда масса первого слитка — $(x + 6)$ кг, а масса сплава — $(2x + 6)$ кг.

Внесём данные в таблицу.

Слитки	Масса сплава (кг)	Масса серебра в сплаве (кг)
Первый слиток	$x + 6$	$0,4(x + 6)$
Второй слиток	x	$0,2x$
Сплав	$2x + 6$	$0,35(2x + 6)$

Составим уравнение и решим его.

$$0,35(2x + 6) = 0,4(x + 6) + 0,2x,$$

$$35(2x + 6) = 40(x + 6) + 20x,$$

$$70x + 210 = 40x + 240 + 20x,$$

$$10x = 30,$$

$$x = 3, x + 6 = 9.$$

Таким образом, масса первого слитка равна 9 кг.

Ответ: 9 кг.

23. Раскроем знак модуля в выражении $x^2 - 4x + \frac{|3x|}{x}$. Тогда функция примет вид

$$y = \begin{cases} x^2 - 4x - 3, & \text{если } -1 < x < 0, \\ x^2 - 4x + 3, & \text{если } x > 0, \\ -x + 1, & \text{если } x \leq -1. \end{cases}$$

Построим её график (см. рис. 49).

Прямая $y = p$ имеет с графиком ровно две общие точки при $p \geq 3$ $p = -1$.

Ответ: $\{-1\}, [3; +\infty)$.

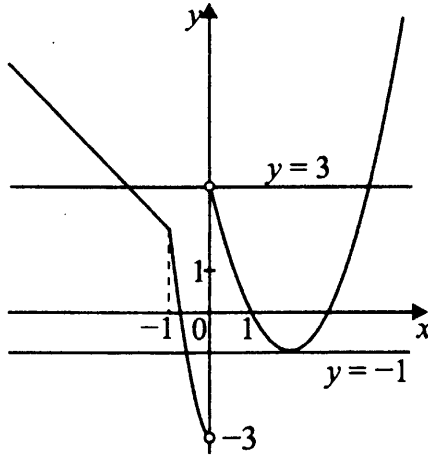


Рис. 49

24. В прямоугольном треугольнике медиана, проведённая из вершины прямого угла, равна половине гипотенузы, следовательно, $AM = MB$ и в равнобедренном треугольнике ABM $\angle MAB = \angle MBA = 38^\circ$ (см. рис. 50).

В прямоугольном треугольнике ABH $\angle ABH = 90^\circ - 38^\circ = 52^\circ$. Тогда $\angle MBH = \angle ABH - \angle ABM = 52^\circ - 38^\circ = 14^\circ$.

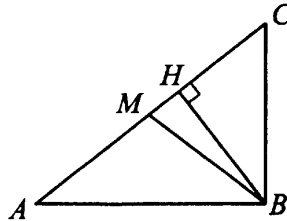


Рис. 50

Ответ: 14° .

25. В параллелограмме $ABCD$ противоположные стороны равны ($BA = CD$, $BC = AD$) и противоположные углы равны ($\angle B = \angle D$, $\angle A = \angle C$).

Введём обозначения (см. рис. 51): $BP = DF = t$, $AP = CF = 2t$, $BK = DE = l$, $CK = AE = 2l$.

$\triangle BKP = \triangle DEF$, $\triangle APE = \triangle CFK$ по двум сторонам и углу между ними, следовательно, $PK = EF$, $EP = FK$.

Итак, в четырёхугольнике $PKFE$ противоположные стороны попарно равны, значит, четырёхугольник $PKFE$ — параллелограмм. Что и требовалось доказать.

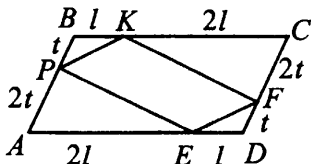


Рис. 51

26. По свойству отрезков касательной и секущих $AD^2 = AC \cdot AL$ (см. рис. 52), поэтому $AL \cdot AC = 225$ (1).

Проведём высоту BL треугольника ABC . Точка L лежит на окружности, так как прямой угол BLC опирается на диаметр BC . $\triangle ABL \sim \triangle ARM$ по двум углам. Тогда $\frac{AR}{AL} = \frac{RM}{BL}$ или $\frac{5}{AL} = \frac{RM}{BL}$,

$$BL = \frac{RM \cdot AL}{5}.$$

$$\frac{S_{ABC}}{S_{AMR}} = \frac{AC \cdot BL}{AR \cdot RM} \quad (2).$$

Из (1) выразим AC : $AC = \frac{225}{AL}$.

Тогда $\frac{S_{ABC}}{S_{AMR}} = \frac{225 \cdot RM \cdot AL}{AL \cdot AR \cdot 5 \cdot RM} = \frac{225}{25} = 9$.

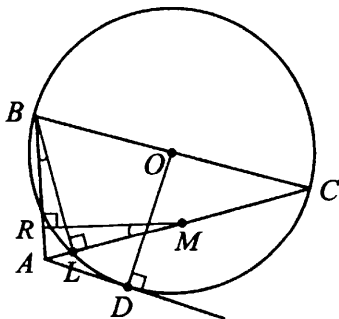


Рис. 52

Ответ: 9.

Решение варианта № 15

$$21. \frac{x^2 - 21}{4} \leq 2x - 7, x^2 - 21 \leq 8x - 28, x^2 - 8x + 7 \leq 0,$$

$$(x - 1)(x - 7) \leq 0.$$

$$(x - 1)(x - 7) = 0, x = 1, = 7.$$

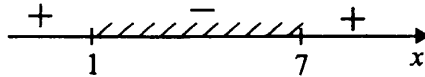


Рис. 53

Значит, $(x - 1)(x - 7) \leq 0$ при $x \in [1; 7]$.

Ответ: $[1; 7]$.

22. Пусть первоначальная скорость мотоциклиста равна x км/ч, тогда из A в B он доехал за $\frac{45}{x}$ часов. После поворота в пункте B он проехал до остановки ещё $54 - 45 = 9$ км с той же скоростью за время $\frac{9}{x}$ ч. Ему осталось проехать $45 - 9 = 36$ км, и он проехал их со скоростью $(x + 6)$ км/ч за время $\frac{36}{x + 6}$ ч. На путь из B в A он затратил на $\frac{5}{60}$ ч меньше, чтобы компенсировать время, затраченное на остановку.

$$\frac{45}{x} = \frac{9}{x} + \frac{36}{x + 6} + \frac{5}{60}, \quad \frac{36}{x} - \frac{36}{x + 6} = \frac{1}{12},$$

$$\frac{36 \cdot 6}{x(x + 6)} = \frac{1}{12}, \quad x^2 + 6x = 36 \cdot 6 \cdot 12, \quad x^2 + 6x - 2592 = 0;$$

$x_1 = 48, x_2 = -54$. Первоначальная скорость велосипедиста равна 48 км/ч.

Ответ: 48 км/ч.

23. Прямая $y = b - x$ и парабола $y = -x^2 - 4x$ имеют столько общих точек, сколько корней в уравнении $b - x = -x^2 - 4x$ (см. рис. 54).

$x^2 + 3x + b = 0$. Квадратное уравнение имеет ровно один корень, если его дискриминант равен нулю.

$$D = 3^2 - 4b = 9 - 4b = 0, \quad -4b = -9, \quad b = \frac{9}{4}.$$

Искомое b равно 2,25. Прямая имеет вид $y = 2,25 - x$. Координаты общей точки $x = -\frac{3}{2} = -1,5; y = 3,75$.

Построим графики. Парабола $y = -x^2 - 4x$ имеет вершину в точке с координатами $x_0 = \frac{4}{-2} = -2$, $y_0 = 4$. Ветви направлены вниз.

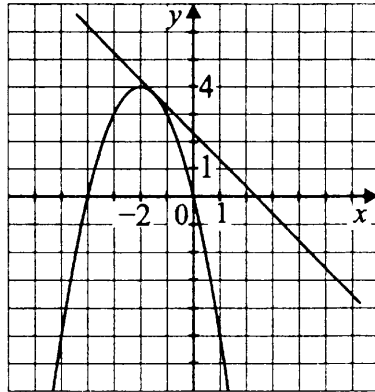


Рис. 54

Ответ: 2,25, $(-1,5; 3,75)$.

24. В $\triangle ABC$ точка $M \in BC$, MK и MP — расстояния от M до катетов AC и AB (см. рис. 55). По условию $BM = 3$, $MC = 4$ см, $MP = MK$. $MP \perp AB$, $AC \perp AB$, значит, $MP \parallel AC$.

Аналогично $AB \parallel MK$, значит, $APMK$ — квадрат.

Пусть $AP = PM = MK = AK = x$.

Треугольники BMP и KMC подобны по двум углам ($\angle BPM = \angle MKC = 90^\circ$, $\angle BMP = \angle MCK$ как соответственные при $PM \parallel KC$, MC — секущая). Получаем $\frac{BP}{MK} = \frac{PM}{KC} = \frac{3}{4}$,

$$\frac{BP}{x} = \frac{x}{KC} = \frac{3}{4}, BP = \frac{3}{4}x, KC = \frac{4}{3}x.$$

Из $\triangle BMP$ по теореме Пифагора $BP^2 + PM^2 = BM^2$, $(\frac{3}{4}x)^2 + x^2 = 3^2$, $\frac{25}{16}x^2 = 9$, $x = \frac{12}{5}$, откуда $BP = \frac{3}{4} \cdot \frac{12}{5} = \frac{9}{5}$, $BA = \frac{21}{5}$,

$$AC = x + \frac{4}{3}x = \frac{7}{3} \cdot \frac{12}{5} = \frac{28}{5}.$$

$S_{ABC} = \frac{AB \cdot AC}{2} = \frac{BC \cdot h}{2}$, где h — высота $\triangle ABC$, проведённая к гипотенузе.

$$h = \frac{AB \cdot AC}{BC} = \frac{21 \cdot 28}{5 \cdot 5} = \frac{84}{25} = 3,36 \text{ (см.)}$$

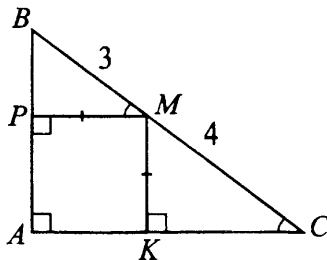


Рис. 55

Ответ: 3,36 см.

25. Рассмотрим $\triangle ABC$ со средней линией MP (см. рис. 56). $MP \parallel AC$ по свойству средней линии треугольника, $AM = MB$, $BP = PC$. $\angle 1 = \angle 2$ как вертикальные, $BP = PC$. Проведём $BH \perp MP$, $CT \perp MP$.

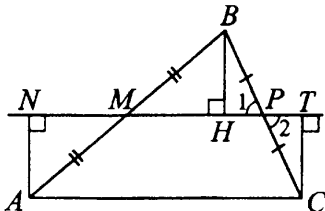


Рис. 56

$\triangle BHP = \triangle PTC$ (по стороне и двум прилежащим к ней углам), следовательно, $BH = TC$. Аналогично $BH = AN$, где $AN \perp MT$. Расстояния AN , BH и CT от вершин треугольника до средней линии равны, что и требовалось доказать.

26. Рассмотрим $\triangle ABC$, в котором $AB = BC$, T , M , H — точки касания вписанной окружности радиусом $r = 2\sqrt{5}$ (см. рис. 57), $BT : TC = 5 : 2$. Пусть $BT = 5x$, $TC = 2x$. Отрезки касательных, проведённых из точки к окружности, равны. $MB = BT = 5x$, $TC = CH = 2x$, $AM = AH$.

Центр O окружности лежит на биссектрисах $\triangle ABC$, в равнобедренном треугольнике BH является биссектрисой, высотой и медианой. Тогда $AH = HC = 2x$.

Периметр $\triangle ABC$ равен $P = (2x + 5x) \cdot 2 + (2x + 2x) = 18x$.

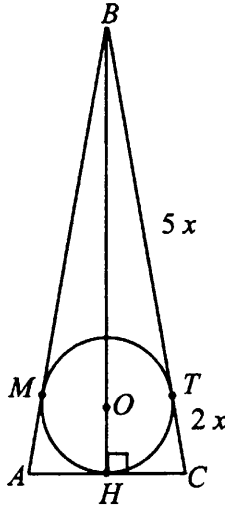


Рис. 57

По теореме Пифагора $BH^2 = BC^2 - CH^2 = (7x)^2 - (2x)^2 = 45x^2$,
 $BH = x\sqrt{45}$. Площадь $S_{ABC} = \frac{r \cdot P}{2} = \frac{AC \cdot BH}{2}$,

$$\frac{2\sqrt{5} \cdot 18x}{2} = \frac{4x \cdot x\sqrt{45}}{2}; x = \frac{\sqrt{5} \cdot 9}{\sqrt{45}} = 3, AB = 7x = 21.$$

Ответ: 21.

Решение варианта № 16

$$21. \frac{x^2 - 6,5}{5} \leq \frac{x - 3}{2}, 2x^2 - 13 \leq 5x - 15, 2x^2 - 5x + 2 \leq 0, 2x^2 - 5x + 2 = 0,$$

$x_1 = 2; x_2 = \frac{1}{2}$. Значит, $2x^2 - 5x + 2 \leq 0$ при $x \in [0,5; 2]$ (см. рис. 58).

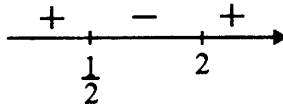


Рис. 58

Ответ: $[0,5; 2]$.

22. Пусть первоначальная скорость велосипедиста равна x км/ч, тогда путь 75 км он преодолел за $\frac{75}{x}$ часов. После увеличения его скорость стала равна $(x + 5)$ км/ч, и путь обратно он преодолел за $\frac{75}{x + 5}$ часов, что по условию на $\frac{45}{60}$ ч = $\frac{3}{4}$ ч меньше, чем $\frac{75}{x}$ ч.

$$\frac{75}{x} - \frac{75}{x + 5} = \frac{3}{4}, \quad \frac{75 \cdot 5}{x(x + 5)} = \frac{3}{4}, \quad 3x^2 + 15x - 1500 = 0, \quad x^2 + 5x - 500 = 0,$$

$$x_1 = -25; x_2 = 20.$$

Первоначальная скорость равна 20 км/ч.

Ответ: 20 км/ч.

23. Прямая $y = x - a$ имеет с параболой $y = x^2 + 5x$ столько общих точек, сколько корней имеет уравнение $x^2 + 5x = x - a$.

Квадратное уравнение $x^2 + 4x + a = 0$ имеет ровно один корень, если дискриминант $D = 16 - 4a$ равен нулю.

$16 - 4a = 0$ при $a = 4$. Найдём координаты общей точки: $x^2 + 4x + 4 = 0$, $x = -2$, $y = -6$. Построим в одной системе координат параболу $y = x^2 + 5x$ и прямую $y = x - 4$.

Парабола имеет вершину в точке с координатами $(-2,5; -6,25)$, ветви направлены вверх, ось Ox парабола пересекает в точках $(-5; 0)$ и $(0; 0)$.

Прямую $y = x - 4$ построим по точкам $(0; -4)$ и $(4; 0)$ (см. рис. 59).

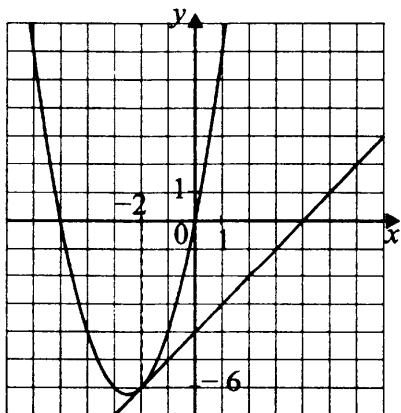


Рис. 59

Ответ: 4, $(-2; -6)$.

24. В $\triangle ABC$ точка M лежит на гипотенузе BC , $BM = 4$, $MC = 6$ (см. рис. 60). Расстояния от M до катетов $MP = MK$. $MP \perp AB$, $MK \perp AC$, $MP \parallel AC$, $APMK$ — квадрат.

Пусть его стороны равны x .

$\triangle BPM \sim \triangle BAC$ ($\angle BPM = \angle MKC = 90^\circ$, $\angle BMP = \angle BCA$).

$$\frac{BP}{AB} = \frac{BM}{BC} = \frac{PM}{AC}, \quad \frac{BP}{x + BP} = \frac{4}{10} = \frac{x}{AC}, \quad AC = \frac{10x}{4} = 2,5x.$$

$$10BP = 4x + 4BP, \quad 6BP = 4x, \quad BP = \frac{2}{3}x, \quad AB = \frac{2}{3}x + x = \frac{5}{3}x.$$

По теореме Пифагора $AB^2 + AC^2 = BC^2$, $\left(\frac{5}{3}x\right)^2 + (2,5x)^2 = 10^2$,

$$\frac{25}{9}x^2 + \frac{25}{4}x^2 = 100, \quad \left(\frac{1}{9} + \frac{1}{4}\right)x^2 = 4, \quad x^2 = \frac{144}{13}, \quad x = \frac{12}{\sqrt{13}}, \quad AC = \frac{30}{\sqrt{13}},$$

$$AB = \frac{20}{\sqrt{13}}.$$

Пусть h — высота $\triangle ABC$, перпендикулярная BC . Найдём площадь $\triangle ABC$ двумя способами.

$$S = \frac{AB \cdot AC}{2} = \frac{BC \cdot h}{2}, \quad h = \frac{AB \cdot AC}{BC} = \frac{60}{13} = 4 \frac{8}{13}.$$

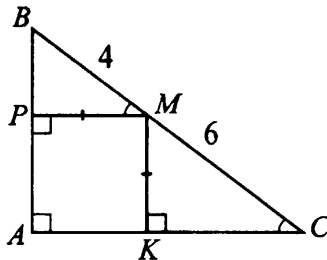


Рис. 60

Ответ: $4 \frac{8}{13}$.

25. По условию $AE = BF$, $\angle BAE = \angle ABF$, эти углы накрест лежащие при прямых AE и BF , секущей AB , значит, $AE \parallel BF$. O — точка пересечения AB и EF (см. рис. 61). В четырёхугольнике $AEBF$ противоположные стороны равны и параллельны, значит, это параллелограмм. В параллелограмме диагонали точкой пересечения делятся пополам, то есть $EO = OF$ и O — середина EF , что и требовалось доказать.

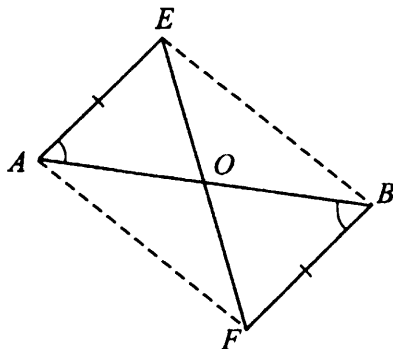


Рис. 61

26. По свойству биссектрисы треугольника $\frac{BM}{AB} = \frac{MC}{AC}$, отсюда

$$AC = \frac{AB \cdot MC}{BM} = \frac{21\sqrt{2} \cdot 10}{14} = 15\sqrt{2} \text{ (см. рис. 62).}$$

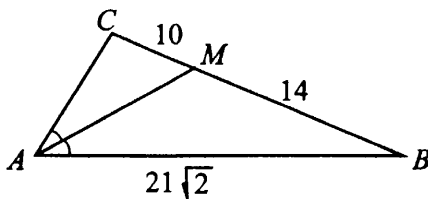


Рис. 62

$$BC = 14 + 10 = 24.$$

По теореме косинусов для $\triangle ABC$ получаем

$$BC^2 = AB^2 + AC^2 - 2 \cdot AB \cdot AC \cdot \cos \angle BAC,$$

$$\cos \angle BAC = \frac{AB^2 + AC^2 - BC^2}{2AB \cdot AC} = \frac{(21\sqrt{2})^2 + (15\sqrt{2})^2 - 24^2}{2 \cdot 21\sqrt{2} \cdot 15\sqrt{2}} = 0,6.$$

$$\sin^2 \angle BAC + \cos^2 \angle BAC = 1, \quad \sin \angle BAC = \sqrt{1 - 0,6^2} = 0,8.$$

По теореме синусов $\frac{BC}{\sin \angle BAC} = 2R$, где R — радиус описанной окружности. $R = \frac{24}{2 \cdot 0,8} = 15$.

Ответ: 15.

Решение варианта № 17

$$21. \begin{cases} x + 2y = 1, \\ x^2 + 2xy - y^2 = 1; \end{cases} \quad \begin{cases} x = 1 - 2y, \\ (1 - 2y)^2 + 2y(1 - 2y) - y^2 = 1; \end{cases}$$

$$\begin{cases} x = 1 - 2y, \\ 1 - 4y + 4y^2 + 2y - 4y^2 - y^2 - 1 = 0; \end{cases} \quad \begin{cases} x = 1 - 2y, \\ y^2 + 2y = 0; \end{cases}$$

$$\begin{cases} x = 1 - 2y, \\ y(y + 2) = 0; \end{cases} \quad \begin{cases} y_1 = 0, \\ x_1 = 1; \end{cases} \quad \begin{cases} y_2 = -2, \\ x_2 = 5. \end{cases}$$

Ответ: (1; 0), (5; -2).

22. Пусть на дачу Вася ехал со скоростью x км/ч и проехал 15 км за $\frac{15}{x}$ часов. Обрато он ехал со скоростью $(x - 4)$ км/ч и затратил на дорогу до дома $\frac{15}{x - 4}$ часа. На всю поездку было затрачено 4 часа.

$$\frac{15}{x} + \frac{15}{x - 4} = 4, \quad \frac{15(x - 4) + 15x}{x(x - 4)} = 4,$$

$$30x - 60 = 4x(x - 4), \quad 15x - 30 = 2x^2 - 8x, \quad 2x^2 - 23x + 30 = 0, \quad x_1 = 10, \quad x_2 = 1,5.$$

Если на дачу Вася ехал бы со скоростью 1,5 км/ч, то обрато он ехал бы с отрицательной скоростью.

Значит, его скорость была 10 км/ч.

Ответ: 10.

23. Прямая $y = 3x + a$ касается параболы $y = 4x - x^2$, если уравнение $3x + a = 4x - x^2$ имеет ровно один корень.

$x^2 - x + a = 0$, $\left(x - \frac{1}{2}\right)^2 - \frac{1}{4} + a = 0$, $\left(x - \frac{1}{2}\right)^2 = \frac{1}{4} - a$. В этом уравнении один корень при $a = \frac{1}{4}$, он равен $x = \frac{1}{2}$.

Построим в одной системе координат параболу $y = 4x - x^2$ и прямую $y = 3x + \frac{1}{4}$.

Парабола имеет вершину в точке с координатами (2; 4), ветви направлены вниз, ось Ox парабола пересекает в точках (0; 0) и (4; 0).

Прямую $y = 3x + \frac{1}{4}$ построим по точкам $\left(0; \frac{1}{4}\right)$ и $\left(1; 3\frac{1}{4}\right)$ (см. рис. 63).

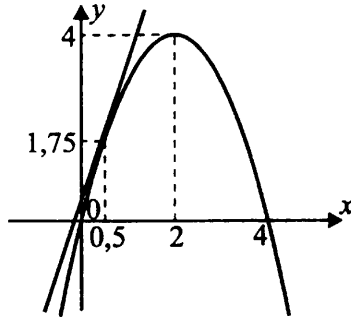


Рис. 63

Координаты точки касания $x = 0,5$, $y = 3 \cdot 0,5 + \frac{1}{4} = 1,5 + 0,25 = 1,75$.

Ответ: 0,25, (0,5; 1,75).

24. По условию $AB = BC$, $BK = 6$, периметр $\triangle ABC$ равен 13, то есть $AB + BC + AC = 13$ (см. рис. 64).

Обозначим $KC = y$. Отрезки касательных, проведённых к окружности из одной точки, равны. Если M, T, K — точки касания, то $MB = BK = 6$, $KC = TC = y$.

$AB = BM + AM$, $AM = AB - BM = BC - BK = y$,
 $AT = AM = y$.

Тогда $P_{ABC} = 6 + y + 6 + y + y + y = 13$, $4y = 1$, $y = 0,25$.
 $AC = 0,25 \cdot 2 = 0,5$.

Ответ: 0,5.

25. Заметим, что $BC \perp AB$, так как $BC \parallel AD$ (основания трапеции) и $AD \perp AB$ (см. рис. 65). Рассмотрим $\triangle ABC$ и $\triangle ACD$. $\angle B = \angle ACD = 90^\circ$ (по условию).

$\angle 1 = \angle 2$ как накрест лежащие углы при параллельных прямых BC и AD , секущей AC . Треугольники подобны по двум углам.

$\frac{AD}{AC} = \frac{AC}{BC}$, $AC^2 = AD \cdot BC$, что и требовалось доказать.

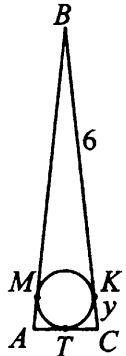


Рис. 64

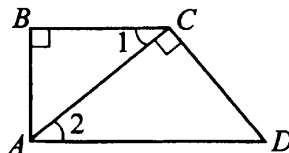


Рис. 65

26. По условию в трапеции $ABCD$ диагонали $BD \perp AC$, $AB = CD$ (см. рис. 66). Центры O_1 и O_2 вписанных окружностей лежат на биссектрисах вертикальных углов BOA и COD , значит, $\angle BOO_1 = \angle COO_2 = 45^\circ$, $\angle O_1OO_2 = 180^\circ$ и $O \in O_1O_2$. По условию $O_1O_2 = 8$. Пусть M и T — точки касания окружностей с диагоналями, тогда $\angle O_1MO = \angle OTO_2 = 90^\circ$. Трапеция $ABCD$ равнобедренная, поэтому она симметрична относительно прямой, проходящей через O — точку пересечения диагоналей, и перпендикулярной основаниям. Поэтому $O_1O = O_2O = 4$. В прямоугольном $\triangle O_1MO$ $O_1O = 4$, $OM = O_1O \cos 45^\circ = 2\sqrt{2}$. В $\triangle BOC$ (равнобедренном и прямоугольном) $OB = BC \cos 45^\circ = 5\sqrt{2}$, тогда $BM = 3\sqrt{2}$.

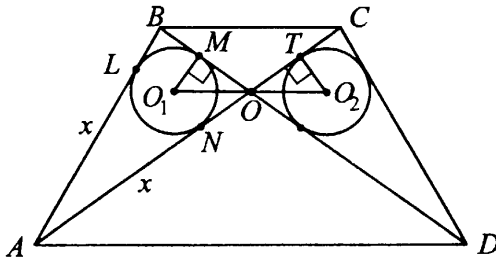


Рис. 66

Рассмотрим прямоугольный $\triangle ABO$. Вписанная окружность касается его сторон в точках L , M и N , поэтому $BM = BL$, $OM = ON$, $AN = AL$ как отрезки касательных, проведённых из одной точки.

Пусть $AL = x$. По теореме Пифагора $AB^2 = AO^2 + OB^2$, $(x + 3\sqrt{2})^2 = (x + 2\sqrt{2})^2 + (5\sqrt{2})^2$, $6\sqrt{2}x + 18 + x^2 = x^2 + 4\sqrt{2}x + 8 + 50$, $2\sqrt{2}x = 40$, $x = 10\sqrt{2}$. $AO = x + 2\sqrt{2} = 12\sqrt{2}$, $AD = \frac{AO}{\cos 45^\circ} = 24$.

Ответ: 24.

Решение варианта № 18

$$21. \begin{cases} 2x - y = 3, \\ 2x^2 + xy - 3y^2 = 0; \end{cases} \quad \begin{cases} y = 2x - 3, \\ 2x^2 - 2xy + 3xy - 3y^2 = 0; \end{cases}$$

$$\begin{cases} y = 2x - 3, \\ 2x(x - y) + 3y(x - y) = 0; \end{cases} \quad \begin{cases} y = 2x - 3, \\ (x - y)(2x + 3y) = 0; \end{cases}$$

$$1) \begin{cases} y = 2x - 3, \\ x - y = 0; \end{cases} \quad \begin{cases} x = y, \\ y = 2y - 3; \end{cases} \quad \begin{cases} x = 3, \\ y = 3; \end{cases}$$

$$2) \begin{cases} y = 2x - 3, \\ 2x + 3y = 0; \end{cases} \begin{cases} 2x = 3 + y, \\ y + 3 + 3y = 0; \end{cases} \begin{cases} y = -0,75, \\ x = 1,125. \end{cases}$$

Ответ: (3; 3), (1,125; -0,75).

22. Пусть на дачу Петя доехал со скоростью x км/ч за $\frac{32,5}{x}$ часов. Обратным путем он ехал со скоростью $(x - 3)$ км/ч и доехал до дома за $\frac{32,5}{x - 3}$ часа.

Всего на поездку он затратил $5\frac{45}{60}$ ч = $5\frac{3}{4}$ ч.

$$\frac{32,5}{x} + \frac{32,5}{x - 3} = 5\frac{3}{4}, \quad \frac{65x - 97,5}{x^2 - 3x} = \frac{23}{4},$$

$$23x^2 - 69x = 260x - 390, \quad 23x^2 - 329x + 390 = 0.$$

$x_1 = 13$, $x_2 = \frac{30}{23}$. По условию $x > 3$, поэтому скорость по пути на дачу равна 13 км/ч.

Ответ: 13.

23. Прямая $y = x + a$ касается параболы $y = -x^2 - 4x - 3$, если уравнение $x + a = -x^2 - 4x - 3$ имеет ровно один корень.

$x^2 + 5x + a + 3 = 0$; $(x + 2,5)^2 - 6,25 + a + 3 = 0$, $(x + 2,5)^2 = 3,25 - a$. Это уравнение имеет один корень, если $3,25 - a = 0$, $a = 3,25$.

При этом $x = -2,5$.

Найдём координаты точки касания.

$$x = -2,5, \quad y = -2,5 + 3,25 = 0,75.$$

Построим прямую $y = x + 3,25$ и параболу $y = -x^2 - 4x - 3$ (см. рис. 67). Координаты вершины параболы $x_0 = \frac{4}{-2} = -2$, $y_0 = -(-2)^2 - 4 \cdot (-2) - 3 = 1$. Ветви направлены вниз, ось Ox парабола пересекает в точках $(-1; 0)$ и $(-3; 0)$.

Ответ: 3,25, $(-2,5, 0,75)$.

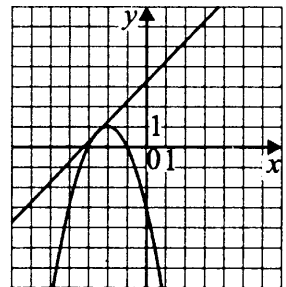


Рис. 67

24. По условию $AB = BC$, $KC = 3$, периметр $P_{ABC} = 19$, $AB + BC + AC = 19$ (см. рис. 68).

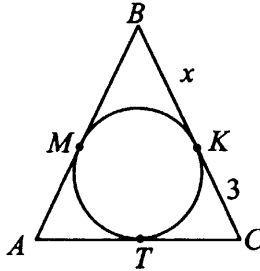


Рис. 68

Обозначим точки касания окружности со сторонами $\triangle ABC$ как M , T и K , $BK = x$. Тогда по свойству отрезков касательных, проведённых к окружности из одной точки, $BM = BK = x$, $KC = CT = 3$, $AM = AT$. При этом $AM = AB - MB = BC - BK = 3$.

$BC = x + 3 = AB$, $AC = 3 + 3 = 6$. $P_{ABC} = (x + 3) \cdot 2 + 6 = 19$, $x + 3 = 6,5$. $AB = 6,5$.

Ответ: 6,5.

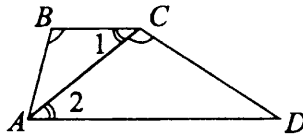


Рис. 69

25. По условию в трапеции $ABCD$ $BC \parallel AD$, $\angle ABC = \angle ACD$, $AC = 2BC$ (см. рис. 69).

Докажем, что $\triangle ABC \sim \triangle ACD$.

$\angle 1 = \angle 2$ как накрест лежащие углы при прямых $BC \parallel AD$ и секущей AC , $\angle B = \angle ACD$ по условию, значит, треугольники подобны по двум углам.

Получаем $\frac{AC}{AD} = \frac{BC}{AC}$, тогда $AD = \frac{AC^2}{BC} = \frac{(2BC)^2}{BC} = 4BC$, что и требовалось доказать.

26. По условию в трапеции $ABCD$ диагонали $BD \perp AC$, $AB = CD$ (см. рис. 70). Центры O_1 и O_2 вписанных окружностей лежат на биссектрисах вертикальных углов BOA и COD , значит,

$\angle BOO_1 = \angle COO_2 = 45^\circ$, $\angle O_1OO_2 = 180^\circ$ и $O \in O_1O_2$. По условию $O_1O_2 = 6$. Пусть M и T — точки касания окружностей с диагоналями, тогда $\angle O_1MO = \angle OTO_2 = 90^\circ$. Трапеция $ABCD$ равнобедренная, поэтому она симметрична относительно прямой, проходящей через O — точку пересечения диагоналей, и перпендикулярной основаниям.

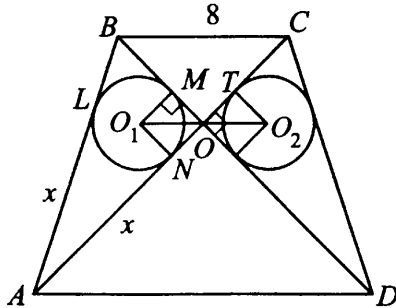


Рис. 70

Поэтому $O_1O = O_2O$. В прямоугольном $\triangle O_1MO$ $O_1O = 3$, $OM = O_1O \cos 45^\circ = 1,5\sqrt{2}$. В $\triangle BOC$ (равнобедренном и прямоугольном) $OB = BC \cos 45^\circ = 4\sqrt{2}$, тогда $BM = 2,5\sqrt{2}$.

Рассмотрим прямоугольный $\triangle ABO$. Вписанная окружность касается его сторон в точках L , M и N , поэтому $BM = BL$, $OM = ON$, $AN = AL$ как отрезки касательных, проведённых из одной точки.

Пусть $AL = x$. По теореме Пифагора

$$AB^2 = AO^2 + OB^2, (x + 2,5\sqrt{2})^2 = (x + 1,5\sqrt{2})^2 + (4\sqrt{2})^2,$$

$$5\sqrt{2}x + 12,5 + x^2 = x^2 + 3\sqrt{2}x + 4,5 + 32, 2\sqrt{2}x = 24, x = 6\sqrt{2}.$$

$$AB = x + 2,5\sqrt{2} = \frac{17\sqrt{2}}{2}.$$

Ответ: $\frac{17\sqrt{2}}{2}$.

Решение варианта № 19

$$21. \sqrt{\sqrt{\frac{12^k \cdot 27}{3^{k-1} \cdot 4^{k+1}} + 4,5}} = \sqrt{\sqrt{\frac{3^k \cdot 4^k \cdot 3^3}{3^{k-1} \cdot 4^{k+1}} + 4,5}} = \sqrt{\sqrt{\frac{3^4}{2^2} + 4,5}} =$$

$$= \sqrt{\frac{9}{2} + 4,5} = \sqrt{9} = 3.$$

Ответ: 3.

22. Пусть x км/ч — скорость первого автомобиля, тогда $(x + 20)$ км/ч — второго, $(2x + 20)$ км/ч — скорость сближения, $6 \cdot (2x + 20)$ км — расстояние между городами A и B . С другой стороны, если бы первый выехал на 3 часа позже, то второй за это время проехал бы $3 \cdot (x + 20)$ км, а при совместном движении они проехали бы расстояние, равное $\frac{17}{4}(2x + 20)$ км, $(4 \text{ ч } 15 \text{ мин} = 4\frac{15}{60} \text{ ч} = 4\frac{1}{4} \text{ ч} = \frac{17}{4})$, тогда $(3(x + 20) + \frac{17}{4}(2x + 20))$ км — расстояние между городами.

$$6(2x + 20) = 3(x + 20) + \frac{17}{4}(2x + 20),$$

$$12x + 120 = 3x + 60 + \frac{17}{2}x + 85.$$

$$0,5x = 25,$$

$$x = 50.$$

50 км/ч — скорость первого автомобиля.

$6(2 \cdot 50 + 20) = 720$ (км) — расстояние между городами.

Ответ: 720 км.

$$23. y = \begin{cases} |x|, & \text{при } -1 \leq x \leq 2; \\ -x^2 + 6x - 6, & \text{при } x > 2 \text{ и при } x < -1. \end{cases}$$

Построим график заданной функции.

1) При $-1 \leq x \leq 2$ $y = |x|$, если $-1 \leq x \leq 0$, то $y = -x$, если $0 < x \leq 2$, то $y = x$.

2) При $x > 2$ и $x < -1$ $y = -x^2 + 6x - 6$ — часть параболы, ветви направлены вниз, вершина в точке $(3; 3)$ (см. рис. 71).

Прямая $y = c$ имеет с графиком функции ровно две общие точки при $c \in (-\infty; -13) \cup \{0\} \cup (1; 3)$.

Ответ: $(-\infty; -13) \cup \{0\} \cup (1; 3)$.

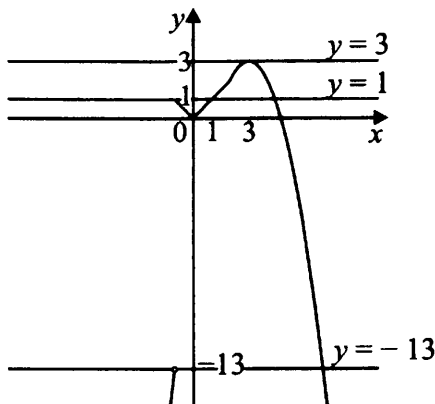


Рис. 71

$$24. S_{ABCD} = AB \cdot BC \cdot \sin B$$

$$\sin B = \frac{S_{ABCD}}{AB \cdot BC} = \frac{40}{8 \cdot 10} = \frac{1}{2}$$

(см. рис. 72).

$\angle B$ — тупой, следовательно,
 $\angle B = 150^\circ$.

Ответ: 150° .

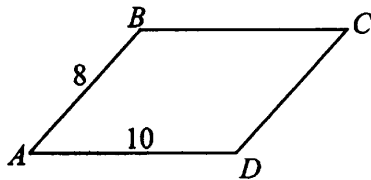


Рис. 72

25. Диагональ AD разбивает шестиугольник на 2 трапеции, у которых KM и PN — средние линии, значит, $KM \parallel AD$, $KM = \frac{1}{2}(AD + BC)$

и $PN \parallel AD$, $PN = \frac{1}{2}(AD + FE)$, $FE = BC$ (см. рис. 73). Отсю-

да $KM = PN$ и $KM \parallel PN$, следовательно, $KMNP$ — параллелограмм. По условию шестиугольник $ABCDEF$ правильный. O — точка пересечения диагоналей AD и BE . $OK = OM = ON = OP$ как медианы правильных равных треугольников AOB , COD , DOE , EOF соответственно. В равносторонних треугольниках AOB и EOD медианы OK и ON являются биссектрисами, $\angle KOB = \angle NOD = 30^\circ$, $\angle KON = 30^\circ + 60^\circ + 60^\circ + 30^\circ = 180^\circ$, значит, O лежит на отрезке KN . Аналогично O лежит на отрезке PM . При этом $KN = KO + ON = OM + OP = MP$. В параллелограмме $KMNP$ диагонали KN и MP равны, следовательно, $KMNP$ — прямоугольник, что и требовалось доказать.

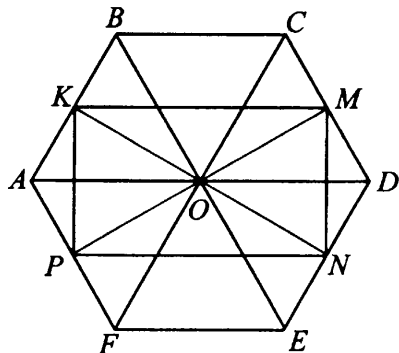


Рис. 73

26. По условию

$$S_{AKB} = S_{BKC} = S_{AKC} = \frac{1}{2}KF \cdot AB = \frac{1}{2}KE \cdot BC = \frac{1}{2}AC \cdot KH,$$

где KF , KE и KH — высоты треугольников AKB , BKC , AKC соответственно (см. рис. 74). $AB = BC = AC$, следовательно, $KF = KE = KH$. Это означает, что KF , KE , KH — радиусы вписанной в $\triangle ABC$ окружности. $KF = KE = KH = \frac{a\sqrt{3}}{6} = \frac{2\sqrt{3} \cdot \sqrt{3}}{6} = 1$,

где a — сторона правильного треугольника ABC .

$$\text{Из } \triangle KHC \text{ } KC = \sqrt{KH^2 + HC^2} = \sqrt{1 + 3} = 2.$$

$$S_{AKC} = \frac{1}{2}KH \cdot AC = \frac{1}{2}P_{AKC} \cdot r,$$

$$r = \frac{KH \cdot AC}{P_{AKC}}, \quad r = \frac{2\sqrt{3}}{4 + 2\sqrt{3}} = \frac{\sqrt{3}}{2 + \sqrt{3}} = 2\sqrt{3} - 3.$$

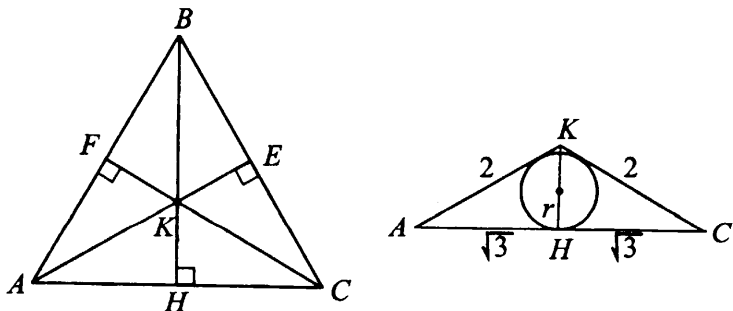


Рис. 74

Ответ: $2\sqrt{3} - 3$.

Решение варианта № 20

$$21. \sqrt{3 \cdot \sqrt{\frac{30^{m+3} \cdot 5}{2^{m-1} \cdot 5^m \cdot 3^{m+1}}} + 6} = \sqrt{3 \cdot \sqrt{\frac{2^{m+3} \cdot 3^{m+3} \cdot 5^{m+3} \cdot 5}{2^{m-1} \cdot 5^m \cdot 3^{m+1}}} + 6} =$$

$$= \sqrt{3 \cdot \sqrt{2^4 \cdot 3^2 \cdot 5^4}} + 6 = 2 \cdot 3 \cdot 5 + 6 = 36.$$

Ответ: 36.

22. Пусть x км/ч — скорость второго велосипедиста, S км — расстояние между городами. Тогда $(x + 10)$ км/ч — скорость первого велосипедиста.

Задача сводится к решению системы

$$\begin{cases} \frac{S}{x} - \frac{S}{x+10} = 4, & (1) \\ \frac{S}{x+x+10} = 4\frac{48}{60}, & (2) \\ x > 0. \end{cases}$$

Из уравнения (1)

$$S = \frac{4}{\left(\frac{1}{x} - \frac{1}{x+10}\right)} = 0,4x(x+10).$$

Подставим $S = 0,4x(x+10)$ в уравнение (2):

$$0,4x(x+10) = 4,8(2x+10),$$

$$x^2 + 10x = 24x + 120,$$

$$x^2 - 14x - 120 = 0,$$

$$x = 7 \pm \sqrt{49 + 120} = 7 \pm 13,$$

$x_1 = 20$, $x_2 = -6$ — не удовлетворяет условию $x > 0$.

20 км/ч — скорость второго велосипедиста.

$S = 0,4 \cdot 20(20+10) = 8 \cdot 30 = 240$ (км) — расстояние между городами.

Ответ: 240 км.

$$23. y = \begin{cases} |x-2|, & \text{при } 0 < x < 3; \\ x^2 - 4x - 2, & \text{при } x \leq 0 \text{ и } x \geq 3. \end{cases}$$

Построим график заданной функции.

1. При $0 < x < 3$, $y = |x-2|$.

Если $x \geq 2$, то $y = x-2$.

Если $x < 2$, то $y = -x+2$.

2. При $x \leq 0$ и $x \geq 3$ $y = x^2 - 4x - 2$ — часть параболы, ветви которой направлены вверх, вершина не принадлежит заданным промежуткам.

Прямая $y = c$ имеет с графиком ровно две общие точки при $c \in [-2; 0) \cup [2; +\infty)$ (см. рис. 75).

Ответ: $[-2; 0) \cup [2; +\infty)$.

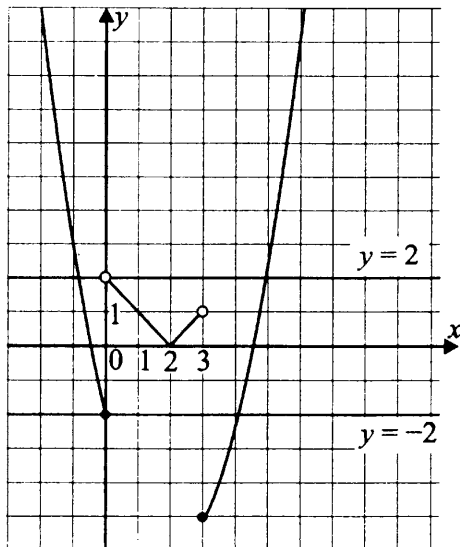


Рис. 75

24. $S_{ABCD} = DC \cdot BK = AD \cdot BH$ (см. рис. 76). Так как меньшая высота проведена к большей стороне, то $BH = 9$, тогда $BK = \frac{AD \cdot BH}{DC} = \frac{12 \cdot 9}{10} = 10,8$.

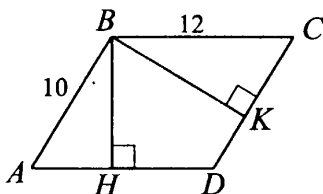


Рис. 76

Ответ: 10,8.

25. Диагональ AC разбивает правильный пятиугольник на треугольник ABC и четырёхугольник $AEDC$ (см. рис. 77). В $\triangle ABC$ KL — средняя линия, значит, $KL \parallel AC$. Четырёхугольник $AEDC$ является трапецией. Действительно, $\angle BAE = 108^\circ$ как угол правильного пятиугольника, $\angle BAC = \angle BCA = 36^\circ$ (как углы при основании равнобедренного треугольника с углом при вершине 108°), следовательно, $\angle CAE = 72^\circ$. $\angle CAE + \angle AED = 180^\circ$, откуда следует, что $AC \parallel ED$. В трапеции

$AEDC$ MN — средняя линия, значит, $MN \parallel AC$, отсюда $KL \parallel MN$. Так как $KL = \frac{1}{2}AC$, а $MN = \frac{1}{2}AC + \frac{1}{2}ED$, то $MN > KL$, следовательно, $KLMN$ — трапеция.

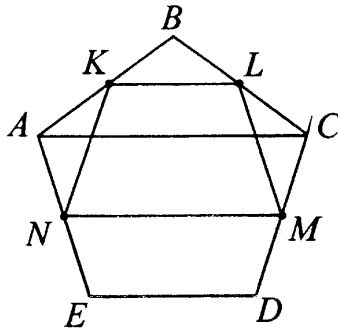


Рис. 77

$\triangle AKN = \triangle LCM$ по первому признаку равенства треугольников ($AK = AN = CL = CM$ как половины равных сторон и $\angle A = \angle C$ (как углы правильного пятиугольника)). Из равенства треугольников следует, что $KN = LM$, поэтому трапеция $KLMN$ — равнобедренная, что и требовалось доказать.

26. Пусть $\angle AKB = \alpha$, $\angle BKC = \beta$, $\angle AKC = \gamma$, причём каждый из углов больше 0° , но меньше 180° (см. рис. 78). R — радиус окружностей, описанных около треугольников AKB , BKC и AKC , то-

гда $\frac{AB}{\sin \alpha} = \frac{BC}{\sin \beta} = \frac{AC}{\sin \gamma} = 2R$.

$\triangle ABC$ — правильный, значит, $AB = BC = AC$, тогда

$\frac{1}{\sin \alpha} = \frac{1}{\sin \beta} = \frac{1}{\sin \gamma} = 2R$. Учитывая, что $\sin \alpha = \sin(180^\circ - \alpha)$, возможны случаи:

- 1) $\alpha = \beta = \gamma$, тогда $\alpha + \alpha + \alpha = 360^\circ$, $\alpha = 120^\circ$;
- 2) $\beta = 180^\circ - \alpha$, $\gamma = \alpha$, тогда $\alpha + 180^\circ - \alpha + \alpha = 360^\circ$, $\alpha = 180^\circ$, что не соответствует условию $0 < \alpha < 180^\circ$;
- 3) $\beta = 180^\circ - \alpha$, $\gamma = 180^\circ - \alpha$, тогда $\alpha + 180^\circ - \alpha + 180^\circ - \alpha = 360^\circ$, $\alpha = 0$, что не соответствует условию $0 < \alpha < 180^\circ$.

Имеем $\frac{AB}{\sin 120^\circ} = 2R$, $\frac{9 \cdot 2}{\sqrt{3}} = 2R$, $R = 3\sqrt{3}$.

Ответ: $3\sqrt{3}$.

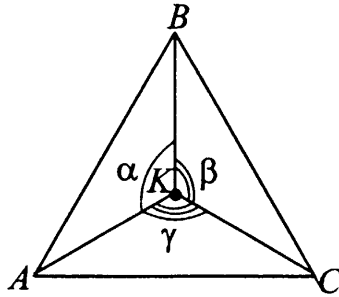


Рис. 78

Решение варианта № 21

$$21. \frac{175^{n+2}}{5^{2n+5} \cdot 7^{n+1}} = \frac{5^{2n+4} \cdot 7^{n+2}}{5^{2n+5} \cdot 7^{n+1}} = \frac{7}{5} = 1,4.$$

Ответ: 1,4

22. Пусть x км/ч — собственная скорость лодки.

Направление	$v \left(\frac{\text{км}}{\text{ч}} \right)$	t (ч)	s км
по течению	$x + 2$	$\frac{24}{x + 2}$	24
против течения	$x - 2$	$\frac{24}{x - 2}$	24

$$\frac{24}{x + 2} + \frac{24}{x - 2} = 16, x > 2,$$

$$24x - 48 + 24x + 48 = 16x^2 - 64,$$

$$x^2 - 3x - 4 = 0,$$

$x_1 = -1$ — не удовлетворяет условию $x > 2$,

$$x_2 = 4.$$

4 км/ч — собственная скорость лодки.

Ответ: 4.

23. Преобразуем выражение $\frac{x^4 - 26x^2 + 25}{(x - 1)(x + 5)}$.

$$\begin{aligned} \frac{x^4 - 26x^2 + 25}{(x - 1)(x + 5)} &= \frac{(x^2 - 25)(x^2 - 1)}{(x - 1)(x + 5)} = \frac{(x + 1)(x - 1)(x - 5)(x + 5)}{(x - 1)(x + 5)} = \\ &= (x + 1)(x - 5) = x^2 - 4x - 5, x \neq 1, x \neq -5. \end{aligned}$$

Графиком функции $y = (x - 2)^2 - 9$, $x \neq 1$, $x \neq -5$ является парабола с выколотыми точками $(1; -8)$ и $(-5; 40)$. Ветви параболы направлены вверх, вершина в точке $(2; -9)$.

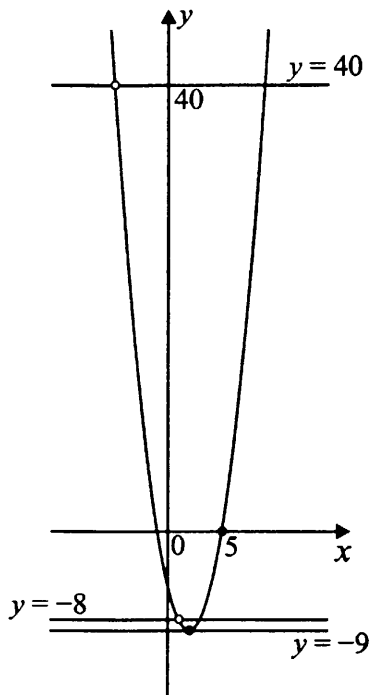


Рис. 79

Прямая $y = a$ имеет с графиком ровно одну общую точку при $a \in \{-9; -8; 40\}$ (см. рис. 79).

Ответ: $\{-9; -8; 40\}$.

24. 1) Из прямоугольного треугольника ABC по теореме Пифагора $AC^2 = AB^2 - BC^2$, $AC = \sqrt{20^2 - 12^2} = \sqrt{256} = 16$ (см) (см. рис. 80).

$$2) S_{ABC} = \frac{1}{2} AC \cdot BC = \frac{1}{2} AB \cdot CH,$$

$$CH = \frac{AC \cdot BC}{AB} = \frac{16 \cdot 12}{20} = 9,6 \text{ (см)}.$$

Ответ: 9,6 см.

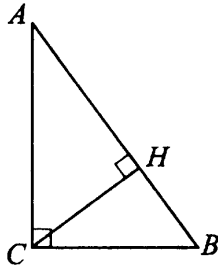


Рис. 80

25. В параллелограмме $OMCK$ $OK \parallel MC$ как противоположные стороны и $\angle OMC = \angle OKC$ как противоположные углы (см. рис. 81).

По условию AM и BK — биссектрисы углов OMC и OKC соответственно, поэтому $\angle 1 = \angle 2 = \angle 4 = \angle 5$ как половины равных углов. $\angle 2 = \angle 3$ как накрест лежащие при $OK \parallel MC$ и секущей AM , отсюда $\angle 3 = \angle 4$.

$\angle 3$ и $\angle 4$ — соответственные при прямых AM и KB и секущей OK , $AM \parallel KB$ по признаку параллельности прямых. Имеем $MC \parallel OK$; $AM \parallel BK$, следовательно, $AMBK$ — параллелограмм по признаку параллелограмма, что и требовалось доказать.

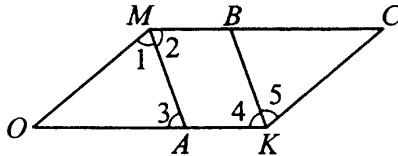


Рис. 81

26. Обозначим $AD = t$, $BK = x$, тогда $DC = 4t$, $KC = 2x$ (см. рис. 82).

$AM = AD$, $BM = BK$ и $CD = CK$ — как отрезки касательных, проведённых из точек A и C соответственно. Имеем $AM = t$, $CK = 2x = 4t$, $x = 2t$. Найдём периметр треугольника ABC . $P_{ABC} = AM + MB + BK + KC + DC + AD = t + 2t + 2t + 4t + 4t + t = 14t$, полупериметр $p = \frac{14t}{2} = 7t$.

По формуле Герона $S_{\triangle ABC} = \sqrt{p(p-a)(p-b)(p-c)}$,

$$S_{\triangle ABC} = \sqrt{7t(7t-6t)(7t-5t)(7t-3t)} = \sqrt{7t \cdot t \cdot 2t \cdot 4t} = 2t^2\sqrt{14} = 8\sqrt{14}, t > 0, t = 2.$$

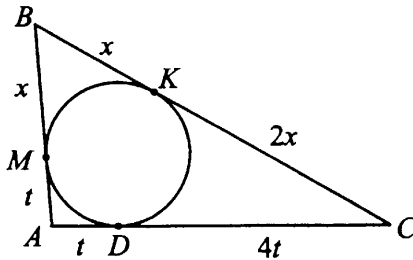


Рис. 82

$$AC = t + 4t = 5t, AC = 10.$$

Ответ: 10.

Решение варианта № 22

$$21. \frac{54^{n+2}}{3^{3n+4} \cdot 2^{n+1}} = \frac{3^{3n+6} \cdot 2^{n+2}}{3^{3n+4} \cdot 2^{n+1}} = 3^2 \cdot 2 = 18.$$

Ответ: 18.

22. Составим пропорции.

1) Пусть x рублей — первоначальная цена товара, z рублей — уменьшенная цена.

x р.	—	100%
z р.	—	$(100-20)\%$

$$z = \frac{80 \cdot x}{100} = 0,8x.$$

$0,8x$ р.	—	100%
3 120 р.	—	$(100+30)\%$

$$x = \frac{3\,120 \cdot 100}{0,8 \cdot 130} = 3\,000.$$

3 000 рублей — первоначальная цена товара.

Ответ: 3 000 рублей.

23. Преобразуем выражение $\frac{x^4 - 10x^2 + 9}{(x-1)(x+3)}$.

$$\begin{aligned} \frac{x^4 - 10x^2 + 9}{(x-1)(x+3)} &= \frac{(x^2 - 9)(x^2 - 1)}{(x-1)(x+3)} = \frac{(x-1)(x+1)(x-3)(x+3)}{(x-1)(x+3)} = \\ &= (x+1)(x-3) = x^2 - 2x - 3, x \neq 1; x \neq -3. \end{aligned}$$

Графиком функции $y = (x-1)^2 - 4, x \neq 1, x \neq -3$ является парабола с выколотыми точками $(1; -4)$ и $(-3; 12)$ (см. рис. 83).

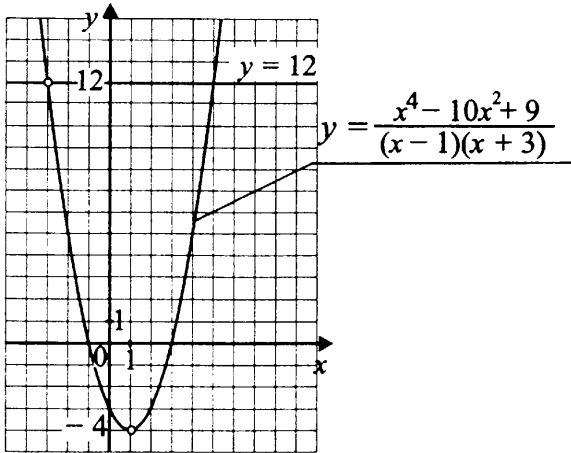


Рис. 83

Прямая $y = a$ имеет с графиком только одну общую точку при $a = 12$.

Ответ: $\{12\}$.

24. Из прямоугольного треугольника ABC по теореме Пифагора $AB^2 = AC^2 + BC^2$, $AB = \sqrt{16^2 + 12^2} = 20$ (см. рис. 84).

По свойству биссектрисы имеем $\frac{BD}{BC} = \frac{AD}{AC}$.

$$AD = AB - BD = 20 - BD, \quad \frac{BD}{12} = \frac{20 - BD}{16}, \quad 16BD = 240 - 12BD,$$

$$BD = \frac{240}{28} = \frac{60}{7} \text{ (см.)}$$

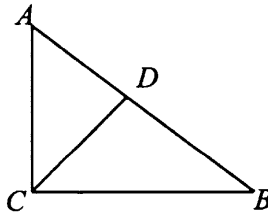


Рис. 84

Ответ: $\frac{60}{7}$ см.

25. В параллелограмме $ABCD$ диагонали AC и BD точкой пересечения делятся пополам, значит, $OB = OD$ и $OA = OC$. Возможны две конфигурации: а) $CK < OC$, б) $CK > OC$ (см. рис. 85).

Рассмотрим конфигурацию а). В четырёхугольнике $BKDM$ диагонали BD и MK . $OM = OA - AM$, $OK = OC - KC$. По условию $AM = KC$, значит, $OM = OK$. Имеем: в четырёхугольнике $BKDM$ диагонали точкой пересечения делятся пополам, следовательно, $BKDM$ — параллелограмм по признаку параллелограмма, что и требовалось доказать.

Для конфигурации б) доказательство аналогично.

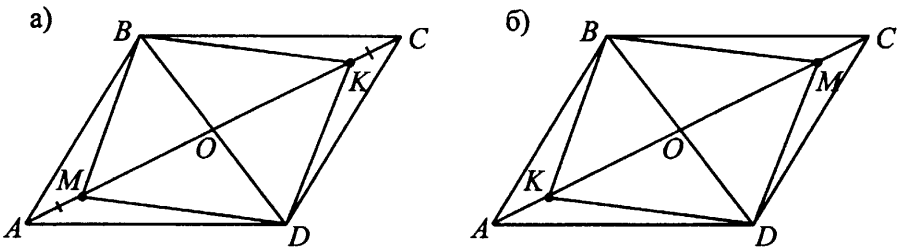


Рис. 85

26. Пусть r — радиус окружности, вписанной в треугольник ABC . r_1 и r_2 — радиусы окружностей, вписанных в треугольники AMC и $СМВ$ соответственно, $AC = b$, $AB = c$, $BC = a$.

Докажем, что $r^2 = r_1^2 + r_2^2$.

В прямоугольном треугольнике ABC высота CM проведена из вершины прямого угла к гипотенузе, значит, $\triangle ACB \sim \triangle AMC$ и $\triangle ACB \sim \triangle CMB$ по двум углам (см. рис. 86). Из подобия следует

$$\frac{AC}{AB} = \frac{r_1}{r}, \frac{b}{c} = \frac{r_1}{r}, r_1 = \frac{br}{c}.$$

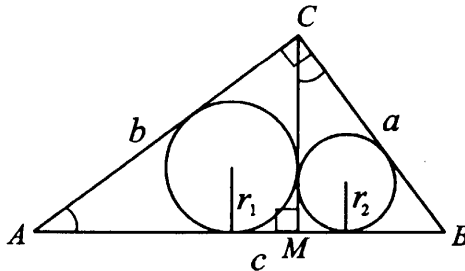


Рис. 86

$$\frac{BC}{AB} = \frac{r_2}{r}, \frac{a}{c} = \frac{r_2}{r}, r_2 = \frac{ar}{c}.$$

$$r_1^2 + r_2^2 = \left(\frac{br}{c}\right)^2 + \left(\frac{ar}{c}\right)^2 = \frac{r^2(b^2 + a^2)}{c^2} = r^2 \text{ (так как по теореме}$$

Пифагора $a^2 + b^2 = c^2$), что и требовалось доказать.

$$r = \sqrt{3^2 + 4^2} = 5 \text{ (см).}$$

Ответ: 5 см.

Решение варианта № 23

$$21. \frac{15^{n+2}}{3^{n-1} \cdot 5^{n+1}} = \frac{3^{n+2} \cdot 5^{n+2}}{3^{n-1} \cdot 5^{n+1}} = 3^3 \cdot 5 = 135.$$

Ответ: 135.

22. Пусть велосипедист проехал первые 40 км ($67 - 27 = 40$) пути со скоростью x км/ч и затратил $\frac{40}{x}$ часов.

Последние 27 км он двигался со скоростью $(x + 2)$ км/ч и затратил $\frac{27}{x+2}$ часа. Зная, что велосипедист проехал 67 км за 4 часа, составим и решим уравнение.

$$\frac{40}{x} + \frac{27}{x+2} = 4.$$

$$\frac{40x + 80 + 27x - 4x^2 - 8x}{x(x+2)} = 0,$$

$$\frac{-4x^2 + 59x + 80}{x(x+2)} = 0,$$

$$4x^2 - 59x - 80 = 0.$$

$$D = (-59)^2 + 16 \cdot 80 = 3481 + 1280 = 4761 = 69^2.$$

$$x_1 = \frac{59 + 69}{8} = \frac{128}{8} = 16,$$

$$x_2 = \frac{59 - 69}{8} = -\frac{10}{8} \text{ — не удовлетворяет условию задачи.}$$

Последние 27 км пути велосипедист двигался со скоростью $(16 + 2)$ км/ч = 18 км/ч и затратил $\frac{27}{18} = \frac{3}{2} = 1,5$ часа.

Ответ: 1,5.

23. 1) Построим график функции $y = |x + 1|$. Он получается из графика функции $y = |x|$ сдвигом вдоль оси Ox на 1 единицу влево (см. рис. 87).

2) Для получения графика функции $y = |x + 1| - 2$ надо сдвинуть график функции $y = |x + 1|$ на 2 единицы вниз вдоль оси Oy .

3) Для получения графика функции $y = ||x + 1| - 2|$ необходимо отразить часть графика на отрезке $[-3; 1]$ симметрично относительно оси Ox .

4) Прямая $y = c$ имеет с графиком ровно 3 общие точки при значении параметра c равном 2.

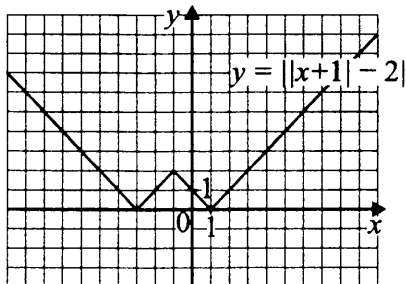


Рис. 87

Ответ: 2.

24. В прямоугольном $\triangle ABC$ $\angle C = 90^\circ$, $AC = 5$, $BC = 12$, $AB^2 = AC^2 + BC^2$, $AB^2 = 5^2 + 12^2 = 169$, $AB = 13$ (см. рис. 88).

Пусть радиус вписанной окружности r . Четырёхугольник $KCLO$ — квадрат ($KO = OL = r$, $OK \perp CA$, $OL \perp CB$, $\angle C = 90^\circ$), значит, $CK = CL = r$.

По свойству отрезков касательных к окружности, проведённых из одной точки, имеем $KC = CL = r$, $KA = AM = 5 - r$, $BL = BM = 12 - r$.

$AB = AM + MB = 5 - r + 12 - r = 17 - 2r$.

Так как $AB = 13$, то получим уравнение $17 - 2r = 13$.

$2r = 17 - 13$, $r = 4 : 2 = 2$.

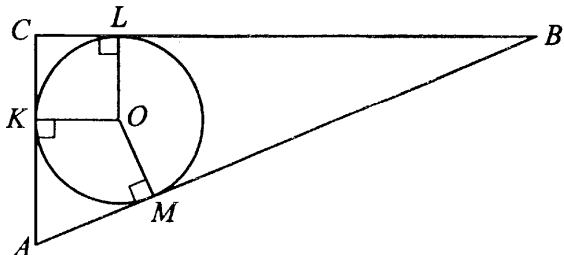


Рис. 88

Ответ: 2.

25. По условию $\triangle ABC$ — равнобедренный (см. рис. 89), то есть $AB = BC$; так как CM_2 и AM_1 — медианы, то $AM_2 = \frac{1}{2}AB$, $CM_1 = \frac{1}{2}BC$, следовательно, $AM_2 = CM_1$. Рассмотрим $\triangle AM_2C$ и $\triangle AM_1C$. В этих треугольниках сторона AC — общая, $AM_2 = CM_1$ по доказанному, $\angle M_2AC = \angle M_1CA$ как углы при основании равнобедренного треугольника ABC . Следовательно, $\triangle AM_2C = \triangle AM_1C$, а в равных треугольниках против равных углов лежат равные стороны: $AM_1 = CM_2$, что и требовалось доказать.

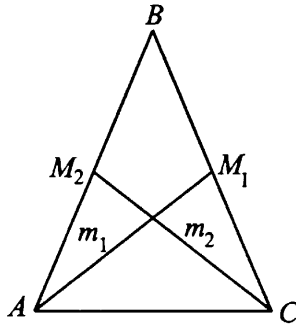


Рис. 89

26. 1) По условию около окружности радиуса 4 см описана равнобедренная трапеция (см. рис. 90). Радиусы окружности, вписанной в трапецию, проведённые в точки касания сторон трапеции с окружностью, перпендикулярны этим сторонам. $OM \perp BC$, $OF \perp AD$, $OL \perp CD$ (по свойству касательной).

2) Так как $BC \parallel AD$, то радиусы OM и OF лежат на одной прямой и отрезок MF ($MF = 8$) является высотой трапеции.

$$S_{ABCD} = \frac{BC + AD}{2} \cdot h = \frac{BC + AD}{2} \cdot 8 = (BC + AD) \cdot 4.$$

3) По условию $S_{ABCD} = 80 \text{ см}^2$, тогда $(BC + AD) \cdot 4 = 80$, $BC + AD = 20$.

Из условия, что трапеция $ABCD$ равнобедренная, следует $BM = MC = x$, $MC + FD = 10$, $AF = FD = 10 - x$.

4) Так как (по свойству касательных) отрезки касательных к окружности, проведённые из одной точки, равны и составляют равные углы с прямой, проходящей через эту точку и центр окружности, то $MC = CL = x$

и $FD = LD = 10 - x$. Следовательно, $CL + LD = 10$, $CD = 10$, $AB = CD = 10$.

5) В $\triangle CDK$ $\angle K = 90^\circ$, $CD = 10$, $CK = 8$,
 $KD^2 = CD^2 - CK^2 = 100 - 64 = 36$, $KD = 6$.

$MCKF$ — прямоугольник, $MC = FK = x$.

$LD = 10 - x$, $FD = x + 6 \Rightarrow 10 - x = x + 6$, $2x = 4$, $x = 2$.
 $BC = 2x = 2 \cdot 2 = 4$, $AD = (x + 6) \cdot 2 = (2 + 6) \cdot 2 = 16$.

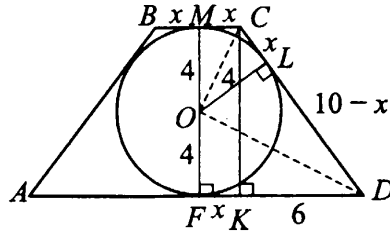


Рис. 90

Ответ: 4 см; 16 см; 10 см; 10 см.

Решение варианта № 24

$$21. \frac{12^{n+2}}{2^{2n+3} \cdot 3^{n+3}} = \frac{2^{2n+4} \cdot 3^{n+2}}{2^{2n+3} \cdot 3^{n+3}} = \frac{2}{3}.$$

Ответ: $\frac{2}{3}$.

22. Пусть велосипедист ехал из B в A со скоростью x км/ч, $x < 40$ км/ч, а из A в B со скоростью $(x-2)$ км/ч. На путь из A в B он затратил $\frac{24}{x-2}$ часа, а на обратный путь по другой дороге — $\frac{30}{x}$ часа. Зная, что на обратный путь он затратил на 6 минут $\left(\frac{6}{60} = 0,1 \text{ часа}\right)$ больше, чем на путь из A в B , составим и решим уравнение:

$$\frac{30}{x} - \frac{24}{x-2} = \frac{1}{10}.$$

$$\frac{300x - 600 - 240x - x^2 + 2x}{10x(x-2)} = 0,$$

$$\frac{-x^2 + 62x - 600}{10x(x-2)} = 0,$$

$$\begin{cases} x^2 - 62x + 600 = 0, \\ x \neq 0, x \neq 2. \end{cases}$$

$$D = 3844 - 2400 = 1444 = 38^2.$$

$$x_1 = \frac{62 + 38}{2} = 50, x_2 = \frac{62 - 38}{2} = \frac{24}{2} = 12.$$

Так как известно, что скорость велосипедиста меньше 40 км/ч, то этому условию удовлетворяет значение $x = 12$ (км/ч).

Ответ: 12 км/ч.

23. 1) Функция $y = |x^2 - 2|x| - 3|$ — чётная, график функции симметричен относительно оси Oy .

2) Построим график функции $y = x^2 - 2x - 3$ при $x \geq 0$. Получим часть параболы с вершиной в точке $(1; -4)$.

3) Для получения графика функции $y = |x^2 - 2|x| - 3|$ при $x \geq 0$ надо отобразить часть графика на отрезке $[0; 3]$ симметрично относительно оси Ox .

4) Для получения графика функции $y = |x^2 - 2|x| - 3|$ необходимо отобразить часть графика на интервале $x > 0$ симметрично относительно оси Oy .

5) Прямая $y = c$ имеет с графиком ровно 4 общие точки при $c \in \{4\} \cup (0; 3)$.

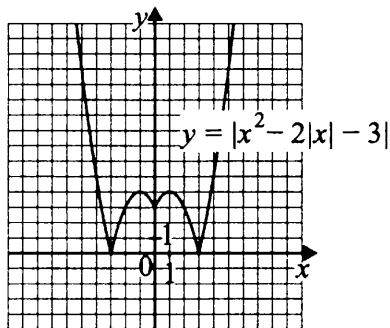


Рис. 91

Ответ: $\{4\} \cup (0; 3)$.

24. 1) В $\triangle ABC$ (см. рис. 92) $AB = BC$, $AC = 15$, $BH = 10$,

$$S_{ABC} = \frac{1}{2} BH \cdot AC = \frac{1}{2} \cdot 10 \cdot 15 = 75.$$

2) В $\triangle BHC$ $\angle H = 90^\circ$, $CH = \frac{1}{2} AC = 15 \cdot \frac{1}{2} = 7,5$, $BH = 10$.

По теореме Пифагора $BC^2 = BH^2 + HC^2$,
 $BC^2 = 10^2 + 7,5^2 = 100 + 56,25 = 156,25$, $BC = 12,5$.

$$3) S_{ABC} = \frac{1}{2} AK \cdot BC, \quad S_{ABC} = 75, \quad \frac{1}{2} AK \cdot 12,5 = 75,$$

$$AK = \frac{75 \cdot 2}{12,5} = 12.$$

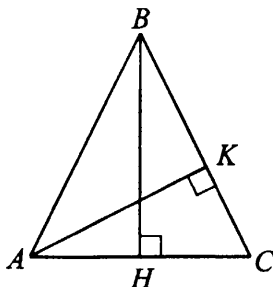


Рис. 92

Ответ: 12.

25. Дано: $ABCD$ — трапеция, $AC = BD$.

Доказать: $AB = CD$.

Доказательство:

1) Из вершин B и C трапеции $ABCD$ (см. рис. 93) опустим перпендикуляры на основание AD . Рассмотрим прямоугольные треугольники BHD и CKA . Гипотенузы AC и BD равны по условию, $BH = CK$ как высоты данной трапеции. Следовательно, $\triangle BHD = \triangle CKA$ по гипотенузе и катету.

В равных треугольниках против равных сторон лежат равные углы: $\angle BDH = \angle CAK$, $\angle 2 = \angle 1$.

2) В $\triangle ACD$ и $\triangle DBA$ сторона AD — общая, $AC = BD$ по условию, $\angle 2 = \angle 1$, следовательно, $\triangle ACD = \triangle DBA$ по двум сторонам и углу между ними. В равных треугольниках против равных углов $\angle D$ и $\angle A$ лежат равные стороны, то есть $AB = CD$, что и требовалось доказать.

26. Так как трапеция равнобедренная, она симметрична относительно высоты FL , проведённой через центр окружности. Поэтому $BF = CF$ и $AL = DL$.

Отрезки касательных (см. рис. 94), проведённых к окружности из одной точки, равны:

$$BE = BF = CF = CK = x,$$

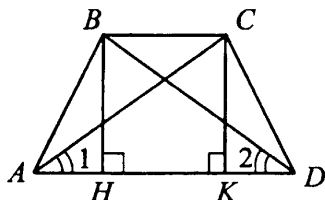


Рис. 93

$$AE = AL = DL = DK = y,$$

$$S_{ABCD} = \frac{BC + AD}{2} \cdot BH.$$

$BH = \frac{1}{2}AB = \frac{x+y}{2}$ (как катет, лежащий против угла в 30° в прямоугольном треугольнике), $BC = 2x$, $AD = 2y$, $AB = x + y$.

$$S_{ABCD} = \frac{2x + 2y}{2} \cdot \frac{x+y}{2} = \frac{(x+y)^2}{2}. \text{ По условию } S_{ABCD} = 72,$$

составим уравнение: $\frac{(x+y)^2}{2} = 72$.

$$(x+y)^2 = 144, x+y = 12, AB = 12.$$

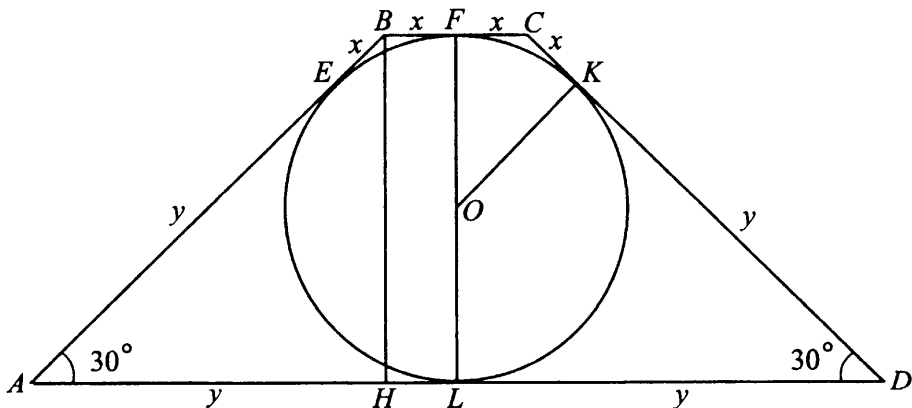


Рис. 94

Ответ: 12.

Решение варианта № 25

21. Чтобы выяснить, какое из чисел $-\left(\frac{1}{\sqrt{6}} - 1\right)$ или $\left(-\frac{4}{5}\right)$ — больше, найдём их разность:

$$\frac{1}{\sqrt{6}} - 1 - \left(-\frac{4}{5}\right) = \frac{1}{\sqrt{6}} - 1 + \frac{4}{5} = \frac{1}{\sqrt{6}} - \frac{1}{5} = \frac{5 - \sqrt{6}}{5\sqrt{6}}.$$

Так как разность $\frac{5 - \sqrt{6}}{5\sqrt{6}} > 0$, то $\frac{1}{\sqrt{6}} - 1 > -\frac{4}{5}$.

Ответ: $\frac{1}{\sqrt{6}} - 1$.

22. Пусть Петя может решить 20 задач за t часов, тогда Женя может решить за это время 10 задач. Зная, что Петя и Женя могут решить эти 20 задач за 2 часа, составим уравнение:

$$\frac{20 + 10}{t} = \frac{20}{2}.$$

Таким образом, Петя может решить 20 задач за 3 часа.

Ответ: 3.

23. 1) Построим график функции $\begin{cases} -x - 2, & \text{если } x \leq -1, \\ x, & \text{если } |x| < 1, \\ -x + 2, & \text{если } x \geq 1 \end{cases}$ (см. рис. 95).

2) Прямая $y = b$ параллельна оси Ox и имеет с графиком единственную общую точку, если $b < -1$, $b > 1$.

Ответ: $b < -1$, $b > 1$.

24. По условию вписанный угол $\angle MAC$ (см. рис. 96) равен 40° , следовательно, $\sphericalangle MNC = 80^\circ$.

Так как AN — высота $\triangle ABC$, то $\angle ANB = \angle ANC = 90^\circ$,

$\sphericalangle ALC = \sphericalangle AMC = 180^\circ$,

$\sphericalangle AM = 180^\circ - \sphericalangle MNC = 180^\circ - 80^\circ = 100^\circ$

$\angle ANM = 50^\circ$ как вписанный, опирающийся на дугу в 100° .

Таким образом, $\angle BNM = 90^\circ - 50^\circ = 40^\circ$.

Ответ: 40° .

25. Так как диагональ AC делит параллелограмм на два равных треугольника ABC и ADC , то высоты BE и DF , проведённые из вершин B и D к диагонали AC , равны (см. рис. 97). $BE \parallel DF$ как два перпендикуляра к AC , поэтому $BFDE$ — параллелограмм. Отсюда $BF \parallel DE$, что и требовалось доказать.

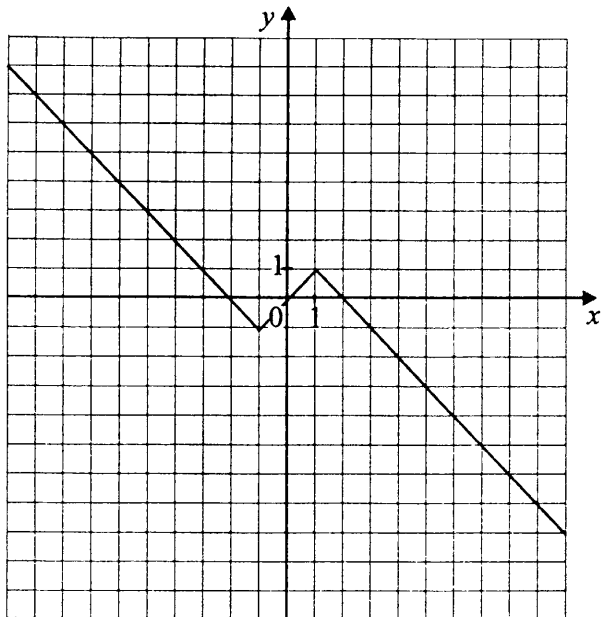


Рис. 95

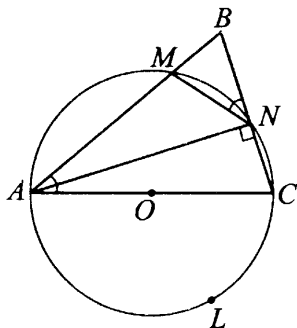


Рис. 96

26. Рассмотрим равнобедренный $\triangle ABC$ с основанием AC (см. рис. 98). Пусть O_1 — центр вписанной в него окружности радиуса r_1 , O_2 — центр окружности, касающейся отрезка AC и продолжений сторон BA и BC . Обозначим D — середину AC , которая является точкой касания AC и обеих окружностей. Проведём O_1C и O_2C . Заметим, что они являются биссектрисами $\angle BCD$ и $\angle KCD$, так как соответствующие окружности вписаны в эти углы. Но тогда $\angle O_1CL = \angle O_1CD$,

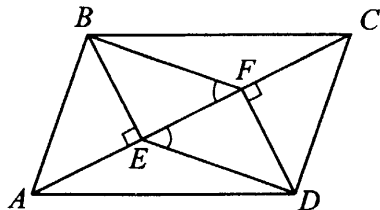


Рис. 97

$\angle O_2CD = \angle O_2CK$, а $\angle O_1CL + \angle O_1CD + \angle O_2CD + \angle O_2CK = 180^\circ$, откуда $\angle O_1CD + \angle O_2CD = 90^\circ$, то есть $\angle O_1CO_2 = 90^\circ$.

Ясно, что $O_1D \perp AC$, $O_2D \perp AC$ как радиусы, проведённые в точку касания. Тогда $\triangle O_1CO_2$ — прямоугольный с высотой CD .

$CD^2 = O_1D \cdot O_2D$, $CD = \frac{AC}{2} = 4$. Значит, $16 = r_1 \cdot 6$, $r_1 = \frac{8}{3}$.

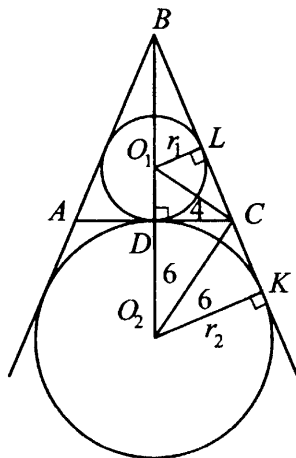


Рис. 98

Ответ: $\frac{8}{3}$.

Решение варианта № 26

21. Так как число $3\sqrt{3} - 2\sqrt{2} > 0$ и число $2 > 0$, сравним их квадраты:

$$(3\sqrt{3} - 2\sqrt{2})^2 = 27 - 12\sqrt{6} + 8 = 35 - 12\sqrt{6}.$$

$$(3\sqrt{3} - 2\sqrt{2})^2 - 2^2 = 35 - 12\sqrt{6} - 4 = 31 - 12\sqrt{6}.$$

Замечаем, что $2 < \sqrt{6} < 2,5$ (так как $4 < 6 < 6,25$), поэтому $24 < 12\sqrt{6} < 30$, поэтому $31 - 12\sqrt{6} > 0$.

Делаем вывод, что $3\sqrt{3} - 2\sqrt{2} > 2$.

Ответ: $3\sqrt{3} - 2\sqrt{2}$.

22. Пусть ученик может оштукатурить всю стену за x часов, тогда мастер может оштукатурить стену за $\frac{x}{2}$ часов. Значит, производительность ученика $\frac{1}{x}$, а мастера $\frac{2}{x}$ стены/час. Их совместная производительность $\frac{1}{x} + \frac{2}{x}$ и равна $\frac{1}{6}$. Отсюда $\frac{1}{x} + \frac{2}{x} = \frac{1}{6}$, $x = 18$. Значит, ученик может оштукатурить стену за 18 часов самостоятельно.

Ответ: 18 ч.

23. 1) Построим график функции $\begin{cases} |x|, & \text{если } x \leq 0, \\ 2, & \text{если } x > 0. \end{cases}$

При $x \leq 0$ $y = -x$.

2) По рисунку 99 видно, что горизонтальная прямая $y = a$ будет иметь с графиком единственную общую точку при $0 \leq a < 2$ и $a > 2$.

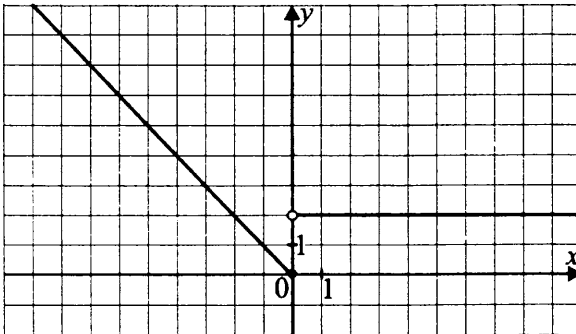


Рис. 99

Ответ: $0 \leq a < 2, a > 2$.

24. В $\triangle ABC$ AL, CN, BK — медианы, площадь $\triangle ABC$ равна 39 (см. рис. 100).

$$1) S_{AMK} = \frac{1}{2}AK \cdot h_2, S_{KMC} = \frac{1}{2}KC \cdot h_2.$$

Так как BK — медиана, то $AK = KC$ и $S_{AMK} = S_{KMC}$.

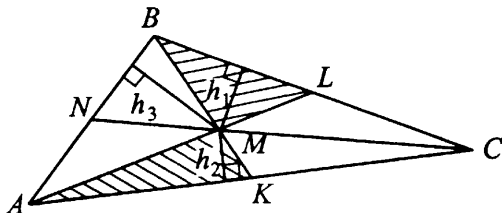


Рис. 100

2) $S_{BML} = \frac{1}{2}BL \cdot h_1$, $S_{CML} = \frac{1}{2}LC \cdot h_1$. Так как AL — медиана, то $BL = LC$, $S_{BML} = S_{CML}$.

3) $S_{AMN} = \frac{1}{2}AN \cdot h_3$, $S_{BMN} = \frac{1}{2}BN \cdot h_3$. Так как CN — медиана, то $AN = BN$, $S_{AMN} = S_{BMN}$.

4) По свойству точки пересечения медиан, $CM = \frac{2}{3}CN$.

Но $S_{CBN} = \frac{1}{2}CN \cdot BC \sin \angle BCN$,

$S_{CBM} = \frac{1}{2}CM \cdot BC \sin \angle BCN = \frac{2}{3} \cdot \frac{1}{2}CN \cdot BC \sin \angle BCN = \frac{2}{3}S_{CBN}$.

Значит, $S_{BMN} = S_{CBN} - S_{CBM} = \frac{1}{3}S_{CBN}$.

При этом $S_{BML} = S_{CLM} = \frac{1}{2}S_{CBM} = \frac{1}{3}S_{CBN}$, откуда

$S_{BMN} = S_{BML}$.

Аналогично $S_{ANM} = S_{AKM}$.

Тогда $S_{CLM} = S_{BLM} = S_{BMN} = S_{MNA} = S_{AKM} = S_{MKC} = \frac{39}{6}$.

Значит, $S_{BML} + S_{AKM} = \frac{39}{3} = 13$.

Ответ: 13.

25. а) Рассмотрим случай, когда $\angle A$ и $\angle C$ — острые (см. рис. 101 а). В $\triangle ABE$ и $\triangle BFC$ $\angle A = \angle C$ как противолежащие углы параллелограмма $ABCD$.

$\angle AEB = \angle BFC = 90^\circ$, так как BE и BF — высоты параллелограмма.

Следовательно, $\triangle ABE \sim \triangle CBF$ по первому признаку подобия треугольников. Что и требовалось доказать.

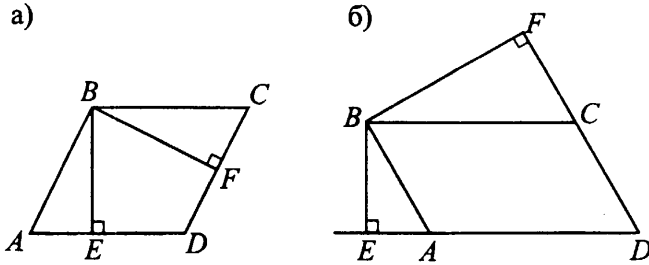


Рис. 101

б) Рассмотрим случай, когда $\angle A$ и $\angle C$ — тупые (см. рис. 101 б). Аналогично предыдущему случаю $\angle BAD = \angle BCD$, а тогда $\angle BAE = \angle BCF$ как смежные им углы, при этом $\angle AEB = \angle BFC = 90^\circ$. Следовательно, $\triangle ABE \sim \triangle CBF$ по первому признаку, что и требовалось доказать.

26. Рассмотрим равнобедренный $\triangle ABC$ с основанием AC (см. рис. 102). Пусть O_1 — центр вписанной в него окружности радиуса r , O_2 — центр окружности, касающейся отрезка AC и продолжения сторон AB и BC . Обозначим L середину AC , которая является точкой касания AC и обеих окружностей, так как $\triangle ABC$ — равнобедренный.

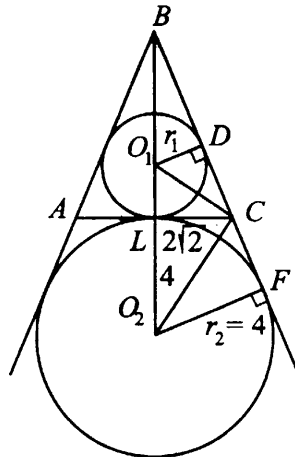


Рис. 102

Проведём O_1C и O_2C . Заметим, что они являются биссектрисами $\angle BCL$ и $\angle LCF$, так как соответствующие окружности вписаны в эти углы. Но тогда $\angle O_1CL = \angle O_1CD$, $\angle O_2CL = \angle O_2CF$, а $\angle O_1CL + \angle O_1CD + \angle O_2CL + \angle O_2CF = 180^\circ$, откуда

$\angle O_1CL + \angle O_2CL = 90^\circ$, то есть $\angle O_1CO_2 = 90^\circ$. Ясно, что $O_1L \perp AC$ и $O_2L \perp AC$ как радиусы, проведённые в точку касания. Тогда $\triangle O_1CO_2$ — прямоугольный с высотой CL , откуда $CL^2 = O_1L \cdot O_2L$, $(2\sqrt{2})^2 = 4 \cdot r$, $r = 2$.

Ответ: 2.

Решение варианта № 27

$$21. \frac{10^{2n} \cdot 3^2}{25^n \cdot 2^{2(n+1)}} = \frac{2^{2n} \cdot 5^{2n} \cdot 3^2}{5^{2n} \cdot 2^{2n} \cdot 2^2} = \left(\frac{3}{2}\right)^2 = 2,25.$$

Ответ: 2,25.

22. Пусть ежегодно цена телевизора увеличивалась в x раз. Тогда через год его цена стала $40\,000x$ рублей, через два года цена стала $40\,000x^2$ рублей, что составило ровно 22 500 рублей. Составим уравнение:

$$40\,000x^2 = 22\,500; \quad x^2 = \frac{225}{400}; \quad x = \frac{15}{20} = \frac{75}{100}.$$

$0,75 = 75\%$, значит, цена уменьшилась на $100\% - 75\% = 25\%$. Цена телевизора уменьшалась ежегодно на 25%.

Ответ: 25.

23. Разложим числитель дроби на множители:

$$x^4 - 5x^2 + 4 = (x^2 - 1)(x^2 - 4) = (x - 1)(x + 1)(x - 2)(x + 2).$$

При $x \neq 1$ и $x \neq -2$ исходная функция примет вид

$y = (x + 1)(x - 2)$, её график — парабола, из которой выколоты точки $(1; -2)$ и $(-2; 4)$. Ветви параболы направлены вверх, вершина в точке $(0,5; -2,25)$ (см. рис. 103).

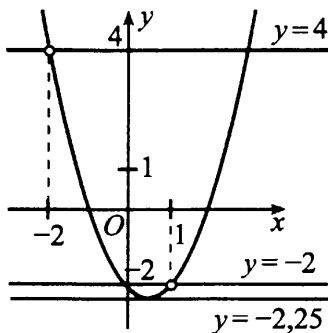


Рис. 103

Прямая $y = c$ имеет с графиком ровно одну общую точку либо тогда, когда проходит через вершину параболы, либо тогда, когда пересекает параболу в двух точках, одна из которых выколота.

Отсюда $c = -2,25$, $c = -2$ или $c = 4$.

Ответ: $-2,25$; -2 ; 4 .

24. $S_{ABCD} = AB \cdot AD$.

По условию $P_{ABCD} = 34$, $AB + AD = 17$.

$$BD = 13.$$

Из $\triangle ABD$ ($\angle A = 90^\circ$), по теореме Пифагора $AB^2 + AD^2 = BD^2$, $AB^2 + AD^2 = 169$ (см. рис. 104).

Получаем $(AB + AD)^2 = 17^2$, $AB^2 + 2AB \cdot AD + AD^2 = 17^2$,
 $AB \cdot AD = \frac{289 - (AB^2 + AD^2)}{2} = \frac{289 - 169}{2} = 60$, $S_{ABCD} = 60$.

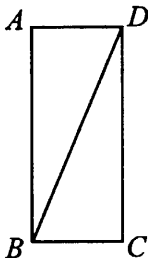


Рис. 104

Ответ: 60.

25. Так как AL — биссектриса угла DAB , DK — биссектриса угла ADC , то $\angle OAD = \frac{1}{2}\angle DAB$ и $\angle ADO = \frac{1}{2}\angle ADC$ (см. рис. 105).

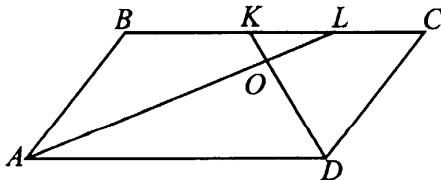


Рис. 105

Зная, что $\angle DAB + \angle ADC = 180^\circ$ как сумма внутренних односторонних углов при параллельных прямых AB и CD и секущей AD , делаем

вывод, что $\angle OAD + \angle ADO = 90^\circ$. Так как сумма углов треугольника равна 180° , найдём угол AOD .

$\angle AOD = 180^\circ - (\angle OAD + \angle ADO) = 180^\circ - 90^\circ = 90^\circ$, что и требовалось доказать.

26. $S_{AMC} = \frac{1}{2} AC \cdot MD$ (см. рис. 106), где $MD \perp AC$.

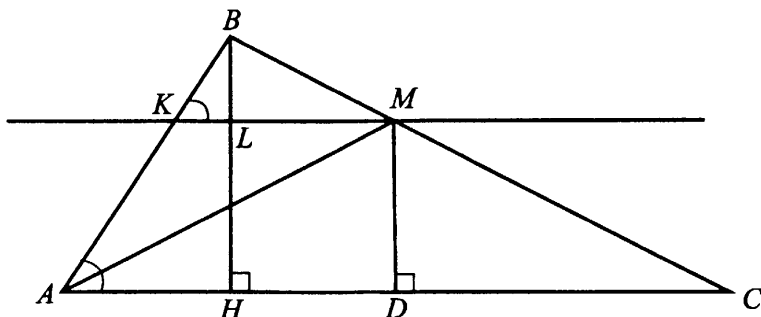


Рис. 106

$\triangle BKM \sim \triangle ABC$ по двум углам ($\angle B$ — общий, $\angle BKM = \angle BAC$ как соответственные при параллельных прямых AC , KM и секущей AB).

$$\frac{KM}{AC} = \frac{2}{10} = \frac{1}{5}, \quad \frac{S_{BKM}}{S_{ABC}} = \left(\frac{1}{5}\right)^2 = \frac{1}{25}.$$

$S_{ABC} = 0,8 \cdot 25 = 20$. Проведём $BH \perp AC$.

$$S_{ABC} = \frac{1}{2} AC \cdot BH = \frac{10}{2} \cdot BH = 5BH, \quad BH = 20 : 5 = 4.$$

$$MD = 4 - BL. \text{ Так как } S_{BKM} = 0,8 = \frac{1}{2} BL \cdot KM, \quad BL = 0,8.$$

$$MD = 4 - 0,8 = 3,2.$$

$$S_{AMC} = \frac{1}{2} \cdot 10 \cdot 3,2 = 16.$$

Ответ: 16.

Решение варианта № 28

$$21. \frac{7^n \cdot 3^{2n+3}}{63^n \cdot 6^2} = \frac{7^n \cdot 3^{2n+3}}{7^n \cdot 3^{2n} \cdot 3^2 \cdot 2^2} = \frac{3^{2n+3}}{3^{2n+2} \cdot 2^2} = \frac{3}{4} = 0,75.$$

Ответ: 0,75.

22. Пусть спортсмен удалился от исходной точки на x км.

$$\frac{x}{7-3} + \frac{x}{7+3} = 4,5 - 1,$$

$$\frac{x}{4} + \frac{x}{10} = 3,5,$$

$$5x + 2x = 70,$$

$$7x = 70,$$

$x = 10$. Спортсмен удалился от исходной точки на 10 км.

Ответ: 10.

23. Построим график функции $y = \frac{(x^2 - 9x + 20)(x^2 + 3x + 2)}{x^2 - 3x - 10}$.

Разложим числитель и знаменатель дроби на множители

$$x^2 - 9x + 20 = (x - 5)(x - 4),$$

$$x^2 + 3x + 2 = (x + 2)(x + 1),$$

$$x^2 - 3x - 10 = (x - 5)(x + 2).$$

При $x \neq 5$ и $x \neq -2$ исходная функция принимает вид $y = (x - 4)(x + 1)$, её график — парабола, из которой выколоты точки $(5; 6)$ и $(-2; 6)$. Ветви направлены вверх, вершина в точке $(1,5; -6,25)$ (см. рис. 107).

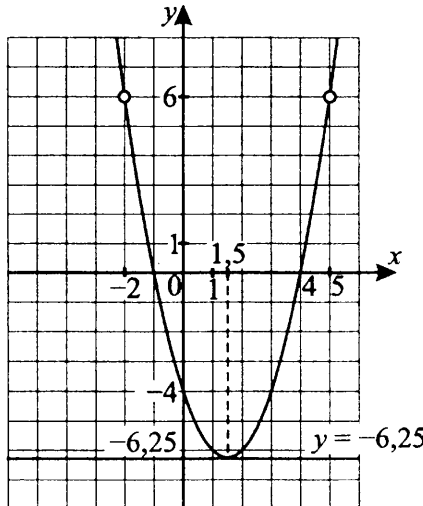


Рис. 107

Прямая $y = a$ имеет с графиком ровно одну общую точку тогда, когда пересекает параболу в двух точках, одна из которых выколота, либо когда проходит через вершину параболы. В данном случае выколотые точки яв-

ляются симметричными точками параболы. Поэтому остаётся только одна точка — вершина параболы. Следовательно, $a = -6,25$.

Ответ: $-6,25$.

24. $S_{ABCD} = AB \cdot BC \cdot \sin 150^\circ = AB \cdot BC \sin 30^\circ = \frac{1}{2} AB \cdot BC$. Ветви параболы направлены вверх, вершина в точке $(1,5; -6,25)$ (см. рис. 108).

AM — биссектриса, поэтому $\angle DAM = \angle MAB$.

$AD \parallel BC$, AM — секущая, тогда $\angle AMB = \angle DAM$ (как накрест лежащие при параллельных прямых AD и BC и секущей AM).

$\triangle AMB$ — равнобедренный (углы при основании AM равны, $\angle MAB = \angle AMB$). Следовательно, $AB = BM$, $AB = 8$.

$BC = BM + MC = 8 + 6 = 14$.

$$S_{ABCD} = \frac{1}{2} \cdot 8 \cdot 14 = 56.$$

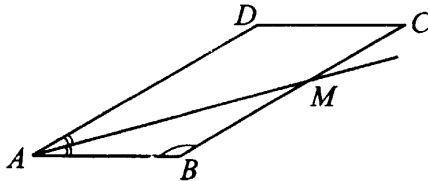


Рис. 108

Ответ: 56.

25. Прямоугольные треугольники с общим углом A $\triangle ABD \sim \triangle ACB$ по двум углам (см. рис. 109). $\frac{AB}{AC} = \frac{BD}{BC}$, $BD = \frac{AB \cdot BC}{AC}$. Что и требовалось доказать.

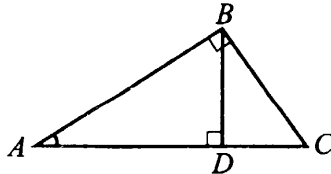


Рис. 109

26. Проведём из точки F касания окружностей отрезок FN так, что $FN \perp AK$ (см. рис. 110). FN — искомое расстояние, L и P — точки касания окружностей со стороной угла AK , O_1L и O_2P — радиусы

окружностей. По свойству касательной $O_1L \perp AK$ и $O_2P \perp AK$. Центры вписанных в угол DAK окружностей лежат на биссектрисе угла, следовательно, $\angle O_1AL = \frac{1}{2}\angle DAK = 30^\circ$.

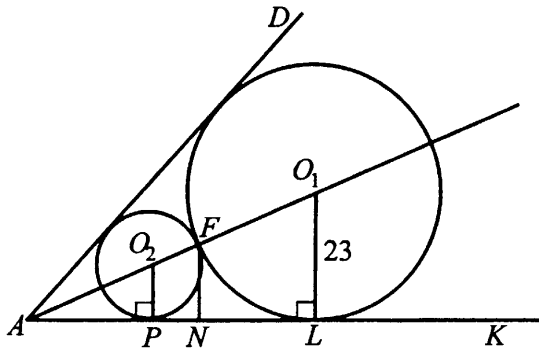


Рис. 110

В $\triangle AO_1L$ $\angle ALO_1 = 90^\circ$, $\angle A = 30^\circ$, $O_1L = 23$, $O_1L = \frac{1}{2}AO_1$ как катет, лежащий против угла 30° .

Таким образом, $AO_1 = 46$, $FO_1 = 23$, тогда $AF = 23$.

В $\triangle AFN$ $\angle N = 90^\circ$, $\angle A = 30^\circ$, следовательно,

$$FN = \frac{1}{2}AF = \frac{23}{2} = 11,5.$$

Ответ: 11,5.

Решение варианта № 29

$$21. a - \frac{a^2 - 5a}{a + 1} \cdot \frac{1}{a - 5} - \frac{a^2 - 2a - 2}{a + 1} = a - \frac{a \cdot (a - 5)}{(a + 1) \cdot (a - 5)} - \frac{a^2 - 2a - 2}{a + 1} =$$

$$a - \frac{a}{a + 1} - \frac{a^2 - 2a - 2}{a + 1} = \frac{a^2 + a - a - a^2 + 2a + 2}{a + 1} = \frac{2(a + 1)}{a + 1} = 2.$$

Ответ: 2.

22. Пусть смешали x граммов 30%-ного раствора и y граммов 50%-ного раствора кислоты и получили $(x + y)$ г 45%-ного раствора. Тогда масса кислоты в 30%-ном растворе равна $0,3x$ граммов, в 50%-ном растворе равна $0,5y$ граммов, а в 45%-ном растворе $0,45(x + y)$ граммов.

Составим уравнение:

$$0,3x + 0,5y = 0,45(x + y),$$

$$0,3x + 0,5y = 0,45x + 0,45y,$$

$$0,3x - 0,45x = 0,45y - 0,5y,$$

$$-0,15x = -0,05y; 3x = y; x = \frac{1}{3}y.$$

Отношение массы 30%-ного к массе 50%-ного раствора, взятых первоначально, равно $\frac{x}{y} = \frac{1}{3}$.

Ответ: 1 : 3.

23. 1) Построим график функции.

$$y = 2x - x|x| + x^2 + |2x| + \frac{x}{|x|}, x \neq 0.$$

$$y = \begin{cases} 2x - x^2 + x^2 + 2x + 1, & \text{если } x > 0, \\ 2x + x^2 + x^2 - 2x - 1, & \text{если } x < 0. \end{cases}$$

$$y = \begin{cases} 4x + 1, & \text{если } x > 0, \\ 2x^2 - 1, & \text{если } x < 0. \end{cases}$$

Графиком функции $y = 4x + 1$ является прямая, проходящая через точки с координатами $(0,5; 3)$, $(1; 5)$ (см. рис. 111).

Графиком функции $y = 2x^2 - 1$ является парабола, ветви которой направлены вверх ($a > 0$, $a = 2$), вершина $(0; -1)$ не принадлежит графику функции.

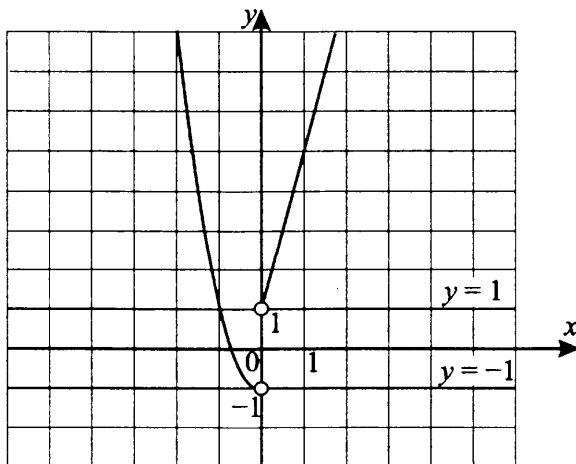


Рис. 111

Прямая $y = a$ имеет с графиком функции $y = 2x - x|x| + x^2 + |2x| + \frac{x}{|x|}$ ровно одну общую точку при $a \in (-1; 1]$.

Ответ: $(-1; 1]$.

24. $\angle AOB = \frac{1}{2}\angle COA$, так как OB — биссектриса $\angle AOC$ (см. рис. 112).

$\angle AOK = \angle KOD$, так как OK — биссектриса $\angle AOD$.

$\angle AOK = 22^\circ$.

$\angle AOC = 180^\circ - 2 \cdot 22^\circ = 136^\circ$, $\angle AOB = \frac{1}{2} \cdot 136^\circ = 68^\circ$.

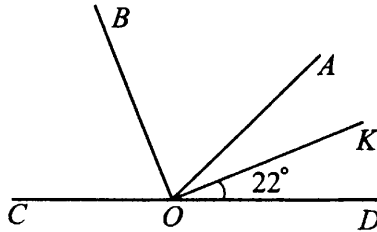


Рис. 112

Ответ: 68° .

25. $MPKT$ — ромб, значит, $MP = PK = KT = TM$, $ABCD$ — четырёхугольник, стороны которого AB , BC , CD и DA (см. рис. 113).

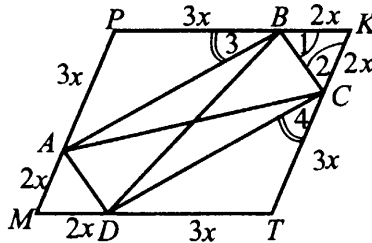


Рис. 113

Обозначим $AM = 2x$, $AP = 3x$. $\triangle APB = \triangle DTC$ по двум сторонам ($AP = PB = CT = TD$) и углу между ними ($\angle APB = \angle CTD$ как противоположные углы ромба).

Из равенства треугольников следует, что $AB = CD$. Аналогично $BC = DA$.

Четырёхугольник $ABCD$ — параллелограмм (по признаку параллело-

грамма).

$\triangle BKC$ — равнобедренный $\Rightarrow \angle 1 = \angle 2$, из того, что $\triangle APB = \triangle DTC$, следует, что $\angle 3 = \angle 4$. $\angle ABC = 180^\circ - (\angle 1 + \angle 3)$.

$\angle BCD = 180^\circ - (\angle 2 + \angle 4) \Rightarrow \angle ABC = \angle BCD$. Так как $\angle ABC + \angle BCD = 180^\circ$, то $\angle ABC = \angle BCD = 90^\circ$. В параллелограмме $ABCD$ $\angle A = \angle B = \angle C = \angle D = 90^\circ \Rightarrow ABCD$ — прямоугольник, что и требовалось доказать.

26. Треугольники ABC и ABE подобны по I признаку подобия ($\angle B$ — общий, $\angle ACB = \angle BAE$ по условию) (см. рис. 114). Из подобия следует:

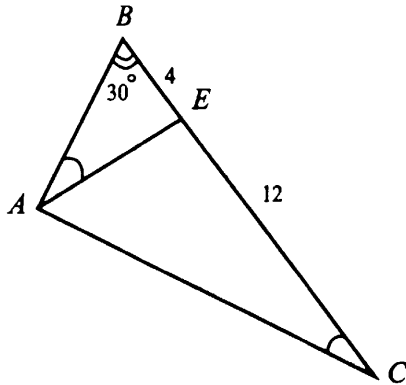


Рис. 114

$$\frac{AB}{BE} = \frac{BC}{AB} \Rightarrow AB^2 = BE \cdot BC,$$

$$AB^2 = 4 \cdot 16 = 64,$$

$$AB = 8.$$

$$S_{ABC} = \frac{1}{2} AB \cdot BC \cdot \sin 30^\circ = \frac{1}{2} \cdot 8 \cdot 16 \cdot \frac{1}{2} = 32 \text{ (см}^2\text{)}.$$

Ответ: 32 см².

Решение варианта № 30

$$21. b - \frac{b^2 - 4b}{b + 2} \cdot \frac{1}{b - 4} - \frac{b^2 - b - 4}{b + 2} = b - \frac{b(b - 4)}{(b + 2)(b - 4)} -$$

$$- \frac{b^2 - b - 4}{b + 2} = \frac{b(b + 2)}{b + 2} - \frac{b}{b + 2} - \frac{b^2 - b - 4}{b + 2} =$$

$$= \frac{b^2 + 2b - b - (b^2 - b - 4)}{b + 2} = \frac{b^2 + 2b - b - b^2 + b + 4}{b + 2} = \frac{2b + 4}{b + 2} =$$

$$= \frac{2(b+2)}{b+2} = 2.$$

Ответ: 2.

22. По условию масса первого сплава 20 кг и в нём содержится 40% серебра, то есть $20 \cdot 0,4 = 8$ (кг). Пусть надо добавить x кг второго сплава, в котором содержится 20% серебра, то есть $0,2x$ кг. Новый сплав массой

$(20 + x)$ кг содержит 30% серебра, значит, $\frac{8 + 0,2x}{20 + x} = 0,3$,

$$(20 + x) \cdot 0,3 = 8 + 0,2x,$$

$$6 + 0,3x = 8 + 0,2x,$$

$$0,1x = 2,$$

$$x = 20.$$

Необходимо добавить 20 кг второго сплава.

Ответ: 20.

23. Построим график функции $y = x^2 - |3x| - x$ (см. рис. 115).

$$y = \begin{cases} x^2 - 4x, & x \geq 0 \\ x^2 + 2x, & x < 0. \end{cases}$$

1. Графиком функции $y = x^2 - 4x, x \geq 0$ является часть параболы, ветви которой направлены вверх ($a = 1, a > 0$), вершина в точке с координатами $(2; -4)$, $y = 0$ при $x = 0$ и $x = 4$.

2. Графиком функции $y = x^2 + 2x, x < 0$ является часть параболы, ветви которой направлены вверх ($a = 1, a > 0$), вершина в точке с координатами $(-1; -1)$, $y = 0$ при $x = -2$.

3. При $C = -1$ и $C = 0$ прямая $y = C$ и график функции $y = x^2 - |3x| - x$ имеют ровно три общие точки.

Ответ: $-1; 0$.

24. Известно, что BK — биссектриса угла B (см. рис. 116), значит, $\angle CBK = \angle ABK$. $\angle CBK = \angle AKB$ — как накрест лежащие при параллельных прямых BC и AD и секущей BK .

$\triangle ABK$ — равнобедренный, так как углы при основании равны ($\angle ABK = \angle AKB$). Следовательно, $AB = AK$.

$$P_{ABCD} = 72, AB + AD = 36.$$

$AK + AK + KD = 36$. Так как по условию $AK : KD = 2 : 5$, то $2 + 2 + 5 = 9$ частей приходится на $AD + AB$, то есть одна часть равна $36 : 9 = 4$. $AB = 4 \cdot 2 = 8$.

Ответ: 8.

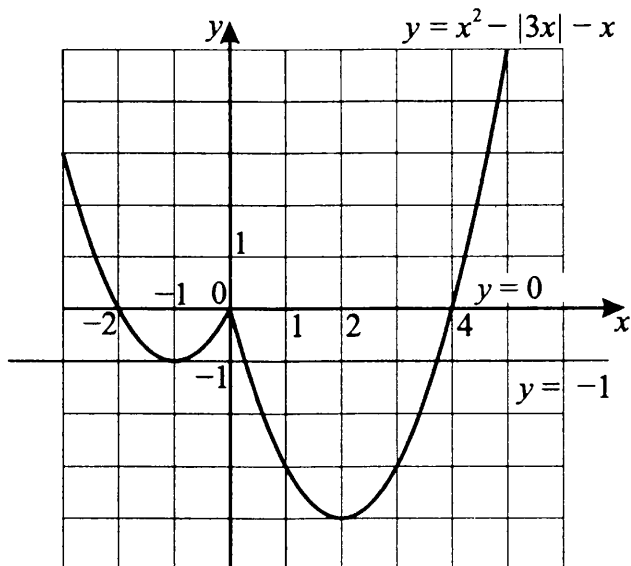


Рис. 115

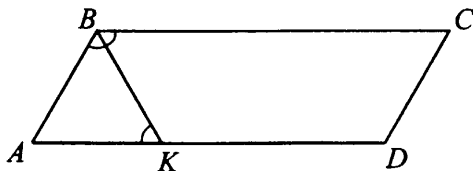


Рис. 116

25. В четырёхугольнике $ABCD$ проведём диагонали AC и BD . Обозначим $BM = x$, $BQ = y$, $DP = t$, $DN = z$ (см. рис. 117).

$\triangle BCD \sim \triangle MCN$ по второму признаку подобия ($\frac{BC}{MC} = \frac{CD}{CN}$, $\angle C$ —

общий). Из подобия следует, что $\angle 1 = \angle 2$, а так как эти углы соответственные при прямых MN , BD и секущей BC , то $MN \parallel BD$, аналогично $\triangle BAD \sim \triangle QAP \Rightarrow QP \parallel BD$.

Имеем $MN \parallel BD$, $QP \parallel BD \Rightarrow MN \parallel QP$.

Аналогично доказываем, что $NP \parallel MQ$. Делаем вывод: четырёхугольник $MNPQ$ — параллелограмм по определению, что и требовалось доказать.

26. AO_1O_2B — прямоугольная трапеция, так как $O_1A \perp AB$ и $O_2B \perp AB$ по свойству касательной, $O_1A \parallel O_2B$.

$S_{O_1CO_2} = S_{AO_1O_2B} - (S_{O_1AC} + S_{O_2BC})$ (см. рис. 118).

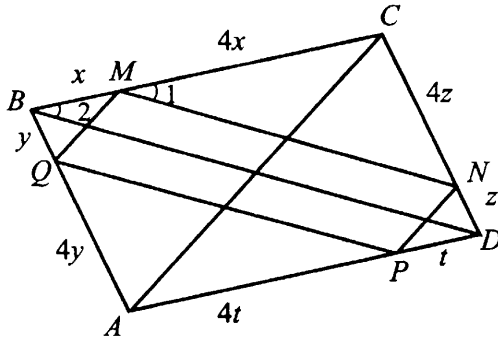


Рис. 117

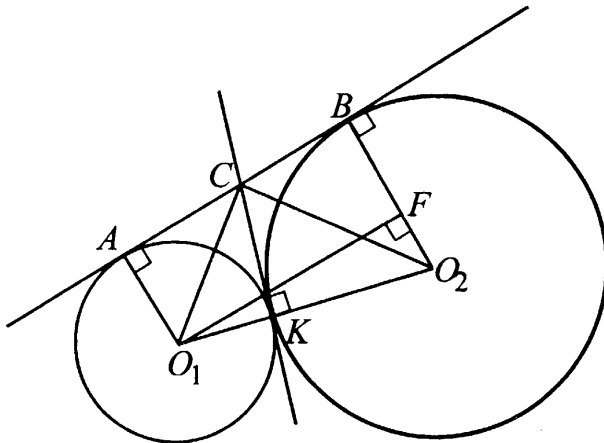


Рис. 118

$$1) S_{AO_1O_2B} = \frac{O_1A + O_2B}{2} \cdot O_1F, \text{ где } O_1F \perp O_2B.$$

$$O_2F = O_2B - FB = 6 - 2 = 4.$$

$$\text{Найдём } O_1F \text{ из } \triangle O_1O_2F. O_1F = \sqrt{O_1O_2^2 - O_2F^2} = \\ = \sqrt{(2+6)^2 - 16} = \sqrt{64 - 16} = \sqrt{48}.$$

$$S_{AO_1O_2B} = \frac{2+6}{2} \cdot \sqrt{48} = 4 \cdot \sqrt{48} = 16\sqrt{3}.$$

$$2) S_{O_1AC} = \frac{1}{2} \cdot O_1A \cdot AC; S_{O_2BC} = \frac{1}{2} \cdot O_2B \cdot BC.$$

$AC = KC = BC$ по свойству отрезков касательных, проведённых к окружности из одной точки.

$$AB = O_1F = \sqrt{48} = 4\sqrt{3}; AC = BC = 2\sqrt{3}.$$

$$S_{O_1AC} = \frac{1}{2} \cdot 2 \cdot 2\sqrt{3} = 2\sqrt{3};$$

$$S_{O_2BC} = \frac{1}{2} \cdot 6 \cdot 2\sqrt{3} = 6\sqrt{3}.$$

$$3) S_{O_1CO_2} = 16\sqrt{3} - (2\sqrt{3} + 6\sqrt{3}) = 16\sqrt{3} - 8\sqrt{3} = 8\sqrt{3}.$$

Ответ: $8\sqrt{3}$.

Глава II. Решения задач из сборника

1. По условию задачи рост Томи больше среднего на 8%, значит, на $150 \cdot 0,08 = 12$ (см). Так как средний рост девочек возраста Томи равен 150 см, то рост Томи равен $150 + 12 = 162$ (см).

Ответ: 162.

2. На второй день цена розы снизилась на 15% от цены первого дня, то есть на $80 \cdot 0,15 = 12$ (руб.), и составила $80 - 12 = 68$ (руб.). Тогда на третий день цена снизилась на 15% от цены второго дня, то есть на $68 \cdot 0,15 = 10,2$ (руб.), и составила $68 - 10,2 = 57,8$ (руб.).

Ответ: 57,8.

3. По условию задачи 1,44 м составляет 75%. Пусть x м — высота прыжка взрослого кенгуру. Тогда x составляет 100%. Следовательно,

$$x = \frac{1,44 \cdot 100}{75} = 1,92 \text{ (м)} = 192 \text{ (см)}.$$

Ответ: 192.

4. По условию в первом магазине число порций мороженого уменьшилось на 50%; это означает, что порций мороженого стало меньше в 2 раза. Таким образом, во втором магазине осталось больше порций мороженого.

Ответ: во втором.

5. Пусть x шт. — первоначальное количество книг в каждой из библиотек. Тогда в первой библиотеке количество книг увеличилось на $x \cdot 0,8$ (шт.) и стало равно $x + 0,8x = 1,8x$. Значит, количество книг в первой библиотеке увеличилось в 1,8 раза. Так как во второй библиотеке количество книг увеличилось в 1,7 раза, то в первой библиотеке книг стало больше.

Ответ: в первой библиотеке.

6. Увеличение количества хомячков во втором аквариуме в 1,6 раза означает, что количество хомячков в нём составило $1,6 \cdot 100\% = 160\%$, то есть увеличилось на 60% от первоначального количества. Так как в первом аквариуме количество хомячков увеличилось на столько же процентов, то хомячков осталось поровну.

Ответ: хомячков осталось поровну.

7. Так как через неделю на обоих складах комплектов мебели стало поровну и количество готовой продукции на первом складе не изменилось, то количество комплектов мебели на втором складе увеличилось в 2 раза, то есть составило $2 \cdot 100\% = 200\%$. Следовательно, количество продукции на этом складе увеличилось на 100%.

Ответ: 100.

8. Пусть в маленьком аквариуме было x рыб, тогда в большом аквариуме было $2x$ рыб. Через два года в большом аквариуме количество рыб уменьшилось на 25%, то есть составило $2x - 2x \cdot 0,25 = 1,5x$, а в маленьком — $1,5x$. Следовательно, рыб стало поровну.

Ответ: рыб стало поровну.

9. Пусть во втором спичечном коробке было x спичек. Тогда в первом коробке было $3x$ спичек. Через день в первом коробке число спичек стало $\frac{3x}{4} = 0,75x$, во втором — $x - 0,3x = 0,7x$. Следовательно, в первом коробке спичек осталось больше.

Ответ: в первом коробке.

10. Пусть на складе B было x продукции. Тогда на складе A было $x + x \cdot 0,5 = 1,5x$ продукции. Через месяц количество продукции на складе A уменьшилось в 1,25 раза, то есть составило $\frac{1,5x}{1,25} = 1,2x$. На складе B через месяц количество продукции увеличилось на 25%, то есть составило $x + x \cdot 0,25 = 1,25x$. Значит, на складе B продукции стало больше.

Ответ: B .

11. Пусть в 9-х классах обучается x человек. По условию число неуспевающих в 8 раз меньше числа успевающих, значит, отношение числа неуспевающих учащихся к числу успевающих равно $1 : 8$. Следовательно, $\frac{x}{9}$ — неуспевающих учащихся, $\frac{8x}{9}$ — успевающих.

Так как отличники составляют 15% от числа всех учащихся 9-х классов, то их количество $\frac{15x}{100} = \frac{3x}{20}$ человек.

Приведём дроби $\frac{x}{9}$, $\frac{8x}{9}$, $\frac{3x}{20}$ к общему знаменателю: $\frac{20x}{180}$, $\frac{160x}{180}$, $\frac{27x}{180}$. Следовательно, наименьшее число учащихся 9-х классов, удовлетворяющих условию задачи, равно 180.

Ответ: 180.

12. Пусть в школе x девочек и x мальчиков. Тогда блондинок — $0,15 \cdot x$, а блондинов — $\frac{1}{7} \cdot x$ (мальчиков с иным цветом волос $\frac{6}{7} \cdot x$).

$$0,15x = \frac{15}{100}x = \frac{3}{20}x = \frac{21}{140}x; \frac{1}{7}x = \frac{20}{140}x.$$

Так как $\frac{21}{140} > \frac{20}{140}$, то $0,15x > \frac{1}{7}x$. Следовательно, в школе блондинок больше.

Ответ: блондинок.

13. Переведём десятичную дробь 0,25 в проценты: $0,25 \cdot 100\% = 25\%$. Следовательно, спортсмен улучшил свой результат на 25%.

Ответ: 25.

14. Температура воздуха понизилась на 30%, то есть на $20^\circ \cdot 0,30 = 6^\circ$. Следовательно, температура составила $20^\circ - 6^\circ = 14^\circ$.

Ответ: 14.

15. Пусть нужно взять x кг воды. Тогда получим $(x + 0,2)$ кг раствора, что составляет 100%. По условию 0,2 кг соли в этом растворе должно составлять 5%. Следовательно, $\frac{x + 0,2}{0,2} = \frac{100}{5}$; $x + 0,2 = \frac{0,2 \cdot 100}{5}$; $x = 4 - 0,2 = 3,8$.

Ответ: 3,8.

16. Расстояние S км за 10,5 ч мотоциклист преодолевает со скоростью $\frac{S}{10,5}$ км/ч, а это же расстояние за 8 ч 24 мин $= 8\frac{24}{60}$ ч $= 8,4$ ч он преодолевает со скоростью $\frac{S}{8,4}$ км/ч.

Пусть скорость мотоциклиста повысилась на $x\%$ от первоначальной, то есть на $\frac{S}{10,5} + \frac{S}{10,5} \cdot \frac{x}{100} = \frac{S}{8,4}$; $\left(\frac{x}{100} + 1\right) \cdot \frac{1}{10,5} = \frac{1}{8,4}$; $\frac{x}{100} = 0,25$; $x = 25\%$.

Ответ: 25.

17. Всего в походе участвовало $20 + 60 = 80$ детей, что составляет 100%. Следовательно, 60 мальчиков от общего числа ребят составляет $\frac{60 \cdot 100\%}{80} = 75\%$.

Ответ: 75.

18. Увеличение зарплаты на 20% от 4000 рублей составляет $4000 \cdot 0,2 = 800$ (руб.). Следовательно, рабочий стал получать $4000 + 800 = 4800$ (руб.).

Ответ: 4800.

19. Увеличение цены товара на 15% от 600 рублей составляет $600 \cdot 0,15 = 90$ (руб.). Следовательно, товар будет стоить $600 + 90 = 690$ (руб.).

Ответ: 690.

20. По расчётам первой группы физиков масса барионной материи составляет $\frac{1}{25}$ массы Вселенной, что составляет $\frac{1}{25} \cdot 100\% = 4\%$ от массы Вселенной. Следовательно, вторая группа физиков отводит массе барионной материи бóльшую долю — 4,5%.

Ответ: вторая.

21. Пусть в прошлом году в каждом филиале было по x клиентов. Тогда в этом году в первом филиале стало $x + x \frac{150\%}{100\%} = 2,5x$ клиентов, что совпадает с числом клиентов во втором филиале, которое возросло в этом году в 2,5 раза.

Ответ: количество клиентов в обоих филиалах осталось одинаковым.

$$\begin{aligned} 22. & \frac{25x^2 - 9}{x^2 + x - 12} \cdot \frac{x + 4}{5x + 3} + \frac{2x}{3 - x} = \\ & = \frac{(5x - 3)(5x + 3)(x + 4)}{(x - 3)(x + 4)(5x + 3)} + \frac{2x}{3 - x} = \frac{5x - 3}{x - 3} - \frac{2x}{x - 3} = \\ & = \frac{5x - 3 - 2x}{x - 3} = \frac{3(x - 1)}{x - 3}. \end{aligned}$$

Ответ: $\frac{3(x - 1)}{x - 3}$.

$$\begin{aligned} 23. & \frac{9x^2 - 49}{2x^2 + 15x - 8} \cdot \frac{x + 8}{3x + 7} - \frac{1}{1 - 2x} = \\ & = \frac{(3x - 7)(3x + 7)}{2x^2 + 16x - x - 8} \cdot \frac{x + 8}{3x + 7} + \frac{1}{2x - 1} = \\ & = \frac{(3x - 7)(x + 8)}{(x + 8)(2x - 1)} + \frac{1}{2x - 1} = \frac{3x - 7}{2x - 1} + \frac{1}{2x - 1} = \frac{3x - 6}{2x - 1}. \end{aligned}$$

Ответ: $\frac{3(x - 2)}{2x - 1}$.

$$\begin{aligned}
 24. & \left(\frac{(x+3y)^2 + 3y(x-3y)}{xy(x-3y)(x+3y)} \right) \cdot \frac{y(9y^2 - x^2)}{(9y+x)^2} = \\
 & = \frac{x^2 + 6xy + 9y^2 + 3xy - 9y^2}{xy(x^2 - 9y^2)} \cdot \frac{y(9y^2 - x^2)}{(9y+x)^2} = \\
 & = -\frac{x^2 + 9xy}{xy} \cdot \frac{y}{(9y+x)^2} = -\frac{1}{x+9y}.
 \end{aligned}$$

Ответ: $-\frac{1}{x+9y}$.

$$\begin{aligned}
 25. & \left(\frac{2x+y}{2x^2y - xy^2} - \frac{2}{y^2 + 2xy} \right) : \frac{(6x+y)^2}{4x^3 - y^2x} = \\
 & = \left(\frac{2x+y}{xy(2x-y)} - \frac{2}{y(2x+y)} \right) \cdot \frac{x(2x-y)(2x+y)}{(6x+y)^2} = \\
 & = \frac{(2x+y)x(2x-y)(2x+y)}{xy(2x-y)(6x+y)^2} - \frac{2x(2x-y)(2x+y)}{y(2x+y)(6x+y)^2} = \\
 & = \frac{4x^2 + 4xy + y^2 - 4x^2 + 2xy}{y(6x+y)^2} = \frac{6xy + y^2}{y(6x+y)^2} = \frac{y(6x+y)}{y(6x+y)^2} = \frac{1}{6x+y}.
 \end{aligned}$$

Ответ: $\frac{1}{6x+y}$.

$$\begin{aligned}
 26. & \left(\frac{a^2 - 4b^2}{a^2 + ab - 6b^2} - \frac{a^2 - 9b^2}{a^2 + 6ab + 9b^2} \right) \cdot \frac{a+3b}{b} = \\
 & = \left(\frac{(a-2b)(a+2b)}{(a-2b)(a+3b)} - \frac{(a-3b)(a+3b)}{(a+3b)^2} \right) \cdot \frac{a+3b}{b} = \\
 & = \left(\frac{a+2b}{a+3b} - \frac{a-3b}{a+3b} \right) \cdot \frac{a+3b}{b} = \frac{a+2b-a+3b}{a+3b} \cdot \frac{a+3b}{b} = \frac{5b}{b} = 5.
 \end{aligned}$$

Ответ: 5.

$$\begin{aligned}
 27. & \left(\frac{6a+1}{a^2-6a} + \frac{6a-1}{a^2+6a} \right) \cdot \frac{a^4 - 35a^2 - 36}{a^4 + 2a^2 + 1} = \\
 & = \frac{6a^2 + a + 36a + 6 + 6a^2 - 36a - a + 6}{a(a-6)(a+6)} \cdot \frac{a^4 - 36a^2 + a^2 - 36}{(a^2+1)^2} =
 \end{aligned}$$

$$\begin{aligned}
 &= \frac{12a^2 + 12}{a(a-6)(a+6)} \cdot \frac{(a^2 - 36)a^2 + (a^2 - 36)}{(a^2 + 1)^2} = \\
 &= \frac{12(a^2 + 1)(a^2 - 36)(a^2 + 1)}{a(a^2 - 36)(a^2 + 1)^2} = \frac{12}{a}.
 \end{aligned}$$

Ответ: $\frac{12}{a}$.

$$\begin{aligned}
 28. & \left(\frac{x+7a}{7ax-x^2} + \frac{x-7a}{7ax+x^2} \right) : \frac{28a}{x^2-49a^2} = \\
 &= \left(\frac{x+7a}{x(7a-x)} + \frac{x-7a}{x(7a+x)} \right) \cdot \frac{(x-7a)(x+7a)}{28a} = \\
 &= \frac{(x+7a)(x-7a)(x+7a)}{x(7a-x) \cdot 28a} + \frac{(x-7a)(x-7a)(x+7a)}{x(7a+x) \cdot 28a} = \\
 &= \frac{-x^2 - 14ax - 49a^2 + x^2 - 14ax + 49a^2}{28ax} = \frac{-28ax}{28ax} = -1.
 \end{aligned}$$

Ответ: -1 .

$$\begin{aligned}
 29. & \left(\frac{x-4a}{4ax-x^2} + \frac{4a+x}{4xa+x^2} \right) : \frac{16a}{x^2-16a^2} = \\
 &= \left(\frac{x-4a}{x(4a-x)} + \frac{4a+x}{x(4a+x)} \right) : \frac{16a}{(x-4a)(x+4a)} = \\
 &= \left(-\frac{1}{x} + \frac{1}{x} \right) \frac{(x-4a)(x+4a)}{16a} = 0 \cdot \frac{(x-4a)(x+4a)}{16a} = 0.
 \end{aligned}$$

Ответ: 0 .

$$\begin{aligned}
 30. & \left(\frac{x^2-2ax+4a^2}{x-2a} + \frac{x^2+2ax+4a^2}{2a+x} \right) \cdot \frac{4a^2-x^2}{2x^3} = \\
 &= \frac{x^3+8a^3+x^3-8a^3}{(x-2a)(x+2a)} \cdot \frac{(2a-x)(2a+x)}{2x^3} = \frac{-2x^3(2a-x)(2a+x)}{(2a-x)(2a+x) \cdot 2x^3} = \\
 &= -1.
 \end{aligned}$$

Ответ: -1 .

$$\begin{aligned}
 31. & \left(\frac{x+4a}{x-a} - \frac{3-ax}{x+a} - \frac{5a-3-a^2}{x^2-a^2} : \frac{1}{x} \right) (x^2-a^2) = \\
 &= \left(\frac{x+4a}{x-a} - \frac{3-ax}{x+a} - \frac{(5a-3-a^2)x}{(x-a)(x+a)} \right) (x^2-a^2) = \\
 &= (x+4a)(x+a) - (3-ax)(x-a) - x(5a-3-a^2) =
 \end{aligned}$$

$$\begin{aligned}
 &= x^2 + 4ax + ax + 4a^2 - 3x + 3a + ax^2 - a^2x - 5ax + 3x + a^2x = \\
 &= x^2 + ax^2 + 4a^2 + 3a.
 \end{aligned}$$

Ответ: $x^2 + ax^2 + 4a^2 + 3a$.

$$\begin{aligned}
 32. \quad &\frac{b^2}{a-b} : \left(\frac{a^2 + ab + b^2}{ab + b^2} - \frac{a^2 - ab + b^2}{ab - b^2} \right) = \\
 &= \frac{b^2}{a-b} : \frac{a^3 - b^3 - a^3 - b^3}{b(a-b)(a+b)} = \frac{b^2 \cdot b(a-b)(a+b)}{(a-b)(-2b^3)} = -\frac{a+b}{2}.
 \end{aligned}$$

Ответ: $-\frac{a+b}{2}$.

$$\begin{aligned}
 33. \quad &\left(\frac{a+b}{a-b} - \frac{a^2 - ab + b^2}{a^2 + ab + b^2} \right) \cdot \frac{ab^3 - a^4}{b^5 - 4a^4b} = \\
 &= \frac{(a+b)(a^2 + ab + b^2) - (a-b)(a^2 - ab + b^2)}{(a-b)(a^2 + ab + b^2)} \cdot \frac{a(b^3 - a^3)}{b(b^4 - 4a^4)} = \\
 &= \frac{a^3 + a^2b + ab^2 + a^2b + ab^2 + b^3 - (a^3 - a^2b + ab^2 - a^2b + ab^2 - b^3)}{a^3 - b^3} \times \\
 &\times \frac{a(a^3 - b^3)}{b(4a^4 - b^4)} = \frac{a^3 + 2a^2b + 2ab^2 + b^3 - a^3 + 2a^2b - 2ab^2 + b^3}{1} \times \\
 &\times \frac{a}{b(4a^4 - b^4)} = \frac{2b^3 + 4a^2b}{1} \cdot \frac{a}{b(4a^4 - b^4)} = \frac{2b(b^2 + 2a^2) \cdot a}{b(2a^2 - b^2)(2a^2 + b^2)} = \\
 &= \frac{2a}{2a^2 - b^2}.
 \end{aligned}$$

Ответ: $\frac{2a}{2a^2 - b^2}$.

$$\begin{aligned}
 34. \quad &\left(\frac{2a - 4b}{b^2 + 4ab} - \frac{3a + b}{b^2 - 4ab} \right) (b^2 - 4ab) + \frac{21a^2 + 6b^2 - 9ab}{4a + b} = \\
 &= \frac{(2ab - 4b^2 - 8a^2 + 16ab - 3ab - b^2 - 12a^2 - 4ab)b(b - 4a)}{b(b + 4a)(b - 4a)} + \\
 &+ \frac{21a^2 + 6b^2 - 9ab}{4a + b} = \frac{11ab - 5b^2 - 20a^2 + 21a^2 + 6b^2 - 9ab}{4a + b} = \\
 &= \frac{2ab + b^2 + a^2}{4a + b} = \frac{(a+b)^2}{4a+b}.
 \end{aligned}$$

Ответ: $\frac{(a+b)^2}{4a+b}$.

$$\begin{aligned}
 35. & \left(\frac{a+b}{a^2-b} - \frac{a-b}{a^2+b} \right) : \frac{a+1}{a^2-b} = \\
 & = \frac{(a^3+ab+a^2b+b^2-a^3+ab+a^2b-b^2)(a^2-b)}{(a^2-b)(a^2+b)(a+1)} = \\
 & = \frac{2ab+2a^2b}{(a^2+b)(a+1)} = \frac{2ab(a+1)}{(a^2+b)(a+1)} = \frac{2ab}{a^2+b}.
 \end{aligned}$$

Ответ: $\frac{2ab}{a^2+b}$.

$$\begin{aligned}
 36. & \frac{16}{a+5} - \frac{3-2a}{72a^2+24a+8} \cdot \frac{-8+216a^3}{2a^2+7a-15} = \\
 & = \frac{16}{a+5} + \frac{2a-3}{8(9a^2+3a+1)} \cdot \frac{-8(1-27a^3)}{2a^2-3a+10a-15} = \\
 & = \frac{16}{a+5} + \frac{2a-3}{8(9a^2+3a+1)} \cdot \frac{-8(1-3a)(1+3a+9a^2)}{a(2a-3)+5(2a-3)} = \\
 & = \frac{16}{a+5} + \frac{2a-3}{8(9a^2+3a+1)} \cdot \frac{-8(1-3a)(9a^2+3a+1)}{(2a-3)(a+5)} = \\
 & = \frac{16}{a+5} + \frac{-(1-3a)}{a+5} = \frac{16-1+3a}{a+5} = \frac{3(a+5)}{a+5} = 3.
 \end{aligned}$$

Ответ: 3.

$$37. \frac{a^2-1}{a+1} = \frac{(a-1)(a+1)}{a+1} = a-1;$$

$$\frac{1}{a-1} - \frac{a^2-1}{a+1} = \frac{1}{a-1} - (a-1) = \frac{1-(a-1)^2}{a-1} = \frac{-a^2+2a}{a-1} = \frac{a^2-2a}{1-a}.$$

$$\begin{aligned}
 \text{Итак, } & \left(\frac{1}{a-1} - \frac{a^2-1}{a+1} \right)^{-1} + \frac{a^2-a-1}{a^2-2a} = \frac{1-a}{a^2-2a} + \frac{a^2-a-1}{a^2-2a} = \\
 & = \frac{a^2-2a}{a^2-2a} = 1.
 \end{aligned}$$

Ответ: 1.

$$\begin{aligned}
 38. & \left(\frac{a}{a+1} + \frac{1}{a-1} \right)^{-1} + \frac{2}{a^2+1} = \left(\frac{a^2-a+a+1}{a^2-1} \right)^{-1} + \frac{2}{a^2+1} = \\
 & = \frac{a^2-1}{a^2+1} + \frac{2}{a^2+1} = \frac{a^2+1}{a^2+1} = 1.
 \end{aligned}$$

Ответ: 1.

$$\begin{aligned}
 39. \quad & \frac{a\sqrt{a} - b\sqrt{b}}{\sqrt{a} - \sqrt{b}} + \frac{a\sqrt{a} + b\sqrt{b}}{\sqrt{a} + \sqrt{b}} = \\
 & = \frac{\left(a^{\frac{1}{2}}\right)^3 - \left(b^{\frac{1}{2}}\right)^3}{a^{\frac{1}{2}} - b^{\frac{1}{2}}} + \frac{\left(a^{\frac{1}{2}}\right)^3 + \left(b^{\frac{1}{2}}\right)^3}{a^{\frac{1}{2}} + b^{\frac{1}{2}}} = \\
 & = \frac{\left(a^{\frac{1}{2}} - b^{\frac{1}{2}}\right)\left(a + a^{\frac{1}{2}}b^{\frac{1}{2}} + b\right)}{a^{\frac{1}{2}} - b^{\frac{1}{2}}} + \frac{\left(a^{\frac{1}{2}} + b^{\frac{1}{2}}\right)\left(a - a^{\frac{1}{2}}b^{\frac{1}{2}} + b\right)}{a^{\frac{1}{2}} + b^{\frac{1}{2}}} = \\
 & = a + a^{\frac{1}{2}}b^{\frac{1}{2}} + b + a - a^{\frac{1}{2}}b^{\frac{1}{2}} + b = 2(a + b).
 \end{aligned}$$

Ответ: $2(a + b)$.

$$\begin{aligned}
 40. \quad & \frac{(a + b)^3}{a^2 - ab + b^2} = \frac{a^3 + 3ab(a + b) + b^3}{a^2 - ab + b^2}, \\
 & \frac{1}{a} + \frac{1}{b} - \frac{3}{a + b} = \frac{b(a + b) + a(a + b) - 3ab}{ab(a + b)} = \frac{a^2 - ab + b^2}{ab(a + b)}, \\
 & 3\left(\frac{1}{a} + \frac{1}{b} - \frac{3}{a + b}\right)^{-1} = \frac{3ab(a + b)}{a^2 - ab + b^2}. \\
 & \frac{(a + b)^3}{a^2 - ab + b^2} - 3\left(\frac{1}{a} + \frac{1}{b} - \frac{3}{a + b}\right)^{-1} = \\
 & = \frac{a^3 + 3ab(a + b) + b^3}{a^2 - ab + b^2} - \frac{3ab(a + b)}{a^2 - ab + b^2} = \frac{a^3 + b^3}{a^2 - ab + b^2} = \\
 & = \frac{(a + b)(a^2 - ab + b^2)}{a^2 - ab + b^2} = a + b.
 \end{aligned}$$

Ответ: $a + b$.

$$\begin{aligned}
 41. \quad & \left(a + \frac{b - a}{1 + ab}\right) : \left(1 - \frac{a(b - a)}{1 + ab}\right) = \frac{(a + a^2b + b - a)(1 + ab)}{(1 + ab)(1 + ab - ab + a^2)} = \\
 & = \frac{b(a^2 + 1)}{a^2 + 1} = b.
 \end{aligned}$$

Ответ: b .

$$\begin{aligned}
 42. \quad & \left(a - \frac{4a - 9}{a - 2}\right) : \left(2a - \frac{2a}{a - 2}\right) = \frac{a^2 - 2a - 4a + 9}{a - 2} : \frac{2a^2 - 4a - 2a}{a - 2} = \\
 & = \frac{(a^2 - 6a + 9)(a - 2)}{(a - 2)(2a^2 - 6a)} = \frac{(a - 3)^2}{2a(a - 3)} = \frac{a - 3}{2a}.
 \end{aligned}$$

Ответ: $\frac{a - 3}{2a}$.

$$\begin{aligned}
 43. & \left(x + 1 - \frac{12x - 13}{x + 3}\right) : \left(x - 3 - \frac{7}{x + 3}\right) = \\
 & = \frac{x^2 + 4x + 3 - 12x + 13}{x + 3} : \frac{x^2 - 9 - 7}{x + 3} = \frac{x^2 - 8x + 16}{x^2 - 16} = \\
 & = \frac{(x - 4)^2}{(x - 4)(x + 4)} = \frac{x - 4}{x + 4}.
 \end{aligned}$$

Ответ: $\frac{x - 4}{x + 4}$.

$$\begin{aligned}
 44. & \frac{x}{\frac{2}{x + 1} - 1} - \frac{2 + \frac{4x}{1 - x}}{x + 1} + 3 = \frac{x(x + 1)}{1 - x} - \frac{2 + 2x}{(1 - x)(1 + x)} + 3 = \\
 & = \frac{x(x + 1)^2 - 2 - 2x + 3(1 - x^2)}{1 - x^2} = \\
 & = \frac{x(x^2 + 2x + 1) - 2 - 2x + 3 - 3x^2}{1 - x^2} = \\
 & = \frac{x^3 + 2x^2 + x - 2x - 3x^2 + 1}{1 - x^2} = \frac{x^3 - x^2 - x + 1}{1 - x^2} = \\
 & = -\frac{x^2(x - 1) - (x - 1)}{(x - 1)(x + 1)} = -\frac{(x - 1)(x^2 - 1)}{(x - 1)(x + 1)} = \\
 & = -\frac{(x - 1)(x + 1)}{x + 1} = 1 - x.
 \end{aligned}$$

Ответ: $1 - x$.

$$\begin{aligned}
 45. & \frac{18 \cdot 12^{3n-1}}{9^{2n+1} \cdot 2^{4n-3}} = \frac{3^2 \cdot 2 \cdot (2^2 \cdot 3)^{3n-1}}{3^{2 \cdot (2n+1)} \cdot 2^{4n-3}} = \frac{3^{2+3n-1} \cdot 2^{1+6n-2}}{3^{4n+2} \cdot 2^{4n-3}} = \\
 & = \frac{3^{3n+1} \cdot 2^{6n-1}}{3^{4n+2} \cdot 2^{4n-3}} = \frac{2^{2n+2}}{3^{n+1}} = \frac{4^{n+1}}{3^{n+1}} = \left(\frac{4}{3}\right)^{n+1}.
 \end{aligned}$$

Ответ: $\left(\frac{4}{3}\right)^{n+1}$.

$$\begin{aligned}
 46. & \left(\frac{3}{4a - b} - \frac{2}{4a + b} - \frac{1}{4a - 5b}\right) : \frac{b^2}{16a^2 - b^2} = \\
 & = \left(\frac{12a + 3b - 8a + 2b}{(4a - b)(4a + b)} - \frac{1}{4a - 5b}\right) : \frac{b^2}{16a^2 - b^2} =
 \end{aligned}$$

$$= \left(\frac{4a + 5b}{16a^2 - b^2} - \frac{1}{4a - 5b} \right) : \frac{b^2}{16a^2 - b^2} =$$

$$= \frac{(16a^2 - 25b^2 - 16a^2 + b^2)(16a^2 - b^2)}{(16a^2 - b^2)(4a - 5b) \cdot b^2} = \frac{-24}{4a - 5b} = \frac{24}{5b - 4a}.$$

Ответ: $\frac{24}{5b - 4a}$.

$$47. \left(\frac{1}{x^2 + 3x + 2} - \frac{1}{x^2 + 5x + 6} \right) : \left(\frac{1}{x + 1} - \frac{1}{x + 3} \right) =$$

$$= \left(\frac{1}{(x + 1)(x + 2)} - \frac{1}{(x + 3)(x + 2)} \right) : \frac{x + 3 - x - 1}{(x + 1)(x + 3)} =$$

$$= \frac{(x + 3 - x - 1)(x + 1)(x + 3)}{(x + 1)(x + 2)(x + 3) \cdot 2} = \frac{1}{x + 2}.$$

Ответ: $\frac{1}{x + 2}$.

$$48. \left(\frac{2}{\sqrt{3} - 1} - \frac{1}{\sqrt{3} + 2} + \frac{13}{4 - \sqrt{3}} \right) \cdot \frac{1}{3 + 3\sqrt{3}} =$$

$$= \left(\frac{2(\sqrt{3} + 1)}{(\sqrt{3} - 1)(\sqrt{3} + 1)} - \frac{\sqrt{3} - 2}{(\sqrt{3} + 2)(\sqrt{3} - 2)} + \frac{13(4 + \sqrt{3})}{(4 - \sqrt{3})(4 + \sqrt{3})} \right) \times$$

$$\times \frac{1}{3 + 3\sqrt{3}} = (\sqrt{3} + 1 + \sqrt{3} - 2 + 4 + \sqrt{3}) \cdot \frac{1}{3 + 3\sqrt{3}} = (3 + 3\sqrt{3}) \cdot \frac{1}{3 + 3\sqrt{3}} = 1.$$

Ответ: 1.

49. Обозначим заданное выражение через A . Представим выражение под корнем в виде полных квадратов и получим

$$A = \sqrt{(\sqrt{2} - \sqrt{3})^2} + \sqrt{(\sqrt{2} + \sqrt{3})^2}.$$

При извлечении корня учитываем, что арифметический квадратный корень — величина неотрицательная:

$$A = (\sqrt{3} - \sqrt{2}) + (\sqrt{2} + \sqrt{3}) = 2\sqrt{3}.$$

Ответ: $2\sqrt{3}$.

$$50. \left(\frac{2m}{m - 7} + \frac{4m}{m^2 - 14m + 49} \right) \cdot \frac{m^2 - 9m + 14}{m - 5} + \frac{10m}{7 - m} =$$

$$= \left(\frac{2m}{m - 7} + \frac{4m}{(m - 7)^2} \right) \cdot \frac{(m - 7)(m - 2)}{m - 5} + \frac{10m}{7 - m} =$$

$$= \frac{(2m(m - 7) + 4m)(m - 7)(m - 2)}{(m - 7)^2(m - 5)} + \frac{10m}{7 - m} =$$

$$\begin{aligned}
 &= \frac{(2m^2 - 14m + 4m)(m - 2)}{(m - 7)(m - 5)} + \frac{10m}{7 - m} = \frac{2m(m - 5)(m - 2)}{(m - 7)(m - 5)} - \frac{10m}{m - 7} = \\
 &= \frac{2m^2 - 4m - 10m}{m - 7} = \frac{2m(m - 7)}{m - 7} = 2m.
 \end{aligned}$$

Ответ: $2m$.

$$\begin{aligned}
 51. & \left(\frac{m}{m - 5} + \frac{3m}{2m^2 - 11m + 5} \right) \cdot \frac{m^2 + m - 30}{m + 1} - \frac{4m}{2m - 1} = \\
 &= \left(\frac{m}{m - 5} + \frac{3m}{(m - 5)(2m - 1)} \right) \cdot \frac{(m + 6)(m - 5)}{m + 1} - \frac{4m}{2m - 1} = \\
 &= \frac{(2m^2 - m + 3m)(m + 6)(m - 5)}{(m - 5)(2m - 1)(m + 1)} - \frac{4m}{2m - 1} = \\
 &= \frac{2m(m + 1)(m + 6)}{(2m - 1)(m + 1)} - \frac{4m}{2m - 1} = \frac{2m(m + 6) - 4m}{2m - 1} = \\
 &= \frac{2m^2 + 8m}{2m - 1} = \frac{2m(m + 4)}{2m - 1}.
 \end{aligned}$$

Ответ: $\frac{2m(m + 4)}{2m - 1}$.

$$\begin{aligned}
 52. & A = \sqrt{(2 - \sqrt[3]{20})^2} + \sqrt{(3 - \sqrt[3]{20})^2} = |2 - \sqrt[3]{20}| + |3 - \sqrt[3]{20}|. \\
 & \text{Так как } 2 < \sqrt[3]{20} < 3, \text{ то } A = \sqrt[3]{20} - 2 + 3 - \sqrt[3]{20} = 1.
 \end{aligned}$$

Ответ: 1.

$$\begin{aligned}
 53. & A = \sqrt{(\sqrt[5]{240} - 2)^2} + \sqrt{(\sqrt[5]{240} - 3)^2} = |\sqrt[5]{240} - 2| + |\sqrt[5]{240} - 3|. \\
 & \text{Так как } 2 < \sqrt[5]{240} < 3, \text{ то получим } A = \sqrt[5]{240} - 2 + 3 - \sqrt[5]{240} = 1.
 \end{aligned}$$

Ответ: 1.

$$\begin{aligned}
 54. & \left(\left(\frac{b^2 - 2b + 2}{b^4 + 4} \right)^{-1} - 1 \right) \cdot (b + 1)^{-1} = \left(\frac{b^4 + 4}{b^2 - 2b + 2} - 1 \right) \cdot \frac{1}{b + 1} = \\
 &= \frac{b^4 + 4 - b^2 + 2b - 2}{(b^2 - 2b + 2)(b + 1)} = \frac{b^4 - b^2 + 2b + 2}{(b^2 - 2b + 2)(b + 1)} = \\
 &= \frac{b^2(b^2 - 1) + 2(b + 1)}{(b^2 - 2b + 2)(b + 1)} = \frac{b^2(b - 1) + 2}{b^2 - 2b + 2} = \frac{b^3 - b^2 + 2}{b^2 - 2b + 2} = \\
 &= \frac{(b + 1)(b^2 - 2b + 2)}{b^2 - 2b + 2} = b + 1.
 \end{aligned}$$

Ответ: $b + 1$.

$$\begin{aligned}
 55. & x^{-8} \cdot \left(\frac{1}{x-1} + (x+1)(x^2+1)(x^4+1) \right) = \\
 & = x^{-8} \cdot \left(\frac{1 + (x^2-1)(x^2+1)(x^4+1)}{x-1} \right) = x^{-8} \cdot \frac{1 + (x^4-1)(x^4+1)}{x-1} = \\
 & = x^{-8} \cdot \frac{1 + x^8 - 1}{x-1} = \frac{1}{x-1}.
 \end{aligned}$$

Ответ: $\frac{1}{x-1}$.

$$56. \frac{4 \cdot 36^n}{2^{2n+2} \cdot 3^{2n-3}} = \frac{4 \cdot 6^{2n}}{2^2 \cdot 2^{2n} \cdot 3^{2n} \cdot 3^{-3}} = \frac{6^{2n} \cdot 3^3}{6^{2n}} = 3^3 = 27.$$

Ответ: 27.

$$57. \frac{8 \cdot 100^n}{5^{2n-2} \cdot 2^{2n+1}} = \frac{8 \cdot 10^{2n}}{5^{2n} \cdot 5^{-2} \cdot 2^{2n} \cdot 2} = \frac{4 \cdot 10^{2n} \cdot 5^2}{10^{2n}} = 4 \cdot 5^2 = 100.$$

Ответ: 100.

$$\begin{aligned}
 58. & \frac{(5^{1-5n})^2 \cdot (4^{2n+1})^3 \cdot (2,5)^{11n}}{160} = \frac{5^2 \cdot 4^{6n} \cdot 4^3 \cdot 5^{11n}}{5^{10n} \cdot 160 \cdot 2^{11n}} = \\
 & = \frac{5^2 \cdot 2^{12n} \cdot 4^2 \cdot 2^2 \cdot 5^n}{4^2 \cdot 10 \cdot 2^{11n}} = 10 \cdot 2^n \cdot 5^n = 10 \cdot 10^n = 10^{n+1}.
 \end{aligned}$$

Ответ: 10^{n+1} .

$$\begin{aligned}
 59. & 81 \cdot \frac{(3 \cdot 3^n)^{3n}}{(9^n)^2} : 27^{n^2-n} = \frac{3^4 \cdot 3^{3n} \cdot 3^{3n^2}}{(3^{2n})^2} : 3^{3(n^2-n)} = \\
 & = \frac{3^{3n^2+3n+4}}{3^{4n}} : 3^{3n^2-3n} = 3^{3n^2+3n+4-4n-3n^2+3n} = 3^{2n+4} = 3^{2(n+2)} = \\
 & = 9^{n+2}.
 \end{aligned}$$

Ответ: 9^{n+2} .

$$\begin{aligned}
 62. & \sqrt{7-4\sqrt{3}} + \sqrt{7+4\sqrt{3}} = \sqrt{4-4\sqrt{3}+3} + \sqrt{4+4\sqrt{3}+3} = \\
 & = \sqrt{(2-\sqrt{3})^2} + \sqrt{(2+\sqrt{3})^2} = |2-\sqrt{3}| + 2 + \sqrt{3} = 2 - \sqrt{3} + 2 + \sqrt{3} = 4.
 \end{aligned}$$

Ответ: 4.

$$\begin{aligned}
 64. & \frac{1}{\sqrt{4+1}} + \frac{1}{\sqrt{5+\sqrt{2}}} + \frac{1}{\sqrt{6+\sqrt{3}}} + \dots + \frac{1}{\sqrt{25+\sqrt{22}}} = \\
 & = \frac{1}{3} + \frac{\sqrt{5}-\sqrt{2}}{3} + \frac{\sqrt{6}-\sqrt{3}}{3} + \dots + \frac{5-\sqrt{22}}{3} = \\
 & = \frac{1}{3} \cdot (1 + \sqrt{5} - \sqrt{2} + \sqrt{6} - \sqrt{3} + \sqrt{7} - 2 + \sqrt{8} - \sqrt{5} + \dots +
 \end{aligned}$$

$$\begin{aligned}
 & + \sqrt{22} - \sqrt{19} + \sqrt{23} - \sqrt{20} + \sqrt{24} - \sqrt{21} + 5 - \sqrt{22} = \\
 & = \frac{1}{3} \cdot (-1 - \sqrt{2} - \sqrt{3} + \sqrt{23} + \sqrt{24} + 5) = \frac{1}{3} \cdot (4 - \sqrt{2} - \sqrt{3} + \sqrt{23} + \sqrt{24}).
 \end{aligned}$$

С избытком:

$$\frac{1}{3} \cdot (4 - \sqrt{2} - \sqrt{3} + \sqrt{23} + \sqrt{24}) \approx \frac{1}{3} \cdot (4 - 1,4 - 1,7 + 4,8 + 4,9) \approx 3,53.$$

С недостатком:

$$\frac{1}{3} \cdot (4 - \sqrt{2} - \sqrt{3} + \sqrt{23} + \sqrt{24}) \approx \frac{1}{3} \cdot (4 - 1,5 - 1,8 + 4,7 + 4,8) = \frac{1}{3} \cdot 10,2 = 3,4.$$

Искомое число обозначим A . $3,4 < A < 3,5$, то есть оно лежит между 3 и 4.

Ответ: 3; 4.

$$\begin{aligned}
 65. & \frac{1}{\sqrt{3} \cdot (\sqrt{3} + 1)} + \frac{1}{\sqrt{5} \cdot (\sqrt{5} + \sqrt{3})} + \dots + \frac{1}{\sqrt{15} \cdot (\sqrt{15} + \sqrt{13})} + \\
 & + \frac{1}{\sqrt{3} \cdot (\sqrt{3} - 1)} + \frac{1}{\sqrt{5} \cdot (\sqrt{5} - \sqrt{3})} + \dots + \frac{1}{\sqrt{15} \cdot (\sqrt{15} - \sqrt{13})} = \\
 & = \left(\frac{1}{\sqrt{3} \cdot (\sqrt{3} + 1)} + \frac{1}{\sqrt{3} \cdot (\sqrt{3} - 1)} \right) + \\
 & + \left(\frac{1}{\sqrt{5} \cdot (\sqrt{5} + \sqrt{3})} + \frac{1}{\sqrt{5} \cdot (\sqrt{5} - \sqrt{3})} \right) + \\
 & + \left(\frac{1}{\sqrt{7} \cdot (\sqrt{7} + \sqrt{5})} + \frac{1}{\sqrt{7} \cdot (\sqrt{7} - \sqrt{5})} \right) + \dots + \\
 & + \left(\frac{1}{\sqrt{15} \cdot (\sqrt{15} + \sqrt{13})} + \frac{1}{\sqrt{15} \cdot (\sqrt{15} - \sqrt{13})} \right) = \\
 & = \frac{\sqrt{3} - 1 + \sqrt{3} + 1}{2\sqrt{3}} + \frac{\sqrt{5} - \sqrt{3} + \sqrt{5} - \sqrt{3}}{2\sqrt{5}} + \frac{\sqrt{7} - \sqrt{5} + \sqrt{7} + \sqrt{5}}{2\sqrt{7}} + \dots + \\
 & + \frac{\sqrt{15} - \sqrt{13} + \sqrt{15} + \sqrt{13}}{2\sqrt{15}} = 1 + 1 + \dots + 1 = 7.
 \end{aligned}$$

Ответ: 7.

66. Данное выражение имеет смысл при $a < 0$, $b \leq 0$. Заметим, что

$$\begin{aligned}
 \sqrt{(-a)^2} & = |a| = -a \text{ при } a < 0. \text{ Поэтому } \frac{\sqrt{ab} - a}{\sqrt{-a}} = \frac{\sqrt{ab} - \sqrt{(-a)^2}}{\sqrt{-a}} = \\
 & = \frac{\sqrt{-a} \cdot (\sqrt{-b} + \sqrt{-a})}{\sqrt{-a}} = \sqrt{-a} + \sqrt{-b}.
 \end{aligned}$$

Ответ: $\sqrt{-a} + \sqrt{-b}$.

67. Заметим, что при $a < 0$ имеем $\sqrt{(-a)^2} = |a| = -a$. Поэтому

$$\frac{a + \sqrt{ab}}{b + \sqrt{ab}} = \frac{-\sqrt{(-a)^2} + \sqrt{-a} \cdot \sqrt{-b}}{-\sqrt{(-b)^2} + \sqrt{-a} \cdot \sqrt{-b}} = \frac{\sqrt{-a} \cdot (-\sqrt{-a} + \sqrt{-b})}{\sqrt{-b} \cdot (-\sqrt{-b} + \sqrt{-a})} = -\sqrt{\frac{a}{b}}.$$

Ответ: $-\sqrt{\frac{a}{b}}$.

68.
$$\frac{2ab - 10a + 5 - b}{2a^2 - 7a + 3} = \frac{2a(b - 5) - (b - 5)}{2(a - 3)\left(a - \frac{1}{2}\right)} = \frac{(b - 5)(2a - 1)}{(a - 3)(2a - 1)} = \frac{b - 5}{a - 3}.$$

Ответ: $\frac{b - 5}{a - 3}$.

69.
$$\frac{6 - 9n + 6mn - 4m}{3n^2 + n - 2} = \frac{3(2 - 3n) + 2m(3n - 2)}{3\left(n - \frac{2}{3}\right)(n + 1)} =$$

$$= \frac{(3n - 2)(2m - 3)}{(3n - 2)(n + 1)} = \frac{2m - 3}{n + 1}.$$

Ответ: $\frac{2m - 3}{n + 1}$.

70.
$$\frac{3ab + 21a + 2b + 14}{9a^2 + 9a + 2} = \frac{3a(b + 7) + 2(b + 7)}{9a^2 + 6a + 1 + 3a + 1} =$$

$$= \frac{(b + 7)(3a + 2)}{(3a + 1)^2 + 3a + 1} = \frac{(b + 7)(3a + 2)}{(3a + 1)(3a + 2)} = \frac{b + 7}{3a + 1}.$$

Ответ: $\frac{b + 7}{3a + 1}$.

71.
$$\frac{4ab - 16a + b - 4}{16a^2 - 8a - 3} = \frac{4a(b - 4) + b - 4}{16a^2 - 8a + 1 - 4} = \frac{(4a + 1)(b - 4)}{(4a - 1)^2 - 2^2} =$$

$$= \frac{(4a + 1)(b - 4)}{(4a - 3)(4a + 1)} = \frac{b - 4}{4a - 3}.$$

Ответ: $\frac{b - 4}{4a - 3}$.

72.
$$\left(\frac{n + 1}{n^2 + 4n + 4} - \frac{n - 1}{n^2 - 4}\right) : \frac{2n}{(n + 2)^2} =$$

$$= \left(\frac{n + 1}{(n + 2)^2} - \frac{n - 1}{(n - 2)(n + 2)}\right) \cdot \frac{(n + 2)^2}{2n} = \left(n + 1 - \frac{(n - 1)(n + 2)}{n - 2}\right) \cdot \frac{1}{2n} =$$

$$\begin{aligned}
 &= \frac{(n+1)(n-2) - (n-1)(n+2)}{n-2} \cdot \frac{1}{2n} = \frac{(n^2 - n - 2) - (n^2 + n - 2)}{2n(n-2)} = \\
 &= \frac{-2n}{2n(n-2)} = \frac{-1}{n-2} = \frac{1}{2-n}.
 \end{aligned}$$

Ответ: $\frac{1}{2-n}$.

$$\begin{aligned}
 73. \left(\frac{x}{x^2 - 2x + 1} - \frac{1}{x-1} \right) : \frac{5}{(x-1)^2} &= \left(\frac{x}{(x-1)^2} - \frac{1}{x-1} \right) \cdot \frac{(x-1)^2}{5} = \\
 &= \frac{x - (x-1)}{(x-1)^2} \cdot \frac{(x-1)^2}{5} = \frac{x - x + 1}{5} = \frac{1}{5} = 0,2.
 \end{aligned}$$

Ответ: 0,2.

$$\begin{aligned}
 74. \left(\frac{a(1-a)}{2} + \frac{a^2 - 4a + 3}{2a^2 - 6a} \right) : (a-1)^2 &= \\
 &= \frac{a(1-a) \cdot a(a-3) + (a-3)(a-1)}{2a(a-3)} \cdot \frac{1}{(a-1)^2} = \\
 &= \frac{(a-1)(a-3)(1-a^2)}{2a(a-3)(a-1)^2} = \frac{(1-a)(1+a)}{2a(a-1)} = -\frac{1+a}{2a}.
 \end{aligned}$$

Ответ: $-\frac{1+a}{2a}$.

$$\begin{aligned}
 75. \left(\frac{(b^2 - 3b + 2)(b-1)}{b^2} - \frac{b^2 - 4b + 3}{b} \right) : (b-1)^2 &= \\
 &= \frac{(b^2 - 3b + 2)(b-1) - b(b^2 - 4b + 3)}{b^2(b-1)^2} = \\
 &= \frac{(b-1)(b-2)(b-1) - b(b-1)(b-3)}{b^2(b-1)^2} = \\
 &= \frac{(b-1)(b-2) - b(b-3)}{b^2(b-1)} = \frac{b^2 - 3b + 2 - b^2 + 3b}{b^2(b-1)} = \frac{2}{b^2(b-1)}.
 \end{aligned}$$

Ответ: $\frac{2}{b^2(b-1)}$.

$$\begin{aligned}
 76. \left(\frac{k+2}{k^2 + 3k - 4} - \frac{k-8}{k^2 + 8k + 16} \right) : \frac{5}{(k+4)^2} &= \\
 &= \left(\frac{k+2}{(k+4)(k-1)} - \frac{k-8}{(k+4)^2} \right) \cdot \frac{(k+4)^2}{5} =
 \end{aligned}$$

$$\begin{aligned}
 &= \frac{(k+2)(k+4) - (k-8)(k-1)}{(k+4)^2(k-1)} \cdot \frac{(k+4)^2}{5} = \\
 &= \frac{(k^2 + 6k + 8) - (k^2 - 9k + 8)}{5(k-1)} = \frac{15k}{5(k-1)} = \frac{3k}{k-1}.
 \end{aligned}$$

Ответ: $\frac{3k}{k-1}$.

$$\begin{aligned}
 77. & \left(\frac{1}{t^2-4} - \frac{1}{t^2+t-6} \right) : \frac{1}{t^2+5t+6} = \\
 &= \left(\frac{1}{(t-2)(t+2)} - \frac{1}{(t+3)(t-2)} \right) \cdot \frac{(t+3)(t+2)}{1} = \\
 &= \frac{(t+3) - (t+2)}{(t-2)(t+2)(t+3)} \cdot (t+3)(t+2) = \frac{1}{t-2}.
 \end{aligned}$$

Ответ: $\frac{1}{t-2}$.

$$\begin{aligned}
 78. & \frac{1}{(a-b)(a-c)} + \frac{1}{(b-c)(b-a)} + \frac{1}{(c-a)(c-b)} = \\
 &= \frac{(b-c) + (c-a) + (a-b)}{(a-c)(a-b)(b-c)} = \frac{0}{(a-c)(a-b)(b-c)} = 0.
 \end{aligned}$$

Ответ: 0.

$$\begin{aligned}
 79. & \frac{a^2}{(a-b)(a-c)} + \frac{b^2}{(b-c)(b-a)} + \frac{c^2}{(c-a)(c-b)} = \\
 &= \frac{a^2(b-c) - b^2(a-c) + c^2(a-b)}{(a-b)(a-c)(b-c)} = \\
 &= \frac{a^2b - a^2c - b^2a + b^2c + c^2a - c^2b}{(a-b)(a-c)(b-c)} = \\
 &= \frac{b(a-c)(a+c) - b^2(a-c) - ac(a-c)}{(a-b)(a-c)(b-c)} = \\
 &= \frac{(a-c)[b(a+c) - b^2 - ac]}{(a-b)(a-c)(b-c)} = \\
 &= \frac{(a-c)[b(a-b) - c(a-b)]}{(a-b)(a-c)(b-c)} = \\
 &= \frac{(a-b)(a-c)(b-c)}{(a-b)(a-c)(b-c)} = 1.
 \end{aligned}$$

Ответ: 1.

$$\begin{aligned}
 80. & \left(\frac{m-3}{m^2-4m+3} - \frac{2m}{m^2-1} \right) : \frac{1}{5m+5} = \\
 & = \left(\frac{m-3}{(m-3)(m-1)} - \frac{2m}{(m-1)(m+1)} \right) \cdot 5(m+1) = \\
 & = \frac{m+1-2m}{(m-1)(m+1)} \cdot 5(m+1) = \frac{1-m}{m-1} \cdot 5 = -5.
 \end{aligned}$$

Ответ: -5.

$$\begin{aligned}
 81. & \left(\frac{m+3}{m^2+4m+4} - \frac{2m+6}{m^2+5m+6} \right) \cdot \frac{m^2-4}{m+1} = \\
 & = \left(\frac{m+3}{(m+2)^2} - \frac{2(m+3)}{(m+2)(m+3)} \right) \cdot \frac{(m-2)(m+2)}{m+1} = \\
 & = \frac{m+3-2(m+2)}{(m+2)^2} \cdot \frac{(m-2)(m+2)}{m+1} = \frac{-m-1}{m+2} \cdot \frac{m-2}{m+1} = \frac{2-m}{m+2}.
 \end{aligned}$$

Ответ: $\frac{2-m}{m+2}$.

$$\begin{aligned}
 82. & \left(\frac{x-1}{x^2-6x+8} - \frac{3}{x^2-16} \right) : \frac{2x^2+4}{x^2+2x-8} + \frac{1}{8-2x} = \\
 & = \left(\frac{x-1}{(x-4)(x-2)} - \frac{3}{(x-4)(x+4)} \right) : \frac{2x^2+4}{(x+4)(x-2)} + \frac{1}{8-2x} = \\
 & = \frac{(x-1)(x+4) - 3(x-2)}{(x-4)(x-2)(x+4)} \cdot \frac{(x+4)(x-2)}{2(x^2+2)} + \frac{1}{2(4-x)} = \\
 & = \frac{x^2+3x-4-3x+6}{2(x-4)(x^2+2)} + \frac{1}{2(4-x)} = \frac{x^2+2}{2(x-4)(x^2+2)} - \frac{1}{2(x-4)} = 0.
 \end{aligned}$$

Ответ: 0.

$$\begin{aligned}
 83. & \left(\frac{x+6}{x^2-6x} + \frac{x-6}{x^2+6x} \right) : \frac{x^2+36}{x^2-36} - \frac{2}{x} = \\
 & = \left(\frac{x+6}{x(x-6)} + \frac{x-6}{x(x+6)} \right) \cdot \frac{x^2-36}{x^2+36} - \frac{2}{x} = \\
 & = \frac{(x+6)^2 + (x-6)^2}{x(x-6)(x+6)} \cdot \frac{(x-6)(x+6)}{x^2+36} - \frac{2}{x} = \frac{2(x^2+36)}{x(x^2+36)} - \frac{2}{x} = \frac{2}{x} - \frac{2}{x} = 0.
 \end{aligned}$$

Ответ: 0.

$$\begin{aligned}
 84. & \left(\frac{a^3 - b^3}{a^2 + ab + b^2} - \frac{a^2}{a + b} \right) \cdot \left(\frac{-1}{b^2} \right) = \\
 & = \left(\frac{(a - b)(a^2 + ab + b^2)}{a^2 + ab + b^2} - \frac{a^2}{a + b} \right) \cdot \left(\frac{-1}{b^2} \right) = \\
 & = \frac{(a^2 - b^2) - a^2}{a + b} \cdot \left(\frac{-1}{b^2} \right) = \frac{1}{a + b}.
 \end{aligned}$$

Ответ: $\frac{1}{a + b}$.

$$\begin{aligned}
 85. & \left(\frac{a^2 - b^2}{a^2 + 2ab + b^2} + \frac{b}{a + b} \right) \cdot \frac{a + b}{3b} = \left(\frac{(a - b)(a + b)}{(a + b)^2} + \frac{b}{a + b} \right) \cdot \frac{a + b}{3b} = \\
 & = \frac{(a - b) + b}{a + b} \cdot \frac{a + b}{3b} = \frac{a}{3b}.
 \end{aligned}$$

Ответ: $\frac{a}{3b}$.

$$\begin{aligned}
 86. & \left(\frac{2a + 1}{2a - 1} - \frac{2a - 1}{2a + 1} \right) \left(1 - \frac{1}{a} + \frac{1}{4a^2} \right) = \\
 & = \frac{(2a + 1)^2 - (2a - 1)^2}{(2a - 1)(2a + 1)} \cdot \frac{4a^2 - 4a + 1}{4a^2} = \\
 & = \frac{(4a^2 + 4a + 1 - 4a^2 + 4a - 1)(2a - 1)^2}{(2a - 1)(2a + 1)4a^2} = \\
 & = \frac{8a(2a - 1)}{(2a + 1) \cdot 4a^2} = \frac{2(2a - 1)}{a(2a + 1)} = \frac{4a - 2}{2a^2 + a}, \text{ что и требовалось доказать.}
 \end{aligned}$$

$$\begin{aligned}
 87. & \left(a - b + \frac{4ab}{a - b} \right) : \left(\frac{a}{a + b} - \frac{2ab}{b^2 - a^2} \right) = \\
 & = \frac{(a - b)^2 + 4ab}{a - b} : \frac{a(a - b) + 2ab}{a^2 - b^2} = \\
 & = \frac{a^2 - 2ab + b^2 + 4ab}{a - b} : \frac{a^2 - ab + 2ab}{a^2 - b^2} = \frac{(a + b)^2(a - b)(a + b)}{(a - b)a(a + b)} = \\
 & = \frac{(a + b)^2}{a}.
 \end{aligned}$$

Ответ: $\frac{(a + b)^2}{a}$.

$$\begin{aligned}
 88. \quad & \frac{1}{3b-1} - \frac{27b^3 - 3b}{9b^2 + 1} \cdot \left(\frac{3b}{9b^2 - 6b + 1} - \frac{1}{9b^2 - 1} \right) = \\
 & = \frac{1}{3b-1} - \frac{3b(9b^2 - 1)}{9b^2 + 1} \cdot \left(\frac{3b}{(3b-1)^2} - \frac{1}{(3b-1)(3b+1)} \right) = \\
 & = \frac{1}{3b-1} - \frac{3b(3b-1)(3b+1)}{9b^2 + 1} \cdot \frac{3b(3b+1) - (3b-1)}{(3b-1)^2(3b+1)} = \\
 & = \frac{1}{3b-1} - \frac{3b}{9b^2 + 1} \cdot \frac{9b^2 + 3b - 3b + 1}{3b-1} = \frac{1}{3b-1} - \frac{3b}{3b-1} = \frac{1-3b}{3b-1} = -1.
 \end{aligned}$$

Ответ: -1 .

$$\begin{aligned}
 89. \quad & \frac{3}{2a-3} - \frac{8a^3 - 18a}{4a^2 + 9} \cdot \left(\frac{2a}{4a^2 - 12a + 9} - \frac{3}{4a^2 - 9} \right) = \\
 & = \frac{3}{2a-3} - \frac{2a(4a^2 - 9)}{4a^2 + 9} \cdot \left(\frac{2a}{(2a-3)^2} - \frac{3}{(2a-3)(2a+3)} \right) = \\
 & = \frac{3}{2a-3} - \frac{2a(2a-3)(2a+3)}{4a^2 + 9} \cdot \frac{2a(2a+3) - 3(2a-3)}{(2a-3)^2(2a+3)} = \\
 & = \frac{3}{2a-3} - \frac{2a(4a^2 + 6a - 6a + 9)}{(4a^2 + 9)(2a-3)} = \frac{3}{2a-3} - \frac{2a}{2a-3} = \frac{3-2a}{2a-3} = -1.
 \end{aligned}$$

Ответ: -1 .

$$\begin{aligned}
 90. \quad & \left(\frac{2x}{x+1} + \frac{3}{x-4} - \frac{6-4x}{x^2-3x-4} \right) : \frac{2x-3}{x} = \\
 & = \left(\frac{2x}{x+1} + \frac{3}{x-4} - \frac{6-4x}{(x+1)(x-4)} \right) \cdot \frac{x}{2x-3} = \\
 & = \frac{2x(x-4) + 3(x+1) - (6-4x)}{(x+1)(x-4)} \cdot \frac{x}{2x-3} = \frac{2x^2 - x - 3}{(x+1)(x-4)} \cdot \frac{x}{2x-3} = \\
 & = \frac{(x+1)(2x-3)x}{(x+1)(x-4)(2x-3)} = \frac{x}{x-4}.
 \end{aligned}$$

Ответ: $\frac{x}{x-4}$.

$$\begin{aligned}
 91. \quad & \frac{2x-5}{x} : \left(\frac{2x}{x+3} + \frac{2}{x-2} - \frac{21-3x}{(x+3)(x-2)} \right) = \\
 & = \frac{(2x-5)}{x} : \frac{(2x(x-2) + 2(x+3) - (21-3x))}{(x+3)(x-2)} =
 \end{aligned}$$

$$\begin{aligned}
 &= \frac{2x-5}{x} \cdot \frac{2x^2+x-15}{(x+3)(x-2)} = \\
 &= \frac{2x-5}{x} \cdot \frac{(x+3)(x-2)}{(2x-5)(x+3)} = \frac{x-2}{x}.
 \end{aligned}$$

Ответ: $\frac{x-2}{x}$.

$$\begin{aligned}
 92. & \left(\frac{1}{a+2} + \frac{5}{(a+2)(a-3)} + \frac{2a}{a-3} \right) \cdot \frac{a}{2a+1} = \\
 &= \frac{a-3+5+2a^2+4a}{(a+2)(a-3)} \cdot \frac{a}{2a+1} = \frac{2a^2+5a+2}{(a+2)(a-3)} \cdot \frac{a}{2a+1} = \\
 &= \frac{(2a+1)(a+2)}{(a+2)(a-3)} \cdot \frac{a}{(2a+1)} = \frac{a}{a-3}.
 \end{aligned}$$

Ответ: $\frac{a}{a-3}$.

$$\begin{aligned}
 93. & \left(\frac{2}{b+1} + \frac{10}{(b+1)(b-4)} + \frac{3b}{b-4} \right) : \frac{3b+2}{3} = \\
 &= \frac{2b-8+10+3b^2+3b}{(b-4)(b+1)} \cdot \frac{3}{3b+2} = \frac{3b^2+5b+2}{(b-4)(b+1)} \cdot \frac{3}{3b+2} = \\
 &= \frac{(3b+2)(b+1)}{(b-4)(b+1)} \cdot \frac{3}{3b+2} = \frac{3}{b-4}.
 \end{aligned}$$

Ответ: $\frac{3}{b-4}$.

$$\begin{aligned}
 94. & \left(\frac{m^2+3m}{m^2+3m+2} - \frac{m^2-2m}{m^2-2m-3} \right) : \frac{1}{m^2-m-6} - \frac{5}{m+1} = \\
 &= \left(\frac{m(m+3)}{(m+1)(m+2)} - \frac{m(m-2)}{(m-3)(m+1)} \right) \cdot (m-3)(m+2) - \frac{5}{m+1} = \\
 &= \frac{m(m+3)(m-3)(m+2)}{(m+1)(m+2)} - \frac{m(m-2)(m-3)(m+2)}{(m-3)(m+1)} - \frac{5}{m+1} = \\
 &= \frac{m^3-9m-m^3+4m}{m+1} - \frac{5}{m+1} = -\frac{5m}{m+1} - \frac{5}{m+1} = -5.
 \end{aligned}$$

Ответ: -5 .

$$\begin{aligned}
 95. & \left(\frac{m(m+3)}{(m-1)(m+4)} - \frac{m(m-4)}{(m-1)(m-3)} \right) \cdot \frac{(m-3)(m+4)}{m} = \\
 & = \frac{m(m+3)(m-3)(m+4)}{(m-1)(m+4) \cdot m} - \frac{m(m-4)(m-3)(m+4)}{(m-1)(m-3) \cdot m} = \\
 & = \frac{m^2-9}{m-1} - \frac{m^2-16}{m-1} = \frac{7}{m-1}.
 \end{aligned}$$

Ответ: $\frac{7}{m-1}$.

$$97. \frac{3x^2 + 7x - 6}{x^2 - 9} = \frac{3\left(x - \frac{2}{3}\right)(x+3)}{(x-3)(x+3)} = \frac{3x-2}{x-3}.$$

Ответ: $\frac{3x-2}{x-3}$.

$$\begin{aligned}
 98. & \frac{1}{xy} \cdot (x^3y - 2xy^3 - x^2y^2) = \frac{1}{xy} \cdot xy(x^2 - xy - 2y^2) = x^2 - xy - 2y^2 = \\
 & = x^2 - 2xy + xy - 2y^2 = x(x-2y) + y(x-2y) = (x+y)(x-2y).
 \end{aligned}$$

Ответ: $(x+y)(x-2y)$.

100. Так как $(2x^2 + 3y + x + 5)^2 \geq 0$ и $(y + 3 - 2x)^2 \geq 0$, то наименьшее значение выражения $(2x + 3y + x + 5) + (y + 3 - 2x)^2$ будет равно нулю тогда и только тогда, когда

$$\begin{cases} 2x^2 + 3y + x + 5 = 0, \\ y + 3 - 2x = 0. \end{cases} \quad \text{Тогда}$$

$$\begin{cases} 2x^2 + 3y + x + 5 = 0, \\ y = 2x - 3; \end{cases} \quad \Leftrightarrow 2x^2 + 3(2x-3) + x + 5 = 0 \Leftrightarrow 2x^2 + 7x - 4 = 0.$$

$$x_1 = \frac{1}{2} = 0,5; \quad x_2 = -4. \quad y_1 = -2; \quad y_2 = -11.$$

Ответ: $0; x_1 = 0,5; y_1 = -2; x_2 = -4; y_2 = -11$.

101. При любых значениях x и y $(7x - 3y + 11)^2 + (2x + 6y - 14)^2 \geq 0$. Значит, наименьшее значение выражения $(7x - 3y + 11)^2 + (2x + 6y - 14)^2 - 5$ равно -5 . Оно достигается только в том случае, когда $7x - 3y + 11$ и $2x + 6y - 14$ равны нулю одновременно.

Составим и решим систему уравнений:

$$\begin{cases} 7x - 3y + 11 = 0, \\ 2x + 6y - 14 = 0; \end{cases} \quad \Leftrightarrow x = -0,5, \quad y = 2,5.$$

Таким образом, наименьшее значение выражения равно -5 , оно достигается при $x = -0,5$ и $y = 2,5$.

Ответ: -5 ; $x = -0,5$, $y = 2,5$.

102. Так как $(17 - 4x - 5y)^2 \geq 0$ и $(3x - y - 4,2)^2 \geq 0$, то наименьшее значение выражения $(17 - 4x - 5y)^2 + (3x - y - 4,2)^2 + 3$ будет равно 3 тогда и только тогда, когда $\begin{cases} 17 - 4x - 5y = 0, \\ 3x - y - 4,2 = 0. \end{cases}$ Надо найти x и y , удовлетворяющие системе $\begin{cases} 4x + 5y = 17, \\ 3x - y = 4,2. \end{cases}$

Умножим второе уравнение этой системы на 5 и прибавим к первому. Получим $19x = 38$; $x = 2$.

Из второго уравнения системы $y = 3x - 4,2 = 3 \cdot 2 - 4,2 = 1,8$.

Ответ: 3; $x = 2$; $y = 1,8$.

103. Так как каждое слагаемое суммы — неотрицательное число, то сумма равна нулю только в том случае, когда $3x - 5y - 1$ и $x + 4y - 6$ равны нулю одновременно.

Составим и решим систему уравнений:

$$\begin{cases} 3x - 5y - 1 = 0, \\ x + 4y - 6 = 0; \end{cases} \Leftrightarrow x = 2, y = 1.$$

Пара чисел $(2; 1)$ — единственная, удовлетворяющая равенству $\sqrt{3x - 5y - 1} + \sqrt{x + 4y - 6} = 0$.

Ответ: $(2; 1)$.

104. Запишем условие задачи в виде равенства

$$2 + \sqrt{2a - 3b - 1} = \sqrt{4 - (a - 2b)^2}.$$

Поскольку $\sqrt{2a - 3b - 1} \geq 0$ и $(a - 2b)^2 \geq 0$, то левая часть этого равенства не меньше двух, а правая — не больше 2. Равенство верно, когда обе его части равны 2, то есть при $\begin{cases} 2a - 3b - 1 = 0, \\ a = 2b; \end{cases} \Leftrightarrow b = 1, a = 2$.

Ответ: $(2; 1)$.

$$106. \frac{3}{x^2 + 4x - 5} - \frac{5}{x^2 - 8x + 7} = \frac{2}{x - 1},$$

$$\frac{3}{(x - 1)(x + 5)} - \frac{5}{(x - 1)(x - 7)} = \frac{2}{x - 1}.$$

ОДЗ: $x \neq 1$; $x \neq -5$; $x \neq 7$.

$3x - 21 - 5x - 25 = 2x^2 - 4x - 70$; $2x^2 - 2x - 24 = 0$; $x^2 - x - 12 = 0$;
 $x_1 = -3$, $x_2 = 4$. Оба корня удовлетворяют ОДЗ.

Ответ: $-3; 4$.

$$107. \frac{3}{x^2 + x - 6} - \frac{2}{2x^2 - 5x + 2} - \frac{x}{2x^2 + 5x - 3} = 0.$$

Разложив знаменатели дробей на множители, запишем уравнение в виде

$$\frac{3}{(x+3)(x-2)} - \frac{2}{2(x-2)\left(x-\frac{1}{2}\right)} - \frac{x}{2\left(x-\frac{1}{2}\right)(x+3)} = 0,$$

$$\frac{6\left(x-\frac{1}{2}\right) - 2(x+3) - x(x-2)}{2(x+3)(x-2)\left(x-\frac{1}{2}\right)} = 0; \quad x+3 \neq 0; \quad x-2 \neq 0; \quad x-\frac{1}{2} \neq 0.$$

Умножив обе части уравнения на $2(x+3)(x-2)\left(x-\frac{1}{2}\right)$, получим

$$-x^2 + 6x - 9 = 0; \quad x^2 - 6x + 9 = 0; \quad (x-3)^2 = 0; \quad x = 3.$$

При $x = 3$ знаменатели дробей, входящих в исходное уравнение, не равны нулю, поэтому $x = 3$ — корень данного уравнения.

Ответ: 3.

$$108. \text{ Запишем уравнение в виде } \frac{x}{2+3x} + \frac{5}{2-3x} = \frac{15x+10}{(2-3x)(2+3x)}.$$

$$\text{ОДЗ: } 2-3x \neq 0; \quad 2+3x \neq 0, \text{ то есть } x \neq \pm \frac{2}{3}.$$

Умножим обе части уравнения на $(2-3x)(2+3x) \neq 0$:

$$x(2-3x) + 5(2+3x) = 15x+10; \quad 2x-3x^2+10+15x = 15x+10;$$

$$3x^2-2x=0; \quad x(3x-2)=0; \quad x_1=0, \quad x_2=\frac{2}{3}.$$

Так как $x \neq \pm \frac{2}{3}$, то $x = \frac{2}{3}$ — посторонний корень. Следовательно, исходное уравнение имеет единственный корень $x = 0$.

Ответ: 0.

$$110. 2x^4 + 3x^3 - 8x^2 - 12x = 0; \quad x(2x^3 + 3x^2 - 8x - 12) = 0; \quad x_1 = 0; \\ 2x^3 + 3x^2 - 8x - 12 = 0; \quad x^2(2x+3) - 4(2x+3) = 0; \quad (x^2-4)(2x+3) = 0; \\ x^2-4 = 0; \quad x_2 = 2, \quad x_3 = -2; \quad 2x+3 = 0; \quad 2x = -3; \quad x_4 = -1,5.$$

Ответ: 0; 2; -2; -1,5.

$$111. 10x^4 - 45x = 30x^2 - 15x^3; \quad 10x^4 + 15x^3 - 30x^2 - 45x = 0; \\ 5x^3(2x+3) - 15x(2x+3) = 0; \quad (2x+3)(5x^2-15x) = 0; \quad 2x+3 = 0; \\ x_1 = -1,5;$$

$$5x^3 - 15x = 0; \quad 5x(x^2 - 3) = 0; \quad x_2 = 0; \quad x^2 - 3 = 0; \quad x^2 = 3; \quad x_3 = -\sqrt{3}, \\ x_4 = \sqrt{3}.$$

Ответ: $-1,5; 0; -\sqrt{3}; \sqrt{3}$.

$$112. (x^2 + 3)^2 + 3 = 7x^3 - 7x^2 + 7x; \quad x^4 + 6x^2 + 9 + 3 - 7x^3 + 7x^2 - 7x = 0; \\ x^4 - 7x^3 + 13x^2 - 7x + 12 = 0; \quad (x^4 - 7x^3 + 12x^2) + (x^2 - 7x + 12) = 0; \\ x^2(x^2 - 7x + 12) + (x^2 - 7x + 12) = 0; \quad (x^2 + 1)(x^2 - 7x + 12) = 0, \\ x^2 + 1 > 0; \quad x^2 - 7x + 12 = 0.$$

По теореме, обратной теореме Виета, $x_1 = 3, x_2 = 4$.

Ответ: $3; 4$.

$$113. 5x^3 + 3x^2 - 5x - 3 = 0; \quad (5x^3 + 3x^2) - (5x + 3) = 0; \\ x^2(5x + 3) - (5x + 3) = 0; \quad (5x + 3)(x^2 - 1) = 0; \quad 5x + 3 = 0; \quad x_1 = -0,6; \\ x^2 - 1 = 0; \quad (x - 1)(x + 1) = 0; \quad x_2 = 1, \quad x_3 = -1.$$

Ответ: $-0,6; 1; -1$.

$$114. x^4 + 2x^3 + 2x^2 + 2x + 1 = 0; \quad (x^4 + 2x^3 + x^2) + (x^2 + 2x + 1) = 0; \\ x^2(x^2 + 2x + 1) + (x^2 + 2x + 1) = 0; \quad (x^2 + 1)(x + 1)^2 = 0, \quad x^2 + 1 > 0; \\ (x + 1)^2 = 0; \quad x + 1 = 0; \quad x = -1.$$

Ответ: -1 .

$$115. x^4 + 3x^3 + 3x^2 + 3x + 2 = 0; \\ (x^4 + 2x^3 + x^2) + (x^3 + 2x^2 + x) + (2x + 2) = 0; \\ x^2(x^2 + 2x + 1) + x(x^2 + 2x + 1) + 2(x + 1) = 0; \\ x^2(x + 1)^2 + x(x + 1)^2 + 2(x + 1) = 0; \quad (x + 1)(x^2(x + 1) + x(x + 1) + 2) = 0; \\ x + 1 = 0, \quad x_1 = -1; \\ x^3 + x^2 + x^2 + x + 2 = 0; \quad (x^3 + 2x^2) + (x + 2) = 0; \quad x^2(x + 2) + (x + 2) = 0; \\ (x + 2)(x^2 + 1) = 0, \quad x^2 + 1 > 0; \quad x + 2 = 0; \quad x_2 = -2.$$

Ответ: $-1; -2$.

$$116. x^6 - 2x^4 + 4x^2 - 8 = 0.$$

Замена $x^2 = t; t \geq 0$. Получим

$$t^3 - 2t^2 + 4t - 8 = 0; \quad t(t^2 + 4) - 2(t^2 + 4) = 0; \quad (t^2 + 4)(t - 2) = 0.$$

$t^2 + 4 = 0$ — действительных корней нет; $t - 2 = 0; t = 2$.

Вернёмся к замене: $x^2 = 2, x_{1,2} = \pm\sqrt{2}$.

Ответ: $\pm\sqrt{2}$.

$$117. x^6 - 14x^4 + 56x^2 - 64 = 0. \text{ Замена } x^2 = t, t \geq 0.$$

$$t^3 - 14t^2 + 56t - 64 = 0,$$

$$t^3 - 64 - 14t \cdot (t - 4) = 0, \quad (t - 4) \cdot (t^2 + 4t + 16) - 14t \cdot (t - 4) = 0,$$

$$(t - 4) \cdot (t^2 + 4t + 16 - 14t) = 0, \quad (t - 4) \cdot (t^2 - 10t + 16) = 0,$$

$$(t - 4) \cdot (t - 8) \cdot (t - 2) = 0, \quad t_1 = 4, \quad t_2 = 8, \quad t_3 = 2.$$

Вернёмся к замене:

$$x^2 = 4, x_{1,2} = \pm 2; x^2 = 8, x_{3,4} = \pm 2\sqrt{2}; x^2 = 2, x_{5,6} = \pm\sqrt{2}.$$

Ответ: $\pm\sqrt{2}; \pm 2; \pm 2\sqrt{2}$.

118. $(x^2 + 8x + 17)(x^2 - 4x + 7) = 3$. Рассмотрим

а) $y = x^2 + 8x + 17; x^2 + 8x + 17 = 0; D = 64 - 68 = -4; -4 < 0$.

$$x_0 = -\frac{8}{2} = -4; y_0 = 16 - 32 + 17 = 1; E(y) = [1; +\infty).$$

б) $y = x^2 - 4x + 7; x^2 - 4x + 7 = 0; D = 16 - 28 = -12; -12 < 0$.

$$x_0 = \frac{4}{2} = 2; y_0 = 4 - 8 + 7 = 3; E(y) = [3; +\infty).$$

в) Запишем $x^2 + 8x + 17 = \frac{3}{x^2 - 4x + 7}; E(x^2 + 8x + 17) = [1; +\infty),$

$$E\left(\frac{3}{x^2 - 4x + 7}\right) = (0; 1].$$

Общее значение только 1, но левая часть равна 1 при $x = -4$, а правая — при $x = 2$, то есть корней уравнение не имеет, следовательно, исходное уравнение корней не имеет, что и требовалось доказать.

119. $(x^2 - 6x + 10)(x^2 - 10x + 32) = 7$.

а) Рассмотрим $y = x^2 - 6x + 10; x^2 - 6x + 10 = 0; D = 36 - 40 = -4; -4 < 0; x_0 = 3; y_0 = 9 - 18 + 10 = 1; E(y) = [1; +\infty)$.

б) $y = x^2 - 10x + 32; x^2 - 10x + 32 = 0; D = 100 - 128 = -28; -28 < 0; x_0 = 5; y_0 = 25 - 50 + 32 = 7; E(y) = [7; +\infty)$.

в) Запишем в виде $x^2 - 6x + 10 = \frac{7}{x^2 - 10x + 32};$

$$E(x^2 - 6x + 10) = [1; +\infty); E\left(\frac{7}{x^2 - 10x + 32}\right) = (0; 1].$$

Общее значение только 1, но левая часть равна 1 при $x = 3$, а правая — при $x = 5$. Следовательно, корней нет, что и требовалось доказать.

120. Преобразуем уравнение $\frac{3}{(x-1)^2} + \frac{2}{(1-x)(1+x)} = \frac{1}{x+1}$.

ОДЗ: $x \neq \pm 1$. Умножив обе части уравнения на $(x-1)^2(x+1)$, получим $3(x+1) - 2(x-1) = x^2 - 2x + 1; x^2 - 3x - 4 = 0; x_1 = -1, x_2 = 4$. Число $x_1 = -1$ не принадлежит ОДЗ, поэтому решением не является.

Ответ: 4.

121. Преобразуем уравнение к виду $\frac{4}{(x+3)^2} - \frac{6}{(3-x)(3+x)} = \frac{1}{x-3}$.

ОДЗ: $x \neq \pm 3$. Умножив обе части уравнения на $(x+3)^2(x-3)$, получим $4(x-3) + 6(x+3) = x^2 + 6x + 9$; $x^2 - 4x + 3 = 0$; $x_1 = 1$, $x_2 = 3$. Число $x_2 = 3$ не принадлежит ОДЗ, поэтому решением не является.

Ответ: 1.

122. Уравнение прямой, данной в условии задачи, можно записать в виде $y = 2x - 5$. Точка $(x; y)$ является точкой пересечения данных в условии прямой и параболы тогда и только тогда, когда $\frac{1}{3}x^2 - 2x + 4 = 2x - 5$.

Решим последнее уравнение, умножив обе его части на 3 и применив теорему Виета: $x^2 - 6x + 12 = 6x - 15$; $x^2 - 12x + 27 = 0$; $x_1 = 3$, $x_2 = 9$. Подставляя найденные значения абсцисс точек пересечения в уравнение прямой $y = 2x - 5$, находим ординаты точек пересечения: $y_1 = 1$, $y_2 = 13$.

Ответ: (3; 1), (9; 13).

123. Уравнение прямой, данной в условии задачи, можно записать в виде $y = -\frac{3}{2}x + \frac{1}{2}$. Точка $(x; y)$ является точкой пересечения данных в условии

прямой и параболы тогда и только тогда, когда $\frac{1}{2}x^2 - \frac{5}{2}x - 7 = -\frac{3}{2}x + \frac{1}{2}$.

Решим последнее уравнение, умножив обе его части на 2 и применив теорему Виета: $x^2 - 5x - 14 = -3x + 1$; $x^2 - 2x - 15 = 0$; $x_1 = -3$, $x_2 = 5$. Подставляя найденные значения абсцисс точек пересечения в уравнение прямой $y = -\frac{3}{2}x + \frac{1}{2}$, находим ординаты точек пересечения: $y_1 = 5$, $y_2 = -7$.

Ответ: (-3; 5), (5; -7).

124. Легко видеть, что число 0 не входит в область определения уравнения. Умножив обе части уравнения на x^2 , получим уравнение, равносильное данному, при условии $x^2 \neq 0$: $x^4 + 2 = 3x^2$. Обозначив $t = x^2$, получаем уравнение $t^2 - 3t + 2 = 0$, корнями которого являются $t_1 = 1$, $t_2 = 2$. Таким образом, исходное уравнение равносильно совокупности

$$\begin{cases} x^2 = 1, \\ x^2 = 2; \end{cases} \Leftrightarrow \begin{cases} x = \pm 1, \\ x = \pm\sqrt{2} \end{cases}$$

и его целыми корнями являются $x_1 = -1$ и $x_2 = 1$.

Ответ: -1; 1.

125. Уравнение параболы с вершиной в точке (3; 3) и старшим коэффициентом 1 может быть записано в виде $y = (x-3)^2 + 3 = x^2 - 6x + 12$.

Чтобы найти абсциссы точек пересечения этой параболы с прямой $y = 2x$, решим уравнение $x^2 - 6x + 12 = 2x$; $x^2 - 8x + 12 = 0$; $x_1 = 2$, $x_2 = 6$. Подставляя полученные значения абсцисс точек пересечения в уравнение прямой $y = 2x$, находим ординаты точек пересечения: $y_1 = 4$, $y_2 = 12$.

Ответ: (2; 4), (6; 12).

126. Так как выражение $x^2 + 2$ не обращается в нуль, то, домножив на него обе части исходного уравнения, получим уравнение, равносильное данному: $x^2 - 10 + (x^2 - 2)(x^2 + 2) = x^2 + 2$; $x^4 - 4 = 12$; $x^4 - 16 = 0$; $(x^2 - 4)(x^2 + 4) = 0$; $(x + 2)(x - 2)(x^2 + 4) = 0$; $x^2 + 4 > 0$, $x = \pm 2$.

Ответ: -2; 2.

127. Чтобы найти точки пересечения прямой и окружности, нужно решить систему $\begin{cases} y - x - 3 = 0, \\ x^2 + y^2 = 9; \end{cases} \Leftrightarrow \begin{cases} y = x + 3, \\ x^2 + y^2 = 9. \end{cases}$

Подставив $y = x + 3$ во второе уравнение, получаем $x^2 + (x + 3)^2 = 9$, $2x^2 + 6x + 9 = 9$, $2x^2 + 6x = 0$, $x(x + 3) = 0$. То есть абсциссы точек пересечения равны $x_1 = -3$, $x_2 = 0$, а ординаты равны $y_1 = -3 + 3 = 0$, $y_2 = 0 + 3 = 3$.

Ответ: (-3; 0), (0; 3).

128. Преобразуем исходное уравнение: $(x - 3)^4 + 2(x - 3)^2 = 3$. Пусть $(x - 3)^2 = t \geq 0$, тогда получим квадратное уравнение $t^2 + 2t - 3 = 0$, $t_1 = -3$ — посторонний корень, $t_2 = 1$. Таким образом, исходное уравнение равносильно уравнению $(x - 3)^2 = 1 \Leftrightarrow \begin{cases} x - 3 = -1, \\ x - 3 = 1, \end{cases} \quad x_1 = 2, x_2 = 4.$

Ответ: 2; 4.

129. Заметим, что $x^2 + 4x + 4 = (x + 2)^2$. Пусть $(x + 2)^2 = t \geq 0$, тогда имеем $t^2 + 3t - 4 = 0$, $t_1 = -4$ — посторонний корень, $t_2 = 1$. Таким образом, исходное уравнение равносильно уравнению $(x + 2)^2 = 1 \Leftrightarrow \begin{cases} x + 2 = -1, \\ x + 2 = 1, \end{cases} \quad x_1 = -3, x_2 = -1.$

Ответ: -3; -1.

130. Сделаем замену $\frac{(x^2 - 5)^2}{4} = t$; $t \geq 0$. Тогда $(t - 3)(t + 2) - 6 = 0$, $t^2 - t - 12 = 0$. Решение этого уравнения: $t_1 = 4$; $t_2 = -3$. Второе значение $t = -3$ не подходит, так как $t \geq 0$. Поэтому $t = 4$. Возвращаясь к неизвестной x , имеем $\frac{(x^2 - 5)^2}{4} = 4$; $(x^2 - 5)^2 = 16$. Отсюда $x^2 - 5 = 4$

или $x^2 - 5 = -4$. Решим первое уравнение: $x^2 = 9$, $x_{1,2} = \pm 3$. Решим второе уравнение: $x^2 = 1$, $x_{3,4} = \pm 1$.

Ответ: $\pm 1; \pm 3$.

131. Пусть $\frac{(x^2 - 1)^2}{3} = t, t \geq 0$. Тогда $\left(t - \frac{21}{8}\right)(t + 5) - 3 = 0$;

$8t^2 + 19t - 129 = 0$. Решая это уравнение, получим $t_1 = -\frac{43}{8}, t_2 = 3$.

Значение $t = -\frac{43}{8}$ не подходит, так как $t \geq 0$. Подставим значение $t = 3$ в

равенство $\frac{(x^2 - 1)^2}{3} = t$. Получим $\frac{(x^2 - 1)^2}{3} = 3, (x^2 - 1)^2 = 9$. Отсюда $x^2 - 1 = \pm 3$.

Значит, $x^2 = 4$ или $x^2 = -2$. Второе уравнение решений не имеет, а первое имеет два решения: $x_{1,2} = \pm 2$.

Ответ: ± 2 .

132. Второе уравнение системы равносильно уравнению $(x - y)(x + y) = 0$. Поэтому исходная система уравнений равносильна двум системам уравнений:

$$1) \begin{cases} x^2 + x - 2y + 2 = 0, \\ x = y; \end{cases} \Rightarrow x^2 + x - 2x + 2 = 0 \Rightarrow x^2 - x + 2 = 0, D < 0$$

\Rightarrow действительных корней нет \Rightarrow система не имеет решений;

$$2) \begin{cases} x^2 + x - 2y + 2 = 0, \\ y = -x; \end{cases} \Rightarrow x^2 + 3x + 2 = 0; x_1 = -1, x_2 = -2.$$

Из второго уравнения системы получим $y_1 = 1, y_2 = 2$.

$(-1; 1)$ и $(-2; 2)$ — решения исходной системы.

Ответ: $(-1; 1), (-2; 2)$.

133. Второе уравнение системы равносильно уравнению $(2x - y)(2x + y) = 0$. Поэтому исходная система уравнений равносильна двум системам уравнений:

$$1) \begin{cases} x^2 - 4x + y + 8 = 0, \\ 2x - y = 0; \end{cases} \Rightarrow x^2 - 4x + 2x + 8 = 0; x^2 - 2x + 8 = 0. D < 0,$$

действительных корней нет \Rightarrow система не имеет решений;

$$2) \begin{cases} x^2 - 4x + y + 8 = 0, \\ 2x + y = 0; \end{cases} \Rightarrow x^2 - 4x - 2x + 8 = 0; x^2 - 6x + 8 = 0; x_1 = 2,$$

$x_2 = 4$. Из второго уравнения системы получим $y_1 = -4, y_2 = -8$. Таким образом, $(2; -4)$ и $(4; -8)$ — решения исходной системы.

Ответ: $(2; -4), (4; -8)$.

134. Запишем уравнение в виде $x^2 + 2(2\sqrt{2} - 1)x + 2 + \sqrt{2} = 0$. Это квадратное уравнение. Его дискриминант $D = 4(2\sqrt{2} - 1)^2 - 4(2 + \sqrt{2}) = 4(7 - 5\sqrt{2})$. Так как $49 < 50$, то $7 < 5\sqrt{2}$. Поэтому $D = 4(7 - 5\sqrt{2}) < 0$ и уравнение не имеет действительных корней.

Ответ: нет корней.

135. Представим данное уравнение в виде $x^2 + 2(1 - 2\sqrt{3})x + 7 = 0$. Определим знак дискриминанта:

$\frac{D}{4} = (1 - 2\sqrt{3})^2 - 7 = 1 - 4\sqrt{3} + 12 - 7 = 6 - 4\sqrt{3} = \sqrt{36} - \sqrt{48} < 0$, то $D < 0$. Уравнение $4x\sqrt{3} - x^2 = 7 + 2x$ не имеет действительных корней.

Ответ: не имеет.

136. Запишем уравнение в виде $x^2 + (3 + 2\sqrt{2})x + 8,4 = 0$. Это квадратное уравнение. Его дискриминант $D = (3 + 2\sqrt{2})^2 - 4 \cdot 8,4 = 17 + 12\sqrt{2} - 33,6 = 12\sqrt{2} - 16,6$. Так как $144 \cdot 2 > (16,6)^2 \Leftrightarrow 12\sqrt{2} > 16,6 \Leftrightarrow D = 12\sqrt{2} - 16,6 > 0$, то исходное уравнение имеет действительные корни.

Ответ: корни есть.

138. 1) Это приведённое квадратное уравнение. По теореме Виета $x_1 + x_2 = \sqrt{2} + 1 \approx 2,4$ (поскольку $\sqrt{2} \approx 1,4$).

2) Это приведённое квадратное уравнение. По теореме Виета $x_1 + x_2 = 2\sqrt{2} \approx 2,8$.

3) Запишем наше уравнение в виде $x^2 - \sqrt{2}x - \frac{\sqrt{2}}{2} = 0$. Это приведённое квадратное уравнение. По теореме Виета $x_1 + x_2 = \sqrt{2} \approx 1,4$.

Наименьшую сумму корней имеет третье уравнение.

Ответ: 3.

$$139. \begin{cases} x^2 - y^2 = -5, \\ 2x + y = 1. \end{cases}$$

Решим систему способом подстановки:

$$y = 1 - 2x, x^2 - (1 - 2x)^2 = -5, x^2 - 1 + 4x - 4x^2 + 5 = 0, -3x^2 + 4x + 4 = 0.$$

$$\frac{D}{4} = 4 + 12 = 16, D > 0.$$

$$x_1 = \frac{-2+4}{-3} = -\frac{2}{3}, y_1 = 1 + \frac{4}{3} = \frac{7}{3}; x_2 = \frac{-2-4}{-3} = 2, y_2 = 1 - 4 = -3.$$

Ответ: $(2; -3), \left(-\frac{2}{3}; \frac{7}{3}\right)$.

$$140. \begin{cases} x^2 + y^2 = 29, \\ 3x - 7y = -29. \end{cases}$$

Выразим из второго уравнения системы x через y и подставим в первое уравнение:

$$x = \frac{7y - 29}{3}; \frac{49y^2 - 406y + 841 + 9y^2}{9} = 29; 58y^2 - 406y + 841 = 29 \cdot 9;$$

$$2y^2 - 14y + 29 - 9 = 0; y^2 - 7y + 10 = 0; y_1 = 5, y_2 = 2; x_1 = \frac{35 - 29}{3} =$$

$$= \frac{6}{3} = 2, x_2 = \frac{14 - 29}{3} = -\frac{15}{3} = -5.$$

Ответ: $(-5; 2), (2; 5)$.

$$142. \begin{cases} x^2 - y^2 = 3, \\ xy = 2. \end{cases}$$

Заметим, что если $x = 0$ или $y = 0$, то $xy = 0$, что противоречит условию $xy = 2$, значит, $x \neq 0, y \neq 0$.

$$\begin{cases} x^2 - y^2 = 3, \\ y = \frac{2}{x}; \end{cases} \Leftrightarrow \begin{cases} x^2 - \left(\frac{2}{x}\right)^2 = 3, \\ y = \frac{2}{x}; \end{cases} \Leftrightarrow \begin{cases} x^2 - \frac{4}{x^2} = 3, \\ y = \frac{2}{x}. \end{cases}$$

Решим первое уравнение системы $x^2 - \frac{4}{x^2} = 3$.

Обозначим $x^2 = t, t > 0$. Уравнение примет вид

$t - \frac{4}{t} = 3; t^2 - 3t - 4 = 0; t_1 = 4, t_2 = -1$. Значение $t = -1$ не удовлетворяет условию $t > 0$.

Вернёмся к исходной переменной: $x^2 = 4; x_1 = 2; x_2 = -2$.

Так как $y = \frac{2}{x}$, то $y_1 = 1, y_2 = -1$.

Ответ: $(2; 1), (-2; -1)$.

$$143. \begin{cases} \frac{1}{x} + \frac{1}{y} = 3, \\ \frac{1}{x^2} - \frac{1}{y^2} = 6; \end{cases} \Leftrightarrow \begin{cases} \frac{1}{x} + \frac{1}{y} = 3, \\ \left(\frac{1}{x} + \frac{1}{y}\right) \cdot \left(\frac{1}{x} - \frac{1}{y}\right) = 6; \end{cases} \Leftrightarrow \\ \Leftrightarrow \begin{cases} \frac{1}{x} + \frac{1}{y} = 3, \\ \frac{1}{x} - \frac{1}{y} = 2; \end{cases} \Leftrightarrow \Leftrightarrow \begin{cases} \frac{2}{x} = 5, \\ \frac{1}{y} = \frac{1}{x} - 2; \end{cases} \Leftrightarrow \begin{cases} x = \frac{2}{5}, \\ \frac{1}{y} = \frac{1}{2}. \end{cases}$$

Следовательно, $x = \frac{2}{5}, y = 2$.

Ответ: (0,4; 2).

144. Выразим из второго уравнения системы $y = x - 2$ и подставим в первое, получим уравнение

$$\frac{x+3}{x} - \frac{x+2}{x-1} = \frac{25}{2}.$$

Его ОДЗ: $x \neq 0$ и $x - 1 \neq 0$, то есть $x \neq 0, x \neq 1$. Умножив обе части полученного уравнения на $2x(x-1)$, будем иметь

$$2(x+3)(x-1) - 2x(x+2) = 25x(x-1), \\ 2x^2 + 4x - 6 - 2x^2 - 4x = 25x^2 - 25x, 25x^2 - 25x + 6 = 0,$$

$$x_{1,2} = \frac{25 \pm \sqrt{625 - 600}}{50} = \frac{25 \pm 5}{50}, x_1 = \frac{2}{5} = 0,4, x_2 = \frac{3}{5} = 0,6.$$

Найденные корни удовлетворяют ОДЗ.

Далее находим $y_1 = x_1 - 2 = -1,6$ и $y_2 = x_2 - 2 = -1,4$. Таким образом, решением исходной системы будут две пары чисел (0,4; -1,6) и (0,6; -1,4).

Ответ: (0,4; -1,6), (0,6; -1,4).

$$145. \begin{cases} y^2 - x^2 = 9, \\ 2x - y = 3; \end{cases} \Leftrightarrow \begin{cases} y^2 - x^2 = 9, \\ y = 2x - 3; \end{cases} \Leftrightarrow \begin{cases} (2x - 3)^2 - x^2 = 9, \\ y = 2x - 3; \end{cases} \Leftrightarrow \\ \Leftrightarrow \begin{cases} 4x^2 - 12x + 9 - x^2 - 9 = 0, \\ y = 2x - 3; \end{cases} \Leftrightarrow \begin{cases} 3x^2 - 12x = 0, \\ y = 2x - 3; \end{cases} \Leftrightarrow \\ \Leftrightarrow \begin{cases} 3x \cdot (x - 4) = 0, \\ y = 2x - 3; \end{cases} \Leftrightarrow \begin{cases} \begin{cases} x = 0, \\ x = 4, \\ y = 2x - 3; \end{cases} & x_1 = 0, y_1 = -3; x_2 = 4, y_2 = 5. \end{cases}$$

Ответ: (0; -3), (4; 5).

146. Сделаем замену в первом уравнении $t = \frac{x}{y}$ и получим $t + \frac{1}{t} = \frac{25}{12}$.

Решаем это уравнение и находим корни $t_1 = \frac{3}{4}$; $t_2 = \frac{4}{3}$. Выражаем y через x , подставляем во второе уравнение и получаем ответ.

Ответ: (3; 4), (4; 3), (-3; -4), (-4; -3).

$$147. \begin{cases} x^2 - y = 0, \\ x + y - 6 = 0; \end{cases} \Leftrightarrow \begin{cases} y = x^2, \\ x^2 + x - 6 = 0; \end{cases} \Rightarrow x_1 = 2, y_1 = 4; x_2 = -3,$$

$y_2 = 9$.

Ответ: (2; 4), (-3; 9).

$$148. \begin{cases} x^2 - 6x + y = 2, \\ y - \sqrt{x-3} = 9; \end{cases} \Leftrightarrow \begin{cases} y = 2 + 6x - x^2, \\ y = 9 + \sqrt{x-3}; \end{cases}$$

$$2 + 6x - x^2 = 9 + \sqrt{x-3}, \quad 6x - x^2 = 7 + \sqrt{x-3}. \quad (1)$$

Очевидно, что $\begin{cases} x - 3 \geq 0, \\ 6x - x^2 > 0; \end{cases} \Leftrightarrow 3 \leq x < 6$. Подбором находим, что $x = 4$ является корнем уравнения (1).

Функция $y = 7 + \sqrt{x-3}$ возрастает при $x \geq 3$. $y = 6x - x^2$ — график параболы с вершиной (3; 9). При $x \geq 3$ $y = 6x - x^2$ убывает. Следовательно, на промежутке $3 \leq x < 6$ уравнение (1) имеет только один корень $x = 4$.

Подставим $x = 4$ во второе уравнение системы и найдём y : $y = 10$.

Ответ: (4; 10).

$$149. \text{ Пусть искомые числа } x \text{ и } y, \quad x < y. \text{ Тогда } \begin{cases} \sqrt{xy} = x + 12, \\ \frac{x+y}{2} = y - 24. \end{cases} \text{ Выразим } y \text{ из второго уравнения: } y = x + 48, \text{ и подставим его в первое. Получим}$$

$$\begin{cases} \sqrt{xy} = x + 12, \\ y - x = 48. \end{cases}$$

1) $\sqrt{x^2 + 48x} = x + 12$. Перейдём к равносильной системе.

$$\begin{cases} x + 12 \geq 0, \\ x^2 + 48x = x^2 + 24x + 144; \end{cases} \Leftrightarrow \begin{cases} x \geq -12, \\ x = 6; \end{cases} \quad x = 6.$$

2) Находим значение второй переменной системы $y = 6 + 48 = 54$.

$$\text{Итак, } \begin{cases} x = 6, \\ y = 54. \end{cases}$$

Ответ: 6; 54.

$$150. \begin{cases} 2x - \frac{12x + y}{8} = 3, \\ \frac{x - y}{2} + \frac{1}{16} = \frac{y}{3}; \end{cases} \Leftrightarrow \begin{cases} 2x - \frac{12x}{8} - \frac{y}{8} = 3, \\ \frac{x}{2} - \frac{y}{2} - \frac{y}{3} + \frac{1}{16} = 0; \end{cases} \Leftrightarrow$$

$$\Leftrightarrow \begin{cases} \frac{x}{2} = \frac{y}{8} + 3, \\ \frac{x}{2} - \frac{5y}{6} + \frac{1}{16} = 0. \end{cases}$$

Подставив значение $\frac{x}{2}$ из первого уравнения системы во второе, получим

$$\frac{y}{8} + 3 - \frac{5y}{6} + \frac{1}{16} = 0 \Leftrightarrow -\frac{17y}{24} + \frac{49}{16} = 0 \Leftrightarrow y = \frac{49}{16} \cdot \frac{24}{17} = \frac{147}{34}.$$

Найденное значение y подставим в первое уравнение системы

$$x = \frac{y}{4} + 6, x = \frac{147}{34 \cdot 4} + 6 = \frac{963}{136}.$$

$$\text{Ответ: } x = \frac{963}{136}, y = \frac{147}{34}.$$

$$151. \begin{cases} \frac{x + y}{5} + 2x = 11, \\ \frac{3y}{5} + \frac{y - x}{15} = \frac{x}{5}; \end{cases} \Leftrightarrow \begin{cases} \left(2 + \frac{1}{5}\right)x + \frac{y}{5} = 11, \\ \left(\frac{3}{5} + \frac{1}{15}\right)y - \left(\frac{1}{15} + \frac{1}{5}\right)x = 0; \end{cases} \Leftrightarrow$$

$$\Leftrightarrow \begin{cases} x = -\frac{y}{11} + 5, \\ y = \frac{2x}{5}. \end{cases}$$

Подставим значение y из второго уравнения системы в первое:

$$x = -\frac{2x}{55} + 5; x = \frac{275}{57}. \text{ Тогда } y = \frac{2x}{5} = \frac{110}{57}.$$

$$\text{Ответ: } x = \frac{275}{57}, y = \frac{110}{57}.$$

$$152. \begin{cases} \frac{x-2y}{3} + \frac{11}{3} = 2x, \\ 2 + \frac{y-x}{4} = \frac{y}{7}; \end{cases} \Leftrightarrow \begin{cases} \left(\frac{1}{3} - 2\right)x - \frac{2y}{3} = -\frac{11}{3}, \\ -\frac{1}{4}x + \left(\frac{1}{4} - \frac{1}{7}\right)y = -2; \end{cases} \Leftrightarrow$$

$$\Leftrightarrow \begin{cases} x = \frac{11-2y}{5}, \\ -\frac{1}{4}x + \frac{3y}{28} = -2. \end{cases}$$

Подставим полученное значение x из первого уравнения системы во второе:

$$\text{реш: } \frac{1}{4} \cdot \frac{2y-11}{5} + \frac{3y}{28} = -2 \Leftrightarrow -\frac{11}{20} + \frac{y}{10} + \frac{3y}{28} = -2 \Leftrightarrow \frac{29y}{140} = -2 + \frac{11}{20} \Rightarrow y = -7.$$

Так как $x = \frac{11-2y}{5}$, то $x = \frac{11+14}{5} = 5$.

Ответ: $x = 5, y = -7$.

$$153. \begin{cases} \frac{x+3y}{4} - \frac{15}{2} = -\frac{x}{2}, \\ \frac{5y}{2} + 3 = -\frac{x+y}{5}; \end{cases} \Leftrightarrow \begin{cases} \left(\frac{1}{4} + \frac{1}{2}\right)x + \frac{3y}{4} = \frac{15}{2}, \\ \frac{1}{5}x + \left(\frac{5}{2} + \frac{1}{5}\right)y = -3; \end{cases} \Leftrightarrow$$

$$\Leftrightarrow \begin{cases} \frac{3}{4}x = \frac{15}{2} - \frac{3}{4}y, \\ x + \frac{27}{2}y = -15; \end{cases} \Leftrightarrow \begin{cases} x = 10 - y, \\ 10 - y + \frac{27}{2}y = -15; \end{cases} \Leftrightarrow \begin{cases} x = 12, \\ y = -2. \end{cases}$$

Ответ: $x = 12, y = -2$.

154. 1. ОДЗ: $x \neq 0$ и $y \neq 0$.

2. Преобразуем систему уравнений:

$$\begin{cases} \frac{x+y}{xy} = 7, \\ x+y+5xy = 1; \end{cases} \Leftrightarrow \begin{cases} x+y = 7xy, \\ 12xy = 1; \end{cases} \Leftrightarrow$$

$$\Leftrightarrow \begin{cases} x+y = \frac{7}{12}, \\ xy = \frac{1}{12}; \end{cases} \Leftrightarrow \begin{cases} y = \frac{7}{12} - x, \\ 12x^2 - 7x + 1 = 0; \end{cases} \Leftrightarrow \begin{cases} y = \frac{7}{12} - x, \\ \begin{cases} x = \frac{1}{4}, \\ x = \frac{1}{3}; \end{cases} \end{cases} \Leftrightarrow$$

$$\Leftrightarrow \begin{cases} \begin{cases} y = \frac{1}{3}, \\ x = \frac{1}{4}, \end{cases} \\ \begin{cases} y = \frac{1}{4}, \\ x = \frac{1}{3}. \end{cases} \end{cases}$$

Ответ: $(\frac{1}{3}; \frac{1}{4}), (\frac{1}{4}; \frac{1}{3})$.

155. 1. ОДЗ: $x \neq 0$ и $y \neq 0$.

2. Преобразуем систему уравнений: $\begin{cases} \frac{x+y}{xy} = 6, \\ x+y+10xy = 2; \end{cases} \Leftrightarrow$

$$\Leftrightarrow \begin{cases} x+y = 6xy, \\ 16xy = 2; \end{cases} \Leftrightarrow \begin{cases} x+y = \frac{3}{4}, \\ xy = \frac{1}{8}; \end{cases} \Leftrightarrow \begin{cases} y = \frac{3}{4} - x, \\ 8x^2 - 6x + 1 = 0. \end{cases}$$

Решая квадратное уравнение, находим $x_1 = 0,25, x_2 = 0,5$. Значения неизвестной y соответственно равны $y_1 = 0,75 - 0,25 = 0,5$ и $y_2 = 0,75 - 0,5 = 0,25$.

Ответ: $(0,25; 0,5), (0,5; 0,25)$.

$$156. \begin{cases} 2x - 6 - 4y - 28 = 1, \\ 6 - 3x + 7y - 7 = 3; \end{cases} \Leftrightarrow \begin{cases} 2x - 4y = 35, \\ -3x + 7y = 4; \end{cases} \Leftrightarrow$$

$$\Leftrightarrow \begin{cases} -x + 3y = 39, \\ -3x + 7y = 4; \end{cases} \Leftrightarrow \begin{cases} -x = -3y + 39, \\ -3x + 7y = 4; \end{cases} \Leftrightarrow$$

$$\Leftrightarrow \begin{cases} -x = -3y + 39, \\ -9y + 117 + 7y = 4; \end{cases} \Leftrightarrow \begin{cases} x = 3y - 39, \\ y = \frac{113}{2} = 56,5; \end{cases} \Leftrightarrow \begin{cases} x = 130,5, \\ y = 56,5. \end{cases}$$

Ответ: $(130,5; 56,5)$.

$$157. \begin{cases} 5x + 4y - 2x = 6, \\ x - 2y + 4x = -16; \end{cases} \Leftrightarrow \begin{cases} 3x + 4y = 6, \\ 5x - 2y = -16; \end{cases} \Leftrightarrow \begin{cases} 13x = -26, \\ 2y = 5x + 16; \end{cases} \Leftrightarrow$$

$$\Leftrightarrow \begin{cases} x = -2, \\ y = 3. \end{cases}$$

Ответ: $(-2; 3)$.

158. Выразим y через x из второго уравнения системы и подставим в первое:

$$1) 2x + y = -2 \Rightarrow y = -2 - 2x.$$

$$2) x^2 - y = x^2 + 2x + 2 = 2 \Rightarrow x^2 + 2x = 0.$$

3) Решениями уравнения $x^2 + 2x = 0$ являются $x_1 = -2$, $x_2 = 0$, которым соответствуют $y_1 = 2$; $y_2 = -2$.

Ответ: $(0; -2), (-2; 2)$.

159. Точки, у которых координаты x и y останутся неизменными, удовлетворяют уравнениям $x = x^2$ и $y = y^2$. Получаем систему уравнений

$$\begin{cases} x = x^2, \\ y = y^2; \end{cases} \Leftrightarrow \begin{cases} x(x-1) = 0, \\ y(y-1) = 0; \end{cases} \Leftrightarrow \begin{cases} \begin{cases} x = 0, \\ x = 1, \end{cases} \\ \begin{cases} y = 0, \\ y = 1; \end{cases} \end{cases} \Leftrightarrow \begin{cases} \begin{cases} x = 0, \\ y = 0, \\ x = 0, \\ y = 1, \\ x = 1, \\ y = 0, \\ x = 1, \\ y = 1. \end{cases} \end{cases}$$

Ответ: $(0; 0), (0; 1), (1; 0), (1; 1)$.

160. По теореме, обратной теореме Виета, x и y^2 удовлетворяют квадратному уравнению $z^2 - 7z + 12 = 0$. Откуда $x = 3$, $y^2 = 4$ или $x = 4$, $y^2 = 3$. Значит, решением системы являются пары $(3; 2)$, $(3; -2)$, $(4; \sqrt{3})$, $(4; -\sqrt{3})$.

Ответ: $(3; 2), (3; -2), (4; \sqrt{3}), (4; -\sqrt{3})$.

161. Точки, у которых координаты x и y останутся неизменными, удовлетворяют уравнениям $x = |x|$ и $y = |y|$. Получаем систему уравнений

$$\begin{cases} x = |x|, \\ y = |y|; \end{cases} \Leftrightarrow \begin{cases} x \geq 0, \\ y \geq 0. \end{cases}$$

Ответ: $x \geq 0, y \geq 0$.

162. Пусть $\frac{1}{x+y} = b$, $\frac{1}{x-y} = a$ ($x \neq \pm y$), тогда имеем систему уравнений

$$\begin{cases} 9b + 2a = 3, \\ 18b - 5a = -3. \end{cases}$$

Вычитая из второго уравнения первое уравнение, умноженное на 2, получим $-9a = -9$; $a = 1$. Подставляя $a = 1$ в любое из уравнений последней системы, находим, что $b = \frac{1}{9}$. Таким образом, исходная система равносильна следующей:

$$\begin{cases} \frac{1}{x-y} = 1, \\ \frac{1}{x+y} = \frac{1}{9}; \end{cases} \Leftrightarrow \begin{cases} x-y = 1, \\ x+y = 9. \end{cases}$$

Решая последнюю систему методом сложения, получаем $x = 5, y = 4$.

Ответ: (5; 4).

163. Пусть $\frac{1}{x+y} = b, \frac{1}{x-y} = a$ ($x \neq \pm y$), тогда имеем систему уравне-

$$\text{ний } \begin{cases} 6b + 5a = 7, \\ 3b - 2a = -1. \end{cases}$$

Вычитая из первого уравнения второе уравнение, умноженное на 2, получим $9a = 9; a = 1$. Подставляя $a = 1$ в любое из уравнений последней системы, находим, что $b = \frac{1}{3}$. Таким образом, исходная система равносильна следующей:

$$\begin{cases} \frac{1}{x-y} = 1, \\ \frac{1}{x+y} = \frac{1}{3}; \end{cases} \Leftrightarrow \begin{cases} x-y = 1, \\ x+y = 3. \end{cases}$$

Решая последнюю систему методом сложения, получаем $x = 2, y = 1$.

Ответ: (2; 1).

164. Пусть $\frac{1}{x+y} = b, \frac{1}{x-y} = a$ ($x \neq \pm y$), тогда имеем систему уравне-

$$\text{ний } \begin{cases} 4a + 12b = 3, \\ 8a - 18b = -1. \end{cases}$$

Вычитая из второго уравнения первое уравнение, умноженное на 2, получим $-42b = -7; b = \frac{1}{6}$. Подставляя $b = \frac{1}{6}$ в любое из уравнений

последней системы, находим, что $a = \frac{1}{4}$.

Таким образом, исходная система равносильна следующей:

$$\begin{cases} \frac{1}{x-y} = \frac{1}{4}, \\ \frac{1}{x+y} = \frac{1}{6}, \end{cases} \Leftrightarrow \begin{cases} x-y = 4, \\ x+y = 6. \end{cases}$$

Решая последнюю систему методом сложения, получаем $x = 5, y = 1$.

Ответ: (5; 1).

165. Пусть $\frac{1}{x+y} = b$, $\frac{1}{x-y} = a$ ($x \neq \pm y$), тогда имеем систему уравнений

$$\begin{cases} 6a - 8b = -2, \\ 9a + 10b = 8. \end{cases}$$

Умножив первое уравнение на 3 и вычитая из полученного уравнения второе уравнение, умноженное на 2, получим $-44b = -22$; $b = \frac{1}{2}$. Подставляя $b = \frac{1}{2}$

в любое из уравнений последней системы, находим, что $a = \frac{1}{3}$.

Таким образом, исходная система равносильна следующей:

$$\begin{cases} \frac{1}{x-y} = \frac{1}{3}, \\ \frac{1}{x+y} = \frac{1}{2}; \end{cases} \Leftrightarrow \begin{cases} x-y = 3, \\ x+y = 2. \end{cases}$$

Решая последнюю систему методом сложения, получаем $x = 2,5$, $y = -0,5$.

Ответ: (2,5; -0,5).

166. Из второго уравнения системы выразим y через x : $y = x - 7$ (1).

Подставив выражение (1) в первое уравнение системы, получим

$(3x - 7)^2 = 3x - 5$; $9x^2 - 42x + 49 = 3x - 5$; $9x^2 - 45x + 54 = 0$; $x^2 - 5x + 6 = 0$; $x_1 = 2$, $x_2 = 3$. Из уравнения (1) находим, что значениям $x_1 = 2$, $x_2 = 3$ соответствуют значения $y_1 = -5$, $y_2 = -4$.

Ответ: (2; -5), (3; -4).

$$\begin{aligned} 167. & \begin{cases} (3x - y)^2 = 12 - 3x + y, \\ x + y = 5; \end{cases} \Leftrightarrow \begin{cases} (3x - 5 + x)^2 = 12 - 3x + 5 - x, \\ y = 5 - x; \end{cases} \Leftrightarrow \\ & \Leftrightarrow \begin{cases} (4x - 5)^2 = 17 - 4x, \\ y = 5 - x; \end{cases} \Leftrightarrow \begin{cases} 16x^2 - 36x + 8 = 0, \\ y = 5 - x; \end{cases} \Leftrightarrow \\ & \Leftrightarrow \begin{cases} 4x^2 - 9x + 2 = 0 \\ y = 5 - x. \end{cases} \end{aligned}$$

Решением первого уравнения этой системы являются числа $x_1 = 0,25$; $x_2 = 2$. Подставляя найденные значения x во второе уравнение системы, получаем $y_1 = 4,75$, $y_2 = 3$.

Ответ: (0,25; 4,75), (2; 3).

$$\begin{aligned} 168. & \begin{cases} \frac{x}{y} + 1 = \frac{6y}{x}, \\ x + y = 3. \end{cases} \text{ Обозначим } \frac{x}{y} = t \text{ (} x \neq 0, y \neq 0 \text{)}. \text{ Тогда } t^2 + t - 6 = 0; \\ & t_1 = 2, t_2 = -3. \end{aligned}$$

$$\left[\begin{cases} x = 2y, \\ y = 3 - x, \\ x = -3y, \\ y = 3 - x; \end{cases} \Leftrightarrow \left[\begin{cases} x = 2, \\ y = 1, \\ x = 4,5, \\ y = -1,5. \end{cases} \right.$$

Ответ: (2; 1), (4,5; -1,5).

$$169. \begin{cases} \frac{x}{y} + 3 = \frac{4y}{x}, \\ y - x = 5. \end{cases} \text{ Обозначим } \frac{x}{y} = t (x \neq 0, y \neq 0).$$

Тогда $t^2 + 3t - 4 = 0$; $t_1 = -4$, $t_2 = 1$.

$$\left[\begin{cases} x = -4y, \\ y = 5 + x, \\ x = y, \\ y = 5 + x; \end{cases} \Leftrightarrow \begin{cases} x = -4, \\ y = 1. \end{cases} \right.$$

Ответ: (-4; 1).

170. ОДЗ: $x \neq 0$ и $y \neq 0$.

Преобразуем систему уравнений:

$$\begin{aligned} \begin{cases} \frac{y-x}{xy} = 1, \\ y-x+11xy = 1; \end{cases} &\Leftrightarrow \begin{cases} y-x = xy, \\ 12xy = 1; \end{cases} \Leftrightarrow \begin{cases} y-x = \frac{1}{12}, \\ xy = \frac{1}{12}; \end{cases} \Leftrightarrow \\ &\Leftrightarrow \begin{cases} y = \frac{1}{12} + x, \\ 12x^2 + x - 1 = 0; \end{cases} \Leftrightarrow \begin{cases} y = \frac{1}{12} + x, \\ \begin{cases} x = -\frac{1}{3}, \\ x = \frac{1}{4}; \end{cases} \end{cases} \Leftrightarrow \begin{cases} \begin{cases} y = -\frac{1}{4}, \\ x = -\frac{1}{3}, \end{cases} \\ \begin{cases} y = \frac{1}{3}, \\ x = \frac{1}{4}. \end{cases} \end{cases} \end{aligned}$$

Ответ: $(-\frac{1}{3}; -\frac{1}{4}), (\frac{1}{4}; \frac{1}{3})$.

171. ОДЗ: $x \neq 0$ и $y \neq 0$.

Преобразуем систему уравнений:

$$\begin{cases} \frac{y-x}{xy} = 2, \\ y-x-10xy = -1; \end{cases} \Leftrightarrow \begin{cases} y-x = 2xy, \\ 8xy = 1; \end{cases} \Leftrightarrow \begin{cases} y-x = \frac{1}{4}, \\ xy = \frac{1}{8}; \end{cases} \Leftrightarrow$$

$$\Leftrightarrow \begin{cases} y = \frac{1}{4} + x, \\ 8x^2 + 2x - 1 = 0. \end{cases}$$

Решая квадратное уравнение, находим $x_1 = -0,5$, $x_2 = 0,25$. Значения неизвестной y соответственно равны $y_1 = 0,25 - 0,5 = -0,25$; $y_2 = 0,25 + 0,25 = 0,5$.

Ответ: $(-0,5; 0,25)$, $(0,25; 0,5)$.

172. Исходная система равносильна совокупности двух систем

$$\begin{cases} \begin{cases} 3x^2 + 2xy = 9, \\ 2x + y = 5, \end{cases} \\ \begin{cases} 3x^2 + 2xy = 9, \\ 2x + y = -5; \end{cases} \end{cases} \Leftrightarrow \begin{cases} \begin{cases} 3x^2 + 2x(5 - 2x) = 9, \\ y = 5 - 2x, \end{cases} \\ \begin{cases} 3x^2 + 2x(-5 - 2x) = 9, \\ y = -5 - 2x; \end{cases} \end{cases} \Leftrightarrow \begin{cases} \begin{cases} x^2 - 10x + 9 = 0, \\ y = 5 - 2x, \end{cases} \\ \begin{cases} x^2 + 10x + 9 = 0, \\ y = -5 - 2x; \end{cases} \end{cases} \Leftrightarrow \begin{cases} \begin{cases} x = 1, \\ y = 3, \end{cases} \\ \begin{cases} x = 9, \\ y = -13, \end{cases} \\ \begin{cases} x = -9, \\ y = 13, \end{cases} \\ \begin{cases} x = -1, \\ y = -3. \end{cases} \end{cases}$$

Ответ: $(-9; 13)$, $(-1; -3)$, $(1; 3)$, $(9; -13)$.

173. Исходная система равносильна совокупности двух систем

$$\begin{cases} \begin{cases} 2xy + y^2 = 15, \\ x - y = 6 \end{cases} \\ \begin{cases} 2xy + y^2 = 15, \\ x - y = -6. \end{cases} \end{cases} \text{ и } \begin{cases} \begin{cases} 2xy + y^2 = 15, \\ x - y = 6; \end{cases} \\ \begin{cases} 2xy + y^2 = 15, \\ x - y = -6; \end{cases} \end{cases} \Leftrightarrow \begin{cases} \begin{cases} y^2 + 4y - 5 = 0, \\ x = 6 + y; \end{cases} \\ \begin{cases} y^2 - 4y - 5 = 0, \\ x = -6 + y; \end{cases} \end{cases} \Leftrightarrow \begin{cases} \begin{cases} y = -5, \\ x = 1, \end{cases} \\ \begin{cases} y = 1, \\ x = 7; \end{cases} \\ \begin{cases} y = -1, \\ x = -7, \end{cases} \\ \begin{cases} y = 5, \\ x = -1. \end{cases} \end{cases}$$

Ответ: $(-7; -1)$, $(-1; 5)$, $(1; -5)$, $(7; 1)$.

174. Пусть $t = \frac{x}{y}$ ($x \neq 0$, $y \neq 0$). Тогда первое уравнение исходной системы принимает вид $t + \frac{6}{t} - 5 = 0$; $t^2 - 5t + 6 = 0$; $t_1 = 2$, $t_2 = 3$.

Следовательно, $x = 2y$ или $x = 3y$. Исходная система равносильна совокупности двух систем:

$$1) \begin{cases} x = 2y, \\ 4y^2 + 8y^2 - 3y^2 = 18; \end{cases} \Leftrightarrow \begin{cases} x = 2y, \\ y^2 = 2; \end{cases} \Leftrightarrow \begin{cases} y = -\sqrt{2}, \\ x = -2\sqrt{2}, \\ y = \sqrt{2}, \\ x = 2\sqrt{2}. \end{cases}$$

$$2) \begin{cases} x = 3y, \\ 9y^2 + 12y^2 - 3y^2 = 18; \end{cases} \Leftrightarrow \begin{cases} x = 3y, \\ y^2 = 1; \end{cases} \Leftrightarrow \begin{cases} y = -1, \\ x = -3, \\ y = 1, \\ x = 3. \end{cases}$$

Ответ: $(-3; -1), (3; 1), (2\sqrt{2}; \sqrt{2}), (-2\sqrt{2}; -\sqrt{2})$.

175. Пусть $t = \frac{x}{y}$ ($x \neq 0, y \neq 0$). Тогда первое уравнение исходной системы принимает вид $t - \frac{2}{t} - 1 = 0; t^2 - t - 2 = 0; t_1 = -1, t_2 = 2$.

Следовательно, $x = -y$ или $x = 2y$. Исходная система равносильна совокупности двух систем:

$$1) \begin{cases} x = -y, \\ y^2 + 5y^2 + 2y^2 = 32; \end{cases} \Leftrightarrow \begin{cases} x = -y, \\ y^2 = 4; \end{cases} \Leftrightarrow \begin{cases} y = -2, \\ x = 2, \\ y = 2, \\ x = -2. \end{cases}$$

$$2) \begin{cases} x = 2y, \\ 4y^2 - 10y^2 + 2y^2 = 32; \end{cases} \Leftrightarrow \begin{cases} x = 2y, \\ y^2 = -8. \end{cases} \quad \text{Эта система не имеет решений.}$$

Ответ: $(2; -2), (-2; 2)$.

$$176. \begin{cases} 3x - y = 8, \\ (3x + y)(9x^2 - y^2) = 128; \end{cases} \Leftrightarrow \begin{cases} 3x - y = 8, \\ (3x + y)^2(3x - y) = 128; \end{cases} \Leftrightarrow$$

$$\Leftrightarrow \begin{cases} 3x - y = 8, \\ (3x + y)^2 = 16; \end{cases} \Leftrightarrow \begin{cases} y = 3x - 8, \\ 3x + y = 4, \\ y = 3x - 8, \\ 3x + y = -4; \end{cases} \Leftrightarrow \begin{cases} y = 3x - 8, \\ 6x = 12, \\ y = 3x - 8, \\ 6x = 4; \end{cases} \Leftrightarrow$$

$$\Leftrightarrow \begin{cases} y = -2, \\ x = 2, \\ y = -6, \\ x = \frac{2}{3}. \end{cases}$$

Ответ: $(2; -2)$, $(\frac{2}{3}; -6)$.

$$177. \begin{cases} (x^2 - 4y^2)(x - 2y) = 640, \\ x + 2y = 10; \end{cases} \Leftrightarrow \begin{cases} (x - 2y)^2(x + 2y) = 640, \\ x + 2y = 10; \end{cases} \Leftrightarrow$$

$$\Leftrightarrow \begin{cases} (x - 2y)^2 = 64, \\ x = 10 - 2y; \end{cases} \Leftrightarrow \begin{cases} \begin{cases} x - 2y = 8, \\ x = 10 - 2y, \end{cases} \\ \begin{cases} x - 2y = -8, \\ x = 10 - 2y; \end{cases} \end{cases} \Leftrightarrow$$

$$\Leftrightarrow \begin{cases} \begin{cases} 10 - 2y - 2y = 8, \\ x = 10 - 2y, \end{cases} \\ \begin{cases} 10 - 2y - 2y = -8, \\ x = 10 - 2y; \end{cases} \end{cases} \Leftrightarrow \begin{cases} \begin{cases} y = \frac{1}{2}, \\ x = 9, \end{cases} \\ \begin{cases} y = 4\frac{1}{2}, \\ x = 1. \end{cases} \end{cases}$$

Ответ: $(9; 0,5)$, $(1; 4,5)$.

$$178. \begin{cases} (x^2 - y^2)(x - y) = 81, \\ x + y = 9; \end{cases} \Leftrightarrow \begin{cases} (x + y)(x - y)^2 = 81, \\ x + y = 9; \end{cases} \Leftrightarrow$$

$$\Leftrightarrow \begin{cases} (x - y)^2 = 9, \\ x + y = 9; \end{cases} \Leftrightarrow \begin{cases} \begin{cases} x - y = -3, \\ x = 9 - y, \end{cases} \\ \begin{cases} x - y = 3, \\ x = 9 - y; \end{cases} \end{cases} \Leftrightarrow \begin{cases} \begin{cases} 9 - y - y = -3, \\ x = 9 - y, \end{cases} \\ \begin{cases} 9 - y - y = 3, \\ x = 9 - y; \end{cases} \end{cases} \Leftrightarrow$$

$$\Leftrightarrow \begin{cases} \begin{cases} y = 6, \\ x = 3, \end{cases} \\ \begin{cases} y = 3, \\ x = 6. \end{cases} \end{cases}$$

Ответ: $(6; 3)$, $(3; 6)$.

$$179. \begin{cases} (y^2 - x^2)(y - x) = 75, \\ x - y = -5; \end{cases} \Leftrightarrow \begin{cases} (y - x)^2(y + x) = 75, \\ y - x = 5; \end{cases} \Leftrightarrow$$

$$\begin{cases} y + x = 3, \\ y - x = 5; \end{cases} \Leftrightarrow \begin{cases} y = 4, \\ x = -1. \end{cases}$$

Ответ: $(-1; 4)$.

180. Первое уравнение системы выполняется только в том случае, когда $x - 2 = 0$ или $y + 1 = 0$. Получаем:

$$1) \begin{cases} x - 2 = 0, \\ 6y^2 + x - y = 3; \end{cases} \Leftrightarrow \begin{cases} x = 2, \\ 6y^2 - y - 1 = 0; \end{cases} \Leftrightarrow \begin{cases} x = 2, \\ \begin{cases} y = \frac{1}{2}, \\ y = -\frac{1}{3}. \end{cases} \end{cases}$$

Решением этой системы являются значения $x_1 = 2$; $y_1 = \frac{1}{2}$ и $x_2 = 2$;

$$y_2 = -\frac{1}{3}.$$

$$2) \begin{cases} y + 1 = 0, \\ 6y^2 + x - y = 3; \end{cases} \Leftrightarrow \begin{cases} y = -1, \\ 7 + x = 3; \end{cases} \Leftrightarrow \begin{cases} y = -1, \\ x = -4. \end{cases}$$

Следовательно, решением исходной системы являются значения

$$x_1 = 2, y_1 = \frac{1}{2}; x_2 = 2, y_2 = -\frac{1}{3}; x_3 = -4, y_3 = -1.$$

$$\text{Ответ: } \left(2; \frac{1}{2}\right), \left(2; -\frac{1}{3}\right), (-4; -1).$$

$$181. \begin{cases} x(x + y) = 15, \\ y(x + y) = 10; \end{cases} \Leftrightarrow \begin{cases} x^2 + xy = 15, \\ y^2 + xy = 10. \end{cases}$$

Суммируя уравнения системы, получим $x^2 + 2xy + y^2 = 25$, $(x + y)^2 = 25$. Тогда $x + y = 5$ или $x + y = -5$.

1) $x + y = 5$, $x = 5 - y$. Подставив полученное значение в первое уравнение системы, получим $(5 - y)(5 - y + y) = 15$, $5 - y = 3$, $y = 2$. Тогда $x = 5 - 2 = 3$.

2) $x + y = -5$, $x = -y - 5$. Подставив полученное значение в первое уравнение системы, получим $(-y - 5)(-y - 5 + y) = 15$, $-y - 5 = -3$, $y = -2$. Тогда $x = -(-2) - 5 = -3$.

$$\text{Ответ: } (3; 2), (-3; -2).$$

$$183. x - 2 + \frac{2,25}{x+1} \leq 0; \frac{x^2 - 2x + x - 2 + 2,25}{x+1} \leq 0; \frac{(x - 0,5)^2}{x+1} \leq 0;$$

$$\begin{cases} x = 0,5, \\ x < -1. \end{cases}$$

$$\text{Ответ: } (-\infty; -1) \cup \{0,5\}.$$

$$184. \frac{\sqrt{x^2 + x - 20}}{4x + 1} \geq \frac{\sqrt{x^2 + x - 20}}{2x + 3}. \text{ ОДЗ: } x \neq -\frac{1}{4}; x \neq -\frac{3}{2}.$$

Рассмотрим два случая:

а) $x^2 + x - 20 = 0$. По теореме, обратной теореме Виета, $x_1 = 4$, $x_2 = -5$.

Числа -5 и 4 являются решениями данного неравенства.

$$6) \begin{cases} x^2 + x - 20 > 0, \\ \frac{1}{4x+1} - \frac{1}{2x+3} \geq 0; \end{cases} \Leftrightarrow \begin{cases} (x+5)(x-4) > 0 \text{ (см. рис. 124),} \\ \frac{1-x}{(4x+1)(2x+3)} \leq 0; \end{cases} \Leftrightarrow$$

$$\Leftrightarrow \begin{cases} \begin{cases} x < -5, \\ x > 4, \end{cases} \\ \frac{1-x}{8\left(x+\frac{1}{4}\right)\left(x+\frac{3}{2}\right)} \leq 0 \text{ (см. рис. 125);} \end{cases} \Leftrightarrow \begin{cases} \begin{cases} x < -5, \\ x > 4, \end{cases} \\ \begin{cases} x < -\frac{3}{2}, \\ -\frac{1}{4} < x \leq 1; \end{cases} \end{cases} \Leftrightarrow$$

$$\Leftrightarrow x < -5.$$

Объединим решения, полученные в а) и б): $x \in (-\infty; -5] \cup \{4\}$.

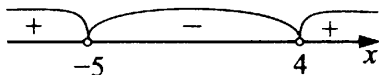


Рис. 124

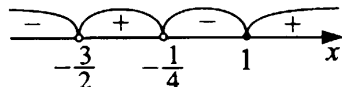


Рис. 125

Ответ: $(-\infty; -5] \cup \{4\}$.

$$185. \frac{2x-1}{\sqrt{-x^2-0,5x+0,5}} \geq \frac{5x+1}{\sqrt{-x^2-0,5x+0,5}}.$$

$$\begin{cases} 2x-1 \geq 5x+1, \\ -x^2-0,5x+0,5 > 0; \end{cases} \Leftrightarrow \begin{cases} x \leq -\frac{2}{3}, \\ x^2+0,5x-0,5 < 0; \end{cases} \Leftrightarrow$$

$$\Leftrightarrow \begin{cases} x \leq -\frac{2}{3}, \\ (x+1)\left(x-\frac{1}{2}\right) < 0; \end{cases} \Leftrightarrow -1 < x \leq -\frac{2}{3} \text{ (см. рис. 126).}$$

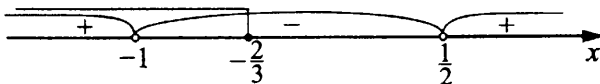


Рис. 126

Ответ: $(-1; -\frac{2}{3}]$.

186. $x^2 + \frac{1}{x^2} > 7$; $x^2 + 2 + \frac{1}{x^2} > 9$; $(x + \frac{1}{x})^2 > 9$; $|x + \frac{1}{x}| > 3$. Получим

$$x + \frac{1}{x} > 3 \text{ или } x + \frac{1}{x} < -3.$$

$$1) x + \frac{1}{x} - 3 > 0; \frac{x^2 - 3x + 1}{x} > 0; \frac{\left(x - \frac{3 + \sqrt{5}}{2}\right) \left(x - \frac{3 - \sqrt{5}}{2}\right)}{x} > 0;$$

$$\left[\begin{array}{l} 0 < x < \frac{3 - \sqrt{5}}{2}, \\ x > \frac{3 + \sqrt{5}}{2} \end{array} \right. \quad (\text{см. рис. 127}).$$

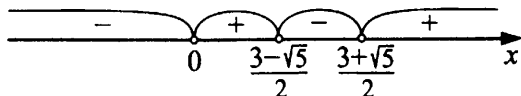


Рис. 127

$$2) x + \frac{1}{x} + 3 < 0; \frac{x^2 + 3x + 1}{x} < 0; \frac{\left(x - \frac{-3 + \sqrt{5}}{2}\right) \left(x - \frac{-3 - \sqrt{5}}{2}\right)}{x} < 0;$$

$$\left[\begin{array}{l} x < \frac{-3 - \sqrt{5}}{2}, \\ \frac{-3 + \sqrt{5}}{2} < x < 0 \end{array} \right. \quad (\text{см. рис. 128}).$$

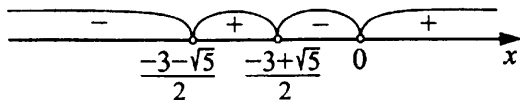


Рис. 128

Объединяя решения 1 и 2, имеем

$$\left(-\infty; \frac{-3 - \sqrt{5}}{2}\right) \cup \left(\frac{-3 + \sqrt{5}}{2}; 0\right) \cup \left(0; \frac{3 - \sqrt{5}}{2}\right) \cup \left(\frac{3 + \sqrt{5}}{2}; +\infty\right).$$

Ответ: $\left(-\infty; \frac{-3 - \sqrt{5}}{2}\right) \cup \left(\frac{-3 + \sqrt{5}}{2}; 0\right) \cup \left(0; \frac{3 - \sqrt{5}}{2}\right) \cup \left(\frac{3 + \sqrt{5}}{2}; +\infty\right).$

187. Преобразуем данное неравенство: $x^2 + 4 + \frac{4}{x^2} < 9$; $\left(x + \frac{2}{x}\right)^2 < 3^2$.

Рассмотрим отдельно два случая: $x > 0$ и $x < 0$.

1) Так как при $x > 0$ выполняется неравенство $x + \frac{2}{x} > 0$, то

$$0 < x + \frac{2}{x} < 3 \Leftrightarrow x^2 - 3x + 2 < 0; x \in (1; 2).$$

2) При рассмотрении случая $x < 0$ достаточно заметить, что функция $y = x + \frac{2}{x}$ нечётна, и, значит, решением неравенства $\left(x + \frac{2}{x}\right)^2 < 3^2$ на отрицательной полуоси будет множество $(-2; -1)$, симметричное множеству $(1; 2)$ относительно нуля.

Ответ: $(-2; -1) \cup (1; 2)$.

$$188. (x^4 - 4x^3 + 4x^2) - 1 \leq 0; (x^2 - 2x)^2 \leq 1; |x^2 - 2x| \leq 1;$$

$$\begin{cases} x^2 - 2x \geq -1, & \begin{cases} (x-1)^2 \geq 0, \\ x^2 - 2x \leq 1; \end{cases} \\ \end{cases} \quad 1 - \sqrt{2} \leq x \leq 1 + \sqrt{2}.$$

$$x^4 - 4x^3 + 4x^2 - 1 \leq 0, (x^4 - 1) - 4x^2(x-1) \leq 0,$$

$$(x^2+1)(x-1)(x+1) - 4x^2(x-1) \leq 0, (x-1)((x^2+1)(x+1) - 4x^2) \leq 0,$$

$$(x-1)(x^3 + x^2 + x + 1 - 4x^2) \leq 0, (x-1)(x^3 - 3x^2 + x + 1) \leq 0,$$

$$(x-1)(x^3 - x^2 - x^2 + x - x^2 + 1) \leq 0,$$

$$(x-1)(x^2(x-1) - x(x-1) - (x-1)(x+1)) \leq 0,$$

$$(x-1)(x-1)(x^2 - 2x - 1) \leq 0, (x-1)^2(x^2 - 2x - 1) \leq 0;$$

$$x^2 - 2x - 1 = 0, x_{1,2} = 1 \pm \sqrt{1+1} = 1 \pm \sqrt{2};$$

$$(x-1)^2(x - (1 + \sqrt{2}))(x - (1 - \sqrt{2})) \leq 0; 1 - \sqrt{2} \leq x \leq 1 + \sqrt{2}$$

(см. рис. 129).



Рис. 129

Ответ: $[1 - \sqrt{2}; 1 + \sqrt{2}]$.

$$190. \begin{cases} \frac{6-x}{x+3} \geq 0, \\ \frac{1}{x} \leq -\frac{1}{2}. \end{cases}$$

Решим каждое неравенство системы.

$$1) \frac{6-x}{x+3} \geq 0 \Leftrightarrow -3 < x \leq 6 \text{ (см. рис. 130).}$$

$$2) \frac{1}{x} \leq -\frac{1}{2}; \frac{1}{x} + \frac{1}{2} \leq 0; \frac{x+2}{2x} \leq 0 \Leftrightarrow -2 \leq x < 0 \text{ (см. рис. 131).}$$

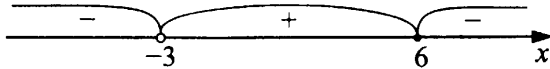


Рис. 130



Рис. 131

3) Следовательно, $\begin{cases} -3 < x \leq 6, \\ -2 \leq x < 0. \end{cases}$ Откуда $-2 \leq x < 0$ (см. рис. 132).

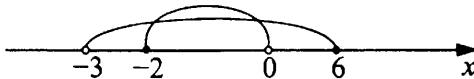


Рис. 132

Ответ: $[-2; 0)$.

191. Решим сначала первое неравенство, потом — второе и найдём общее решение.

$$1) x^2 - 4x - 5 < 0; (x + 1)(x - 5) < 0; -1 < x < 5.$$

$$2) \frac{1}{x} \geq \frac{1}{4}; \frac{1}{x} - \frac{1}{4} \geq 0; \frac{4-x}{4x} \geq 0; \frac{x-4}{x} \leq 0; 0 < x \leq 4.$$

Следовательно, $0 < x \leq 4$ (см. рис. 133).



Рис. 133

Ответ: $(0; 4]$.

$$192. \begin{cases} 2 - \frac{3+2x}{3} > 1 - \frac{x+6}{2}, \\ 3 - \frac{x}{4} < x; \end{cases} \Leftrightarrow \begin{cases} 12 - 6 - 4x > 6 - 3x - 18, \\ 12 - x < 4x; \end{cases} \Leftrightarrow$$

$$\Leftrightarrow \begin{cases} x < 18, \\ x > 2,4; \end{cases} \Leftrightarrow 2,4 < x < 18.$$

Ответ: $(2,4; 18)$.

$$193. \begin{cases} 1 - \frac{1-x}{2} < 4 - \frac{5+5x}{3}, \\ 2 - \frac{x+8}{4} > 0; \end{cases} \Leftrightarrow \begin{cases} 6 - 3 + 3x < 24 - 10 - 10x, \\ 8 - x - 8 > 0; \end{cases} \Leftrightarrow$$

$$\Leftrightarrow \begin{cases} 13x < 11, \\ x < 0; \end{cases} \Leftrightarrow \begin{cases} x < \frac{11}{13}, \\ x < 0; \end{cases} \Leftrightarrow x < 0.$$

Ответ: $(-\infty; 0)$.

195. Найдём область определения данного выражения:

$$\begin{cases} 3x^2 - 20x - 7 \geq 0, \\ 2x^2 + 5x \neq 0, \\ 3x - 21 \neq 0; \end{cases} \Leftrightarrow \begin{cases} 3(x-7)\left(x + \frac{1}{3}\right) \geq 0, \\ x(2x+5) \neq 0, \\ x \neq 7; \end{cases} \Leftrightarrow$$

$$\Leftrightarrow \begin{cases} \left[\begin{array}{l} x \leq -\frac{1}{3}, \\ x \geq 7 \text{ (см. рис. 134)}, \\ x \neq 0, x \neq -2,5, \\ x \neq 7. \end{array} \right.$$




Рис. 134

Таким образом, $x \in (-\infty; -2,5) \cup \left(-2,5; -\frac{1}{3}\right] \cup (7; +\infty)$.

Ответ: $(-\infty; -2,5) \cup \left(-2,5; -\frac{1}{3}\right] \cup (7; +\infty)$.

196. Область определения данного выражения найдём из системы неравенств

$$\begin{cases} x^2 - 4x - 21 \geq 0, \\ x^2 - 25 \neq 0; \end{cases} \Leftrightarrow \begin{cases} (x+3)(x-7) \geq 0, \\ x^2 \neq 25; \end{cases} \Leftrightarrow \begin{cases} \left[\begin{array}{l} x \leq -3, \\ x \geq 7, \\ x \neq 5, x \neq -5. \end{array} \right.$$

Таким образом, $x \in (-\infty; -5) \cup (-5; -3] \cup [7; +\infty)$ (см. рис. 135).



Рис. 135

Ответ: $(-\infty; -5) \cup (-5; -3] \cup [7; +\infty)$.

197. Исходное выражение имеет смысл при x , удовлетворяющих условию $x^2 - 3x + 2 > 0$; $(x - 1)(x - 2) > 0$ (см. рис. 136). Следовательно, $x \in (-\infty; 1) \cup (2; +\infty)$.

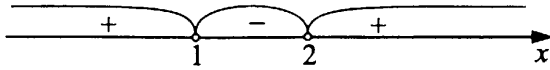


Рис. 136

Ответ: $(-\infty; 1) \cup (2; +\infty)$.

198. Исходное выражение имеет смысл при x , удовлетворяющих системе неравенств

$$\begin{cases} x^2 + 2x + 1 \geq 0, \\ 14 - 3x \neq 0; \end{cases} \Leftrightarrow \begin{cases} (x + 1)^2 \geq 0, \\ x \neq \frac{14}{3}; \end{cases} \Leftrightarrow x \neq \frac{14}{3}.$$

Таким образом, область определения: $(-\infty; \frac{14}{3}) \cup (\frac{14}{3}; +\infty)$.

Ответ: $(-\infty; \frac{14}{3}) \cup (\frac{14}{3}; +\infty)$.

199. Исходное выражение имеет смысл при x , удовлетворяющих системе неравенств

$$\begin{cases} x + 12 - x^2 \geq 0, \\ 4 - x^2 \neq 0; \end{cases} \Leftrightarrow \begin{cases} (x + 3)(x - 4) \leq 0, \\ x^2 \neq 4; \end{cases} \Leftrightarrow \begin{cases} -3 \leq x \leq 4, \\ x \neq 2, x \neq -2; \end{cases}$$

(см. рис. 137). Таким образом, $x \in [-3; -2) \cup (-2; 2) \cup (2; 4]$.

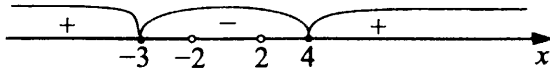


Рис. 137

Ответ: $[-3; -2) \cup (-2; 2) \cup (2; 4]$.

200. Выражение имеет смысл при x , удовлетворяющих следующим условиям:

$$\begin{cases} x - 5 \geq 0, \\ x^2 - 36 \geq 0, \\ x^2 - 49 \neq 0; \end{cases} \Leftrightarrow \begin{cases} x \geq 5, \\ \begin{cases} x \leq -6, \\ x \geq 6, \end{cases} \\ x \neq 7, x \neq -7; \end{cases} \Leftrightarrow \begin{cases} 6 \leq x < 7, \\ x > 7. \end{cases}$$

Ответ: $[6; 7) \cup (7; +\infty)$.

202. Выражение $\sqrt{2x^2 + 9x - 35}$ не имеет смысла, если $2x^2 + 9x - 35 < 0$; $2(x + 7)(x - 2,5) < 0$ (см. рис. 138); $-7 < x < 2,5$.

Ответ: $(-7; 2,5)$.

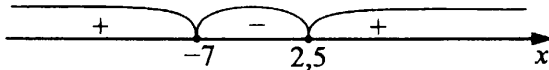


Рис. 138

203. Выражение $\sqrt{16 - 2x - 3x^2}$ имеет смысл, если $16 - 2x - 3x^2 \geq 0$; $3x^2 + 2x - 16 \leq 0$; $3(x - 2)\left(x + 2\frac{2}{3}\right) \leq 0$; $-2\frac{2}{3} \leq x \leq 2$ (см. рис. 139).

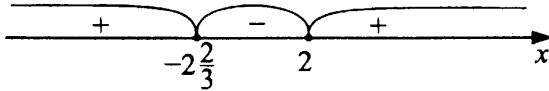


Рис. 139

Ответ: $\left[-2\frac{2}{3}; 2\right]$.

204. Выражение имеет смысл при x , удовлетворяющих условию

$$\frac{20x - 11x^2 - 3x^3}{x} \geq 0; \frac{3x\left(x - \frac{4}{3}\right)(x + 5)}{x} \leq 0; x \in [-5; 0) \cup \left(0; \frac{4}{3}\right]$$

(см. рис. 140).

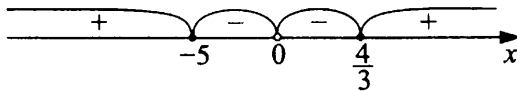


Рис. 140

Ответ: $[-5; 0) \cup \left(0; \frac{4}{3}\right]$.

205. Выражение имеет смысл при s , удовлетворяющих условию $11s - 6 - 3s^2 > 0$, $3s^2 - 11s + 6 < 0$.

Найдём корни уравнения

$$3s^2 - 11s + 6 = 0, D = 121 - 72 = 49, D > 0, s_1 = \frac{11+7}{6} = 3,$$

$$s_2 = \frac{11-7}{6} = \frac{2}{3}, 3 \cdot \left(s - \frac{2}{3}\right) \cdot (s - 3) < 0, \frac{2}{3} < s < 3 \text{ (см. рис. 141)}.$$

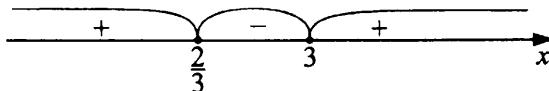


Рис. 141

Ответ: $\left(\frac{2}{3}; 3\right)$.

206. Выражение не определено, если выполняются условия:

$$\begin{cases} x + 3 = 0, \\ 2x^2 - 11x + 12 \leq 0; \end{cases} \Leftrightarrow \begin{cases} x = -3, \\ 2(x - 4)(x - 1,5) \leq 0; \end{cases} \Leftrightarrow \begin{cases} x = -3, \\ 1,5 \leq x \leq 4; \end{cases}$$

(см. рис. 142).

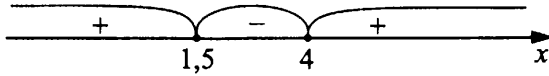


Рис. 142

Ответ: $\{-3\} \cup [1,5; 4]$.

207. Множеством значений x , при которых не определено данное в условии выражение, является решение совокупности

$$\begin{cases} 4x^2 - 11x - 3 < 0, \\ x + 1 = 0, \\ 1 - \frac{6}{x+1} = 0. \end{cases}$$

$$4x^2 - 11x - 3 = 0, x_{1,2} = \frac{11 \pm \sqrt{121 - 4 \cdot 4 \cdot (-3)}}{8} =$$

$$= \frac{11 \pm \sqrt{121 + 48}}{8} = \frac{11 \pm 13}{8}, x_1 = -0,25, x_2 = 3. \text{ Таким образом,}$$

полученная совокупность записывается в виде

$$\begin{cases} (x + 0,25)(x - 3) < 0, \\ x = -1, \\ \frac{x - 5}{x + 1} = 0; \end{cases} \begin{cases} x \in (-0,25; 3), \\ x = -1, \\ x = 5; \end{cases}$$

$$x \in \{-1\} \cup (-0,25; 3) \cup \{5\}.$$

Ответ: $\{-1\} \cup (-0,25; 3) \cup \{5\}$.

208. Умножив третье неравенство системы на 2 и прибавив результат ко второму неравенству, получим $3y > 10, y > \frac{10}{3}$. Поскольку y должно быть

целым, то $y \geq 4$. Аналогично из 1-го неравенства системы следует условие $y \leq 6$. То есть достаточно рассмотреть случаи $y = 4, y = 5, y = 6$.

1) При $y = 4$ из неравенства $x + y > 5 \Rightarrow x > 1 \Rightarrow x \geq 2$. Но тогда $y - 2x \leq 4 - 2 \cdot 2 = 0$, то есть не выполнено второе неравенство системы. Следовательно, решений $(x; y)$ с ординатой $y = 4$ не существует.

2) При $y = 5$ из неравенства $x + y > 5 \Rightarrow x > 0 \Rightarrow x \geq 1$. При $x = 1$ и $x = 2$ неравенство $y - 2x > 0$ выполнено, то есть точки $(1, 5), (2, 5)$ являются решениями данной системы. При $x \geq 3$ неравенство $y - 2x > 0$ перестает выполняться, решений $(x; y)$ с ординатой $y = 5$ и абсциссой $x \geq 3$ не существует.

3) Случай $y = 6$ рассматривается аналогично:

$x + y > 5 \Rightarrow x \geq 0$, неравенство $y - 2x > 0$ выполнено при $x = 0, 1, 2$ и перестаёт выполняться при $x \geq 3$. То есть все решения системы с ординатой $y = 6$ — это точки $(0, 6), (1, 6), (2, 6)$.

Поскольку все возможные случаи были рассмотрены, то других решений, кроме найденных, не существует.

Замечание. Для решения данной задачи можно было воспользоваться графическим методом, а именно, выполнив чертёж, содержащий в одной координатной плоскости прямые $y = 7, y - 2x = 0, x + y = 5$, отметить ту часть плоскости, точки которой удовлетворяют всем трём неравенствам системы (каждое из неравенств задаёт часть плоскости, расположенную по одну сторону от соответствующей прямой). При этом получится ограниченная область (треугольник), и все целочисленные решения (узлы координатной решётки) можно перечислить.

Во всяком случае, геометрические соображения будут полезны для нахождения ограничений на переменные x, y в случае более сложной системы такого типа.

Ответ: $(1, 5), (2, 5), (0, 6), (1, 6), (2, 6)$.

$$209. \begin{cases} y < 1, \\ y > x - 5, \\ y > 3 - 3x. \end{cases}$$

Построим графики функций $y = 1, y = x - 5, y = -3x + 3$ (см. рис. 143). Решением системы неравенств является внутренняя область $\triangle ABC$. Целочисленные решения отмечены точками. Это $(2; -2), (2; -1), (2; 0), (3; -1), (3; 0), (4; 0)$.

Ответ: $(2; -2), (2; -1), (2; 0), (3; -1), (3; 0), (4; 0)$.

$$210. \begin{cases} \frac{6-x}{2} - 4 < \frac{2+3x}{5} - 1, \\ x - \frac{6-x}{2} < \frac{x}{3}, \end{cases} \Leftrightarrow \begin{cases} 30 - 5x - 40 < 4 + 6x - 10, \\ 6x - 18 + 3x < 2x; \end{cases} \Leftrightarrow$$

$$\Leftrightarrow \begin{cases} -11x < 4, \\ 7x < 18; \end{cases} \Leftrightarrow \begin{cases} x > -\frac{4}{11}, \\ x < \frac{18}{7}; \end{cases} \Leftrightarrow -\frac{4}{11} < x < 2\frac{4}{7}.$$

0, 1, 2 — целые числа, удовлетворяющие системе неравенств.

Ответ: 0; 1; 2.

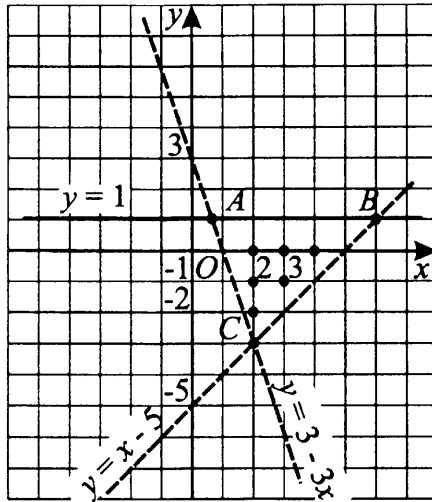


Рис. 143

$$\begin{aligned}
 211. \quad & \begin{cases} \frac{6x+1}{3} - \frac{5x-1}{2} \leq \frac{10-x}{5}, \\ 3 - \frac{2x}{3} \geq 1 - \frac{x}{6}; \end{cases} \Leftrightarrow \\
 & \Leftrightarrow \begin{cases} 60x + 10 - 75x + 15 \leq 60 - 6x, \\ 18 - 4x \geq 6 - x; \end{cases} \Leftrightarrow \\
 & \Leftrightarrow \begin{cases} 60x - 75x + 6x \leq 60 - 10 - 15, \\ -4x + x \geq 6 - 18; \end{cases} \Leftrightarrow \\
 & \Leftrightarrow \begin{cases} -9x \leq 35, \\ -3x \geq -12; \end{cases} \Leftrightarrow \begin{cases} x \geq -\frac{35}{9}, \\ x \leq 4; \end{cases} \Leftrightarrow -3\frac{8}{9} \leq x \leq 4.
 \end{aligned}$$

Целые числа, удовлетворяющие системе неравенств: $-3; -2; -1; 0; 1; 2; 3; 4$.

Ответ: $-3; -2; -1; 0; 1; 2; 3; 4$.

212. $(x^2 - 3x + 2)^4 \leq 0 \Leftrightarrow x^2 - 3x + 2 = 0; x_1 = 1, x_2 = 2$. Подставляя полученные значения во второе неравенство системы, убеждаемся в том, что x_1 не является, а x_2 является его решением.

Ответ: 2.

213. $(x^2 - 13x + 42)^2 \leq 0 \Leftrightarrow x^2 - 13x + 42 = 0; x_1 = 6, x_2 = 7$. Подставляя полученные значения во второе неравенство системы, убеждаемся в том, что x_2 не является, а x_1 является его решением.

Ответ: 6.

214. $(x^2 - 16x + 63)^2 \leq 0 \Leftrightarrow x^2 - 16x + 63 = 0$; $x_1 = 7$, $x_2 = 9$. Подставляя полученные значения во второе неравенство системы, убеждаемся в том, что x_2 не является, а x_1 является его решением.

Ответ: 7.

215. $(x^2 - 4x + 3)^2 \leq 0 \Leftrightarrow x^2 - 4x + 3 = 0$; $x_1 = 1$, $x_2 = 3$. Подставляя полученные значения во второе неравенство системы, убеждаемся в том, что x_1 не является, а x_2 является его решением.

Ответ: 3.

216. 1) Первое неравенство системы эквивалентно уравнению

$$\frac{2}{x^2 - 2x - 1} + 2x^2 - 4x - 7 = 0.$$

Преобразуем уравнение к виду $\frac{2}{x^2 - 2x - 1} + 2(x^2 - 2x - 1) - 5 = 0$ и сделаем замену $t = x^2 - 2x - 1$, $t \neq 0$. Тогда уравнение примет вид $\frac{2}{t} + 2t - 5 = 0$; $2t^2 - 5t + 2 = 0$; $t_1 = \frac{1}{2}$, $t_2 = 2$.

Если $t = \frac{1}{2}$, то $x^2 - 2x - 1 = \frac{1}{2}$; $x_1 = 1 - \frac{1}{2}\sqrt{10}$, $x_2 = 1 + \frac{1}{2}\sqrt{10}$.

Если $t = 2$, то $x^2 - 2x - 1 = 2$; $x_3 = -1$, $x_4 = 3$.

$$2) x^2 - 2x - 3 \geq 0 \Leftrightarrow x^2 - 2x - 3 = 0 \Leftrightarrow \begin{cases} x \leq -1, \\ x \geq 3. \end{cases}$$

3) Учитывая, что $2 < \sqrt{10} < 4$, получаем, что $1 < \frac{1}{2}\sqrt{10} < 2$. Таким

образом, $-1 < x_1 < 0$, $2 < x_2 < 3$, следовательно, $x_1 = 1 - \frac{1}{2}\sqrt{10}$,

$x_2 = 1 + \frac{1}{2}\sqrt{10}$ не являются решениями второго неравенства, а значит, и решениями системы. Очевидно, что $x_3 = -1$, $x_4 = 3$ являются решениями второго неравенства, а значит, и решениями системы.

Ответ: -1 ; 3.

217. 1) Первое неравенство системы эквивалентно уравнению

$$2x^2 - 10x + 9 - \frac{2}{x^2 - 5x + 6} = 0.$$

Преобразуем уравнение к виду $2(x^2 - 5x + 6) - \frac{2}{x^2 - 5x + 6} - 3 = 0$

и сделаем замену $t = x^2 - 5x + 6$, $t \neq 0$. Тогда уравнение примет вид $2t - \frac{2}{t} - 3 = 0$; $2t^2 - 3t - 2 = 0$; $t_1 = -\frac{1}{2}$, $t_2 = 2$.

Если $t = -\frac{1}{2}$, то $x^2 - 5x + 6 = -\frac{1}{2}$, решений нет.

Если $t = 2$, то $x^2 - 5x + 6 = 2$; $x_1 = 1$, $x_2 = 4$.

2) Решим неравенство $x^2 - 7x + 10 \leq 0 \Leftrightarrow (x-2)(x-5) \leq 0 \Leftrightarrow 2 \leq x \leq 5$.

3) Очевидно, что $x_1 = 1$ не является решением второго неравенства, а значит, и решением системы; $x_2 = 4$ является решением второго неравенства, а значит, и решением системы.

Ответ: 4.

$$\begin{aligned}
 218. \quad & \begin{cases} (x^2 + 5x)^2 - 12(x^2 + 5x) + 36 \leq 0, \\ (x^2 - 2x - 15)^2 \leq 900; \end{cases} \Leftrightarrow \\
 & \Leftrightarrow \begin{cases} (x^2 + 5x - 6)^2 \leq 0, \\ (x^2 - 2x - 15)^2 \leq 900; \end{cases} \Leftrightarrow \begin{cases} x^2 + 5x - 6 = 0, \\ (x^2 - 2x - 15)^2 \leq 900; \end{cases} \Leftrightarrow \\
 & \Leftrightarrow \begin{cases} \begin{cases} x = 1, \\ x = -6, \end{cases} \\ (x^2 - 2x - 15)^2 \leq 900; \end{cases} \Leftrightarrow \begin{cases} \begin{cases} x = 1, \\ (x^2 - 2x - 15)^2 \leq 900; \\ x = -6, \\ (x^2 - 2x - 15)^2 \leq 900; \end{cases} \end{cases} \Leftrightarrow x = 1.
 \end{aligned}$$

Ответ: 1.

$$\begin{aligned}
 219. \quad & \begin{cases} (x^2 + 3x - 5)^2 - (10x^2 + 30x - 50) + 25 \geq 0, \\ (x^2 - x - 4)^2 \leq 625; \end{cases} \Leftrightarrow \\
 & \Leftrightarrow \begin{cases} (x^2 + 3x - 5)^2 - 10(x^2 + 3x - 5) + 25 \geq 0, \\ (x^2 - x - 4)^2 \leq 625; \end{cases} \Leftrightarrow \\
 & \Leftrightarrow \begin{cases} (x^2 + 3x - 10)^2 \geq 0, \\ (x^2 - x - 4)^2 \leq 625; \end{cases} \Leftrightarrow \begin{cases} \begin{cases} x = 2, \\ x = -5, \end{cases} \\ (x^2 - x - 4)^2 \leq 625; \end{cases} \Leftrightarrow \\
 & \Leftrightarrow \begin{cases} \begin{cases} x = 2, \\ (x^2 - x - 4)^2 \leq 625, \\ x = -5, \\ (x^2 - x - 4)^2 \leq 625; \end{cases} \end{cases} \Leftrightarrow x = 2.
 \end{aligned}$$

Ответ: 2.

220. Левая часть первого неравенства системы всегда неотрицательна. Значит, неравенство имеет решение тогда и только тогда, когда

$(x - 2)^2(x^2 + 2x - 1)^2 = 0$. Произведение множителей равно нулю, если хотя бы один из них равен нулю. Таким образом, решением первого неравенства системы являются корни уравнений $x - 2 = 0$ и $x^2 + 2x - 1 = 0$: $x_1 = 2$, $x_2 = -1 + \sqrt{2}$, $x_3 = -1 - \sqrt{2}$. Из них только $x_2 = -1 + \sqrt{2}$ удовлетворяет второму неравенству системы.

Ответ: $-1 + \sqrt{2}$.

221. Левая часть первого неравенства системы всегда неотрицательна, так как $4x^2 - 4x + 1 = (2x - 1)^2$. Следовательно, x является решением первого неравенства тогда и только тогда, когда

$$(2x - 1)^2(x^2 + 2x - 4)^2 = 0 \Leftrightarrow \begin{cases} 2x - 1 = 0, \\ x^2 + 2x - 4 = 0; \end{cases} \Leftrightarrow \begin{cases} x = 0,5, \\ x = -1 + \sqrt{5}, \\ x = -1 - \sqrt{5}. \end{cases}$$

Подстановкой убеждаемся, что из чисел $0,5$; $-1 + \sqrt{5}$; $-1 - \sqrt{5}$ лишь последнее удовлетворяет второму неравенству системы.

Ответ: $-1 - \sqrt{5}$.

222. Проведём следующие преобразования данного неравенства:

$$x^4 - 4x^3 + 4x^2 \geq 4; \quad x^2(x^2 - 4x + 4) \geq 4; \quad x^2(x - 2)^2 \geq 4.$$

Последнее неравенство равносильно совокупности

$$\begin{cases} x(x - 2) \geq 2, \\ x(x - 2) \leq -2; \end{cases} \Leftrightarrow \begin{cases} x^2 - 2x - 2 \geq 0, \\ x^2 - 2x + 2 \leq 0; \end{cases} \Leftrightarrow \begin{cases} (x - (1 - \sqrt{3}))(x - 1 - \sqrt{3}) \geq 0, \\ (x - 1)^2 + 1 \leq 0; \end{cases} \Leftrightarrow \begin{cases} x \leq 1 - \sqrt{3}, \\ x \geq 1 + \sqrt{3}. \end{cases}$$

Ответ: $(-\infty; 1 - \sqrt{3}] \cup [1 + \sqrt{3}; +\infty)$.

223. Проведём следующие преобразования данного неравенства:

$$x^4 - 12x^3 + 36x^2 \geq 81; \quad x^2(x^2 - 12x + 36) \geq 81; \quad x^2(x - 6)^2 \geq 81.$$

Последнее неравенство равносильно совокупности

$$\begin{cases} x(x - 6) \geq 9, \\ x(x - 6) \leq -9; \end{cases} \Leftrightarrow \begin{cases} x^2 - 6x - 9 \geq 0, \\ x^2 - 6x + 9 \leq 0; \end{cases} \Leftrightarrow \begin{cases} x \leq 3 - 3\sqrt{2}, \\ x \geq 3 + 3\sqrt{2}, \\ (x - 3)^2 \leq 0; \end{cases} \Leftrightarrow \begin{cases} x \leq 3 - 3\sqrt{2}, \\ x \geq 3 + 3\sqrt{2}, \\ x = 3. \end{cases}$$

Ответ: $(-\infty; 3 - 3\sqrt{2}] \cup [3 + 3\sqrt{2}; +\infty) \cup \{3\}$.

$$224. (2x^2 - x)^2 < 1 \Leftrightarrow |2x^2 - x| < 1 \Leftrightarrow \begin{cases} 2x^2 - x < 1, \\ 2x^2 - x > -1; \end{cases} \Leftrightarrow \\ \Leftrightarrow \begin{cases} 2x^2 - x - 1 < 0, \\ 2x^2 - x + 1 > 0; \end{cases} \Leftrightarrow -0,5 < x < 1.$$

Ответ: $(-0,5; 1)$.

225. $|x + 1| \geq 0$, $|x| \geq 0$, поэтому равенство $|x + 1| + |x| = 0$ невозможно ($|x + 1|$ и $|x|$ не обращаются в нуль одновременно). Следовательно, $|x + 1| + |x| > 0$ при всех x . Умножив обе части исходного неравенства на $|x + 1| + |x|$, получим $(|x + 1| - |x|)^2 (|x + 1| + |x|)^2 < 1$; $(|x + 1|^2 - |x|^2)^2 < 1$;
 $((x + 1)^2 - x^2)^2 < 1$; $(2x + 1)^2 < 1 \Leftrightarrow |2x + 1| < 1$; $\begin{cases} 2x + 1 < 1, \\ 2x + 1 > -1; \end{cases}$
 $\begin{cases} x < 0, \\ x > -1. \end{cases}$

Ответ: $(-1; 0)$.

$$226. \begin{cases} \sqrt{x^2 + 4x + 3} \geq 0, \\ \sqrt{(x^2 - 5x + 5)^2} \leq 1; \end{cases} \Leftrightarrow \begin{cases} x^2 + 4x + 3 \geq 0, \\ |x^2 - 5x + 5| \leq 1; \end{cases} \Leftrightarrow \\ \Leftrightarrow \begin{cases} x^2 + 4x + 3 \geq 0, \\ x^2 - 5x + 5 \geq -1, \\ x^2 - 5x + 5 \leq 1; \end{cases} \Leftrightarrow \begin{cases} x^2 + 4x + 3 \geq 0, \\ x^2 - 5x + 6 \geq 0, \\ x^2 - 5x + 4 \leq 0; \end{cases} \Leftrightarrow \begin{cases} (x + 1)(x + 3) \geq 0, \\ (x - 2)(x - 3) \geq 0, \\ (x - 1)(x - 4) \leq 0; \end{cases} \\ \Leftrightarrow \begin{cases} \begin{cases} x \leq -3, \\ x \geq -1, \\ 1 \leq x \leq 2, \\ 3 \leq x \leq 4; \end{cases} \end{cases} \Leftrightarrow \begin{cases} 1 \leq x \leq 2, \\ 3 \leq x \leq 4. \end{cases}$$

Ответ: $[1; 2] \cup [3; 4]$.

$$227. \begin{cases} \sqrt{5x + 6 - x^2} \geq 0, \\ \sqrt{(x^2 - 8x + 11)^2} \leq 4; \end{cases} \Leftrightarrow \begin{cases} 5x + 6 - x^2 \geq 0, \\ |x^2 - 8x + 11| \leq 4; \end{cases} \Leftrightarrow \\ \Leftrightarrow \begin{cases} x^2 - 5x - 6 \leq 0, \\ x^2 - 8x + 11 \geq -4, \\ x^2 - 8x + 11 \leq 4; \end{cases} \Leftrightarrow \begin{cases} (x - 6)(x + 1) \leq 0, \\ (x - 5)(x - 3) \geq 0, \\ (x - 1)(x - 7) \leq 0; \end{cases} \Leftrightarrow \\ \Leftrightarrow \begin{cases} -1 \leq x \leq 6, \\ \begin{cases} x \leq 3, \\ x \geq 5, \\ 1 \leq x \leq 7; \end{cases} \end{cases} \Leftrightarrow \begin{cases} -1 \leq x \leq 6, \\ \begin{cases} 1 \leq x \leq 3, \\ 5 \leq x \leq 7; \end{cases} \end{cases} \Leftrightarrow \begin{cases} 1 \leq x \leq 3, \\ 5 \leq x \leq 6. \end{cases}$$

Ответ: $[1; 3] \cup [5; 6]$.

$$\begin{aligned}
 228. \quad & \left\{ \begin{array}{l} \sqrt{-x^2 + 3,5x + 4,5} \geq 0, \\ \sqrt{(x^2 - 7x + 11)^2} \geq 1; \end{array} \right. \Leftrightarrow \left\{ \begin{array}{l} \sqrt{-x^2 + 3,5x + 4,5} \geq 0, \\ |x^2 - 7x + 11| \geq 1; \end{array} \right. \Leftrightarrow \\
 & \Leftrightarrow \left\{ \begin{array}{l} -(x - 4,5)(x + 1) \geq 0, \\ \left[\begin{array}{l} x^2 - 7x + 11 \leq -1, \\ x^2 - 7x + 11 \geq 1; \end{array} \right. \end{array} \right. \Leftrightarrow \left\{ \begin{array}{l} (x - 4,5)(x + 1) \leq 0, \\ \left[\begin{array}{l} (x - 4)(x - 3) \leq 0, \\ (x - 2)(x - 5) \geq 0; \end{array} \right. \end{array} \right. \Leftrightarrow \\
 & \Leftrightarrow \left\{ \begin{array}{l} -1 \leq x \leq 4,5, \\ \left[\begin{array}{l} 3 \leq x \leq 4, \\ x \leq 2, \\ x \geq 5; \end{array} \right. \end{array} \right. \Leftrightarrow \left[\begin{array}{l} -1 \leq x \leq 2, \\ 3 \leq x \leq 4. \end{array} \right.
 \end{aligned}$$

Ответ: $[-1; 2] \cup [3; 4]$.

$$\begin{aligned}
 229. \quad & \left\{ \begin{array}{l} \sqrt{-x^2 - 4,5x + 5,5} \geq 0, \\ \sqrt{(x^2 + 6x + 6,5)^2} \geq 1,5; \end{array} \right. \Leftrightarrow \left\{ \begin{array}{l} -x^2 - 4,5x + 5,5 \geq 0, \\ |x^2 + 6x + 6,5| \geq 1,5; \end{array} \right. \Leftrightarrow \\
 & \Leftrightarrow \left\{ \begin{array}{l} -(x + 5,5)(x - 1) \geq 0, \\ \left[\begin{array}{l} x^2 + 6x + 6,5 \leq -1,5, \\ x^2 + 6x + 6,5 \geq 1,5; \end{array} \right. \end{array} \right. \Leftrightarrow \left\{ \begin{array}{l} (x + 5,5)(x - 1) \leq 0, \\ \left[\begin{array}{l} (x + 4)(x + 2) \leq 0, \\ (x + 1)(x + 5) \geq 0; \end{array} \right. \end{array} \right. \Leftrightarrow \\
 & \Leftrightarrow \left\{ \begin{array}{l} -5,5 \leq x \leq 1, \\ \left[\begin{array}{l} -4 \leq x \leq -2, \\ x \leq -5, \\ x \geq -1; \end{array} \right. \end{array} \right. \Leftrightarrow \left[\begin{array}{l} -5,5 \leq x \leq -5, \\ -1 \leq x \leq 1, \\ -4 \leq x \leq -2. \end{array} \right.
 \end{aligned}$$

Ответ: $[-5,5; -5] \cup [-4; -2] \cup [-1; 1]$.

230. 1) Сделаем замену в первом неравенстве системы: $t = x^2 - 4x - 3$, $t \neq 0$. Тогда неравенство примет вид $t^2 - 8 + \frac{16}{t^2} \leq 0$; $\left(t - \frac{4}{t}\right)^2 \leq 0$.

Следовательно, $t - \frac{4}{t} = 0$; $t^2 - 4 = 0$; $t_1 = -2$, $t_2 = 2$.

Если $t = -2$, то $x^2 - 4x - 3 = -2$; $x_1 = 2 - \sqrt{5}$, $x_2 = 2 + \sqrt{5}$.

Если $t = 2$, то $x^2 - 4x - 3 = 2$; $x_3 = -1$, $x_4 = 5$.

$$2) x^2 - 4x - 5 \geq 0 \Leftrightarrow (x + 1)(x - 5) \geq 0 \Leftrightarrow \left[\begin{array}{l} x \leq -1, \\ x \geq 5. \end{array} \right.$$

3) Учитывая, что $2 < \sqrt{5} < 3$, получаем $-1 < x_1 < x_2 < 5$, следовательно, $x_1 = 2 - \sqrt{5}$, $x_2 = 2 + \sqrt{5}$ не являются решениями системы. Очевидно, что $x_3 = -1$, $x_4 = 5$ являются решениями второго неравенства, а значит, и решениями системы.

Ответ: -1 ; 5 .

231. 1) Сделаем замену в первом неравенстве системы: $t = x^2 - 3x + 5$, $t \neq 0$. Тогда неравенство примет вид $t^2 - 18 + \frac{81}{t^2} \leq 0$; $\left(t - \frac{9}{t}\right)^2 \leq 0$.

Следовательно, $t - \frac{9}{t} = 0$; $t^2 - 9 = 0$; $t_1 = -3$, $t_2 = 3$.

Если $t = -3$, то $x^2 - 3x + 5 = -3$; решений нет.

Если $t = 3$, то $x^2 - 3x + 5 = 3$; $x_1 = 1$, $x_2 = 2$.

$$2) x^2 + x - 2 \leq 0 \Leftrightarrow (x+2)(x-1) \leq 0 \Leftrightarrow -2 \leq x \leq 1.$$

3) Очевидно, что $x_2 = 2$ не является решением второго неравенства, а $x_1 = 1$ является решением второго неравенства, а значит, и решением системы.

Ответ: 1.

232. 1) При $x^2 - 4 \neq 0$ исходное неравенство равносильно системе

$$\begin{cases} x^2 - 4 > 0, \\ x^2 + 2x - 15 \geq 0; \end{cases} \Leftrightarrow \begin{cases} (x-2)(x+2) > 0, \\ (x-3)(x+5) \geq 0; \end{cases} \Leftrightarrow \begin{cases} x < -2, \\ x > 2, \\ x \leq -5, \\ x \geq 3; \end{cases} \Leftrightarrow \begin{cases} x \leq -5, \\ x \geq 3. \end{cases}$$

2) При $x^2 - 4 = 0$ $x = \pm 2$ — данное в условии неравенство выполнено.

Ответ: $(-\infty; -5] \cup \{-2; 2\} \cup [3; +\infty)$.

233. 1) При $9 - x^2 \neq 0$ исходное неравенство равносильно системе

$$\begin{cases} 9 - x^2 > 0, \\ x^2 + x - 2 \leq 0; \end{cases} \Leftrightarrow \begin{cases} (3-x)(3+x) > 0, \\ (x+2)(x-1) \leq 0; \end{cases} \Leftrightarrow \begin{cases} -3 < x < 3, \\ -2 \leq x \leq 1; \end{cases} \Leftrightarrow -2 \leq x \leq 1.$$

2) При $9 - x^2 = 0$ $x = \pm 3$ — данное в условии неравенство выполнено.

Ответ: $[-2; 1] \cup \{-3; 3\}$.

$$234. \frac{x^2}{16} \leq \frac{3-2x}{3} \Leftrightarrow 3x^2 \leq 48 - 32x \Leftrightarrow 3x^2 + 32x - 48 \leq 0 \Leftrightarrow$$

$$\Leftrightarrow 3\left(x - \frac{4}{3}\right)(x+12) \leq 0 \Leftrightarrow -12 \leq x \leq \frac{4}{3}.$$

Ответ: $\left[-12; \frac{4}{3}\right]$.

$$235. \frac{x^2}{8} \leq \frac{2-x}{3} \Leftrightarrow 3x^2 \leq 16 - 8x \Leftrightarrow 3x^2 + 8x - 16 \leq 0 \Leftrightarrow$$

$$\Leftrightarrow 3\left(x+4\right)\left(x - \frac{4}{3}\right) \leq 0 \Leftrightarrow -4 \leq x \leq \frac{4}{3}.$$

Ответ: $\left[-4; \frac{4}{3}\right]$.

$$236. \frac{x^2}{3} \leq \frac{5x-3}{4} \Leftrightarrow 4x^2 \leq 15x-9 \Leftrightarrow 4x^2 - 15x + 9 \leq 0 \Leftrightarrow$$

$$\Leftrightarrow 4\left(x - \frac{3}{4}\right)(x-3) \leq 0 \Leftrightarrow \frac{3}{4} \leq x \leq 3.$$

Ответ: $[0,75; 3]$.

$$237. \frac{x^2}{3} \geq \frac{x+14}{12} \Leftrightarrow 12x^2 \geq 3x+42 \Leftrightarrow 12x^2 - 3x - 42 \geq 0 \Leftrightarrow$$

$$\Leftrightarrow 4x^2 - x - 14 \geq 0 \Leftrightarrow 4(x+1,75)(x-2) \geq 0 \Leftrightarrow \begin{cases} x \leq -1,75, \\ x \geq 2. \end{cases}$$

Ответ: $(-\infty; -1,75] \cup [2; +\infty)$.

238. Условие, что разность дробей $\frac{58-5x}{3}$ и $\frac{2x+12}{2}$ неотрицательна,

$$\text{означает } \frac{58-5x}{3} - \frac{2x+12}{2} \geq 0 \Leftrightarrow 116 - 10x - 6x - 36 \geq 0 \Leftrightarrow$$

$\Leftrightarrow 80 - 16x \geq 0 \Leftrightarrow 16x \leq 80 \Leftrightarrow x \leq 5$. Наибольшее целое значение x , удовлетворяющее исходному условию, равно 5.

Ответ: 5.

239. Условие, что разность дробей $\frac{23-2x}{5}$ и $\frac{3x-11}{4}$ неположительна,

$$\text{означает } \frac{23-2x}{5} - \frac{3x-11}{4} \leq 0 \Leftrightarrow 92 - 8x - 15x + 55 \leq 0 \Leftrightarrow$$

$$\Leftrightarrow 147 - 23x \leq 0 \Leftrightarrow 23x \geq 147 \Leftrightarrow x \geq 6\frac{9}{23}.$$

Наименьшее целое значение x , удовлетворяющее условию, равно 7.

Ответ: 7.

240. Данное выражение определено, когда одновременно определены вы-

$$\text{ражения } \sqrt{-15 + 13x - 2x^2} \text{ и } \frac{1}{x^2 - 4}.$$

Обозначим $-15 + 13x - 2x^2 = t$. Так как \sqrt{t} имеет смысл при $t \geq 0$, то $-15 + 13x - 2x^2 \geq 0$; $-2(x-1,5)(x-5) \geq 0$; $(x-1,5)(x-5) \leq 0$; $x \in [1,5; 5]$.

Дробь $\frac{1}{x^2-4}$ определена, если $x^2-4 \neq 0$. $x^2 \neq 4$; $x \neq -2$; $x \neq 2$. Следовательно, областью определения исходного выражения являются все значения $x \in [1,5; 2) \cup (2; 5]$.

Ответ: $[1,5; 2) \cup (2; 5]$.

243. 49,5; 47,7; ... Найти ближайший к нулю положительный член прогрессии.

$$a_1 = 49,5, d = -1,8.$$

1) Пусть n — номер искомого члена прогрессии. Тогда

$$a_n = a_1 + d(n-1); 49,5 - 1,8 \cdot (n-1) = 0; 1,8 \cdot (n-1) = 49,5; n-1 = 27,5; n = 28,5. \text{ Так как } n \in N, \text{ то } n = 28.$$

$$2) a_{28} = 49,5 - 27 \cdot 1,8 = 0,9.$$

Ответ: 0,9.

244. Определим разность прогрессии: $d = -40,2 + 41,4 = 1,2$. Возьмём $a_1 = -41,4$. Пусть a_n — наиболее близкий к нулю отрицательный член

прогрессии. Тогда $\begin{cases} a_n < 0, \\ a_{n+1} \geq 0. \end{cases}$

$$\begin{cases} a_1 + d(n-1) < 0, & \begin{cases} -41,4 + 1,2n - 1,2 < 0, \\ -41,4 + 1,2n \geq 0; \end{cases} & \begin{cases} 1,2n < 42,6, \\ 1,2n \geq 41,4; \end{cases} \\ \begin{cases} n < 35,5, \\ n \geq 34,5. \end{cases} \end{cases}$$

Так как n — натуральное число, то $n = 35$. По формуле $a_n = a_1 + d(n-1)$ находим $a_{35} = -41,4 + 1,2 \cdot 34 = -0,6$.

Ответ: $-0,6$.

245. Определим разность арифметической прогрессии 101,1; 97,2; 93,3; ... $d = 97,2 - 101,1 = -3,9$. Возьмём $a_1 = 101,1$.

Пусть a_n — наиболее близкий к нулю отрицательный член прогрессии, тогда, если $a_{n-1} \geq 0$, то $a_n < 0$ (учитывая, что арифметическая прогрессия убывающая).

$$a_n = a_1 + d(n-1); a_n = 101,1 + 3,9 - 3,9n = 105 - 3,9n;$$

$$a_{n-1} = a_1 + d(n-2); a_{n-1} = 101,1 + 7,8 - 3,9n = 108,9 - 3,9n.$$

Решим систему неравенств

$$\begin{cases} a_n < 0, \\ a_{n-1} \geq 0; \end{cases} \Leftrightarrow \begin{cases} 105 - 3,9n < 0, \\ 108,9 - 3,9n \geq 0; \end{cases} \Leftrightarrow \begin{cases} 3,9n > 105, \\ 3,9n \leq 108,9; \end{cases} \Leftrightarrow \begin{cases} n > 26 \frac{12}{13}, \\ n \leq 27 \frac{12}{13}. \end{cases}$$

Так как n — натуральное число, то $n = 27$.

$$a_{27} = 105 - 3,9 \cdot 27 = 105 - 105,3 = -0,3.$$

Ответ: $-0,3$.

246. Высоты, на которые поднимался турист каждый час, образуют арифметическую прогрессию с первым членом, равным 580, и разностью -40 . Пусть n — количество часов, через которое он достигнет высоты 2500 м, тогда по формуле суммы первых n членов арифметической прогрессии получаем $\frac{(2 \cdot 580 - 40(n - 1))n}{2} = 2500$. В результате получаем квадратное

уравнение $20n^2 - 600n + 2500 = 0$. Решаем уравнение и находим корни $n = 5$ и $n = 25$. Второй корень не удовлетворяет условию задачи, так как $a_{25} = 580 - 40 \cdot 24 < 0$.

Замечание. Отметим, что эту задачу можно легко решить прикидкой.

Ответ: 5 ч.

247. По условию имеем арифметическую прогрессию, в которой $a_1 = 0,75$; $d = 0,5$. Пусть n — количество выстрелов, при которых произошло попадание в мишень. Так как стрелок набрал 99,75 баллов, то

$$S_n = \frac{2a_1 + d(n - 1)}{2} = 99,75; \quad \frac{2 \cdot 0,75 + 0,5(n - 1)}{2} = 99,75;$$

$$n^2 + 2n - 399 = 0; \quad n_1 = 19, \quad n_2 = -21.$$

Второй корень очевидно не удовлетворяет условию задачи. Следовательно, 19 выстрелов увенчались попаданиями. Так как всего было произведено 30 выстрелов, то неудачными оказались $30 - 19 = 11$ из них.

Ответ: 11.

248. По условию $a_n = 6n$, $a_n \leq 170$, следовательно, $6n \leq 170$; $n \leq \frac{170}{6}$;

$$n \leq 28\frac{1}{3}.$$

Найдём сумму натуральных чисел, которые делятся на 6:

$$S_n = \frac{a_1 + a_n}{2} \cdot n, \text{ где } a_1 = 6; a_{28} = 6 \cdot 28, n = 28.$$

$$S_{28} = \frac{6 + 6 \cdot 28}{2} \cdot 28 = (3 + 3 \cdot 28) \cdot 28 = 2436.$$

Ответ: 2436.

250. Из условия следует, что за 1 мин скорость увеличивается на $15 \frac{\text{км}}{\text{ч}}$.

Следовательно, получаем арифметическую прогрессию, в которой $a_1 = 40 + 15 = 55$, $d = 15$. Тогда $a_7 = a_1 + 6d = 55 + 6 \cdot 15 = 145$.

Ответ: 145 км/ч.

251. Имеем арифметическую прогрессию, у которой $a_1 = 5$, $d = 2$. Найдём n , при котором $S_n = 140$.

$$S_n = \frac{2a_1 + d(n-1)}{2} \cdot n; \frac{10 + 2(n-1)}{2} \cdot n = 140; n(4+n) = 140;$$

$n^2 + 4n - 140 = 0; n_1 = 10, n_2 = -14$. Отрицательный корень не удовлетворяет условию задачи, следовательно, $n = 10$.

Ответ: 10 дней.

252. Согласно условию, имеем арифметическую прогрессию, у которой $a_1 = 7, d = 7$. Найдём наибольшее $n \in N$, при котором $a_n \leq 370$:

$$a_n = a_1 + d(n-1); 7 + 7(n-1) \leq 370; 7n \leq 370; n \leq \frac{370}{7}; n \leq 52\frac{6}{7}.$$

Так как $n \in N$, то $n = 52$. Тогда сумма искомым чисел

$$S_{52} = \frac{2a_1 + d(52-1)}{2} \cdot 52 = (2 \cdot 7 + 7 \cdot 51) \cdot 26 = (14 + 357) \cdot 26 = 371 \cdot 26 = 9646.$$

Ответ: 9646.

253. Имеем арифметическую прогрессию, у которой $a_1 = 9, d = 9$. Найдём наибольшее $n \in N$, при котором $a_n \leq 400$:

$$a_n = a_1 + d(n-1); 9 + 9(n-1) \leq 400; 9n \leq 400; n \leq \frac{400}{9}; n \leq 44\frac{4}{9}.$$

Так как $n \in N$, то $n = 44$. Следовательно, сумма искомым чисел

$$S_{44} = \frac{2a_1 + d(44-1)}{2} \cdot 44 = (2 \cdot 9 + 9 \cdot 43) \cdot 22 = 9 \cdot 45 \cdot 22 = 8910.$$

Ответ: 8910.

254. Числа, делящиеся на 2 и 3, то есть на 6, это 6; 12; 18; 24; ...

Имеем арифметическую прогрессию, в которой $a_1 = 6; d = 6$.

Найдём наибольшее $n \in N$, при котором $a_n \leq 170$.

$$a_n = a_1 + d(n-1); 6 + 6n - 6 \leq 170; n \leq 28\frac{1}{3}.$$

Так как $n \in N$, то $n = 28$. Тогда сумма искомым чисел

$$S_{28} = \frac{2a_1 + d(28-1)}{2} \cdot 28 = (2 \cdot 6 + 6 \cdot 27) \cdot 14 = 2436.$$

Ответ: 2436.

255. Найдём сумму всех натуральных чисел, не превосходящих 160, и вычтем из неё сумму всех натуральных чисел, не превосходящих 160, которые делятся на 7. Так как все натуральные числа от 1 по 160 представляют собой арифметическую прогрессию с разностью 1, то сумма всех натуральных чисел, не превосходящих 160, равна

$$S_1 = \frac{1+160}{2} \cdot 160 = 12880. \text{ Натуральные числа, делящиеся на 7, об-}$$

разуют арифметическую прогрессию с разностью 7. Первый член этой прогрессии равен 7, а последний, не превосходящий 160, равен 154. Таким образом, среди первых 160 натуральных чисел $\frac{154}{7} = 22$ числа, делящихся на 7. Поэтому сумма таких чисел равна

$$S_2 = \frac{7 + 154}{2} \cdot 22 = 161 \cdot 11 = 1771. \text{ Искомая сумма равна}$$

$$S_1 - S_2 = 12880 - 1771 = 11109.$$

Ответ: 11109.

256. Определим разность прогрессии: $d = 78,3 - 84,1 = -5,8$. По условию $a_1 = 84,1$. Найдём наибольшее $n \in N$, при котором $a_n > 0$:

$$a_n = a_1 + d(n - 1); \quad 84,1 - 5,8(n - 1) > 0; \quad 84,1 - 5,8n + 5,8 > 0; \\ 5,8n < 89,9; \quad n < 15,5. \text{ Следовательно, искомое количество равно } 15.$$

Ответ: 15.

257. Пусть a — первое из чисел, образующих данную арифметическую прогрессию. Тогда $a + d$, $a + 2d$ — второе и третье из этих чисел. По условию, числа a^2 , $(a + d)^2$, $(a + 2d)^2$ образуют геометрическую прогрессию, а значит, знаменатель этой прогрессии $q = \frac{(a + d)^2}{a^2} = \frac{(a + 2d)^2}{(a + d)^2}$;

$$((a + d)^2)^2 = a^2(a + 2d)^2; \quad (a + d)^2 = |a \cdot (a + 2d)|. \text{ Учитывая, что } a > 0, \\ a + 2d > 0, \text{ имеем}$$

$$a^2 + 2ad + d^2 = a(a + 2d); \quad a^2 + 2ad + d^2 = a^2 + 2ad; \quad d^2 = 0; \quad d = 0.$$

Ответ: 0.

258. По условию задачи имеем: a_1, a_2, a_3 — арифметическая прогрессия, $a_1 + a_2 + a_3 = 27$. Так как $a_1 - 1, a_2 - 3, a_3 - 2$ — геометрическая прогрессия, то $(a_2 - 3)^2 = (a_1 - 1)(a_3 - 2)$. Пусть d — разность арифметической прогрессии, тогда числа $a_2 = a_1 + d$ и $a_3 = a_1 + 2d$ удовлетворяют системе уравнений

$$\begin{cases} a_1 + a_1 + d + a_1 + 2d = 27, \\ (a_1 + d - 3)^2 = (a_1 - 1) \cdot (a_1 + 2d - 2); \end{cases} \Leftrightarrow \\ \Leftrightarrow \begin{cases} a_1 = 9 - d, \\ (9 - d + d - 3)^2 = (8 - d)(9 - d + 2d - 2); \end{cases} \Leftrightarrow$$

$$\Leftrightarrow \begin{cases} a_1 = 9 - d, \\ 36 = (8 - d)(d + 7); \end{cases} \Leftrightarrow \begin{cases} a_1 = 9 - d, \\ d^2 - d - 20 = 0; \end{cases} \Leftrightarrow \begin{cases} a_1 = 9 - d, \\ \begin{cases} d = -4, \\ d = 5; \end{cases} \end{cases} \Leftrightarrow$$

$$\Leftrightarrow \begin{cases} \begin{cases} a_1 = 13, \\ d = -4, \\ a_1 = 4, \\ d = 5. \end{cases} \end{cases}$$

Таким образом, существуют два набора чисел, удовлетворяющих условию задачи: 1) 13, 9, 5 и 2) 4, 9, 14.

Ответ: {4, 9, 14}; {13, 9, 5}.

259. По условию задачи имеем: a_1, a_2, a_3 — арифметическая прогрессия, $a_1 + a_2 + a_3 = 12$. Так как $a_1 + 1; a_2 + 2; a_3 + 11$ — геометрическая прогрессия, то её знаменатель $q = \frac{a_2 + 2}{a_1 + 1} = \frac{a_3 + 11}{a_2 + 2}$; $(a_2 + 2)^2 = (a_1 + 1)(a_3 + 11)$.

Пусть d — разность арифметической прогрессии, тогда $a_2 = a_1 + d$, $a_3 = a_1 + 2d$. Значения d и a_1 найдём из системы уравнений

$$\begin{cases} a_1 + a_1 + d + a_1 + 2d = 12, \\ (a_1 + d + 2)^2 = (a_1 + 1) \cdot (a_1 + 2d + 11); \end{cases} \Leftrightarrow$$

$$\Leftrightarrow \begin{cases} a_1 = 4 - d, \\ (4 - d + d + 2)^2 = (4 - d + 1)(4 - d + 2d + 11); \end{cases} \Leftrightarrow$$

$$\Leftrightarrow \begin{cases} a_1 = 4 - d, \\ 36 = (5 - d)(15 + d); \end{cases} \Leftrightarrow \begin{cases} a_1 = 4 - d, \\ d^2 + 10d - 39 = 0; \end{cases} \Leftrightarrow$$

$$\Leftrightarrow \begin{cases} a_1 = 4 - d, \\ \begin{cases} d = -13, \\ d = 3; \end{cases} \end{cases} \Leftrightarrow \begin{cases} \begin{cases} a_1 = 17, \\ d = -13, \\ a_1 = 1, \\ d = 3. \end{cases} \end{cases}$$

Таким образом, существуют два набора чисел, удовлетворяющих условию задачи: 1) 17, 4, -9 и 2) 1, 4, 7.

Ответ: {1, 4, 7}; {17, 4, -9}.

260. По условию задачи имеем: a_1, a_2, a_3 — арифметическая прогрессия, $a_1 + a_2 + a_3 = 15$. Так как $a_1 + 1, a_2 + 1, a_3 + 4$ — геометрическая прогрессия, то $(a_2 + 1)^2 = (a_1 + 1)(a_3 + 4)$. Пусть d — разность арифметической прогрессии, тогда $a_2 = a_1 + d$, $a_3 = a_1 + 2d$. Значения a_1 и d найдём из системы уравнений

$$\begin{cases} a_1 + a_1 + d + a_1 + 2d = 15, \\ (a_1 + d + 1)^2 = (a_1 + 1)(a_1 + 2d + 4); \end{cases} \Leftrightarrow$$

$$\Leftrightarrow \begin{cases} a_1 = 5 - d, \\ (5 - d + d + 1)^2 = (5 - d + 1)(5 - d + 2d + 4); \end{cases} \Leftrightarrow$$

$$\Leftrightarrow \begin{cases} a_1 = 5 - d, \\ 36 = (6 - d)(9 + d); \end{cases} \Leftrightarrow \begin{cases} a_1 = 5 - d, \\ d^2 + 3d - 18 = 0; \end{cases} \Leftrightarrow \begin{cases} a_1 = 5 - d, \\ \begin{cases} d = -6, \\ d = 3; \end{cases} \end{cases} \Leftrightarrow$$

$$\Leftrightarrow \begin{cases} \begin{cases} a_1 = 11, \\ d = -6, \\ a_1 = 2, \\ d = 3. \end{cases} \end{cases}$$

Таким образом, существуют два набора чисел, удовлетворяющих условию задачи: 1) 11, 5, -1 и 2) 2, 5, 8.

Ответ: {11, 5, -1} и {2, 5, 8}.

261. По условию задачи имеем: a_1, a_2, a_3 — арифметическая прогрессия, $a_1 + a_2 + a_3 = 30$. Так как $a_1, a_2 - 4, a_3 - 5$ — геометрическая прогрессия, то $(a_2 - 4)^2 = a_1(a_3 - 5)$. Пусть d — разность арифметической прогрессии, тогда $a_2 = a_1 + d, a_3 = a_1 + 2d$. Значения d и a_1 найдём из системы

$$\begin{cases} a_1 + a_1 + d + a_1 + 2d = 30, \\ (a_1 + d - 4)^2 = a_1(a_1 + 2d - 5); \end{cases} \Leftrightarrow$$

$$\Leftrightarrow \begin{cases} a_1 = 10 - d, \\ (10 - d + d - 4)^2 = (10 - d)(10 - d + 2d - 5); \end{cases} \Leftrightarrow$$

$$\Leftrightarrow \begin{cases} a_1 = 10 - d, \\ 36 = (10 - d)(d + 5); \end{cases} \Leftrightarrow \begin{cases} a_1 = 10 - d, \\ d^2 - 5d - 14 = 0; \end{cases} \Leftrightarrow$$

$$\Leftrightarrow \begin{cases} a_1 = 10 - d, \\ \begin{cases} d = -2, \\ d = 7; \end{cases} \end{cases} \Leftrightarrow \begin{cases} \begin{cases} a_1 = 12, \\ d = -2, \\ a_1 = 3, \\ d = 7. \end{cases} \end{cases}$$

Таким образом, существуют два набора чисел, удовлетворяющих условию задачи: 1) 3, 10, 17 и 2) 12, 10, 8.

Ответ: {3, 10, 17} и {12, 10, 8}.

262. Пусть a_1, a_2, a_3 — члены данной арифметической прогрессии, d — её разность, b — первый член геометрической прогрессии. Так как по условию знаменатель геометрической прогрессии совпадает с её первым членом, то она имеет вид b, b^2, b^3 .

Из условия имеем $a_1 = b, a_2 = b^2 + 1, a_3 = b^3$. Поскольку $d = a_2 - a_1 = a_3 - a_2; a_1 + a_3 = 2a_2$, то $b + b^3 = 2(b^2 + 1); b^3 - 2b^2 + b - 2 = 0; (b - 2)(b^2 + 1) = 0; b = 2$. Итак, $b = 2, a_1 = b = 2, a_2 = b^2 + 1 = 5$. Следовательно, $d = a_2 - a_1 = 5 - 2 = 3$.

Ответ: 3.

263. Пусть a_1, a_2, a_3 — члены данной арифметической прогрессии, b — знаменатель геометрической прогрессии. Тогда согласно условию чис-

ла $a_1, a_2 - 1,5, a_3$ образуют геометрическую прогрессию, и $a_1 = 1,5b$; $a_2 = 1,5b^2 + 1,5$; $a_3 = 1,5b^3$. По свойству арифметической прогрессии $2a_2 = a_1 + a_3$, то есть $2(1,5b^2 + 1,5) = 1,5b^3 + 1,5b$; $b^3 - 2b^2 + b - 2 = 0$; $(b - 2)(b^2 + 1) = 0$; $b = 2$. Итак, $a_1 = 1,5b = 3$; $a_2 = 1,5b^2 + 1,5 = 7,5$; $d = a_2 - a_1 = 7,5 - 3 = 4,5$.

Ответ: 4,5.

264. Пусть a_1, a_2, \dots, a_5 — члены данной арифметической прогрессии, b — первый член геометрической прогрессии, а q — её знаменатель. Тогда $a_1 = b$; $a_2 = bq$; $a_5 = bq^2$. Так как $a_2 = a_1 + d$, $a_5 = a_1 + 4d$, где d — разность арифметической прогрессии, то $a_5 - a_1 = 4(a_2 - a_1)$, то есть $bq^2 - b = 4(bq - b)$, $b(q - 1)(q + 1) = 4b(q - 1)$; $b(q - 1)(q - 3) = 0$. Заметим, что $b \neq 0$; $q \neq 1$ (иначе арифметическая прогрессия не является возрастающей). Следовательно, $q = 3$. Итак, $a_1 = b$; $a_2 = bq = 3b = 3a_1$; $d = a_2 - a_1 = 3a_1 - a_1 = 2a_1$; $a_4 = a_1 + 3d = a_1 + 6a_1 = 7a_1$;
 $\frac{a_4}{a_1} = \frac{7a_1}{a_1} = 7$.

Ответ: 7.

265. Пусть a_1, a_2, \dots, a_7 — члены данной арифметической прогрессии, b — первый член геометрической прогрессии, а q — её знаменатель. Тогда $a_1 = b$; $a_2 = bq$; $a_7 = bq^2$. Так как $a_2 = a_1 + d$; $a_7 = a_1 + 6d$, где d — разность арифметической прогрессии, то $a_7 - a_1 = 6(a_2 - a_1)$, то есть $bq^2 - b = 6(bq - b)$; $b(q - 1)(q + 1) = 6b(q - 1)$; $b(q - 1)(q - 5) = 0$. Заметим, что $b \neq 0$, $q \neq 1$ (иначе арифметическая прогрессия не является возрастающей). Следовательно, $q = 5$. Итак, $q = 5$; $a_2 = bq = 5b = 5a_1$; $d = a_2 - a_1 = 5a_1 - a_1 = 4a_1$; $a_5 = a_1 + 4d = a_1 + 16a_1 = 17a_1$;
 $\frac{a_5}{a_1} = \frac{17a_1}{a_1} = 17$.

Ответ: 17.

266. Пусть указанная прогрессия существует, a_1 — первый член этой прогрессии, d — её разность. Тогда $a_3 = 2d + a_1$; $a_6 = 5d + a_1$. Так как по условию $a_3 = 7$; $a_6 = 13$, то d и a_1 найдём из системы уравнений

$$\begin{cases} 2d + a_1 = 7, \\ 5d + a_1 = 13; \end{cases} \Leftrightarrow \begin{cases} 3d = 6, \\ a_1 = 7 - 2d; \end{cases} \Leftrightarrow \begin{cases} d = 2, \\ a_1 = 3. \end{cases}$$
Тогда $a_8 = 7d + a_1 = 7 \cdot 2 + 3 = 17$, что соответствует условию. Следовательно, указанная в условии прогрессия существует.

Ответ: да.

267. Пусть указанная прогрессия существует, a_1 — первый член этой прогрессии, d — её разность. Тогда $a_4 = 3d + a_1$; $a_9 = 8d + a_1$. Так как по условию $a_4 = 8$; $a_9 = -7$, то d и a_1 найдём из системы уравнений

$$\begin{cases} 3d + a_1 = 8, \\ 8d + a_1 = -7; \end{cases} \Leftrightarrow \begin{cases} 5d = -15, \\ a_1 = 8 - 3d; \end{cases} \Leftrightarrow \begin{cases} d = -3, \\ a_1 = 17. \end{cases}$$

Следовательно, $a_{12} = 11d + a_1 = 11 \cdot (-3) + 17 = -16$. По условию $a_{12} = -17$. Значит, указанной в задаче прогрессии не существует.

Ответ: нет.

268. Пусть указанная прогрессия существует, a_1 — первый член этой прогрессии, d — её разность. Тогда $a_3 = 2d + a_1$; $a_8 = 7d + a_1$. Так как по условию $a_3 = -5$; $a_8 = 5$, то d и a_1 найдём из системы уравнений

$$\begin{cases} 2d + a_1 = -5, \\ 7d + a_1 = 5; \end{cases} \Leftrightarrow \begin{cases} 5d = 10, \\ a_1 = 5 - 7d; \end{cases} \Leftrightarrow \begin{cases} d = 2, \\ a_1 = -9. \end{cases}$$

Следовательно, $a_{11} = 10d + a_1 = 10 \cdot 2 - 9 = 11$. По условию $a_{11} = 12$. Значит, указанной в задаче прогрессии не существует.

Ответ: нет.

269. Пусть a_1, a_2, a_3 — члены данной арифметической прогрессии. По условию $a_1 + a_2 + a_3 = 24$. Так как $a_1, a_2 - 2, a_3 + 4$ — геометрическая прогрессия, то $(a_2 - 2)^2 = a_1(a_3 + 4)$. Пусть d — разность арифметической прогрессии, тогда $a_2 = a_1 + d$; $a_3 = a_1 + 2d$. Найдём значения a_1 и d из системы уравнений

$$\begin{cases} a_1 + (a_1 + d) + (a_1 + 2d) = 24, \\ (a_1 + d - 2)^2 = a_1(a_1 + 2d + 4); \end{cases} \Leftrightarrow$$

$$\Leftrightarrow \begin{cases} a_1 = 8 - d, \\ (8 - d + d - 2)^2 = (8 - d)(8 - d + 2d + 4); \end{cases} \Leftrightarrow$$

$$\Leftrightarrow \begin{cases} a_1 = 8 - d, \\ 36 = (8 - d)(12 + d); \end{cases} \Leftrightarrow \begin{cases} a_1 = 8 - d, \\ d^2 + 4d - 60 = 0; \end{cases} \Leftrightarrow$$

$$\Leftrightarrow \begin{cases} a_1 = 8 - d, \\ \begin{cases} d = -10, \\ d = 6; \end{cases} \end{cases} \Leftrightarrow \begin{cases} \begin{cases} a_1 = 18, \\ d = -10, \\ a_1 = 2, \\ d = 6. \end{cases} \end{cases}$$

Так как по условию $a_1 > 3$, то искомые числа: 18, 8, -2.

Ответ: 18; 8; -2.

270. Пусть a_1, a_2, a_3 — члены данной арифметической прогрессии. По условию $a_1 + a_2 + a_3 = 18$. Так как $a_1 + 2, a_2, a_3 + 1$ — геометрическая прогрессия, то $a_2^2 = (a_1 + 2)(a_3 + 1)$. Пусть d — разность арифметической прогрессии, тогда $a_2 = a_1 + d$; $a_3 = a_1 + 2d$. Найдём значения a_1 и d из системы уравнений

$$\begin{cases} a_1 + (a_1 + d) + (a_1 + 2d) = 18, \\ (a_1 + d)^2 = (a_1 + 2)(a_1 + 2d + 1); \end{cases} \Leftrightarrow$$

$$\Leftrightarrow \begin{cases} a_1 = 6 - d, \\ (6 - d + d)^2 = (6 - d + 2)(6 - d + 2d + 1); \end{cases} \Leftrightarrow$$

$$\Leftrightarrow \begin{cases} a_1 = 6 - d, \\ 36 = (8 - d)(7 + d); \end{cases} \Leftrightarrow \begin{cases} a_1 = 6 - d, \\ d^2 - d - 20 = 0; \end{cases} \Leftrightarrow \begin{cases} a_1 = 6 - d, \\ \begin{cases} d = -4, \\ d = 5; \end{cases} \end{cases} \Leftrightarrow$$

$$\Leftrightarrow \begin{cases} \begin{cases} a_1 = 10, \\ d = -4, \\ a_1 = 1, \\ d = 5. \end{cases} \end{cases}$$

Так как по условию $a_3 < 3$, то искомые числа: 10; 6; 2.

Ответ: 10; 6; 2.

271. Предположим, что числа $\sqrt{3}$, 2, $\sqrt{8}$ могут быть членами арифметической прогрессии. Так как $\sqrt{3} < 2 < \sqrt{8}$, то в арифметической прогрессии они расположены либо в указанном в задаче порядке (при $d > 0$), либо в обратном порядке (при $d < 0$). Ограничимся первым случаем (второй аналогичен).

Не нарушая общности, можем считать, что $a_1 = \sqrt{3}$; $a_n = 2$; $a_m = \sqrt{8}$ ($n, m \in \mathbb{N}$; $n < m$; $n, m \neq 1$).

$$\text{Тогда } 2 = a_n = a_1 + (n - 1)d = \sqrt{3} + (n - 1)d; \quad d = \frac{2 - \sqrt{3}}{n - 1};$$

$$\sqrt{8} = a_m = a_1 + (m - 1)d = \sqrt{3} + (m - 1)d; \quad d = \frac{\sqrt{8} - \sqrt{3}}{m - 1}.$$

Следовательно,

$$\begin{aligned} \frac{2 - \sqrt{3}}{n - 1} = \frac{\sqrt{8} - \sqrt{3}}{m - 1} &\Leftrightarrow \frac{m - 1}{n - 1} = \frac{\sqrt{8} - \sqrt{3}}{2 - \sqrt{3}} = \frac{(\sqrt{8} - \sqrt{3})(2 + \sqrt{3})}{(2 - \sqrt{3})(2 + \sqrt{3})} = \\ &= \frac{(\sqrt{8} - \sqrt{3})(2 + \sqrt{3})}{2^2 - (\sqrt{3})^2} = (\sqrt{8} - \sqrt{3})(2 + \sqrt{3}) = 4\sqrt{2} - 2\sqrt{3} + 2\sqrt{6} - 3. \end{aligned}$$

Так как $m, n \in \mathbb{N}$; $m, n > 1$, то дробь $\frac{m - 1}{n - 1} \in \mathbb{Q}$, и, значит, число $4\sqrt{2} - 2\sqrt{3} + 2\sqrt{6} - 3 \in \mathbb{Q}$. Покажем, что это неверно.

Если $4\sqrt{2} - 2\sqrt{3} + 2\sqrt{6} - 3 \in \mathbb{Q}$, то $4\sqrt{2} - 2\sqrt{3} + 2\sqrt{6} - 3 = \frac{p_1}{q_1}$, где $p_1 \in \mathbb{Z}$,

$q_1 \in \mathbb{N}$. Следовательно, $2\sqrt{2} - \sqrt{3} + \sqrt{6} = \frac{1}{2} \left(\frac{p_1}{q_1} + 3 \right) \in \mathbb{Q}$.

Обозначим $\frac{1}{2} \left(\frac{p_1}{q_1} + 3 \right) = \frac{p}{q}$, где $p \in \mathbb{Z}$, $q \in \mathbb{N}$. Тогда $2\sqrt{2} - \sqrt{3} + \sqrt{6} = \frac{p}{q}$;

$$2\sqrt{2} + \sqrt{6} = \frac{p}{q} + \sqrt{3}; \quad (2\sqrt{2} + \sqrt{6})^2 = \left(\frac{p}{q} + \sqrt{3} \right)^2; \quad 8 + 4\sqrt{12} + 6 =$$

$$= \frac{p^2}{q^2} + 2\frac{p}{q} \cdot \sqrt{3} + 3; \quad 8\sqrt{3} + 11 = \frac{p^2}{q^2} + \frac{2p}{q}\sqrt{3}; \quad \sqrt{3}\left(8 - \frac{2p}{q}\right) = \frac{p^2}{q^2} - 11;$$

$$\sqrt{3} = \frac{\frac{p^2}{q^2} - 11}{8 - \frac{2p}{q}} \in Q. \text{ Пусть } \sqrt{3} = \frac{r}{t}, \quad r \in Z, \quad t \in N \text{ и } \frac{r}{t} \text{ — несократимая}$$

дробь, тогда $(\sqrt{3})^2 = \left(\frac{r}{t}\right)^2$; $3t^2 = r^2$. Следовательно, $r^2 : 3 \Rightarrow r : 3 \Rightarrow$

$r^2 : 9 \Rightarrow t^2 : 3 \Rightarrow t : 3 \Rightarrow \frac{r}{t}$ — сократимая дробь. Пришли к противоречию.

Следовательно, число $4\sqrt{2} - 2\sqrt{3} + 2\sqrt{6} - 3 \notin Q$, а значит, предположение о том, что данные числа могут быть членами арифметической прогрессии, неверно.

Ответ: нет.

272. Предположим, что числа $\sqrt{2}$, 3 , $\sqrt{12}$ могут быть членами арифметической прогрессии. Так как $\sqrt{2} < 3 < \sqrt{12}$, то в арифметической прогрессии они расположены либо в указанном в задаче порядке (при $d > 0$), либо в обратном порядке (при $d < 0$). Не нарушая общности, можем считать, что $a_1 = \sqrt{2}$; $a_n = 3$; $a_m = \sqrt{12}$ ($n, m \in N$; $n < m$; $n, m \neq 1$). Тогда

$$3 = a_n = a_1 + (n-1)d = \sqrt{2} + (n-1)d; \quad d = \frac{3 - \sqrt{2}}{n-1}.$$

$$\sqrt{12} = a_m = a_1 + (m-1)d = \sqrt{2} + (m-1)d; \quad d = \frac{\sqrt{12} - \sqrt{2}}{m-1}.$$

Следовательно,

$$\begin{aligned} \frac{3 - \sqrt{2}}{n-1} &= \frac{\sqrt{12} - \sqrt{2}}{m-1} \Leftrightarrow \frac{m-1}{n-1} = \frac{\sqrt{12} - \sqrt{2}}{3 - \sqrt{2}} = \frac{(\sqrt{12} - \sqrt{2})(3 + \sqrt{2})}{(3 - \sqrt{2})(3 + \sqrt{2})} = \\ &= \frac{3\sqrt{12} - 3\sqrt{2} + \sqrt{12} \cdot 2 - \sqrt{2} \cdot \sqrt{2}}{9 - (\sqrt{2})^2} = \frac{3\sqrt{2} - 2\sqrt{6} - 2}{7}. \end{aligned}$$

Так как $m, n \in N$; $m, n > 1$, то дробь $\frac{m-1}{n-1} \in Q$, значит, число

$$\frac{3\sqrt{2} - 2\sqrt{6} - 2}{7} \in Q. \text{ Однако это неверно (докажите самостоятельно).}$$

Следовательно, предположение о том, что данные числа могут быть членами арифметической прогрессии, неверно.

Ответ: нет.

273. Пусть a_n ($n \in N$) — заданная арифметическая прогрессия, d — её разность. По условию задачи составим систему уравнений

$$\begin{cases} a_1 + 2d = 7, \\ a_1 + 4d = 13. \end{cases}$$

Отсюда $d = 3$, $a_1 = 1$. Следовательно, $a_2 = 4$; $a_6 = 16$. Легко увидеть, что числа 1, 4 и 16 образуют геометрическую прогрессию со знаменателем $q = 4$.

Ответ: да.

274. Пусть a_n ($n \in N$) — заданная арифметическая прогрессия, d — её разность. По условию задачи составим систему уравнений:

$$\begin{cases} a_1 + 2d = 8, \\ a_1 + 7d = 33. \end{cases}$$

Отсюда $5d = 25$; $d = 5$; $a_1 = -2$. Следовательно, $a_2 = 3$; $a_4 = 13$; $a_6 = 23$. Предположим, что эти числа образуют геометрическую прогрессию. Обозначим $b_1 = a_3 = 3$; $b_2 = a_4 = 13$; $b_3 = a_6 = 23$ — члены этой прогрессии. Тогда должно выполняться равенство $\frac{b_3}{b_2} = \frac{b_2}{b_1}$. Однако

$\frac{23}{13} \neq \frac{13}{3}$. Следовательно, предположение о том, что второй, четвёртый и шестой члены заданной арифметической прогрессии образуют геометрическую прогрессию, неверно.

Ответ: нет.

275. Пусть a_1, a_2, \dots, a_6 — члены данной арифметической прогрессии. По условию $a_2 + a_4 + a_6 = 18$; $a_2 \cdot a_4 \cdot a_6 = 120$. Тогда $a_2 = a_1 + d$; $a_4 = a_1 + 3d$; $a_6 = a_1 + 5d$. Значение чисел a_1 и d найдём из системы уравнений

$$\begin{cases} (a_1 + d) + (a_1 + 3d) + (a_1 + 5d) = 18, \\ (a_1 + d)(a_1 + 3d)(a_1 + 5d) = 120; \end{cases} \Leftrightarrow$$

$$\Leftrightarrow \begin{cases} a_1 = 6 - 3d, \\ (6 - 3d + d)(6 - 3d + 3d)(6 - 3d + 5d) = 120; \end{cases} \Leftrightarrow$$

$$\Leftrightarrow \begin{cases} a_1 = 6 - 3d, \\ (6 - 2d)(6 + 2d) = 20; \end{cases} \Leftrightarrow \begin{cases} a_1 = 6 - 3d, \\ 36 - 4d^2 = 20; \end{cases} \Leftrightarrow \begin{cases} a_1 = 6 - 3d, \\ \begin{cases} d = 2, \\ d = -2. \end{cases} \end{cases}$$

Следовательно, $a_1 = 0$ или $a_1 = 12$.

Ответ: 0; 12.

276. Пусть $a_1, a_2, \dots, a_n, \dots$ — члены заданной арифметической прогрессии. По условию $a_1 = -8$, $a_2 = -5$. Следовательно, разность этой прогрессии $d = a_2 - a_1 = -5 + 8 = 3$.

Пусть найдётся такое натуральное число n , что $a_n = 4$ есть n -й член данной прогрессии. Так как $a_n = (n - 1)d + a_1$, то должно выполняться $4 = (n - 1) \cdot 3 - 8$; $(n - 1) \cdot 3 = 12$; $n - 1 = 4$; $n = 5$. Следовательно, число 4 является пятым членом заданной прогрессии.

Ответ: да.

277. Пусть a_1, a_2, \dots, a_{10} — члены данной арифметической прогрессии. По условию $3 \cdot (a_1 + a_2 + a_3 + a_4 + a_5) = a_6 + a_7 + a_8 + a_9 + a_{10}$.

Пусть d — разность данной прогрессии, тогда

$$3(a_1 + a_1 + d + a_1 + 2d + a_1 + 3d + a_1 + 4d) = a_1 + 5d + a_1 + 6d + a_1 + 7d + a_1 + 8d + a_1 + 9d; 3(5a_1 + 10d) = 35d + 5a_1; d = 2a_1. \text{ Так как по условию } a_7 = 26, \text{ то } a_1 + 6d = 6(2a_1) + a_1 = 13a_1 = 26; a_1 = 2; d = 2a_1 = 4.$$

Следовательно, $a_3 = 2d + a_1 = 2 \cdot 4 + 2 = 10$.

Ответ: 10.

278. Пусть a_1, a_2, \dots, a_7 — члены данной арифметической прогрессии. По условию $2(a_1 + a_2 + a_3 + a_4) = a_5 + a_6 + a_7$.

Пусть d — разность данной прогрессии, тогда

$$2(a_1 + d + a_1 + 2d + a_1 + 3d + a_1) = 4d + a_1 + 5d + a_1 + 6d + a_1; 2(6d + 4a_1) = 15d + 3a_1; d = \frac{5}{3}a_1. \text{ Так как по условию } a_8 = 38, \text{ то } 7d + a_1 =$$

$$= 7 \cdot \frac{5}{3}a_1 + a_1 = \frac{38}{3}a_1 = 38; a_1 = 3; d = \frac{5}{3}a_1 = 5.$$

Следовательно, $a_2 = d + a_1 = 5 + 3 = 8$.

Ответ: 8.

279. Для решения задачи найдём сумму натуральных чисел от 100 до 150 включительно, затем сумму чисел в этом же диапазоне, делящихся на 6. Затем из первой суммы вычтем вторую.

Натуральные числа из диапазона от 100 до 150 включительно представляют собой арифметическую прогрессию, у которой $a_1 = 100$; $d = 1$. Число членов этой прогрессии равно $150 - 100 + 1 = 51$. Сумма первых

$$51 \text{ членов этой прогрессии } S_1 = \frac{(100 + 150) \cdot 51}{2} = 6375.$$

Натуральные числа из диапазона от 100 до 150 включительно, которые делятся на 6, представляют собой арифметическую прогрессию, у которой $a_1 = 102$; $d = 6$, $a_n = 150$. Определим число членов этой прогрессии:

$$n - 1 = \frac{150 - 102}{6} = 8; n = 9. \text{ Сумма первых 9 членов рассматриваемой}$$

прогрессии $S_2 = \frac{(102 + 150) \cdot 9}{2} = 1134$. Разность сумм прогрессий равна $6375 - 1134 = 5241$.

Ответ: 5241.

282. Это задача на арифметическую прогрессию. По условию число отжиманий в первый день $a_1 = 10$, разность прогрессии $d = 2$. Наша задача найти сумму членов этой прогрессии с 19-го по 31-й, то есть $S_{31} - S_{18}$.

Воспользуемся формулой $S_n = \frac{(2a_1 + d(n-1))n}{2}$. Имеем

$$S_{31} = \frac{(2 \cdot 10 + 2(31 - 1)) \cdot 31}{2} = 1240; \quad S_{18} = \frac{(20 + 2 \cdot 17) \cdot 18}{2} = 486.$$

Искомая величина $S_{31} - S_{18} = 1240 - 486 = 754$.

Ответ: 754.

283. Это задача на арифметическую прогрессию. По условию количество единиц продукции, произведённой в первом году, $a_1 = 50$, разность прогрессии $d = 15$. Необходимо найти сумму членов прогрессии с 8-го по 20-й включительно, то есть $S_{20} - S_7$. Воспользуемся формулой

$$S_n = \frac{(2a_1 + d(n-1))n}{2}. \quad \text{Имеем } S_{20} = \frac{(2 \cdot 50 + 15(20 - 1)) \cdot 20}{2} = 3850;$$

$$S_7 = \frac{(2 \cdot 50 + 15 \cdot 6) \cdot 7}{2} = 665.$$

Искомая величина $S_{20} - S_7 = 3850 - 665 = 3185$.

Ответ: 3185.

284. По условию имеем арифметическую прогрессию $a_n = 3n + 2$; $a_1 = 5$, $d = 3$.

Составим новую арифметическую прогрессию из членов прогрессии a_n с нечётными номерами. Для новой прогрессии получим: $b_1 = a_1 = 5$, $d_b = 6$. Сумма членов исходной прогрессии с нечётными номерами, меньшими 50, равна сумме первых 25 членов полученной прогрессии.

Сумма 25 членов новой прогрессии

$$S_{25} = \frac{(b_1 + b_{25}) \cdot 25}{2} = \frac{(5 + 5 + 6 \cdot 24) \cdot 25}{2} = 1925.$$

Ответ: 1925.

286. Пусть a_1 — количество сантиметров, которое проползла гусеница за первую минуту, a_2 — за вторую и т. д. Тогда числа a_1, a_2, \dots образуют арифметическую прогрессию, у которой $a_1 = 39$ и $d = -2$.

$S_n = a_1 + a_2 + \dots + a_n$ — количество сантиметров, которое проползла гусеница за первые n минут. Требуется найти число n , при котором

$S_n = 400$ см. Воспользуемся формулой $S_n = \frac{(2a_1 + d(n-1))n}{2}$. Полу-

чим $400 = \frac{(2 \cdot 39 - 2(n-1))n}{2}$; $n^2 - 40n + 400 = 0$;

$(n - 20)^2 = 0$; $n = 20$.

Ответ: 20.

287. Пусть a_1 — количество очков, которое начислили стрелку за первое попадание, a_2 — за второе и т. д. Числа a_1, a_2, \dots образуют арифметическую прогрессию, у которой $a_1 = 4$ и $d = 2$. $S_n = a_1 + a_2 + \dots + a_n$ — количество начисленных очков за n попаданий. По условию $S_n = 180$, $n \leq 20$. Требуется найти $20 - n$.

Воспользуемся формулой $S_n = \frac{(2a_1 + d(n-1))n}{2}$. Получим

$180 = \frac{(2 \cdot 4 + 2(n-1))n}{2}$; $n^2 + 3n - 180 = 0$; $n_{1,2} = \frac{-3 \pm 27}{2}$, $n \in \mathbb{N}$,

$n = 12$; $20 - n = 20 - 12 = 8$.

Ответ: 8.

288. Запишем сначала сумму первых 17 членов нашей арифметической прогрессии с первым членом a_1 и разностью $3d$:

$$S_{17} = \frac{(2a_1 + 3d(17-1)) \cdot 17}{2} = 17 \cdot (a_1 + 24d) = 17a_1 + 408d.$$

Затем запишем сумму первых 23 членов арифметической прогрессии с первым членом a_1 и разностью d :

$$S_{23} = \frac{(2a_1 + d(23-1)) \cdot 23}{2} = 23 \cdot (a_1 + 11d) = 23a_1 + 253d.$$

Запишем сумму первых 6 членов:

$$S_6 = \frac{(2a_1 + d(6-1)) \cdot 6}{2} = 6 \cdot \left(a_1 + \frac{5}{2}d\right) = 6a_1 + 15d.$$

Запишем их разность, то есть сумму членов с 7 по 23:

$$S_{7-23} = S_{23} - S_6 = 17a_1 + 238d.$$

По условию задачи $S_{17} - S_{7-23} = 153$. То есть $17a_1 + 408d - 17a_1 - 238d = 153$; $170d = 153$; $d = \frac{153}{170} = \frac{9}{10} = 0,9$.

Ответ: 0,9.

289. Пусть S — искомая сумма, S_1 — сумма всех чётных натуральных чисел, которые не превосходят 241, S_2 — сумма всех чётных натуральных чисел, которые делятся на 10 и не превосходят 241, тогда $S = S_1 - S_2$.

Найдём S_1 : $S_1 = \frac{2 + 240}{2} \cdot 120 = 14520$. Последовательность чисел, кратных 10 и не превосходящих 241, представляет арифметическую прогрессию, у которой $a_1 = 10$, $a_n = 240$. Найдём число членов этой прогрессии. Так как она задаётся формулой $a_n = 10n$, то $10n = 240$, $n = 24$.

$$\text{Итак, } S_2 = \frac{10 + 240}{2} \cdot 24 = 3000.$$

$$\text{Получаем } S = 14520 - 3000 = 11520.$$

Ответ: 11520.

290. Найдём количество натуральных чисел, не превосходящих 130, которые делятся на 17: $\frac{130}{17} = 7,64$. Значит, таких чисел 7. Нечётными из них будут $17 \cdot 1$, $17 \cdot 3$, $17 \cdot 5$, $17 \cdot 7$, то есть 4 числа. Найдём их сумму: $17 \cdot (1 + 3 + 5 + 7) = 17 \cdot 16 = 272$.

Найдём количество нечётных чисел, не превосходящих 130: $\frac{130}{2} = 65$. Это числа $1, 3, 5, \dots, 129$. Найдём их сумму: $S = \frac{(2 + 2 \cdot (65 - 1)) \cdot 65}{2} = 65^2 = 4225$.

Осталось отнять сумму тех нечётных чисел, которые делятся на 17: $4225 - 272 = 3953$.

Ответ: 3953.

292. После вычёркивания всех членов последовательности $b_n = 16 \cdot (-0,5)^n$, имеющих чётные номера, получилась бесконечно убывающая геометрическая прогрессия $b_{2n-1} = 16(-0,5)^{2n-1}$. Её знаменатель

$$q = \frac{b_{2(n+1)-1}}{b_{2n-1}} = \frac{b_{2n+1}}{b_{2n-1}} = \frac{16(-0,5)^{2n+1}}{16(-0,5)^{2n-1}} = (-0,5)^2 = \frac{1}{4},$$

$$\text{а сумма } S = \frac{b_1}{1 - q} = \frac{16(-0,5)}{1 - \frac{1}{4}} = \frac{-8}{\frac{3}{4}} = \frac{-32}{3} = -10\frac{2}{3}.$$

Ответ: $-10\frac{2}{3}$.

$$293. \begin{cases} b_1 + b_3 + b_4 = 279, \\ b_3 + b_5 + b_6 = 31, \\ q > 0; \end{cases} \quad \begin{cases} b_1 + b_1 \cdot q^2 + b_1 \cdot q^3 = 279, \\ b_1 \cdot q^2 + b_1 \cdot q^4 + b_1 \cdot q^5 = 31, \\ q > 0; \end{cases}$$

$$\begin{cases} b_1 \cdot (1 + q^2 + q^3) = 279, \\ b_1 \cdot q^2(1 + q^2 + q^3) = 31, \\ q > 0; \end{cases} \quad \begin{cases} q^2 = \frac{1}{9}, \\ q > 0; \end{cases} \quad q = \frac{1}{3}.$$

$$b_1 = \frac{279}{1 + q^2 + q^3}, b_1 = \frac{279 \cdot 27}{31}, b_1 = 3^5. b_8 = b_1 \cdot q^7, b_8 = 3^5 \cdot \frac{1}{3^7} = \frac{1}{9}.$$

Ответ: $\frac{1}{9}$.

294. Пусть b_1, b_2, \dots, b_6 — члены данной геометрической прогрессии, q — её знаменатель. По условию $b_1 + b_2 + b_3 = 9$; $b_4 + b_5 + b_6 = -72$.

Найдём b_1 и q из системы уравнений

$$\begin{cases} b_1 + b_1 \cdot q + b_1 \cdot q^2 = 9, \\ b_1 \cdot q^3 + b_1 \cdot q^4 + b_1 \cdot q^5 = -72; \end{cases} \Leftrightarrow \begin{cases} b_1 \cdot (1 + q + q^2) = 9, \\ b_1 \cdot q^3 \cdot (1 + q + q^2) = -72; \end{cases} \Leftrightarrow$$

$$\Leftrightarrow \begin{cases} b_1 = \frac{9}{1 + q + q^2}, \\ q^3 = -8; \end{cases} \Leftrightarrow \begin{cases} b_1 = 3, \\ q = -2. \end{cases}$$

Следовательно, $b_8 = b_1 \cdot q^7 = 3 \cdot (-2)^7 = 3 \cdot (-128) = -384$.

Ответ: -384 .

295. Пусть b_1, b_2, \dots, b_5 — члены данной геометрической прогрессии, q — её знаменатель. По условию $b_3 = b_2 + 6$, $b_5 = b_3 + 36$, $q > 1$.

Найдём значения b_1 и q из системы

$$\begin{cases} b_1 \cdot q^2 = b_1 \cdot q + 6, \\ b_1 \cdot q^4 = b_1 \cdot q^2 + 36; \end{cases} \Leftrightarrow \begin{cases} b_1 \cdot q \cdot (q - 1) = 6, \\ b_1 \cdot q^2 \cdot (q^2 - 1) = 36. \end{cases}$$

Разделив второе уравнение системы на первое ($q \neq 0$, $b_1 \neq 0$, $q \neq \pm 1$), получим $q \cdot (q + 1) = 6$, $q^2 + q - 6 = 0$, $q_1 = 2$, $q_2 = -3$ — не удовлетворяет условию $q > 1$. Таким образом, $q = 2$.

$$b_1 q(q - 1) = 6; 2b_1 = 6; b_1 = 3.$$

$$S_{10} = \frac{b_1 \cdot (q^{10} - 1)}{q - 1} = \frac{3 \cdot (2^{10} - 1)}{2 - 1} = 3 \cdot 1023 = 3069.$$

Ответ: 3069.

296. Пусть b_1, b_2, \dots, b_9 — члены данной геометрической прогрессии, q — её знаменатель. По условию $b_5 = b_3 + 8$; $b_9 = b_3 + 728$.

Найдём значения b_1 и q из системы уравнений

$$\begin{cases} b_1 \cdot q^4 = b_1 \cdot q^2 + 8, \\ b_1 \cdot q^8 = b_1 \cdot q^2 + 728; \end{cases} \Leftrightarrow \begin{cases} b_1 \cdot q^2 \cdot (q^2 - 1) = 8, \\ b_1 \cdot q^2 \cdot (q^6 - 1) = 728; \end{cases} \Leftrightarrow$$

$$\Leftrightarrow \begin{cases} b_1 = \frac{8}{q^2(q^2-1)}, \\ \frac{q^6-1}{q^2-1} = 91; \end{cases} \Leftrightarrow \begin{cases} b_1 = \frac{8}{q^2(q^2-1)}, \\ \frac{(q^2-1)(q^4+q^2+1)}{q^2-1} = 91; \end{cases} \Leftrightarrow$$

$$\Leftrightarrow \begin{cases} b_1 = \frac{8}{q^2(q^2-1)}, \\ q \neq \pm 1, \\ q^4 + q^2 - 90 = 0; \end{cases} \Leftrightarrow \begin{cases} b_1 = \frac{1}{9}, \\ \begin{cases} q = 3, \\ q = -3. \end{cases} \end{cases}$$

Следовательно, $b_7 = b_1 \cdot q^6 = \frac{1}{9} \cdot 3^6 = 3^4 = 81$.

Ответ: 81.

297. Так как по условию x_1 и x_2 — корни уравнения $x^2 - 12x + a = 0$, то по теореме, обратной теореме Виета, имеем

$$x_1 + x_2 = 12, x_1 \cdot x_2 = a.$$

Так как по условию x_3 и x_4 — корни уравнения $x^2 - 3x + b = 0$, то по теореме, обратной теореме Виета, имеем $x_3 + x_4 = 3, x_3 \cdot x_4 = b$.

Решим систему уравнений $\begin{cases} x_1 + x_2 = 12, \\ x_3 + x_4 = 3. \end{cases}$

Учитывая условие, что числа x_1, x_2, x_3, x_4 положительные и образуют геометрическую прогрессию ($x_1 > 0; q > 0$), получим

$$\begin{cases} x_1 + x_1 \cdot q = 12, \\ x_1 \cdot q^2 + x_1 \cdot q^3 = 3; \end{cases} \quad \begin{cases} x_1 \cdot (1 + q) = 12, \\ x_1 \cdot q^2 \cdot (1 + q) = 3. \end{cases}$$

Разделим второе уравнение системы на первое, получим

$$q^2 = \frac{1}{4}, q_1 = \frac{1}{2}, q_2 = -\frac{1}{2} \text{ — не удовлетворяет условию } q > 0, \text{ значит,}$$

$q = \frac{1}{2}$, тогда из 1-го уравнения системы получим

$$x_1 = \frac{12}{1 + \frac{1}{2}} = 8, x_2 = 8 \cdot \frac{1}{2} = 4, a = x_1 \cdot x_2 = 8 \cdot 4 = 32,$$

$$b = x_3 \cdot x_4 = x_1 \cdot q^2 \cdot x_1 \cdot q^3 = 8 \cdot \frac{1}{4} \cdot 8 \cdot \frac{1}{8} = 2.$$

Ответ: $a = 32, b = 2$.

298. Пусть q — знаменатель геометрической прогрессии с первым членом $x \neq 0$, то есть прогрессия имеет вид x, qx, q^2x . Пусть b — разность арифметической прогрессии $x, 2qx, 3q^2x$. Тогда

$$\begin{cases} x + b = 2qx, \\ x + 2b = 3q^2x; \end{cases} \Leftrightarrow \begin{cases} b = (2q - 1)x, \\ b = \frac{1}{2} \cdot (3q^2 - 1)x; \end{cases} \Rightarrow 2q - 1 = \frac{1}{2} \cdot (3q^2 - 1);$$

$3q^2 - 4q + 1 = 0$; $q_1 = \frac{1}{3}$, $q_2 = 1$. Поскольку заданная геометрическая

прогрессия убывает, то $0 < q < 1 \Rightarrow q = \frac{1}{3}$.

Ответ: $\frac{1}{3}$.

299. Пусть q — знаменатель геометрической прогрессии с первым членом $x \neq 0$, то есть прогрессия имеет вид x, qx, q^2x . Пусть b — разность арифметической прогрессии $x, 5qx, 2q^2x$. Тогда

$$\begin{cases} x + b = 5qx, \\ x + 2b = 2q^2x; \end{cases} \Leftrightarrow \begin{cases} b = (5q - 1)x, \\ b = \frac{1}{2} \cdot (2q^2 - 1)x; \end{cases} \Rightarrow 5q - 1 = \frac{1}{2} \cdot (2q^2 - 1) \Leftrightarrow$$

$\Leftrightarrow 2q^2 - 10q + 1 = 0 \Rightarrow q_{1,2} = \frac{5 \pm \sqrt{23}}{2}$. Поскольку заданная геометрическая прогрессия убывает, то $0 < q < 1$ — этому условию удовлетворяет лишь значение $q = \frac{5 - \sqrt{23}}{2}$.

Ответ: $\frac{5 - \sqrt{23}}{2}$.

300. Пусть q — знаменатель геометрической прогрессии с первым членом $x \neq 0$, то есть прогрессия имеет вид x, qx, q^2x . Пусть b — разность арифметической прогрессии $x, qx, \frac{q^2x}{3}$. Тогда

$$\begin{cases} x + b = qx, \\ x + 2b = \frac{q^2x}{3}; \end{cases} \Leftrightarrow \begin{cases} b = (q - 1)x, \\ b = \left(\frac{q^2}{6} - \frac{1}{2}\right)x; \end{cases} \Rightarrow q - 1 = \frac{q^2}{6} - \frac{1}{2} \Leftrightarrow$$

$\Leftrightarrow q^2 - 6q + 3 = 0 \Rightarrow q_{1,2} = 3 \pm \sqrt{6}$.

Поскольку заданная геометрическая прогрессия возрастает, то $q > 1 \Rightarrow q = 3 + \sqrt{6}$.

Ответ: $3 + \sqrt{6}$.

301. Пусть q — знаменатель геометрической прогрессии с первым членом $x \neq 0$, то есть прогрессия имеет вид x, qx, q^2x . Пусть b — разность арифметической прогрессии $\frac{x}{3}, qx, \frac{q^2x}{2}$. Тогда

$$\begin{cases} \frac{x}{3} + b = qx, \\ \frac{x}{3} + 2b = \frac{q^2 x}{2}; \end{cases} \Leftrightarrow \begin{cases} b = \left(q - \frac{1}{3}\right)x, \\ b = \left(\frac{q^2}{4} - \frac{1}{6}\right)x; \end{cases} \Rightarrow q - \frac{1}{3} = \frac{q^2}{4} - \frac{1}{6} \Leftrightarrow$$

$$\Leftrightarrow 3q^2 - 12q + 2 = 0 \Rightarrow q_{1,2} = 2 \pm \sqrt{\frac{10}{3}}.$$

Поскольку заданная геометрическая прогрессия возрастает, то $q > 1 \Rightarrow q = 2 + \sqrt{\frac{10}{3}}$.

Ответ: $2 + \sqrt{\frac{10}{3}}$.

302. Обозначим искомые числа через x, y, z . По условию, $x + y + z = 18$. Так как x, y, z образуют арифметическую прогрессию, то $x + z = 2y$.

Из второго условия следует, что числа $x + 1, y + 2, z + 7$ образуют геометрическую прогрессию, а значит, $(x + 1)(z + 7) = (y + 2)^2$.

Таким образом, получаем систему из трёх уравнений с тремя неизвестными

$$\begin{cases} x + y + z = 18, \\ x + z = 2y, \\ (x + 1)(z + 7) = (y + 2)^2. \end{cases}$$

Вычтя из первого уравнения второе, получим $y = 18 - 2y$, откуда $y = 6$. Подставив найденное значение y во второе и третье уравнение, получим систему

$$\begin{cases} y = 6, \\ x + z = 12, \\ (x + 1)(z + 7) = 64; \end{cases} \Leftrightarrow \begin{cases} y = 6, \\ z = 12 - x, \\ (x + 1)(19 - x) = 64. \end{cases}$$

Решая квадратное уравнение $(x + 1)(19 - x) = 64$, $x^2 - 18x + 45 = 0$, находим $x_1 = 3, x_2 = 15$. Значения неизвестной z соответственно равны $z_1 = 12 - 3 = 9, z_2 = 12 - 15 = -3$. Итак, имеем два набора чисел:

1) $x = 3, y = 6, z = 9$; 2) $x = 15, y = 6, z = -3$.

Второй набор не удовлетворяет условию задачи, так как образует убывающую прогрессию.

Ответ: 3; 6; 9.

303. Обозначим искомые числа через x, y, z . По условию, $x + y + z = 33$. Так как x, y, z образуют арифметическую прогрессию, то $x + z = 2y$.

Из второго условия следует, что числа $x, y - 3, z - 2$ образуют геометрическую прогрессию, следовательно, $x(z - 2) = (y - 3)^2$.

Таким образом, получаем систему из трёх уравнений с тремя неизвестными

$$\begin{cases} x + y + z = 33, \\ x + z = 2y, \\ x(z - 2) = (y - 3)^2. \end{cases}$$

Вычитая из первого уравнения второе, получим $y = 33 - 2y$, откуда $y = 11$. Подставив найденное значение y во второе и третье уравнения, получим систему

$$\begin{cases} y = 11, \\ x + z = 22, \\ x(z - 2) = 64; \end{cases} \Leftrightarrow \begin{cases} y = 11, \\ z = 22 - x, \\ x(20 - x) = 64. \end{cases}$$

Решая квадратное уравнение $x(20 - x) = 64$, $x^2 - 20x + 64 = 0$, находим $x_1 = 4$, $x_2 = 16$. Значения неизвестной z соответственно равны $z_1 = 22 - 4 = 18$, $z_2 = 22 - 16 = 6$.

Итак, имеем два набора чисел: 1) $x = 4$, $y = 11$, $z = 18$;
2) $x = 16$, $y = 11$, $z = 6$.

Первый набор не удовлетворяет условию, так как образует возрастающую прогрессию.

Ответ: 16; 11; 6.

304. Пусть a, aq, aq^2 — данная геометрическая прогрессия ($a \neq 0$), тогда $\frac{2}{3}a, aq, aq^2$ — арифметическая прогрессия, то есть существует число d , такое, что $\frac{2}{3}a + d = aq$ и $\frac{2}{3}a + 2d = aq^2$. Имеем систему

$$\begin{cases} \frac{2}{3}a + d = aq, \\ \frac{2}{3}a + 2d = aq^2. \end{cases}$$

Умножим первое уравнение системы на (-2) и сложим со вторым уравнением: $-\frac{2}{3}a = -2aq + aq^2$; $q^2 - 2q + \frac{2}{3} = 0$; $q = 1 \pm \frac{1}{\sqrt{3}}$. Так как по условию геометрическая прогрессия должна убывать, то $0 < q < 1$ — этому условию удовлетворяет только значение $q = 1 - \frac{1}{\sqrt{3}} = 1 - \frac{\sqrt{3}}{3}$.

Ответ: $1 - \frac{\sqrt{3}}{3}$.

305. Пусть a, aq, aq^2 — данная геометрическая прогрессия, тогда $a, \frac{3}{2}aq, aq^2$ — арифметическая прогрессия, то есть существует число d , такое, что $\frac{3}{2}aq = a + d$ и $aq^2 = a + 2d$. Имеем систему

$$\begin{cases} \frac{3}{2}aq = a + d, \\ aq^2 = a + 2d. \end{cases}$$

Умножим первое уравнение системы на (-2) и сложим со вторым уравнением: $aq^2 - 3aq = -a; q^2 - 3q + 1 = 0; q = \frac{3 \pm \sqrt{5}}{2}$.

Так как по условию геометрическая прогрессия должна возрастать, то $q > 1$ — этому условию удовлетворяет только значение $q = \frac{3 + \sqrt{5}}{2}$.

Ответ: $\frac{3 + \sqrt{5}}{2}$.

306. Отличные от нуля числа b_1, b_2, b_3 являются последовательными членами геометрической прогрессии тогда и только тогда, когда $b_1 \cdot b_3 = b_2^2$. Поэтому если x удовлетворяет условию задачи, то $x(5x - 2) = (x + 2)^2$; $5x^2 - 2x = x^2 + 4x + 4$; $4x^2 - 6x - 4 = 0$; $2x^2 - 3x - 2 = 0$. Последнее уравнение имеет корни $x_1 = -\frac{1}{2}$, $x_2 = 2$. x_1 не удовлетворяет условию задачи, так как не является целым.

Ответ: 2.

307. Так как числа b_1, b_2, b_3 являются последовательными членами геометрической прогрессии, то $b_1 \cdot b_3 = b_2^2$. Следовательно, искомое значение x удовлетворяет уравнению $-x(x - 5) = (x + 1)^2 \Leftrightarrow -x^2 + 5x = x^2 + 2x + 1, 2x^2 - 3x + 1 = 0$. Последнее уравнение имеет корни $x_1 = 0,5; x_2 = 1$.

Значение x_1 не удовлетворяет условию задачи, так как не является целым.

Ответ: 1.

308. Обозначим через q знаменатель геометрической прогрессии, а через d разность арифметической прогрессии. Тогда $b = aq; c = aq^2$; $a + b + d = b + c; b + c + d = c + a \Rightarrow a + d = c; b + d = a$. Имеем систему из двух уравнений $\begin{cases} a + d = aq^2, \\ aq + d = a. \end{cases}$

Вычтем из первого уравнения системы второе. Получим $a - aq = aq^2 - a$. Поскольку числа a, b, c различны, то $a \neq 0$. Следовательно, $q^2 + q - 2 = 0$. Корнями этого уравнения являются $q_1 = -2, q_2 = 1$. Значение $q = 1$ не подходит, так как по условию задачи числа a, b, c должны быть различны. Следовательно, $q = -2$.

Ответ: -2 .

309. Обозначим через q знаменатель геометрической прогрессии, а через d разность арифметической прогрессии. Тогда $b = aq; c = aq^2;$
 $c + a + d = a + b; a + b + d = b + c \Rightarrow c + d = b; a + d = c$.

Имеем систему из двух уравнений $\begin{cases} aq^2 + d = aq, \\ a + d = aq^2. \end{cases}$

Вычтем из первого уравнения системы второе. Получим $aq^2 - a = aq - aq^2$. Поскольку числа a, b, c различны, то $a \neq 0$. Следовательно, $2q^2 - q - 1 = 0$. Корнями этого уравнения являются $q_1 = -0,5, q_2 = 1$. Значение $q = 1$ не подходит, так как по условию задачи числа a, b, c должны быть различны. Следовательно, $q = -0,5$.

Ответ: $-0,5$.

310. Пусть b — первое из чисел, образующих данную геометрическую прогрессию. Тогда bq, bq^2 — второе и третье из этих чисел. По условию, числа $b^2, (bq)^2, (bq^2)^2$ образуют арифметическую прогрессию, а значит, $2(bq)^2 = b^2 + (bq^2)^2$. Сокращая на b^2 (из условия положительности b следует, что $b \neq 0$), получаем уравнение $2q^2 = 1 + q^4; (q^2 - 1)^2 = 0 \Leftrightarrow q^2 - 1 = 0; q_1 = -1, q_2 = 1$. Так как по условию все члены прогрессии положительны, то $q > 0$, поэтому $q = 1$ — единственное значение знаменателя прогрессии, удовлетворяющее всем требуемым условиям.

Ответ: 1.

311. Пусть a — первый член прогрессии, а d — её разность. Тогда $d > 0$ и числа $a, a + d, a + 3d$ образуют геометрическую прогрессию. По свойству геометрической прогрессии имеем $(a + d)^2 = a(a + 3d); a^2 + 2ad + d^2 = a^2 + 3ad; d^2 = ad$. Сократив на d ($d \neq 0$), получим $d = a$.

То есть числа $a, a + d$ и $a + 3d$ равны соответственно числам $a, 2a$ и $4a$. Они образуют геометрическую прогрессию со знаменателем 2.

Ответ: 2.

312. Пусть a — первый член прогрессии, а d — её разность. Тогда $d > 0$ и числа $a^2, (a + d)^2$ и $(a + 4d)^2$ образуют геометрическую прогрессию. Согласно свойству геометрической прогрессии имеем

$(a + d)^4 = a^2(a + 4d)^2; (a + d)^2 = |a(a + 4d)|$. Так как $a > 0, d > 0$, то $(a + d)^2 = a(a + 4d); a^2 + 2ad + d^2 = a^2 + 4ad; d^2 = 2ad$ (сокращаем на $d \neq 0$), $d = 2a$. То есть числа $a^2, (a + d)^2$ и $(a + 4d)^2$ равны соответ-

ственно числам a^2 , $9a^2$ и $81a^2$. Они образуют геометрическую прогрессию со знаменателем 9.

Ответ: 9.

313. Обозначим искомые числа через x , y , z . По условию $x + y + z = 28$. Так как x , y , z образуют геометрическую прогрессию, то $xz = y^2$.

Из второго условия следует, что числа $x + 1$, $y + 2$, $z - 1$ образуют арифметическую прогрессию, следовательно, $(x + 1) + (z - 1) = 2(y + 2)$.

Таким образом, получаем систему из трёх уравнений с тремя неизвестными

$$\begin{cases} x + y + z = 28, \\ x + z = 2y + 4, \\ xz = y^2. \end{cases}$$

Вычтя из первого уравнения второе, получим $y = 24 - 2y$, откуда $y = 8$. Подставив найденное значение y во второе и третье уравнения, получим систему

$$\begin{cases} y = 8, \\ x + z = 20, \\ xz = 64; \end{cases} \Leftrightarrow \begin{cases} y = 8, \\ z = 20 - x, \\ x(20 - x) = 64. \end{cases}$$

Решая уравнение $x(20 - x) = 64$, находим $x_1 = 4$, $x_2 = 16$. Значения неизвестной z соответственно равны $z_1 = 20 - 4 = 16$, $z_2 = 20 - 16 = 4$.

Получаем два набора чисел: 1) $x = 4$, $y = 8$, $z = 16$; 2) $x = 16$, $y = 8$, $z = 4$.

Первый набор удовлетворяет условию, а второй — нет, так как числа $16 + 1 = 17$; $8 + 2 = 10$; $4 - 1 = 3$ образуют убывающую прогрессию.

Ответ: 4; 8; 16.

314. Обозначим искомые числа через x , y , z . По условию, $x + y + z = 21$. Так как x , y , z образуют геометрическую прогрессию, то $xz = y^2$.

Из второго условия следует, что числа $x + 1$, $y + 1$, $z - 2$ образуют арифметическую прогрессию, следовательно, $(x + 1) + (z - 2) = 2(y + 1)$.

Таким образом, получаем систему из трёх уравнений с тремя неизвестными

$$\begin{cases} x + y + z = 21, \\ x + z = 2y + 3, \\ xz = y^2. \end{cases}$$

Вычитая из первого уравнения второе, получим $y = 18 - 2y$, откуда $y = 6$. Подставив найденное значение y во второе и третье уравнения, получим систему

$$\begin{cases} y = 6, \\ x + z = 15, \\ xz = 36; \end{cases} \Leftrightarrow \begin{cases} y = 6, \\ z = 15 - x, \\ x(15 - x) = 36. \end{cases}$$

Решая уравнение $x(15 - x) = 36$, находим $x_1 = 3$, $x_2 = 12$. Значения неизвестной z соответственно равны $z_1 = 15 - 3 = 12$, $z_2 = 15 - 12 = 3$.

Получаем два набора чисел: 1) $x = 3$, $y = 6$, $z = 12$; 2) $x = 12$, $y = 6$, $z = 3$.

Второй набор удовлетворяет условию, а первый — нет, так как числа $3 + 1 = 4$; $6 + 1 = 7$; $12 - 2 = 10$ образуют возрастающую арифметическую прогрессию.

Ответ: 12; 6; 3.

315. Пусть b_1 , b_2 , b_3 — данные положительные числа, q — знаменатель геометрической прогрессии, тогда $b_2 = b_1q$; $b_3 = b_1q^2$. По условию числа b_1 , b_2 , $\frac{b_3}{5}$ образуют арифметическую прогрессию, следовательно,

$$2b_2 = b_1 + \frac{b_3}{5}; \quad 2b_1q = b_1 + \frac{1}{5}b_1q^2. \text{ Заметим, что } b_1 \neq 0, q > 1, \text{ иначе прогрессия } b_1, b_2, b_3 \text{ не является возрастающей. Следовательно,}$$

$$2q = 1 + \frac{1}{5}q^2; \quad q^2 - 10q + 5 = 0; \quad q_{1,2} = 5 \pm 2\sqrt{5}. \text{ Значение } q = 5 - 2\sqrt{5}$$

не удовлетворяет условию $q > 1$, а значение $q = 5 + 2\sqrt{5}$ этому условию удовлетворяет, то есть является искомым.

Ответ: $5 + 2\sqrt{5}$.

316. Пусть b_1 , b_2 , b_3 — данные положительные числа, q — знаменатель геометрической прогрессии, тогда $b_2 = b_1q$, $b_3 = b_1q^2$. По условию, числа b_1 , b_2 , $0,8b_3$ образуют арифметическую прогрессию, следовательно, $2b_2 = b_1 + 0,8b_3$; $2b_1q = b_1 + 0,8b_1q^2$. Заметим, что $b_1 \neq 0$, $0 < q < 1$. Следовательно, $2q = 1 + 0,8q^2$; $4q^2 - 10q + 5 = 0$; $q_{1,2} = \frac{5 \pm \sqrt{5}}{4}$.

Значение $q = \frac{5 + \sqrt{5}}{4}$ не удовлетворяет условию $0 < q < 1$, а значение $q = \frac{5 - \sqrt{5}}{4}$ этому условию удовлетворяет, то есть является искомым.

Ответ: $\frac{5 - \sqrt{5}}{4}$.

317. Предположим, что такая прогрессия существует. Обозначим её знаменатель через q . Тогда $\frac{b_m}{b_n} = q^{m-n}$ ($m, n \in N, m > n$). То есть

$$\frac{b_5}{b_2} = \frac{12}{4} = 3 = q^3; \quad \frac{b_8}{b_5} = \frac{32}{12} = \frac{8}{3} = q^3. \quad \text{Отсюда } 3 = \frac{8}{3}. \quad \text{Противоречие.}$$

Значит, наше предположение было неверно и геометрической прогрессии с указанными членами не существует.

Ответ: нет.

318. Покажем, что данная прогрессия существует. По данным задачи находим

$$1) \frac{b_6}{b_1} = \frac{8 - 4\sqrt{2}}{1 - \sqrt{2}} = \frac{4(2 - \sqrt{2})}{1 - \sqrt{2}} = \frac{4(2 - \sqrt{2})(1 + \sqrt{2})}{(1 - \sqrt{2})(1 + \sqrt{2})} = -4\sqrt{2} = (-\sqrt{2})^5;$$

$$2) \frac{b_4}{b_1} = \frac{4 - 2\sqrt{2}}{1 - \sqrt{2}} = \frac{2(2 - \sqrt{2})}{1 - \sqrt{2}} = -2\sqrt{2} = (-\sqrt{2})^3;$$

$$3) \frac{b_6}{b_4} = \frac{8 - 4\sqrt{2}}{4 - 2\sqrt{2}} = \frac{2(4 - 2\sqrt{2})}{4 - 2\sqrt{2}} = 2 = (-\sqrt{2})^2.$$

Следовательно, данные числа образуют геометрическую прогрессию со знаменателем $q = -\sqrt{2}$.

Ответ: да.

319. Покажем, что указанная прогрессия существует. По данным задачи находим

$$1) \frac{b_6}{b_1} = \frac{63\sqrt{3}}{-7} = -9\sqrt{3} = (-\sqrt{3})^5;$$

$$2) \frac{b_4}{b_1} = \frac{21\sqrt{3}}{-7} = -3\sqrt{3} = (-\sqrt{3})^3;$$

$$3) \frac{b_6}{b_4} = \frac{63\sqrt{3}}{21\sqrt{3}} = 3 = (-\sqrt{3})^2.$$

Следовательно, данные числа образуют геометрическую прогрессию со знаменателем $q = -\sqrt{3}$.

Ответ: да.

320. Пусть q — знаменатель данной прогрессии. Так как по условию

$$\begin{cases} b_2 - b_4 = 3, \\ b_1 - b_3 = 6, \end{cases} \quad \text{то} \quad \begin{cases} b_1q - b_1q^3 = 3, \\ b_1 - b_1q^2 = 6; \end{cases} \quad \Leftrightarrow \begin{cases} b_1q(1 - q^2) = 3; \\ b_1(1 - q^2) = 6. \end{cases}$$

Разделим первое равенство на второе ($b_1 \neq 0, q \neq \pm 1$). Получим $q = \frac{1}{2}$. Из второго уравнения системы получим $b_1 = 8$. Сумма данной

$$\text{прогрессии } S = \frac{b_1}{1-q}; \quad S = \frac{8}{1-0,5} = 16.$$

Ответ: 16.

321. Пусть q — знаменатель данной прогрессии. Так как по условию задачи

$$\begin{cases} b_2 + b_4 = \frac{20}{3}, \\ b_1 + b_3 = 20, \end{cases} \text{ то } \begin{cases} b_1q + b_1q^3 = \frac{20}{3}, \\ b_1 + b_1q^2 = 20; \end{cases} \Leftrightarrow \begin{cases} b_1q(1+q^2) = \frac{20}{3}, \\ b_1(1+q^2) = 20. \end{cases}$$

Разделим первое уравнение системы на второе ($b_1 \neq 0, q \neq \pm 1$). Получим $q = \frac{1}{3}$. Из второго уравнения системы получим $b_1 = 18$. Сумма данной

$$\text{прогрессии } S = \frac{b_1}{1-q} = \frac{18}{1-\frac{1}{3}} = 27.$$

Ответ: 27.

322. Пусть b_1 — первый член прогрессии, q — её знаменатель. Согласно

$$\text{условию } q \neq 0 \text{ и } \begin{cases} b_1 \cdot q^2 = -18, \\ b_1 \cdot q^5 = 486; \end{cases} \Leftrightarrow \begin{cases} q^3 = -27, \\ b_1 = -\frac{18}{q^2}; \end{cases} \Leftrightarrow \begin{cases} q = -3, \\ b_1 = -2. \end{cases}$$

Следовательно, сумма первых трёх членов данной прогрессии

$$S_3 = \frac{b_1(q^3 - 1)}{q - 1} = \frac{-2 \cdot (-28)}{-4} = -14.$$

Ответ: -14.

323. Пусть b_1 — первый член данной прогрессии, q — её знаменатель. Со-

$$\text{гласно условию, } q \neq 0 \text{ и } \begin{cases} b_1q^3 = -32, \\ b_1q^8 = 1024; \end{cases} \Leftrightarrow \begin{cases} q^5 = -32, \\ b_1 = -\frac{32}{q^3}; \end{cases} \Leftrightarrow \begin{cases} q = -2, \\ b_1 = 4. \end{cases}$$

Следовательно, сумма первых четырёх членов данной прогрессии

$$S_4 = \frac{b_1(q^4 - 1)}{q - 1} = \frac{4 \cdot 15}{-3} = -20.$$

Ответ: -20.

324. В данной геометрической прогрессии $b_1 = 3$; $q = \frac{1}{3}$. Так как $\frac{1}{81} = 3 \cdot \left(\frac{1}{3}\right)^5 = b_1 q^5$, то число $\frac{1}{81}$ является членом данной прогрессии.

Ответ: да.

325. В данной геометрической прогрессии $b_1 = 0,5$; $q = \frac{1}{0,5} = 2$. Так как $64 = 0,5 \cdot 2^7 = b_1 q^7$, то число 64 является членом данной прогрессии.

Ответ: да.

326. Согласно условию, имеем систему уравнений

$$\begin{cases} b_1 + b_2 + b_3 = 21, \\ \frac{1}{b_1} + \frac{1}{b_2} + \frac{1}{b_3} = \frac{7}{12}, \end{cases} \text{ где } b_1 > 0, b_2 > 0, b_3 > 0.$$

Так как числа b_1, b_2 и b_3 образуют геометрическую прогрессию, то $b_2 = qb_1$; $b_1 = \frac{b_2}{q}$; $b_3 = qb_2$, где $q \neq 0$. Подставляя значения b_1 и b_3 в систему уравнений, получаем

$$\begin{cases} \frac{b_2}{q} + b_2 + b_2 q = 21, \\ \frac{q}{b_2} + \frac{1}{b_2} + \frac{1}{b_2 q} = \frac{7}{12}; \end{cases} \Leftrightarrow \begin{cases} b_2(1 + q + q^2) = 21q, \\ q^2 + q + 1 = \frac{7b_2 q}{12}; \end{cases} \Leftrightarrow \begin{cases} \frac{7b_2^2 q}{12} = 21q, \\ q^2 + q + 1 = \frac{7b_2 q}{12}. \end{cases}$$

Из первого уравнения системы получаем $b_2^2 = 36$; $b_2 = -6$ или $b_2 = 6$. Так как $b_2 > 0$, то $b_2 = 6$.

Ответ: 6.

327. Согласно условию, имеем систему уравнений $\begin{cases} b_1 + b_2 + b_3 = 14, \\ \frac{1}{b_1} + \frac{1}{b_2} + \frac{1}{b_3} = \frac{7}{8}; \end{cases}$

где $b_1 > 0, b_2 > 0, b_3 > 0$.

Так как числа b_1, b_2 и b_3 образуют геометрическую прогрессию, то $b_2 = qb_1$; $b_1 = \frac{b_2}{q}$; $b_3 = qb_2$, где $q \neq 0$. Подставляя значения b_1 и b_3 в систему уравнений, получаем

$$\begin{cases} \frac{b_2}{q} + b_2 + b_2q = 14, \\ \frac{q}{b_2} + \frac{1}{b_2} + \frac{1}{b_2q} = \frac{7}{8}; \end{cases} \Leftrightarrow \begin{cases} b_2(1 + q + q^2) = 14q, \\ q^2 + q + 1 = \frac{7b_2q}{8}; \end{cases} \Leftrightarrow$$

$$\Leftrightarrow \begin{cases} \frac{7b_2^2q}{8} = 14q, \\ q^2 + q + 1 = \frac{7b_2q}{8}. \end{cases}$$

Из первого уравнения системы получаем $b_2^2 = 16$; $b_2 = -4$ или $b_2 = 4$. Так как $b_2 > 0$, то $b_2 = 4$.

$$\text{Тогда } b_1 b_2 b_3 = \frac{b_2}{q} \cdot b_2 \cdot qb_2 = b_2^3 = 64.$$

Ответ: 64.

$$328. y = -\frac{9x + x^3}{3x}.$$

Найдём область определения функции, зная, что дробь определена, если знаменатель отличен от нуля: $D(y) = (-\infty; 0) \cup (0; +\infty)$. На $D(y)$

$$\text{имеем } -\frac{x \cdot (9 + x^2)}{3x} = -\frac{9 + x^2}{3} = -\frac{1}{3}x^2 - 3.$$

Графиком функции $y = -\frac{1}{3}x^2 - 3$ при $x \neq 0$ является парабола с вершиной $(0; -3)$, не принадлежащей ей, ветви направлены вниз. Составим таблицу:

x	-3	-1	1	3
y	-6	$-3\frac{1}{3}$	$-3\frac{1}{3}$	-6

График функции изображён на рисунке 144.

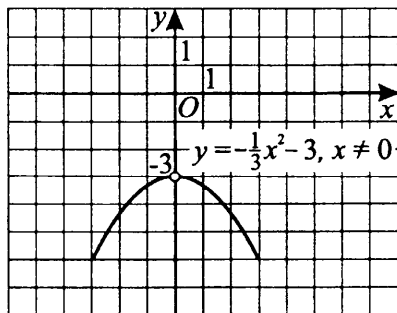


Рис. 144

$$329. y = \frac{8x - x^3}{4x}.$$

Найдём область определения функции, зная, что дробь определена, если знаменатель отличен от нуля: $D(y) = (-\infty; 0) \cup (0; +\infty)$. На $D(y)$

$$\text{имеем } \frac{8x - x^3}{4x} = \frac{x \cdot (8 - x^2)}{4x} = \frac{8 - x^2}{4} = -\frac{1}{4}x^2 + 2.$$

Графиком функции $y = -\frac{1}{4}x^2 + 2$ при $x \neq 0$ является парабола с вершиной $(0; 2)$, не принадлежащей графику, ветви направлены вниз. Составим таблицу:

x	-2	-1	1	2
y	1	$1\frac{3}{4}$	$1\frac{3}{4}$	1

График заданной функции изображён на рисунке 145.

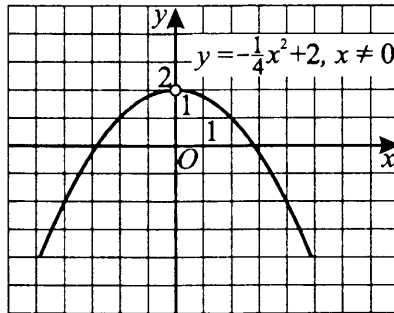


Рис. 145

$$330. y = \frac{x^3 + 3x^2 - 4x - 12}{2x + 6}.$$

Найдём область определения функции, зная, что дробь определена, если знаменатель отличен от нуля:

$D(y) = (-\infty; -3) \cup (-3; +\infty)$. На $D(y)$ имеем

$$y = \frac{x^2 \cdot (x + 3) - 4 \cdot (x + 3)}{2 \cdot (x + 3)} = \frac{(x^2 - 4) \cdot (x + 3)}{2 \cdot (x + 3)} = \frac{1}{2}x^2 - 2.$$

Графиком функции $y = \frac{1}{2}x^2 - 2$ при $x \neq -3$ является парабола, ветви которой направлены вверх, вершина находится в точке с координатами $(0; -2)$.

Так как $x \neq -3$, то точка с координатами $(-3; 2,5)$ не принадлежит графику.

Составим таблицу:

x	-2	-1	1	2
y	0	-1,5	-1,5	0

График заданной функции изображён на рисунке 146.

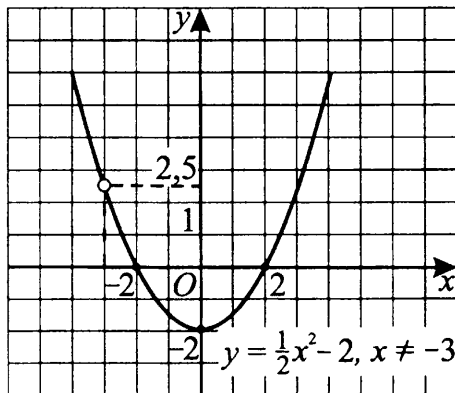


Рис. 146

$$331. y = \begin{cases} \frac{1}{x}, & \text{если } x \geq 1, \\ -(x-1)^2 + 1, & \text{если } x < 1. \end{cases}$$

1) $y = \frac{1}{x}$, если $x \geq 1$. Составим таблицу:

x	1	2	4
y	1	0,5	0,25

2) $y = -(x-1)^2 + 1$, если $x < 1$. График есть ветвь параболы (ветви направлены вниз, вершина $(1; 1)$).

Составим таблицу:

x	0	-1
y	0	-3

График заданной функции изображён на рисунке. 147.

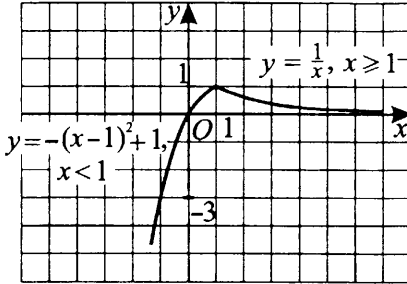


Рис. 147

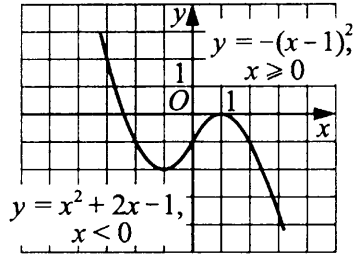


Рис. 148

332. График функции состоит из двух частей:

1) для неотрицательных x — это график функции $y = -(x - 1)^2$ — парабола, ветви направлены вниз, вершина $(1; 0)$;

2) для отрицательных x — это график функции $y = x^2 + 2x - 1$ — парабола, ветви направлены вверх, вершина $(-1; -2)$.

График заданной функции изображён на рис. 148.

333. 1) Графиком функции $y = (x - 3)^2 - 2$, $x \geq 1$ является парабола, ветви которой направлены вверх, а вершина находится в точке с координатами $(3; -2)$.

Дополнительные точки:

x	1	2	3	4	5
y	2	-1	-2	-1	2

2) Графиком функции $y = -2x^2 + 4$, $x < 1$ является парабола, ветви которой направлены вниз, вершина находится в точке с координатами $(0; 4)$.

Дополнительные точки:

x	-1	-2
y	2	-4

(см. рис. 149).

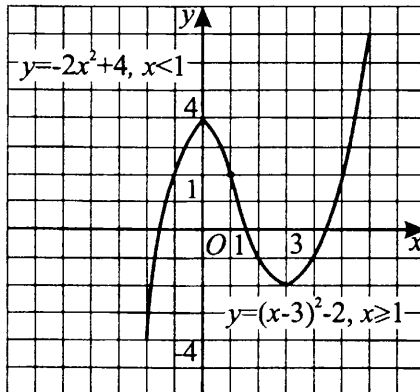


Рис. 149

$$334. y = \frac{x^2 - 4x + 3}{x - 3}.$$

Разложим на множители числитель дроби: $y = \frac{(x - 1)(x - 3)}{x - 3}$.

Найдём область определения функции, зная, что дробь определена, если знаменатель отличен от нуля: $D(y) = (-\infty; 3) \cup (3; +\infty)$.

На найденной области определения функция примет вид $y = x - 1$. Графиком функции является прямая без точки $(3; 2)$.

Составим таблицу:

x	0	1
y	-1	0

График заданной функции изображён на рисунке 150.

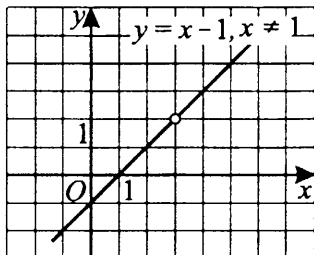


Рис. 150

$$335. y = \frac{x - 4}{x^2 - 4x}.$$

Разложим на множители знаменатель дроби: $y = \frac{x - 4}{x(x - 4)}$.

Найдём область определения функции, зная, что дробь определена, если знаменатель не равен нулю.

$$D(y) = (-\infty; 0) \cup (0; 4) \cup (4; +\infty).$$

На найденной области определения функция примет вид $y = \frac{1}{x}$. Так как

$$x \neq 4, \text{ то } y \neq \frac{1}{4}.$$

Графиком функции является гипербола без точки $(4; \frac{1}{4})$.

Составим таблицу:

x	$\frac{1}{4}$	$\frac{1}{2}$	1	2
y	4	2	1	$\frac{1}{2}$

График заданной функции изображён на рисунке 151.

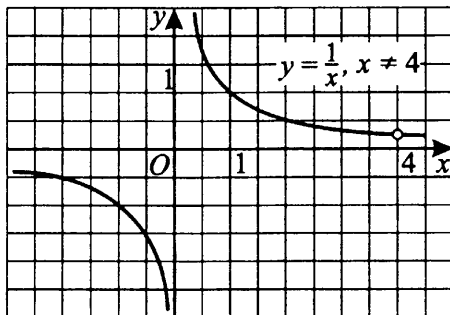


Рис. 151

$$336. y = x + \sqrt{x^2 - 6x + 9} + \sqrt{9 - 12x + 4x^2},$$

$$y = x + \sqrt{(x-3)^2} + \sqrt{(2x-3)^2}, y = x + |x-3| + |2x-3|.$$

1) Найдём, при каких значениях x выражения, стоящие под знаком модуля, равны нулю.

$$x - 3 = 0, x = 3; 2x - 3 = 0, x = 1,5.$$

2) Рассмотрим функцию на каждом промежутке (см. рис. 152):

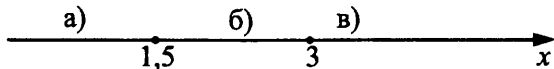


Рис. 152

а) $x < 1,5$. $y = x + 3 - x + 3 - 2x$, $y = -2x + 6$.

x	0	1
y	6	4

б) $1,5 \leq x < 3$. $y = x + 3 - x + 2x - 3$, $y = 2x$.

x	1,5	2
y	3	4

$$в) x \geq 3. x + x - 3 + 2x - 3, y = 4x - 6.$$

x	3	4
y	6	10

$$\text{Итак, } y = \begin{cases} -2x + 6, & \text{если } x < 1,5, \\ 2x, & \text{если } 1,5 \leq x < 3, \\ 4x - 6, & \text{если } x \geq 3. \end{cases}$$

График заданной функции изображён на рисунке 153.

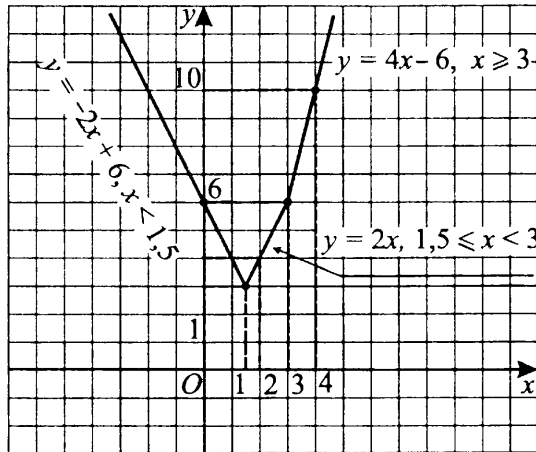


Рис. 153

$$337. y = \sqrt{16x^2 + 56x + 49} + \sqrt{x^2 - 4x + 4} - 5x, \\ y = \sqrt{(4x + 7)^2} + \sqrt{(x - 2)^2} - 5x, y = |4x + 7| + |x - 2| - 5x.$$

1) Найдём нули выражений, стоящих в модульных скобках:

$$4x + 7 = 0, x = -1,75; x - 2 = 0, x = 2.$$

2) Рассмотрим функцию на каждом промежутке (см. рис. 154):

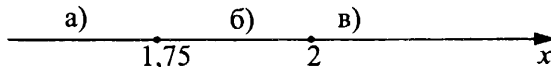


Рис. 154

$$а) x < -1,75. y = -4x - 7 + 2 - x - 5x, y = -10x - 5.$$

x	-2	-2,5
y	15	20

$$б) -1,75 \leq x < 2. y = 4x + 7 + 2 - x - 5x, y = -2x + 9.$$

x	0	1
y	9	7

$$в) x \geq 2. y = 4x + 7 + x - 2 - 5x, y = 5.$$

$$\text{Итак, } y = \begin{cases} -10x - 5, & \text{если } x < -1,75, \\ -2x + 9, & \text{если } -1,75 \leq x < 2, \\ 5, & \text{если } x \geq 2. \end{cases}$$

График заданной функции изображён на рисунке 155.

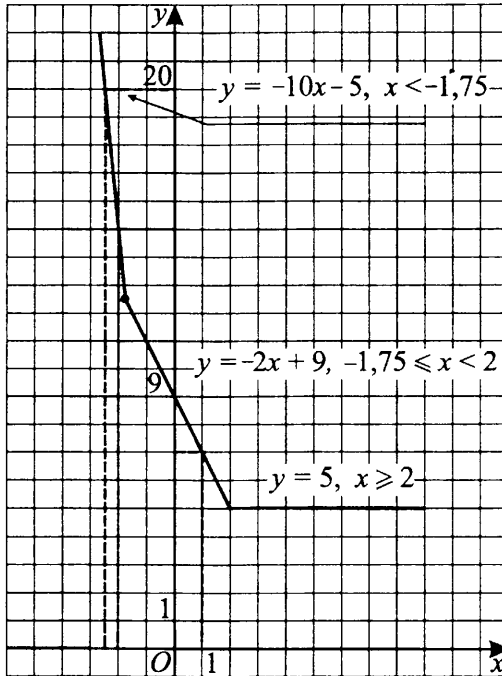


Рис. 155

$$338. y = \frac{(x^2 - 5x + 6)(x^2 - 5x + 4)}{(x - 4)(2 - x)}.$$

Разложим на множители квадратные трёхчлены, стоящие в числителе:

$$y = -\frac{(x - 2) \cdot (x - 3) \cdot (x - 1) \cdot (x - 4)}{(x - 4) \cdot (x - 2)}.$$

Найдём область определения функции, зная, что дробь определена, если знаменатель отличен от нуля: $D(y) = (-\infty; 2) \cup (2; 4) \cup (4; +\infty)$.

На найденной области определения функция примет вид $y = -(x-3) \cdot (x-1)$ или $y = -x^2 + 4x - 3$.

Графиком функции является парабола с вершиной $(2; 1)$, ветви которой направлены вниз. Точки $(2; 1)$ и $(4; -3)$ не принадлежат параболе.

Дополнительные точки:

x	0	1	3
y	-3	0	0

График заданной функции изображён на рисунке 156.

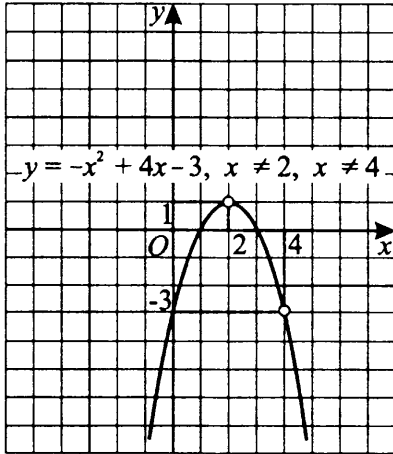


Рис. 156

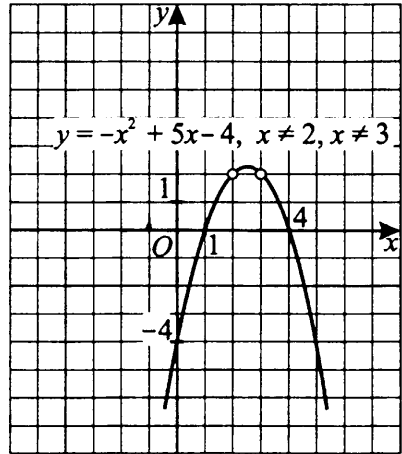


Рис. 157

339. Область определения $D(y)$: $x \neq 2, x \neq 3$.

$$y = -\frac{(x-1)(x-3)(x-2)(x-4)}{(x-3)(x-2)} = -(x-1)(x-4).$$

$y = -(x^2 - 5x + 4) = -x^2 + 5x - 4$. Графиком функции является парабола, ветви направлены вверх, вершина в точке с координатами $(2,5; 2,25)$. Точки $(2; 2)$ и $(3; 2)$ не принадлежат параболе.

График заданной функции изображён на рисунке 157.

341. По условию $a > 0$, поэтому данную функцию можно представить в виде $y = a \left| x^2 + \frac{b}{a}x + \frac{c}{a} \right|$. Из рисунка 158 следует, что квадратный трёх-

член $x^2 + \frac{b}{a}x + \frac{c}{a}$ имеет корни $x_1 = -1, x_2 = 5$. Отсюда, согласно теореме Виета, получаем $\frac{b}{a} = -(x_1 + x_2) = -4, \frac{c}{a} = x_1 \cdot x_2 = -5$, то

есть $x^2 + \frac{b}{a}x + \frac{c}{a} = x^2 - 4x - 5$. Вершина параболы $y = x^2 - 4x - 5$ имеет абс-

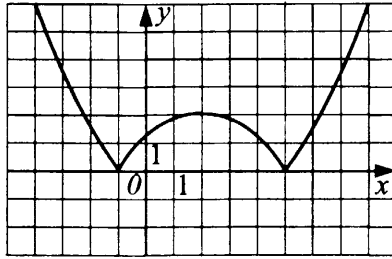


Рис. 158

циссу $x = \frac{-(-4)}{2} = 2$ и ординату $y = 2^2 - 4 \cdot 2 - 5 = -9$. С другой стороны,

из рисунка 158 следует, что вершина параболы $y = a\left(x^2 + \frac{b}{a}x + \frac{c}{a}\right)$

имеет ординату, равную -2 . Следовательно, $a \cdot (-9) = -2$, $a = \frac{2}{9} \Rightarrow$

$$b = \frac{b}{a} \cdot a = (-4) \cdot \frac{2}{9} = -\frac{8}{9}, c = \frac{c}{a} \cdot a = (-5) \cdot \frac{2}{9} = -\frac{10}{9}.$$

Ответ: $a = \frac{2}{9}, b = -\frac{8}{9}, c = -\frac{10}{9}$.

342. Угловые коэффициенты k_1 и k_2 , отличные от нуля, перпендикулярных прямых удовлетворяют соотношению $k_1 \cdot k_2 = -1$. Поэтому множество прямых, перпендикулярных прямой $y = 0,125x$, имеет вид $y = -8x + b$, где b — произвольное действительное число. Для того чтобы прямая $y = -8x + b$ касалась параболы $y = x^2 - 1$, уравнение $x^2 - 1 = -8x + b$ должно иметь единственное решение. Тогда трёхчлен $x^2 + 8x - 1 - b$ должен быть полным квадратом. Следовательно, абсцисса точки касания $x = -4$, тогда ордината $y = (-4)^2 - 1 = 15$.

Ответ: $(-4; 15)$.

343. Так как по условию прямая $y = 0,25x$ перпендикулярна прямой

$y = kx + b$, то $k = -\frac{1}{0,25} = -4$, значит, $y = -4x + b$. Найдём b из условия,

что эта прямая касается параболы $y = 4x^2 + 8x + 7$, то есть уравнение $4x^2 + 8x + 7 = -4x + b$ имеет один корень (два равных).

Имеем $4x^2 + 12x + 7 - b = 0$, $D = 0$. $D = 144 - 112 + 16b = 0$, $b = -2$.

Уравнение прямой примет вид $y = -4x - 2$.

Найдём координаты точки касания, решив систему уравнений:

$$\begin{cases} y = 4x^2 + 8x + 7, \\ y = -4x - 2, \end{cases} \quad 4x^2 + 8x + 7 = -4x - 2, \quad 4x^2 + 12x + 9 = 0,$$

$$(2x + 3)^2 = 0, \quad x = -\frac{3}{2}, \quad y = 4.$$

Ответ: $\left(-\frac{3}{2}; 4\right)$.

344. а) Уравнение касательной, параллельной прямой $y = 3x - 2$, имеет вид $y = 3x + b$.

б) Вычислим b , зная, что прямая $y = 3x + b$ касается параболы $y = 2x^2 - 3x + 5$. Для этого необходимо, чтобы уравнение $2x^2 - 3x + 5 = 3x + b$ имело один корень (два равных).

$$2x^2 - 6x + 5 - b = 0, \quad D = 0, \quad D = 36 - 8 \cdot 5 + 8b = 8b - 4, \quad 8b - 4 = 0, \quad b = \frac{1}{2}.$$

$y = 3x + \frac{1}{2}$ — уравнение касательной.

в) Найдём координаты точки касания, решив систему уравнений:

$$\begin{cases} y = 3x + \frac{1}{2}, \\ y = 2x^2 - 3x + 5, \end{cases} \quad 2x^2 - 3x + 5 = 3x + \frac{1}{2}, \quad 2x^2 - 6x + 4,5 = 0,$$

$$4x^2 - 12x + 9 = 0, \quad (2x - 3)^2 = 0, \quad x = \frac{3}{2} = 1,5, \quad y = 3 \cdot 1,5 + 0,5 = 5.$$

$(1,5; 5)$ — искомые координаты.

Ответ: $(1,5; 5)$.

345. а) Уравнение касательной, параллельной прямой $y = x + 3$, имеет вид $y = x + b$.

б) Вычислим b , зная, что прямая $y = x + b$ касается параболы $y = 2x^2 - 3x + 6$. Для этого необходимо, чтобы уравнение $2x^2 - 3x + 6 = x + b$ имело один корень (два равных).

$$2x^2 - 4x + 6 - b = 0, \quad D = 0, \quad D = 16 - 48 + 8b = -32 + 8b, \quad -32 + 8b = 0, \quad b = 4.$$

$y = x + 4$ — уравнение касательной.

в) Найдём координаты точки касания, решив систему уравнений:

$$\begin{cases} y = x + 4, \\ y = 2x^2 - 3x + 6; \end{cases} \quad 2x^2 - 3x + 6 = x + 4, \quad 2x^2 - 4x + 2 = 0, \quad x^2 - 2x + 1 = 0,$$

$$(x - 1)^2 = 0, \quad x = 1, \quad y = 5.$$

$(1; 5)$ — искомые координаты.

Ответ: $(1; 5)$.

346. По условию прямая $y = 6x$ параллельна прямой $y = kx + b$. Тогда $k = 6$ и прямая имеет вид $y = 6x + b$. Она касается параболы $y = x^2 + 5$. Значит, уравнение $x^2 + 5 = 6x + b$ имеет один корень (два равных).
 $x^2 - 6x + 5 - b = 0$, $D = 0$, $D = 36 - 4 \cdot (5 - b)$, $36 - 20 + 4b = 0$, $4b = -16$,
 $b = -4$.

Уравнение касательной — $y = 6x - 4$.

Координаты точки касания найдём, решив систему уравнений:

$$\begin{cases} y = x^2 + 5, \\ y = 6x - 4. \end{cases} \quad x^2 + 5 = 6x - 4, \quad x^2 - 6x + 9 = 0, \quad (x - 3)^2 = 0,$$

$$x = 3, \quad y = 14.$$

Ответ: (3; 14).

347. 1) Так как касательная параллельна прямой $y = 14x$, то её уравнение $y = 14x + b$.

Вычислим b , зная, что прямая $y = 14x + b$ касается параболы $y = x^2 + 9$, то есть уравнение $x^2 - 14x + 9 - b = 0$ имеет один корень (два равных). Тогда $D = 0$, $D = 196 - 4 \cdot (9 - b)$, $196 - 36 + 4b = 0$, $4b = -160$, $b = -40$.

Уравнение касательной — $y = 14x - 40$.

2) Координаты точки касания найдём, решив систему уравнений:

$$\begin{cases} y = x^2 + 9, \\ y = 14x - 40. \end{cases} \quad x^2 + 9 = 14x - 40, \quad x^2 - 14x + 49 = 0, \quad (x - 7)^2 = 0,$$

$$x = 7, \quad y = 58.$$

Ответ: (7; 58).

348. а) Уравнение касательной, параллельной прямой $y = 4x$, имеет вид $y = 4x + b$.

б) Вычислим b , зная, что прямая $y = 4x + b$ касается параболы $y = x^2 + 3$, то есть уравнение $x^2 - 4x + 3 - b = 0$ имеет один корень (два равных). Тогда $D = 0$, $D = 16 - 4 \cdot (3 - b)$, $16 - 12 + 4b = 0$, $4 + 4b = 0$,
 $b = -1$.

Уравнение касательной — $y = 4x - 1$.

в) Координаты точки касания найдём, решив систему уравнений

$$\begin{cases} y = x^2 + 3, \\ y = 4x - 1. \end{cases} \quad x^2 + 3 = 4x - 1, \quad x^2 - 4x + 4 = 0, \quad (x - 2)^2 = 0, \quad x = 2, \quad y = 7.$$

Ответ: (2; 7).

349. а) Уравнение касательной, параллельной прямой $y = 2x$, имеет вид $y = 2x + b$.

б) Вычислим b , зная, что прямая $y = 2x + b$ касается параболы $y = x^2 - 14$, то есть уравнение $x^2 - 2x - 14 - b = 0$ имеет один корень (два равных). Тогда $D = 0$, $D = 4 + 4 \cdot (14 + b) = 60 + 4b$, $60 + 4b = 0$, $b = -15$.

Уравнение касательной — $y = 2x - 15$.

в) Координаты точки касания найдём, решив систему уравнений

$$\begin{cases} y = x^2 - 14, \\ y = 2x - 15. \end{cases} \quad x^2 - 14 = 2x - 15, \quad x^2 - 2x + 1 = 0, \quad (x - 1)^2 = 0,$$

$$x = 1, \quad y = -13.$$

Ответ: (1; -13).

350. Запишем уравнение параболы со старшим коэффициентом, равным 1: $y = x^2 + bx + c$.

По условию парабола касается прямых $y = x$ и $y = 1 - x$, тогда уравнения $x^2 + bx + c = x$ и $x^2 + bx + c = 1 - x$ имеют по одному решению:

$$\begin{cases} x^2 + (b - 1)x + c = 0, \\ x^2 + (b + 1)x + c = 1. \end{cases}$$

Значит, дискриминант каждого квадратного уравнения равен 0.

$$1) D = (b - 1)^2 - 4c = 0; \quad 2) D = (b + 1)^2 - 4(c - 1) = 0;$$

$$\begin{cases} (b - 1)^2 = 4c, \\ (b + 1)^2 + 4 = 4c, \end{cases} \quad (b - 1)^2 = (b + 1)^2 + 4, \quad b^2 - 2b + 1 = b^2 + 2b + 1 + 4,$$

$$b = -1, \quad \text{тогда } c = 1.$$

Таким образом, $y = x^2 - x + 1$.

Ответ: $y = x^2 - x + 1$.

351. Найдём b и c , используя данные задачи. Так как парабола касается прямых $y = x + 1$, $y = 5 - 3x$, то каждое из уравнений $-x^2 + bx + c = x + 1$ и $-x^2 + bx + c = 5 - 3x$ имеет единственный корень (два равных).

Следовательно, дискриминанты уравнений $x^2 + (1 - b)x + 1 - c = 0$, $x^2 - (3 + b)x + 5 - c = 0$ равны нулю. Таким образом, получаем систему

$$\text{уравнений } \begin{cases} (1 - b)^2 - 4(1 - c) = 0, \\ (3 + b)^2 - 4(5 - c) = 0; \end{cases} \quad \Leftrightarrow \begin{cases} 1 - 2b + b^2 - 4 + 4c = 0, \\ 9 + 6b + b^2 - 20 + 4c = 0; \end{cases}$$

$$\Leftrightarrow \begin{cases} b^2 - 2b + 4c = 3, \\ b^2 + 6b + 4c = 11. \end{cases} \quad \text{Вычитая из нижнего уравнения верхнее, приходим к уравнению } 8b = 8 \Rightarrow b = 1.$$

Подставляя найденное значение b в первое уравнение последней системы, находим $1 - 2 + 4c = 3 \Rightarrow c = 1$.

Поэтому искомое уравнение параболы — $y = -x^2 + x + 1$.

Ответ: $y = -x^2 + x + 1$.

352. 1. Найдём координаты концов отрезка, решив систему уравнений

$$\begin{cases} y = 2|x| + 1, \\ y = 4x^2 + 2x - 1. \end{cases}$$

$$1) x \geq 0; \begin{cases} y = 2x + 1, \\ y = 4x^2 + 2x - 1; \end{cases} \quad 2x + 1 = 4x^2 + 2x - 1; \quad 4x^2 - 2 = 0; \\ x^2 - \frac{1}{2} = 0; \quad \left(x - \frac{1}{\sqrt{2}}\right)\left(x + \frac{1}{\sqrt{2}}\right) = 0.$$

Условию $x \geq 0$ удовлетворяет $x_1 = \frac{1}{\sqrt{2}}, y_1 = \frac{2}{\sqrt{2}} + 1 = \sqrt{2} + 1,$
 $A\left(\frac{1}{\sqrt{2}}; \sqrt{2} + 1\right).$

$$2) x < 0, \begin{cases} y = -2x + 1, \\ y = 4x^2 + 2x - 1, \end{cases} \quad -2x + 1 = 4x^2 + 2x - 1, \quad 2x^2 + 2x - 1 = 0, \\ D = 4 + 8 = 12 = (2\sqrt{3})^2,$$

$$x_2 = \frac{-1 + \sqrt{3}}{2} \text{ (не удовлетворяет условию } x < 0),$$

$$x_3 = \frac{-1 - \sqrt{3}}{2} \text{ (удовлетворяет условию } x < 0), \quad y_3 = 1 + \sqrt{3} + 1 = 2 + \sqrt{3},$$

$$B\left(\frac{-1 - \sqrt{3}}{2}; 2 + \sqrt{3}\right).$$

2. Найдём координаты середины отрезка:

$$x_0 = \frac{x_A + x_B}{2} = \frac{1}{2\sqrt{2}} + \frac{-1 - \sqrt{3}}{4} = \frac{2 - \sqrt{2} - \sqrt{6}}{4\sqrt{2}} = \frac{\sqrt{2} - 1 - \sqrt{3}}{4} = \\ = \frac{-1 - \sqrt{3} + \sqrt{2}}{4},$$

$$y_0 = \frac{y_A + y_B}{2} = \frac{\sqrt{2} + 1 + 2 + \sqrt{3}}{2} = \frac{3 + \sqrt{3} + \sqrt{2}}{2}.$$

Ответ: $\left(\frac{-1 - \sqrt{3} + \sqrt{2}}{4}; \frac{3 + \sqrt{3} + \sqrt{2}}{2}\right).$

353. 1. Найдём координаты концов отрезка, решив систему уравнений

$$\begin{cases} y = 1 - |x|, \\ y = 2x^2 + x - 1. \end{cases}$$

$$1) x \geq 0, \begin{cases} y = 1 - x, \\ y = 2x^2 + x - 1, \end{cases} \quad 2x^2 + x - 1 = 1 - x, \quad 2x^2 + 2x - 2 = 0,$$

$$x^2 + x - 1 = 0, \quad D = 1 + 4 = 5, \quad x_1 = \frac{-1 + \sqrt{5}}{2}, \quad x_2 = \frac{-1 - \sqrt{5}}{2} \text{ не}$$

удовлетворяет условию $x \geq 0;$

$$y_1 = \frac{2 + 1 - \sqrt{5}}{2} = \frac{3 - \sqrt{5}}{2}, \quad A\left(\frac{-1 + \sqrt{5}}{2}; \frac{3 - \sqrt{5}}{2}\right).$$

$$2) x < 0, \begin{cases} y = 1 + x, \\ y = 2x^2 + x - 1, \end{cases} \quad 2x^2 + x - 1 = 1 + x, \quad 2x^2 - 2 = 0, \quad x^2 - 1 = 0, \\ (x - 1) \cdot (x + 1) = 0, \quad x_3 = -1, \quad x_4 = 1 \text{ не удовлетворяет условию } x < 0; \\ y_3 = 1 - 1 = 0, \quad B(-1; 0).$$

2. Найдём координаты середины отрезка:

$$x_0 = \frac{x_A + x_B}{2} = \frac{-1 + \sqrt{5} - 2}{4} = \frac{\sqrt{5} - 3}{4}, \quad y_0 = \frac{y_A + y_B}{2} = \frac{3 - \sqrt{5}}{4}.$$

$$\text{Ответ: } \left(\frac{\sqrt{5} - 3}{4}; \frac{3 - \sqrt{5}}{4} \right).$$

354. Запишем уравнение параболы $y = ax^2 + bx + c$, где a, b, c — заданные числа и $a \neq 0$.

По условию известно, что точки с координатами $(-1; -5)$, $(0; -4)$ и $(1; 1)$ лежат на этой параболе, значит, $y(-1) = -5$, $y(0) = -4$, $y(1) = 1$.

Найдём числа a, b, c , решив систему уравнений

$$\begin{cases} a - b + c = -5, \\ c = -4, \\ a + b + c = 1; \end{cases} \Leftrightarrow \begin{cases} a - b - 4 = -5, \\ c = -4, \\ a + b - 4 = 1; \end{cases} \Leftrightarrow \begin{cases} a - b = -1, \\ c = -4, \\ a + b = 5; \end{cases} \Leftrightarrow \\ \Leftrightarrow \begin{cases} a = 2, \\ b = 3, \\ c = -4. \end{cases}$$

Уравнение параболы примет вид $y = 2x^2 + 3x - 4$.

Найдём координаты вершины:

$$x_0 = -\frac{b}{2a}, \quad x_0 = -\frac{3}{2 \cdot 2} = -\frac{3}{4},$$

$$y_0 = 2 \cdot \left(-\frac{3}{4}\right)^2 + 3 \cdot \left(-\frac{3}{4}\right) - 4 = \frac{9}{8} - \frac{9}{4} - 4 = \frac{9 - 18 - 32}{8} = -\frac{41}{8}.$$

$\left(-\frac{3}{4}; -\frac{41}{8}\right)$ — искомые координаты вершины параболы.

$$\text{Ответ: } \left(-\frac{3}{4}; -\frac{41}{8}\right).$$

356. $y = -x^3 - 2x^2 + x + 2$.

1) С осью Ox :

$$-x^3 - 2x^2 + x + 2 = 0; \quad -x^2(x + 2) + (x + 2) = 0; \quad (x + 2)(1 - x^2) = 0; \\ x + 2 = 0, \quad x_1 = -2; \quad 1 - x^2 = 0, \quad x_2 = -1, \quad x_3 = 1. \text{ Таким образом, } (-2; 0), \\ (-1; 0), (1; 0) \text{ — координаты точек пересечения графика функции} \\ y = x^3 - x^2 - 4x + 4 \text{ с осью } Ox.$$

2) С осью Oy : $y(0) = 2$, поэтому $(0; 2)$ — координаты точки пересечения графика данной функции с осью Oy .

Ответ: $(-2; 0)$, $(-1; 0)$, $(1; 0)$, $(0; 2)$.

357. Пусть точка с координатами $(x; y)$ лежит на параболе $y = 16x^2 + 12x - 2$, тогда точка, симметричная ей относительно оси Ox , имеет координаты $(x; -y)$ и лежит на прямой $y = 2x + 5$. Задача сводится к решению системы уравнений

$$\begin{cases} 16x^2 + 12x - 2 = y, \\ 2x + 5 = -y; \end{cases} \Leftrightarrow \begin{cases} 16x^2 + 12x - 2 = -2x - 5, \\ y = -2x - 5. \end{cases} \Leftrightarrow \begin{cases} 16x^2 + 14x + 3 = 0, \\ y = -2x - 5. \end{cases}$$

Решим первое уравнение системы:

$$16x^2 + 14x + 3 = 0, \quad \frac{D}{4} = 49 - 48 = 1;$$

$$x_1 = \frac{-7 + 1}{16} = -\frac{6}{16} = -\frac{3}{8} = -0,375, \quad x_2 = \frac{-7 - 1}{16} = -0,5;$$

$$y_1 = -2 \cdot (-0,375) - 5 = -4,25, \quad y_2 = -2 \cdot (-0,5) - 5 = -4.$$

$(-0,375; -4,25)$ и $(-0,375; 4,25)$, $(-0,5; -4)$ и $(-0,5; 4)$ — координаты искомых точек.

Ответ: 1) $(-0,375; -4,25)$, $(-0,375; 4,25)$; 2) $(-0,5; -4)$, $(-0,5; 4)$.

358. Пусть точка с координатами $(x; y)$ лежит на параболе $y = 18x^2 - 33x$, тогда точка, симметричная ей относительно оси Oy , имеет координаты $(-x; y)$ и лежит на прямой $y = 6x + 5$. Задача сводится к решению системы уравнений

$$\begin{cases} 18x^2 - 33x = y, \\ -6x + 5 = y; \end{cases} \Leftrightarrow \begin{cases} 18x^2 - 33x = -6x + 5, \\ y = -6x + 5; \end{cases} \Leftrightarrow \begin{cases} 18x^2 - 27x - 5 = 0, \\ y = -6x + 5. \end{cases}$$

Решим первое уравнение системы:

$$18x^2 - 27x - 5 = 0; \quad x_{1,2} = \frac{27 \pm \sqrt{729 + 360}}{36}; \quad x_{1,2} = \frac{27 \pm 33}{36}; \quad x_1 = \frac{5}{3},$$

$$x_2 = -\frac{1}{6}; \quad y_1 = -6 \cdot \frac{5}{3} + 5 = -5, \quad y_2 = -6 \cdot \left(-\frac{1}{6}\right) + 5 = 6.$$

$\left(\frac{5}{3}; -5\right)$ и $\left(-\frac{5}{3}; -5\right)$; $\left(-\frac{1}{6}; 6\right)$ и $\left(\frac{1}{6}; 6\right)$ — координаты искомых точек.

Ответ: 1) $\left(\frac{5}{3}; -5\right)$, $\left(-\frac{5}{3}; -5\right)$; 2) $\left(-\frac{1}{6}; 6\right)$, $\left(\frac{1}{6}; 6\right)$.

359. Обозначим $f(x) = -4x^4 + 10x^2 - 3$. Точка B является одной из точек пересечения графика функции $y = f(x)$ и оси Ox . Значит, $y_B = 0$. Для нахождения x_B решим уравнение $f(x) = 0$. Сделаем замену $t = x^2 \geq 0$, тогда уравнение $f(x) = 0$ примет вид

$$-4t^2 + 10t - 3 = 0, \quad 4t^2 - 10t + 3 = 0, \quad t_{1,2} = \frac{5 \pm \sqrt{25 - 12}}{4} = \frac{5 \pm \sqrt{13}}{4},$$

$$t_1 = \frac{5 + \sqrt{13}}{4} \geq 0, \quad t_2 = \frac{5 - \sqrt{13}}{4} \geq 0.$$

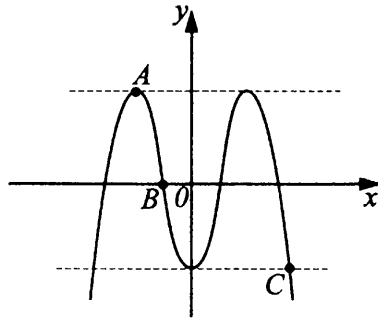


Рис. 159

Поэтому $x_{1,2} = \pm \frac{\sqrt{5 + \sqrt{13}}}{2}$, $x_{3,4} = \pm \frac{\sqrt{5 - \sqrt{13}}}{2}$. В силу расположения точки B следует, что x_B — наибольшее отрицательное число среди чисел x_1, x_2, x_3, x_4 . Значит, $x_B = -\frac{\sqrt{5 - \sqrt{13}}}{2}$ (см. рис. 159).

Заметим, что y_A соответствует наибольшему значению функции $y = f(x)$. Для нахождения этого значения выделим полный квадрат в представлении функции:

$$-4x^4 + 10x^2 - 3 = -4 \left(x^4 - 2 \cdot x^2 \cdot \frac{5}{4} \right) - 3 =$$

$$-4 \left(x^4 - 2 \cdot x^2 \cdot \frac{5}{4} + \frac{25}{16} \right) + 4 \cdot \frac{25}{16} - 3 =$$

$$= -4 \left(x^2 - \frac{5}{4} \right)^2 + \frac{13}{4}.$$

Следовательно, $f(x) = -4\left(x^2 - \frac{5}{4}\right)^2 + \frac{13}{4}$. Из полученного представления вытекает, что наибольшее значение функции $y = f(x)$ равно $\frac{13}{4}$, так как для всех действительных x справедливо неравенство $-4\left(x^2 - \frac{5}{4}\right)^2 \leq 0$. Причём это наибольшее значение достигается в том случае, когда $x^2 - \frac{5}{4} = 0 \Leftrightarrow x = \pm \frac{\sqrt{5}}{2}$. Тогда из расположения точки A в левой полуплоскости следует, что $x_A = -\frac{\sqrt{5}}{2}$ и соответственно $y_A = \frac{13}{4}$.

Определим координаты точки C . Из рисунка 159 следует, что $y_C = f(0) = -3$. Тогда опять же из рисунка 159 вытекает, что x_C равняется положительному корню уравнения $f(x) = -3$. Решим его.

$$-4x^4 + 10x^2 - 3 = -3, \quad -4x^4 + 10x^2 = 0, \quad x^2(4x^2 - 10) = 0, \quad x_1 = 0, \\ x_{2,3} = \pm \frac{\sqrt{10}}{2}. \text{ Значит, } x_C = \frac{\sqrt{10}}{2}.$$

$$\text{Ответ: } A\left(-\frac{\sqrt{5}}{2}; \frac{13}{4}\right), B\left(-\frac{\sqrt{5 - \sqrt{13}}}{2}; 0\right), C\left(\frac{\sqrt{10}}{2}; -3\right).$$

360. Построим график функции $y = ||x + 1| - 2|$ в несколько этапов.

1. Графиком функции $y = x + 1$ является прямая, проходящая через точки с координатами $(0; 1)$ и $(-1; 0)$.

2. График функции $y = |x + 1|$ получается из графика функции $y = x + 1$ симметричным отражением части прямой, лежащей ниже оси абсцисс, относительно этой оси.

3. График функции $y = |x + 1| - 2$ может быть получен из графика функции $y = |x + 1|$ сдвигом оси абсцисс на две единицы вверх.

4. График функции $y = ||x + 1| - 2|$ получается из графика функции $y = |x + 1| - 2$ симметричным отражением части графика, лежащей ниже оси абсцисс, относительно этой оси.

График заданной функции изображён на рис. 160.

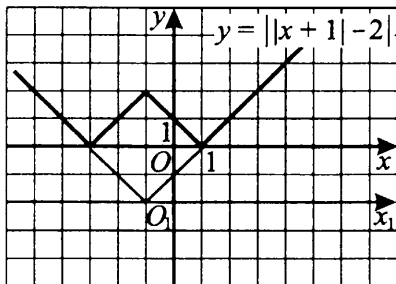


Рис. 160

361. Так как координаты вершины параболы $x_0 = 0$, $y_0 = 4$, то $x_0 = -\frac{b}{2a} = 0$, $b = 0$. Итак, уравнение параболы имеет вид $y = ax^2 + c$.

Подставив координаты известных точек, через которые проходит параболла, получим систему $\begin{cases} c = 4, \\ 9a + c = -14; \end{cases} \Leftrightarrow \begin{cases} c = 4, \\ 9a = -14 - c; \end{cases} \Leftrightarrow \begin{cases} c = 4, \\ a = -2. \end{cases}$

Следовательно, $y = -2x^2 + 4$. Найдём теперь абсциссы точек пересечения параболы с осью Ox : $-2x^2 + 4 = 0 \Leftrightarrow x_{1,2} = \pm\sqrt{2}$.

Ответ: $(\sqrt{2}; 0)$, $(-\sqrt{2}; 0)$.

362. Так как координаты вершины параболы $x_0 = 0$, $y_0 = -12$, то $x_0 = -\frac{b}{2a} = 0$, следовательно, $b = 0$. Итак, уравнение параболы имеет вид $y = ax^2 + c$. Подставив координаты известных точек $(0; -12)$ и $(-1; -9)$, через которые проходит параболла, получим систему $\begin{cases} c = -12, \\ a + c = -9; \end{cases} \Leftrightarrow \begin{cases} c = -12, \\ a = 3; \end{cases}$ следовательно, $y = 3x^2 - 12$.

Найдём абсциссы точек пересечения параболы с осью Ox : $3x^2 - 12 = 0 \Leftrightarrow x_{1,2} = \pm 2$.

Ответ: $(2; 0)$, $(-2; 0)$.

363. Так как координаты вершины параболы $x_0 = 4$, $y_0 = -28$, то $x_0 = -\frac{b}{2a} = 4$; $b = -8a$. Итак, уравнение параболы имеет вид $y = ax^2 - 8ax + c$. Подставив координаты точек $(0; 4)$ и $(4; -28)$, через которые проходит параболла, получим $c = 4$; $16a - 32a + c = -28$;

$a = \frac{28+c}{16} = 2$, следовательно, $y = 2x^2 - 16x + 4$. Найдём абсциссы точек пересечения параболы с осью Ox : $2x^2 - 16x + 4 = 0$, $x_{1,2} = 4 \pm \sqrt{14}$.

Ответ: $(4 + \sqrt{14}; 0)$, $(4 - \sqrt{14}; 0)$.

364. Так как координаты вершины параболы $x_0 = 6$, $y_0 = 33$, то

$x_0 = -\frac{b}{2a} = 6$; $b = -12a$. Итак, уравнение параболы имеет вид

$y = ax^2 - 12ax + c$. Подставив координаты точек $(0; -3)$ и $(6; 3)$, через которые проходит парабола, получим $c = -3$; $36a - 72a + c = 33$;

$a = \frac{c-33}{36} = -1$, следовательно, $y = -x^2 + 12x - 3$. Найдём абсциссы

точек пересечения параболы с осью Ox : $-x^2 + 12x - 3 = 0$, $x_{1,2} = 6 \pm \sqrt{33}$.

Ответ: $(6 + \sqrt{33}; 0)$, $(6 - \sqrt{33}; 0)$.

365. *Ключевые идеи решения.* 1. Парабола, пересекающая ось Ox в точках с абсциссами x_1 и x_2 , является графиком функции

$y = a(x - x_1)(x - x_2)$, где $a \neq 0$. 2. Прямая, касающаяся параболы и параллельная оси Ox , касается этой параболы в её вершине.

1. Парабола, указанная в условии, является графиком функции $y = a(x - 2)(x + 6)$, где $a \neq 0$. Так как парабола пересекает ось Oy в точке с абсциссой $x_3 = 0$, то ордината этой точки $y_3 = -12a$. По условию, $y_3 = 24$, таким образом, $a = -2$, и уравнение параболы имеет вид $y = -2x^2 - 8x + 24$.

2. Вершиной параболы является точка с абсциссой $x_0 = \frac{8}{-4} = -2$ и ординатой $y_0 = y(-2) = 32$. Следовательно, касательной к параболе, параллельной оси x , является прямая $y = 32$.

Ответ: $y = 32$.

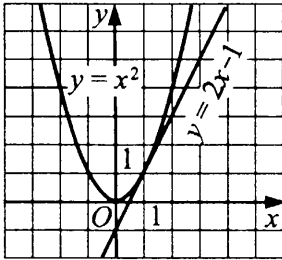
366. 1. Парабола, пересекающая ось Ox в точках с абсциссами $x_1 = -2$ и $x_2 = 6$, является графиком функции $y = a(x + 2)(x - 6)$, где $a \neq 0$. Так как парабола пересекает ось Oy в точке с абсциссой $x_3 = 0$, то ордината этой точки $y_3 = -12a$. По условию, $y_3 = -9$, таким образом, $a = 0,75$, и уравнение параболы имеет вид $y = 0,75x^2 - 3x - 9$.

2. Вершиной параболы является точка с абсциссой $x_0 = \frac{3}{1,5} = 2$ и ординатой $y_0 = y(2) = -12$. Следовательно, касательной к параболе, параллельной оси x , является прямая $y = -12$.

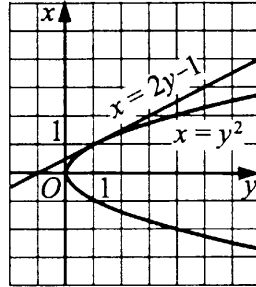
Ответ: $y = -12$.

367. По условию прямая $y = 2x - 1$ касается параболы $y = x^2$ (см. рис. 161 а). Заметим, что если в уравнениях, задающих эти функции, поменять местами переменные (что соответствует симметричному отражению исходного графика относительно прямой $y = x$), то получим искомую касательную к кривой $x = y^2$ в точке с координатами $(1; 1)$ (см. рис. 161 б).

Значит, она задаётся уравнением $x = 2y - 1$; $y = \frac{1}{2}x + \frac{1}{2}$.



а)



б)

Рис. 161

Ответ: $y = \frac{1}{2}x + \frac{1}{2}$.

368. Пусть прямая $x = ky + b$ касается параболы $x = y^2$ в точке с координатами $x = 1, y = -1$. Это означает, что $-k + b = 1$ и уравнение $y^2 = ky + b$ имеет ровно одно решение, то есть $D = 0$; $D = k^2 + 4b = 0$. Учитывая равенство $-k + b = 1$, получим $D = k^2 + 4(1 + k) = k^2 + 4k + 4 = (k + 2)^2 = 0$. Отсюда $k = -2, b = -1$, то есть $x = -2y - 1$ является искомой прямой.

Запишем уравнение этой прямой — $y = -\frac{1}{2}x - \frac{1}{2}$.

Ответ: $y = -\frac{1}{2}(x + 1)$.

369. По формуле расстояния между двумя точками имеем

$OA = \sqrt{(8 - 4)^2 + (6 - 3)^2} = \sqrt{25} = 5$. Следовательно, радиус данной в условии окружности равен 5, и она определяется уравнением $(x - 4)^2 + (y - 3)^2 = 25$.

Полагая в этом уравнении $y = 0$, получаем уравнение для абсцисс точек пересечения данной окружности с осью Ox : $(x - 4)^2 + 9 = 25$. Решим последнее уравнение: $(x - 4)^2 = 16$, $\begin{cases} x - 4 = -4, \\ x - 4 = 4; \end{cases} \quad x_1 = 0, x_2 = 8$.

Аналогично ординаты точек пересечения окружности с осью Oy удовлетворяют уравнению $16 + (y - 3)^2 = 25$ (в уравнении окружности полагаем $x = 0$). Имеем $(y - 3)^2 = 9$, $\begin{cases} y - 3 = -3, \\ y - 3 = 3; \end{cases} \quad y_1 = 0, y_2 = 6$. Итак, данная окружность пересекает ось Ox в точках $(0; 0)$ и $(8; 0)$, а ось Oy в точках $(0; 0)$ и $(0; 6)$.

Ответ: $(0; 0)$, $(8; 0)$, $(0; 6)$.

370. По формуле расстояния между двумя точками имеем $OA = \sqrt{(3 - 2)^2 + (4 - 2)^2} = \sqrt{5}$. Следовательно, радиус данной в условии окружности равен $\sqrt{5}$, и она определяется уравнением $(x - 2)^2 + (y - 2)^2 = 5$. Полагая в этом уравнении $y = 0$, получаем уравнение для абсцисс точек пересечения данной окружности с осью Ox : $(x - 2)^2 + 4 = 5$. Решим последнее уравнение: $(x - 2)^2 = 1$, $\begin{cases} x - 2 = -1, \\ x - 2 = 1; \end{cases}$ $x_1 = 1, x_2 = 3$. Итак, данная окружность пересекает ось Ox в точках $(1; 0)$ и $(3; 0)$. Поскольку уравнение данной окружности симметрично относительно x и y , то точками пересечения этой окружности с осью Oy являются точки $(0; 1)$ и $(0; 3)$.

Ответ: $(1; 0)$, $(3; 0)$, $(0; 1)$, $(0; 3)$.

371. $y = \frac{x^2 - 25}{10 - 2x}$. Областью определения данной функции являются все x , при которых $10 - 2x \neq 0$, то есть $D(y) = (-\infty; 5) \cup (5; +\infty)$. При $x \neq 5$ имеем $\frac{x^2 - 25}{10 - 2x} = \frac{(x - 5)(x + 5)}{2(5 - x)} = -0,5 \cdot (x + 5)$.

Таким образом, множество значений данной функции получается из множества значений функции $y = -0,5 \cdot (x + 5)$ с учётом того, что $y \neq -0,5(5 + 5)$, $y \neq -5$, то есть совпадает с множеством $(-\infty; -5) \cup (-5; +\infty)$.

Ответ: $(-\infty; -5) \cup (-5; +\infty)$.

372. $y = \frac{25 - x^2}{2x - 10}$. Областью определения данной функции являются все x , при которых $2x - 10 \neq 0$, то есть $D(y) = (-\infty; 5) \cup (5; +\infty)$. При $x \neq 5$ имеем $\frac{25 - x^2}{2x - 10} = \frac{(5 - x)(5 + x)}{2(x - 5)} = -0,5 \cdot (x + 5)$. Таким образом, множество значений данной функции получается из множества значений функции $y = -0,5 \cdot (x + 5)$ с учётом того, что $y \neq -0,5 \cdot (5 + 5)$, $y \neq -5$, то есть совпадает с множеством $(-\infty; -5) \cup (-5; +\infty)$.

Ответ: $(-\infty; -5) \cup (-5; +\infty)$.

373. Ключевые идеи решения.

1. Парабола, пересекающая ось Ox в точках с абсциссами x_1 и x_2 , является графиком функции $y = a(x - x_1)(x - x_2)$, где $a \neq 0$. Прямая, касающаяся параболы и параллельная оси Ox , касается этой параболы в её вершине.

2. Парабола, пересекающая ось Ox в точках с абсциссами $x_1 = -2$ и $x_2 = 4$, является графиком функции $y = a(x + 2)(x - 4) = ax^2 - 2ax - 8a$, где $a \neq 0$.

3. Вершиной параболы является точка с абсциссой $x_B = \frac{2a}{2a} = 1$ и ординатой $y_B = y(1) = -9a$. Значит, касательной к параболе, параллельной оси Ox , является прямая $y = -9a$. По условию, парабола касается прямой $y = -18$, следовательно, $-9a = -18$, $a = 2$, и уравнение параболы имеет вид $y = 2x^2 - 4x - 16$.

Парабола пересекает ось Oy в точке с абсциссой $x = 0$ и ординатой $y = y(0) = -16$.

Ответ: (0; -16).

374. 1. Парабола, пересекающая ось Ox в точках с абсциссами $x_1 = -5$ и $x_2 = 3$, является графиком функции $y = a(x + 5)(x - 3) = ax^2 + 2ax - 15a$, где $a \neq 0$.

2. Вершиной параболы является точка с абсциссой $x_0 = \frac{-2a}{2a} = -1$ и ординатой $y_0 = y(-1) = -16a$. Следовательно, касательной к параболе, параллельной оси Ox , является прямая $y = -16a$. По условию, парабола касается прямой $y = 32$, значит, $a = -2$, и уравнение параболы имеет вид $y = -2x^2 - 4x + 30$.

Парабола пересекает ось Oy в точке с абсциссой $x = 0$ и ординатой $y = y(0) = 30$.

Ответ: (0; 30).

375. Графиком функции $y = 6 - 3x$ является прямая. Найдём две какие-нибудь точки, её определяющие:

x	0	2
y	6	0

Построим прямую (см. рис. 162).

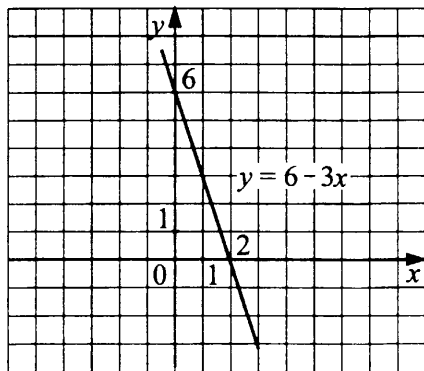


Рис. 162

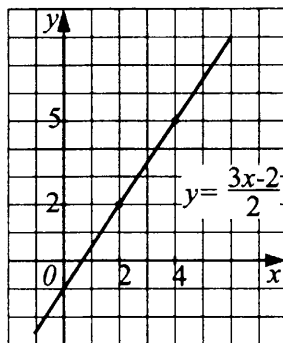


Рис. 163

Решим неравенство: $1,5 \leq y \leq 9 \Leftrightarrow 1,5 \leq 6 - 3x \leq 9 \Leftrightarrow$
 $\Leftrightarrow -4,5 \leq -3x \leq 3 \Leftrightarrow 1,5 \geq x \geq -1 \Leftrightarrow -1 \leq x \leq 1,5.$

Ответ: $-1 \leq x \leq 1,5.$

376. Графиком функции $y = \frac{3x - 2}{2}$ является прямая. Найдём две какие-нибудь точки, её определяющие:

x	2	4
y	2	5

Построим прямую (см. рис. 163).

Решим неравенство: $-1 \leq y \leq 2 \Leftrightarrow -1 \leq \frac{3x - 2}{2} \leq 2 \Leftrightarrow 0 \leq x \leq 2.$

Ответ: $0 \leq x \leq 2.$

377. Для построения графика функции $y = \left| \frac{2 - x}{4} \right|$ рассмотрим отдельно случаи, когда $2 - x \geq 0$ и $2 - x < 0$.

1) Если $2 - x \geq 0$ ($x \leq 2$), то $y = \frac{1}{4}(2 - x)$. Графиком этой функции является прямая, проходящая через точки с координатами $(0; 0,5)$ и $(2; 0)$.

2) Если $2 - x < 0$ ($x > 2$), то $y = -\frac{1}{4}(2 - x)$. Графиком этой функции является прямая, проходящая через точки с координатами $(2; 0)$ и $(4; 0,5)$.

График заданной функции изображён на рисунке 164.

Решим неравенство $0 \leq y < 1$. Получаем $0 \leq \left| \frac{2 - x}{4} \right| < 1;$

$0 \leq |2 - x| < 4$. Так как неравенство $|2 - x| \geq 0$ выполняется для всех x , то

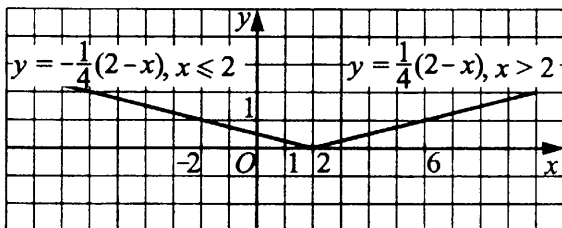


Рис. 164

остаётся решить неравенство $|2 - x| < 4$; $-4 < 2 - x < 4$; $-6 < -x < 2$; $-2 < x < 6$.

Ответ: $-2 < x < 6$.

378. Построим график функции $y = \left| \frac{3+x}{6} \right|$. Отдельно рассмотрим случаи:

1) $3 + x \geq 0$, тогда $y = \frac{1}{6}(3 + x)$. Графиком функции является луч прямой, проходящий через точки с координатами $(0; 0,5)$, $(9; 2)$ (рис. 165).

2) $3 + x < 0$, тогда $y = -\frac{1}{6}(3 + x)$. Графиком функции является луч прямой, проходящий через точки с координатами $(-3; 0)$, $(-6; 0,5)$.

Решим неравенство $-1 \leq y \leq 2 \Leftrightarrow -1 \leq \left| \frac{3+x}{6} \right| \leq 2 \Leftrightarrow -6 \leq |3+x| \leq 12$.

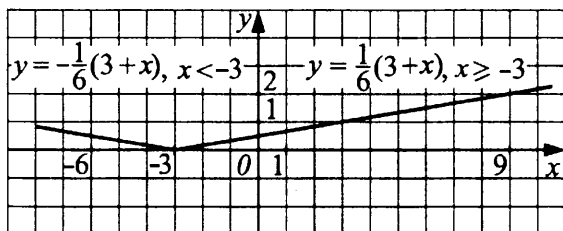


Рис. 165

Так как неравенство $|3 + x| \geq -6$ выполняется для всех x , то остаётся неравенство $|3 + x| \leq 12 \Leftrightarrow -12 \leq 3 + x \leq 12 \Leftrightarrow -15 \leq x \leq 9$.

Ответ: $-15 \leq x \leq 9$.

379. Графиком функции $y = 3 - 2x$ является прямая. Найдём две какие-нибудь точки, её определяющие:

x	1	2
y	1	-1

Построим прямую (см. рис. 166).

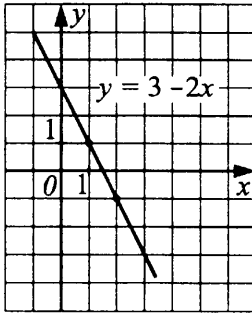


Рис. 166

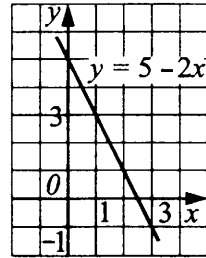


Рис. 167

Так как функция $y = 3 - 2x$ — непрерывная и убывающая, то $y(5) < y < y(-2) \Leftrightarrow -7 < y < 7$.

Ответ: $-7 < y < 7$.

380. Графиком функции $y = 5 - 2x$ является прямая. Найдём две какие-нибудь точки, её определяющие:

x	1	3
y	3	-1

Построим прямую (см. рис. 167).

Так как $y(x)$ — непрерывная и убывающая функция, то из $-1 < x < 3$ следует $y(3) < y(x) < y(-1)$. Значит, $-1 < y < 7$.

Ответ: $-1 < y < 7$.

381. Графиком функции $y = \frac{5-x}{4} = \frac{5}{4} - \frac{1}{4}x$ является прямая. Найдём

две какие-нибудь точки, её определяющие:

x	5	0
y	0	1,25

Построим прямую (см. рис. 168).

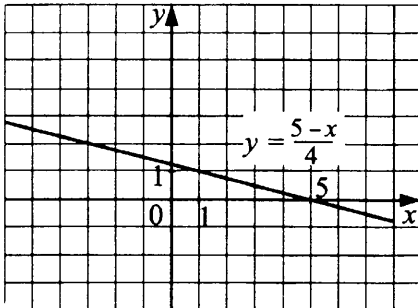


Рис. 168

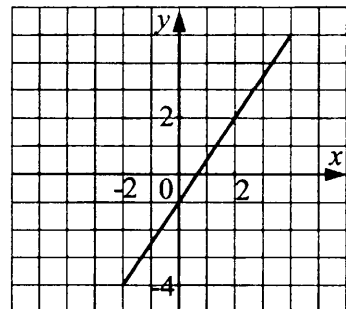


Рис. 169

Так как $0 \leq y \leq 0,25 = \frac{1}{4}$, то $0 \leq \frac{5-x}{4} \leq \frac{1}{4}$, $0 \leq 5-x \leq 1$,
 $-5 \leq -x \leq -4$; $4 \leq x \leq 5$.

Ответ: $4 \leq x \leq 5$.

382. Графиком функции $y = \frac{3x-2}{2}$ является прямая, изображённая на рисунке 169. По графику определяем, что неравенство $-1 < y < 2$ выполняется при $0 < x < 2$.

Ответ: $0 < x < 2$.

383. Графиком функции $y = \frac{x+2}{2}$ является прямая (см. рис. 170). По графику определяем, что неравенство $1,5 \leq y \leq 3$ выполняется при $1 \leq x \leq 4$.

Ответ: $1 \leq x \leq 4$.

384. Графиком функции $y = \frac{x+5}{2}$ является прямая (см. рис. 171).

Решим неравенство $-4 < y < -1,5$. Получаем $-4 < \frac{x+5}{2} < -1,5$;
 $-8 < x+5 < -3$; $-13 < x < -8$.

Ответ: $-13 < x < -8$.

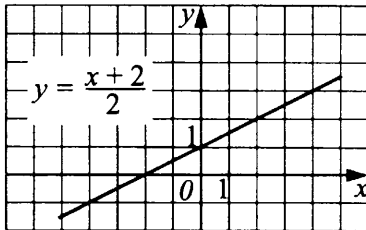


Рис. 170

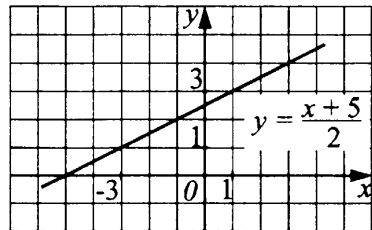


Рис. 171

385. Графиком функции $y = 2x + 3 - x^2$ является парабола, ветви которой направлены вниз, вершина находится в точке с координатами $(1; 4)$ (см. рис. 172). По графику определяем, что $3 \leq y \leq 4$ при $0 \leq x \leq 2$.

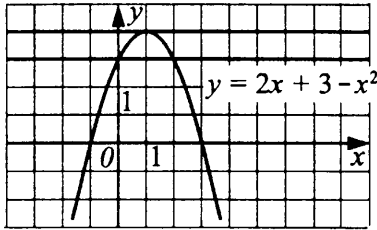


Рис. 172

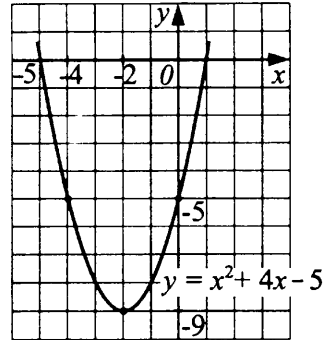


Рис. 173

Ответ: $0 \leq x \leq 2$.

386. Чтобы построить параболу $y = ax^2 + bx + c$, найдём координаты вершины:

$$x_0 = -\frac{b}{2a} = -\frac{4}{2} = -2; y_0 = (-2)^2 + 4 \cdot (-2) - 5 = -9. \text{ Так как } a = 1,$$

то ветви параболы направлены вверх и не подвержены сжатию или растяжению (рис. 173). По графику функции определяем, что $-9 \leq y \leq -5$ при $-4 \leq x \leq 0$.

Ответ: $-4 \leq x \leq 0$.

387. 1. Функцию $y = \frac{5-2x}{3}$ запишем в виде $y = -\frac{2}{3}x + \frac{5}{3}$. Графиком

функции $y = -\frac{2}{3}x + \frac{5}{3}$ является прямая, проходящая через точки с коор-

динатами $(1; 1)$ и $(\frac{5}{2}; 0)$ (см. рис. 174).

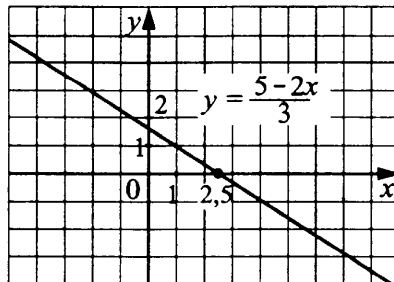


Рис. 174

2. Найдём аналитически, при каких значениях y выполняется неравенство $2 < x \leq 3\frac{2}{3}$.

В силу того, что заданная функция непрерывная и убывающая на всей числовой прямой, неравенство $2 < x \leq 3\frac{2}{3}$ выполняется при

$$y\left(3\frac{2}{3}\right) \leq y < y(2), \text{ то есть } -\frac{7}{9} \leq y < \frac{1}{3}.$$

Ответ: $-\frac{7}{9} \leq y < \frac{1}{3}$.

388. 1. Функцию $y = 3x^{-1}$ запишем в виде $y = \frac{3}{x}$. $D(y)$: $x \neq 0$. Графиком функции $y = \frac{3}{x}$ является гипербола, ветви которой расположены в I и III координатных четвертях.

x	-0,5	1	1,5	2	3	6
y	-6	3	2	1,5	1	0,5

График функции изображён на рисунке 175.

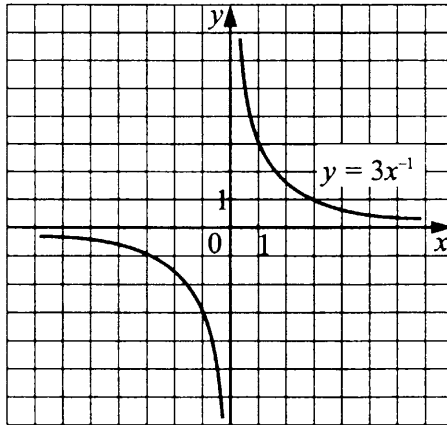


Рис. 175

2. Найдём, при каких значениях x выполняется неравенство $y \geq 3,3$, ре-

шив неравенство $\frac{3}{x} \geq 3,3$, $\frac{3,3x - 3}{x} \leq 0$, $\frac{x - 10}{11} \leq 0$, $0 < x \leq \frac{10}{11}$ (см. рис. 176).

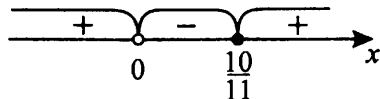


Рис. 176

Ответ: $0 < x \leq \frac{10}{11}$.

389. Графиком функции $y = 7x - 5$ является прямая. Найдём две какие-нибудь точки, её определяющие:

x	1	2
y	2	9

Построим прямую (см. рис. 177).

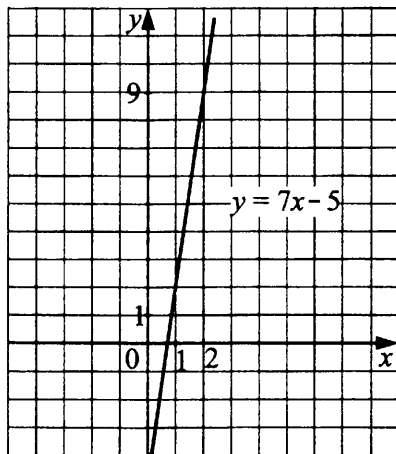


Рис. 177

Так как по условию $y \geq -40$, то $7x - 5 \geq -40$; $x \geq -5$.

Ответ: $x \geq -5$.

390. Графиком функции $y = 6x - 7$ является прямая. Найдём две какие-нибудь точки, её определяющие:

x	1	2
y	-1	5

Построим прямую (см. рис. 178).

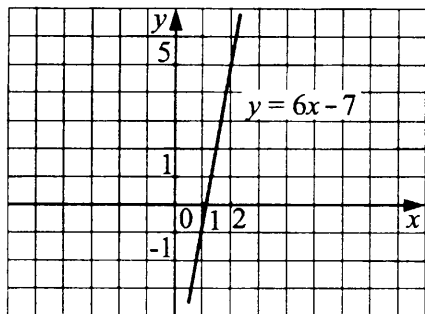


Рис. 178

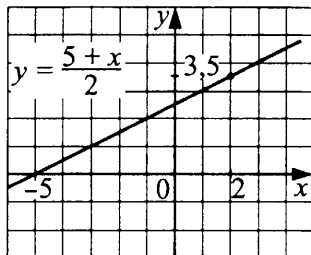


Рис. 179

Так как по условию $y \geq -49$, то $6x - 7 \geq -49$, $x \geq -7$.

Ответ: $x \geq -7$.

391. Графиком функции $y = \frac{5+x}{2}$ является прямая. Найдём две какие-нибудь точки, её определяющие:

x	1	-1
y	3	2

Построим прямую (см. рис. 179). По графику определяем, что неравенство $0 \leq y \leq 3,5$ выполняется при $-5 \leq x \leq 2$.

Ответ: $-5 \leq x \leq 2$.

392. Функцию $y = \frac{6-2x}{3}$ запишем в виде $y = -\frac{2}{3}x + 2$. Графиком функции

$y = 2 - \frac{2}{3}x$ является прямая, проходящая через точки $(0; 2)$ и $(3; 0)$

(см. рис. 180). По графику видно, что $-2 \leq y \leq 4$ при $-3 \leq x \leq 6$.

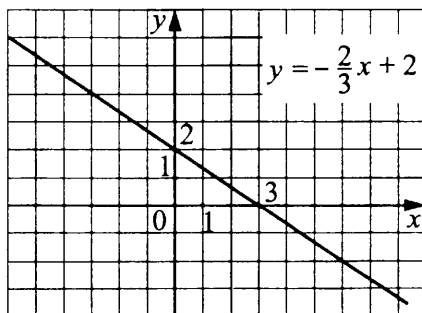


Рис. 180

Ответ: $-3 \leq x \leq 6$.

393. Графиком функции $y = 3,5 - 0,5x$ является прямая, проходящая через точки $(0; 3,5)$ и $(7; 0)$ (см. рис. 181). По графику видно, что $0 \leq y \leq 3,5$ при $0 \leq x \leq 7$.

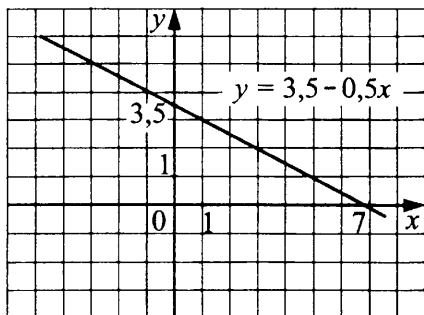


Рис. 181

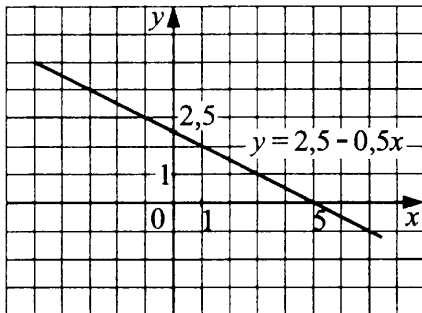


Рис. 182

Ответ: $0 \leq x \leq 7$.

394. Графиком функции $y = 2,5 - 0,5x$ является прямая, проходящая через точки $(0; 2,5)$ и $(5; 0)$ (см. рис. 182). По графику видно, что $0 \leq y \leq 2,5$ при $0 \leq x \leq 5$.

Ответ: $0 \leq x \leq 5$.

395. $y = -\frac{x+3}{4}$; $y = -\frac{1}{4}x - \frac{3}{4}$; $-5 \leq x \leq 4$ (см. рис. 183). Функция

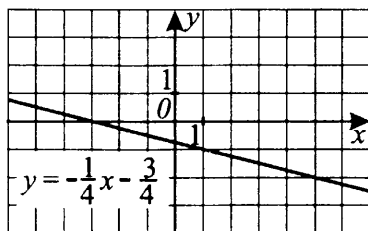


Рис. 183

$y = -\frac{1}{4}x - \frac{3}{4}$ — непрерывная и убывающая. $y(-5) = -\frac{1}{4}(-5) - \frac{3}{4} = \frac{1}{2}$;

$y(4) = -1 - \frac{3}{4} = -\frac{7}{4}$. Если $-5 \leq x \leq 4$, то $-\frac{7}{4} \leq y \leq \frac{1}{2}$.

Функция $y = -\frac{1}{4}x - \frac{3}{4}$ принимает на отрезке $[-5; 4]$ два целых значения: $y = -1$ и $y = 0$.

Ответ: 2.

396. Графиком функции $y = \frac{7-x}{3}$; $y = \frac{7}{3} - \frac{1}{3}x$ является прямая, проходящая через точки $(0; 2\frac{1}{3})$ и $(7; 0)$ (см. рис. 184). По графику видно, что на промежутке $-4 \leq x \leq 6$ функция принимает три целых значения: $y = 1$, $y = 2$, $y = 3$.

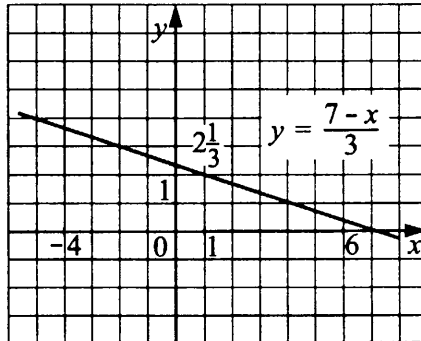


Рис. 184

Ответ: 3.

397. Функция $y = \frac{\sqrt{2x-x^3}}{x^4-3x^2+1}$ определена при x , удовлетворяющих

$$\text{условию } \begin{cases} 2x - x^3 \geq 0, \\ x^4 - 3x^2 + 1 \neq 0. \end{cases}$$

1) $x(x^2 - 2) \leq 0$; $x(x - \sqrt{2})(x + \sqrt{2}) \leq 0$; $x \leq -\sqrt{2}$; $0 \leq x \leq \sqrt{2}$ (см. рис. 185).

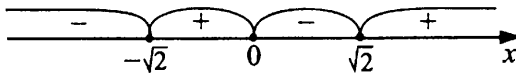


Рис. 185

2) $x^4 - 3x^2 + 1 \neq 0$. Обозначим $x^2 = t$; $t \geq 0$, тогда $t^2 - 3t + 1 \neq 0$;
 $t_1 \neq \frac{3+\sqrt{5}}{2}$; $t_2 \neq \frac{3-\sqrt{5}}{2}$.

$$\begin{aligned} \text{Следовательно, } x^2 &\neq \frac{3+\sqrt{5}}{2} = \left(\frac{1+\sqrt{5}}{2}\right)^2, x^2 \neq \frac{3-\sqrt{5}}{2} = \\ &= \left(\frac{1-\sqrt{5}}{2}\right)^2; x_1 \neq \frac{-1-\sqrt{5}}{2}, x_2 \neq \frac{1+\sqrt{5}}{2}, x_3 \neq \frac{-1+\sqrt{5}}{2}, \\ x_4 &\neq \frac{1-\sqrt{5}}{2}. \end{aligned}$$

3) Имеем (см. рис. 186)

$$\left(-\infty; \frac{-1-\sqrt{5}}{2}\right) \cup \left(\frac{-1-\sqrt{5}}{2}; -\sqrt{2}\right] \cup \left[0; \frac{-1+\sqrt{5}}{2}\right) \cup \left(\frac{-1+\sqrt{5}}{2}; \sqrt{2}\right].$$

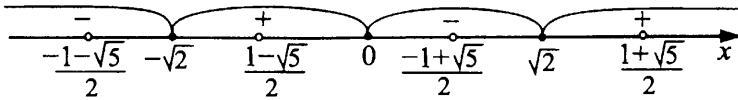


Рис. 186

Ответ: $\left(-\infty; \frac{-1-\sqrt{5}}{2}\right) \cup \left(\frac{-1-\sqrt{5}}{2}; -\sqrt{2}\right] \cup \left[0; \frac{-1+\sqrt{5}}{2}\right) \cup \left(\frac{-1+\sqrt{5}}{2}; \sqrt{2}\right].$

398. Функция $y = \frac{\sqrt{x^3 - 7x}}{x^4 - 5x^2 + 4}$ определена при x , удовлетворяющих условию

$$\begin{cases} x^3 - 7x \geq 0, \\ x^4 - 5x^2 + 4 \neq 0; \end{cases} \Leftrightarrow \begin{cases} x(x - \sqrt{7})(x + \sqrt{7}) \geq 0, \\ (x^2 - 4)(x^2 - 1) \neq 0; \end{cases} \Leftrightarrow$$

$$\Leftrightarrow \begin{cases} x(x - \sqrt{7})(x + \sqrt{7}) \geq 0, \\ (x - 2)(x + 2)(x - 1)(x + 1) \neq 0. \end{cases}$$

$$[-\sqrt{7}; -2) \cup (-2; -1) \cup (-1; 0] \cup [\sqrt{7}; +\infty) \text{ (см. рис. 187).}$$

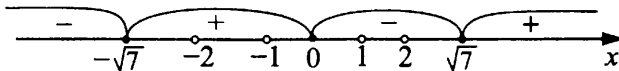


Рис. 187

Ответ: $[-\sqrt{7}; -2) \cup (-2; -1) \cup (-1; 0] \cup [\sqrt{7}; +\infty).$

$$399. y = \sqrt{x^2 - 9x - 22} + \frac{1}{\sqrt{x}}.$$

Найдём область определения функции, решив систему неравенств

$$\begin{cases} x^2 - 9x - 22 \geq 0, \\ x > 0; \end{cases} \Leftrightarrow \begin{cases} (x - 11)(x + 2) \geq 0, \\ x > 0; \end{cases} \Leftrightarrow \begin{cases} \begin{cases} x \leq -2, \\ x \geq 11, \end{cases} \\ x > 0; \end{cases} \Leftrightarrow$$

$$\Leftrightarrow x \geq 11.$$

Ответ: $[11; +\infty).$

400. Функция $y = \sqrt{x^2 - 2x - 8} + \sqrt{x}$ определена при x , удовлетворяющих системе неравенств

$$\begin{cases} x^2 - 2x - 8 \geq 0, \\ x \geq 0; \end{cases} \Leftrightarrow \begin{cases} (x+2)(x-4) \geq 0, \\ x \geq 0; \end{cases} \Leftrightarrow \begin{cases} \begin{cases} x \leq -2, \\ x \geq 4, \end{cases} \\ x \geq 0; \end{cases} \Leftrightarrow$$

$$\Leftrightarrow x \geq 4.$$

Ответ: $[4; +\infty)$.

401. Функция $y = \sqrt{7x - x^2 - 10} + \frac{1}{\sqrt{4x^2 - 20x + 25}}$ определена при x , удовлетворяющих системе неравенств

$$\begin{cases} 7x - x^2 - 10 \geq 0, \\ 4x^2 - 20x + 25 > 0; \end{cases} \Leftrightarrow \begin{cases} (x-2)(x-5) \leq 0, \\ (2x-5)^2 > 0; \end{cases} \Leftrightarrow \begin{cases} x \geq 2, \\ x \leq 5, \\ x \neq 2,5. \end{cases}$$

Ответ: $[2; 2,5) \cup (2,5; 5]$.

402. $D(y) = (-\infty; 0]$.

Обозначим $\sqrt{-x} = t$; $t \geq 0$, тогда $y(t) = 10t^2 + 4t + 2$. Задача сводится к нахождению наименьшего значения функции $y(t)$ на промежутке $[0; +\infty)$.

Графиком функции $y(t) = 10t^2 + 4t + 2$ является парабола, ветви которой направлены вверх, вершина находится в точке с координатами $(-\frac{1}{5}; 1\frac{3}{5})$. При $t \geq -\frac{1}{5}$ функция возрастает, значит, на промежутке $[0; +\infty)$ наименьшее значение функции $y_{\text{наим.}} = y(0) = 2$.

Ответ: 2.

403. $D(y) = (-\infty; 0]$.

Выполним замену $\sqrt{-x} = t$; $t \geq 0$; $-x = t^2$. Тогда $y(t) = t^2 + 2t + 1$; $y(t) = (t+1)^2$.

Задача сводится к нахождению наименьшего значения функции $y(t)$ на промежутке $[0; +\infty)$. Графиком функции $y(t) = (t+1)^2$ является парабола, ветви которой направлены вверх, вершина находится в точке с координатами $(-1; 0)$.

При $t \geq -1$ функция возрастает, значит, на промежутке $[0; +\infty)$ наименьшее значение функции $y_{\text{наим.}} = y(0) = 1$.

Ответ: 1.

404. Функция $y = 3x + 5 - 3\sqrt[4]{-x}$ определена при $x \leq 0$.

Функция $y = 3x + 5$ — монотонно возрастающая, функция $-3\sqrt[4]{-x}$ также монотонно возрастающая, поэтому функция $y = 3x + 5 - 3\sqrt[4]{-x}$ —

монотонно возрастающая. Наибольшее значение функция примет при $x = 0$, то есть $y = 5$ — наибольшее значение.

Ответ: 5.

405. Функция $y = x - 2\sqrt{-x} - 1$ определена при $x \leq 0$.

Выполним замену $\sqrt{-x} = t$; $t \geq 0$; $-x = t^2$. Тогда $y(t) = -t^2 - 2t - 1$;
 $y(t) = -(t + 1)^2$.

Задача сводится к нахождению наибольшего значения функции $y(t)$ на промежутке $[0; +\infty)$. Графиком функции $y = -(t + 1)^2$ является парабола, ветви которой направлены вниз, вершина находится в точке с координатами $(-1; 0)$. При $t \geq -1$ функция убывает, значит, на промежутке $[0; +\infty)$ наибольшее значение функции $y_{\text{наиб.}} = y(0) = -1$.

Ответ: -1 .

406. Областью определения данной функции являются все x , при которых $6 - 2x \neq 0$, то есть $D(y) = \{x \neq 3\}$. При $x \neq 3$ имеем

$$\frac{x^2 - 9}{6 - 2x} = \frac{(x - 3)(x + 3)}{2(3 - x)} = -0,5 \cdot (x + 3).$$

Таким образом, множество значений данной функции получается из множества значений функции $y = -0,5 \cdot (x + 3)$, за исключением значения

$y(3) = -0,5 \cdot (3 + 3) = -3$, то есть совпадает с множеством $(-\infty; -3) \cup (-3; +\infty)$.

Ответ: $(-\infty; -3) \cup (-3; +\infty)$.

407. Областью определения данной функции являются все x , при которых $2x - 6 \neq 0$, то есть $D(y) = \{x \neq 3\}$. При $x \neq 3$ имеем

$$\frac{9 - x^2}{2x - 6} = \frac{(3 - x)(3 + x)}{2(x - 3)} = -0,5 \cdot (x + 3).$$

Таким образом, множество значений данной функции получается из множества значений функции $y = -0,5 \cdot (x + 3)$, за исключением значения $y(3) = -0,5 \cdot (3 + 3) = -3$, то есть совпадает с множеством $(-\infty; -3) \cup (-3; +\infty)$.

Ответ: $(-\infty; -3) \cup (-3; +\infty)$.

408. Графиком этой функции является парабола, ветви которой направлены вверх. Найдём наименьшее значение этой функции $x_0 = \frac{3}{2} = 1,5$.

$$y_0 = (1,5)^2 - 3 \cdot 1,5 - 10 = 2,25 - 4,5 - 10 = -12,25.$$

Для построения графика найдём значение y функции в дополнительных точках:

x	0	-1	-2
y	-10	-6	0

Построим график (см. рис. 188).

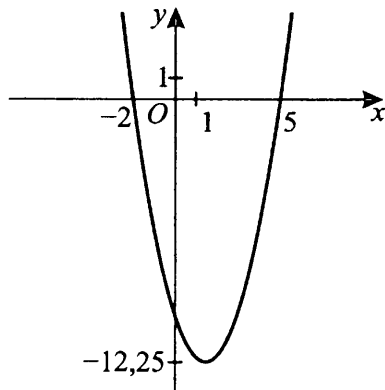


Рис. 188

Ответ: $-12,25$.

$$409. y = \frac{4x - 2x^2}{3} + 2; y = -\frac{2}{3}x^2 + \frac{4}{3}x + 2.$$

График функции $y = -\frac{2}{3}x^2 + \frac{4}{3}x + 2$ — парабола, ветви которой направлены вниз.

Найдём координаты вершины:

$$x_0 = -\frac{b}{2a}, x_0 = -\frac{4 \cdot 3}{3 \cdot 2 \cdot (-2)} = 1, y_0 = -\frac{2}{3} + \frac{4}{3} + 2 = 2\frac{2}{3}.$$

$(1; 2\frac{2}{3})$ — координаты вершины параболы.

Найдём нули функции, решив уравнение $-\frac{2}{3}x^2 + \frac{4}{3}x + 2 = 0 \Leftrightarrow x^2 - 2x - 3 = 0 \Leftrightarrow x_1 = -1, x_2 = 3$. $(-1; 0)$ и $(3; 0)$ — координаты точек пересечения графика функции с осью Ox .

Дополнительные точки:

x	0	2	4	-2
y	2	2	$-\frac{10}{3}$	$-\frac{10}{3}$

Наибольшее значение функции $y = \frac{4x - 2x^2}{3} + 2$ достигается в вершине параболы и равно $2\frac{2}{3}$ (см. рис. 189).

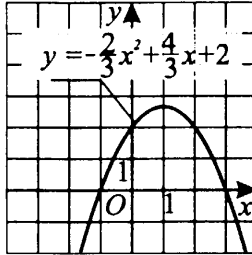


Рис. 189

Ответ: $2\frac{2}{3}$.

410. Графиком этой функции является парабола, ветви которой направлены вверх. Найдём наименьшее значение этой функции:

$$x_0 = \frac{\frac{2}{3}}{\frac{4}{9}} = \frac{3}{4} = 0,75;$$

$$y_0 = \frac{4}{9}(0,75)^2 - \frac{2}{3} \cdot 0,75 + 1 = \frac{1}{3} \cdot \frac{3}{4} - \frac{2}{3} \cdot \frac{3}{4} + 1 = \frac{1}{4} - \frac{1}{2} + 1 = \frac{3}{4}.$$

Так как $D = \left(\frac{2}{3}\right)^2 - 4 \cdot \frac{4}{9} \cdot 1 = \frac{4 - 16}{9} < 0$, то график лежит всюду выше оси Ox . Для построения графика найдём значение y функции в дополни-

тельных точках:

x	0	-1	-2
y	1	$2\frac{1}{9}$	$4\frac{1}{9}$

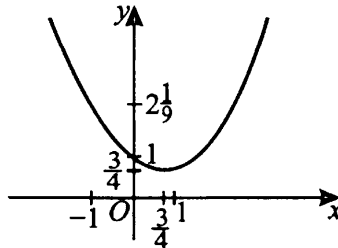


Рис. 190

Построим график (см. рис. 190).

Ответ: $\frac{3}{4}$.

411. График функции $y = \frac{1}{3}x^2 - 2x$ — парабола, ветви которой направлены вверх (см. рис. 191). Найдём координаты вершины: $x_0 = -\frac{b}{2a}$, $x_0 = \frac{2 \cdot 3}{2} = 3$, $y_0 = \frac{1}{3} \cdot 3^2 - 2 \cdot 3 = -3$. $(3; -3)$ — координаты вершины параболы. Нули функции: $\frac{1}{3}x^2 - 2x = 0$, $x_1 = 0$, $x_2 = 6$, следовательно, $(0; 0)$ и $(6; 0)$ — координаты точек пересечения графика функции с осью Ox .

Дополнительные точки:

x	1	5	-1	7
y	$-1\frac{2}{3}$	$-1\frac{2}{3}$	$2\frac{1}{3}$	$2\frac{1}{3}$

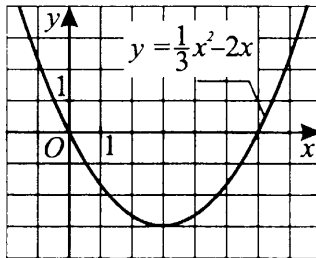


Рис. 191

Функция возрастает на промежутке $[3; +\infty)$.

Ответ: $[3; +\infty)$.

412. Графиком этой функции является парабола, ветви которой направлены вниз. Найдём нули этой функции, то есть точки, где $-0,5x^2 - x + 4 = 0$; $x^2 + 2x - 8 = 0$; $x_1 = -4$; $x_2 = 2$. То есть у нас есть ответ на второй вопрос задачи: $-4 \leq x \leq 2$. Для построения графика найдём наибольшее значение этой функции: $x_0 = \frac{+1}{-1} = -1$, $y_0 = -0,5 + 1 + 4 = 4,5$.

Для построения графика найдём значение y функции в дополнительных точках:

x	0	1	2	4
y	4	2,5	0	-8

Построим график (см. рис. 192).

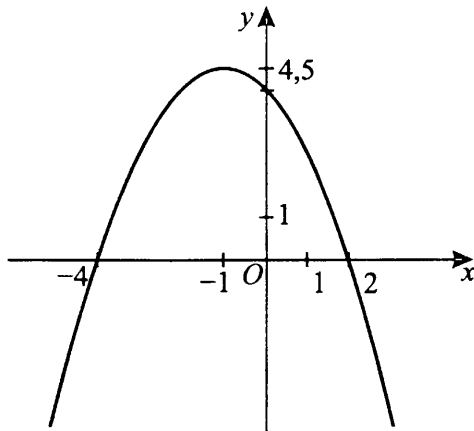


Рис. 192

Ответ: $-4 \leq x \leq 2$.

413. Пусть x — длина всего забора, тогда $0,3(x - 2)$ — длина части забора, которую покрасил мальчик, красивший сразу за Томом, а из следующих трёх мальчиков первый и второй покрасили $\frac{1}{5}x$ и $\frac{1}{6}x$ метров.

Пусть y — длина части забора, оставшейся неокрашенной после этого. Из условия следует, что 1 метр (который в конце красил Том) составляет $100\% - 85\% = 15\%$ от y . То есть $0,15y = 1$, $y = \frac{100}{15} = \frac{20}{3}$. Так как сумма всех окрашенных частей равна длине всего забора, получаем уравнение:

$$2 + 0,3(x - 2) + \frac{1}{5}x + \frac{1}{6}x + y = x; \quad 2 + \frac{3}{10}x - 0,6 + \frac{11}{30}x + \frac{20}{3} = x;$$

$$\frac{20}{30}x + 1,4 + \frac{20}{3} = x; \quad \frac{24,2}{3} = \frac{1}{3}x; \quad x = 24,2 \text{ (м)}.$$

Ответ: 24,2.

414. Пусть первоначально у Кролика было x кг мёда. Винни-Пух за первые 3 часа съел $0,4x$ кг, а Пятачок и Кролик съели 300 г мёда. У Кролика осталось $x - 0,4x - 0,3 = 0,6x - 0,3$ (кг).

За следующие 3 часа Винни-Пух съел $\frac{2}{3} \cdot (0,6x - 0,3) = 0,4x - 0,2$ (кг),

а Пятачок и Кролик — 100 г. У Кролика осталось $0,6x - 0,3 - 0,4x + 0,2 - 0,1 = 0,2x - 0,2$ (кг).

Зная, что осталось 1,6 кг, составим уравнение: $0,2x - 0,2 = 1,6$,
 $x - 1 = 8$; $x = 9$ (кг). Первоначально у Кролика было 9 кг мёда.

Ответ: 9 кг.

416. Пусть скорость автомобиля II — x км/ч, тогда скорость I — $(x + 10)$ км/ч.

Первый случай: первый автомобиль прошёл $4(x + 10)$ км до встречи, а второй — $3x$ км. Весь путь — $(4(x + 10) + 3x)$ км.

Второй случай: первый до встречи шёл $4,5 - 1\frac{5}{6} = 2\frac{2}{3}$ (ч) и прошёл

$2\frac{2}{3}(x + 10)$ км. Второй прошёл $4\frac{1}{2}x$ км. Весь путь — $(2\frac{2}{3}(x + 10) + 4\frac{1}{2}x)$ км.

Зная, что в обоих случаях автомобили проехали один и тот же путь, составим уравнение:

$$4(x + 10) + 3x = \frac{8}{3}(x + 10) + 4\frac{1}{2}x; \quad 4x + 40 + 3x = \frac{8}{3}x + \frac{80}{3} + 4\frac{1}{2}x;$$

$$7x - \frac{8}{3}x - 4\frac{1}{2}x = \frac{80}{3} - 40; \quad -\frac{1}{6}x = -\frac{40}{3}; \quad x = 80.$$

Скорость автомобиля II — 80 км/ч. Расстояние между пунктами $4(80 + 10) + 3 \cdot 80 = 600$ (км).

Ответ: 600 км.

417. Пусть x км/ч — скорость велосипедиста I, а y км/ч — скорость велосипедиста II.

Если велосипедист I выедет на 5 ч раньше второго и они встретятся через 5 ч после выезда второго, то к моменту встречи велосипедист I проедет $10x$ км, а второй — $5y$ км.

Если велосипедист II выедет на 2 ч раньше первого и они встретятся через 6 ч после выезда первого, то к моменту встречи велосипедист I проедет $6x$ км, а второй — $8y$ км.

Зная, что расстояние между пунктами 400 км, составим и решим систему уравнений:

$$\begin{cases} 10x + 5y = 400, & \begin{cases} 2x + y = 80, & (1) \\ 6x + 8y = 400, & \begin{cases} 3x + 4y = 200. & (2) \end{cases} \end{cases} \end{cases}$$

Выразим из уравнения (1) y и подставим его во второе уравнение. Получим $y = 80 - 2x$, $3x + 4(80 - 2x) = 200$, $3x + 320 - 8x = 200$, $-5x = -120$, $x = 24$, $y = 80 - 2 \cdot 24 = 32$.

Таким образом, скорость велосипедиста I — 24 км/ч, скорость велосипедиста II — 32 км/ч.

Ответ: 24 км/ч; 32 км/ч.

418. Пусть скорость движения первой черепахи x м/ч, а второй — y м/ч.

Если бы первая ползла на 40 м/ч быстрее, то через t_1 часов они бы встретились на полпути.

Получаем: $(x + 40) \cdot t_1 = y \cdot t_1$ или $x + 40 = y$.

Если бы вторая ползла на 50 м/ч быстрее, то она проползла бы до встречи за t_2 часов в два раза большее расстояние, чем первая.

Получаем: $2xt_2 = (y + 50) \cdot t_2$ или $2x = y + 50$.

Решим систему уравнений:

$$\begin{cases} x + 40 = y, \\ 2x = y + 50; \end{cases} \Leftrightarrow \begin{cases} y = x + 40, \\ 2x = x + 40 + 50; \end{cases} \Leftrightarrow \begin{cases} y = x + 40, \\ x = 90; \end{cases} \Leftrightarrow \\ \Leftrightarrow \begin{cases} x = 90, \\ y = 130. \end{cases}$$

Итак, 90 м/ч — скорость первой черепахи, 130 м/ч — скорость второй черепахи.

Ответ: 90; 130.

419. Пусть производительность третьего токаря — x деталей в час, а догоняет он второго по числу деталей через y часов. Тогда второй работал $(1 + y)$ часов и сделал $5 \cdot (1 + y)$ деталей, а третий сделал xy деталей. Первое уравнение — $5 \cdot (1 + y) = xy$.

Третий токарь, чтобы догнать первого, работал $(2 + y)$ часов и сделал $x(2 + y)$ деталей, а первый работал $(4 + y)$ часов и сделал $6 \cdot (4 + y)$ деталей.

Второе уравнение — $6 \cdot (4 + y) = x \cdot (2 + y)$.

Решим систему уравнений:

$$\begin{cases} 5 \cdot (1 + y) = xy, \\ 6 \cdot (4 + y) = x \cdot (2 + y); \end{cases} \Leftrightarrow \begin{cases} 5 + 5y = xy, \\ 24 + 6y - 2x = xy; \end{cases} \Leftrightarrow \\ \Leftrightarrow \begin{cases} 5(1 + y) = xy, \\ 5 + 5y = 24 + 6y - 2x; \end{cases} \Leftrightarrow \begin{cases} 5(1 + y) = xy, \\ y = 2x - 19. \end{cases}$$

Подставим $y = 2x - 19$ в первое уравнение системы:

$$5 \cdot (1 + 2x - 19) = x(2x - 19); 2x^2 - 29x + 90 = 0;$$

$$x_{1,2} = \frac{29 \pm \sqrt{841 - 720}}{4} = \frac{29 \pm 11}{4}; x_1 = 10, x_2 = 4,5.$$

Так как производительность третьего токаря больше, чем первого и второго, производительность третьего токаря равна 10 деталей в час.

Ответ: 10 деталей в час.

420. Пусть x км/ч — скорость мотоциклиста, а t ч — время после выезда первого велосипедиста до встречи второго велосипедиста с мотоциклистом. Расстояние, которое проехал второй велосипедист до встречи с мотоциклистом, равно $20(t - 2)$ км, а мотоциклист проехал $x(t - 4)$ км.

К моменту встречи мотоциклиста с первым велосипедистом мотоциклист проехал $x(t - 1)$ км, а первый велосипедист — $30(t + 3)$ км. По условию $20(t - 2) = x(t - 4)$ и $x(t - 1) = 30(t + 3)$.

Решим систему уравнений:

$$\begin{cases} 20(t - 2) = x(t - 4), \\ x(t - 1) = 30(t + 3); \end{cases} \quad \begin{cases} x = \frac{20(t - 2)}{t - 4}, \\ x = \frac{30(t + 3)}{t - 1}; \end{cases}$$

$$\frac{20(t - 2)}{t - 4} = \frac{30(t + 3)}{t - 1}, \quad 2(t - 2)(t - 1) = 3(t + 3)(t - 4),$$

$$2(t^2 - 3t + 2) = 3(t^2 - t - 12), \quad 2t^2 - 6t + 4 = 3t^2 - 3t - 36,$$

$$t^2 + 3t - 40 = 0, \quad t = -8 \text{ или } t = 5.$$

Время не может быть отрицательно, поэтому подходит только $t = 5$. От-

сюда $x = \frac{20 \cdot (5 - 2)}{5 - 4} = 20 \cdot 3 = 60$; скорость мотоциклиста равна 60 км/ч.

Ответ: 60 км/ч.

422. Пусть выпуск продукции составлял x , отпускная цена — y . Себестоимость — $\frac{3}{4}y$. Прибыль составляла $y - \frac{3}{4}y = \frac{1}{4}y$ (на отпускной цене). Вся

прибыль была $\frac{xy}{4}$.

После изменений выпуск продукции составил $1,5x$, отпускная цена — $1,1y$, себестоимость — $\frac{3}{4} \cdot 1,2y = 0,9y$. Прибыль на отпускной цене — $1,1y - 0,9y = 0,2y$. Вся прибыль составила $1,5x \cdot 0,2y = 0,3xy$.

Прибыль увеличилась на $0,3xy - 0,25xy = 0,05xy$, что в процентах составило $\frac{0,05xy \cdot 4}{xy} \cdot 100\% = 20\%$.

Ответ: 20.

423. Пусть v — первоначальный ежедневный объём переработки, c_1, c_2 — себестоимость продукции и её отпускная цена до повышения цен, а $\tilde{v}, \tilde{c}_1, \tilde{c}_2$ — те же величины после произошедших изменений. Тогда первоначально прибыль завода составляла $s = v(c_2 - c_1)$ у.е./сут., а прибыль завода после произошедших изменений равна $\tilde{s} = \tilde{v} \cdot (\tilde{c}_2 - \tilde{c}_1)$ у.е./сут.

По условию $\tilde{v} = 1,3v$; $\tilde{c}_2 = 1,25c_2$; $\tilde{c}_1 = c_1 + \frac{1}{3}c_1 = \frac{4}{3}c_1$; $\tilde{c}_1 = 0,8\tilde{c}_2$.

Отсюда имеем $\tilde{c}_1 = 0,8\tilde{c}_2 = 0,8(1,25c_2) = c_2 \Rightarrow \tilde{s} = 1,3v(1,25c_2 - c_2) =$

$$= \frac{1,3v \cdot c_2}{4}. \text{ Далее, } c_1 = \frac{3}{4}\tilde{c}_1 = \frac{3}{4}c_2 \Rightarrow s = v\left(c_2 - \frac{3}{4}c_2\right) = \frac{v \cdot c_2}{4}.$$

Следовательно, $\frac{\tilde{s}}{s} = \frac{(1,3v \cdot c_2)/4}{(v \cdot c_2)/4} = 1,3$, то есть прибыль завода увеличилась на 30%.

Ответ: 30.

424. Примем весь объём работ за 1. Пусть v_1, v_2, v_3 и v_4 — объём работы, выполняемой за час первой, второй, третьей и четвёртой бригадой соответственно. Тогда из первого условия задачи получаем $v_1 + v_2 + v_3 = \frac{1}{8}$,

из второго — $v_2 + v_3 + v_4 = \frac{3}{20}$, из третьего — $v_1 + v_2 + v_3 + v_4 = \frac{1}{5}$. Умножим обе части третьего уравнения на 2 и вычтем из него первое и второе уравнения. В результате получим $v_1 + v_4 = \frac{1}{8}$, следовательно, первая и четвёртая бригады вместе справятся с работой за 8 часов.

Ответ: 8 ч.

425. Пусть производительность бригады *I* — x , бригады *II* — y , бригады *III* — z , бригады *IV* — t . Найдите $\frac{1}{z+t}$.

$$\text{По условию } \begin{cases} y + z + t = 4x, \\ x + z + t = 3y, \\ x + y = \frac{1}{11}. \end{cases}$$

Найдём $z+t$ — производительность бригад *III* и *IV* —

$$\begin{cases} z + t = 4x - y, \\ z + t = 3y - x, \\ x + y = \frac{1}{11}; \end{cases} \quad 4x - y = 3y - x; \quad 5x = 4y; \quad x = \frac{4}{5}y. \text{ Подставим в третье}$$

уравнение: $\frac{4}{5}y + y = \frac{1}{11}, \frac{9}{5}y = \frac{1}{11}, y = \frac{5}{99}, x = \frac{4}{99}$. Тогда $z+t = 4 \cdot \frac{4}{99} - \frac{5}{99}$,

$z+t = \frac{1}{9}$. Тогда бригадам *III* и *IV* понадобится $1 : \frac{1}{9} = 9$ (дней).

Ответ: 9 дней.

426. Пусть производительность классов следующая: А — a , Б — b , В — c , Г — d .

Необходимо найти время, за которое могут покрасить забор все четыре

класса, то есть $\frac{1}{a+b+c+d}$.

По условию $b+c+d = \frac{1}{3}$, $a+c+d = \frac{1}{2}$, $a+b = \frac{1}{5}$;

сложим $2a+2b+2c+2d = \frac{1}{3} + \frac{1}{2} + \frac{1}{5}$, $a+b+c+d = \frac{31}{60}$, $\frac{1}{a+b+c+d} = \frac{60}{31}$.

Все четыре класса могут покрасить забор за $1\frac{29}{31}$ часа.

Ответ: $1\frac{29}{31}$ ч.

427. Примем весь объём работ за 1. Пусть производительность комбайнов следующая: $I — a$, $II — b$, $III — c$, $IV — d$.

Необходимо найти, за какое время будет выполнена работа, если будут работать все четыре комбайна, то есть $\frac{1}{a+b+c+d}$.

По условию $a+b+c = \frac{1}{1\frac{1}{3}}$; $a+b+d = \frac{1}{\frac{1}{2}}$; $c+d = \frac{1}{1\frac{1}{3}}$.

Получаем $2a+2b+2c+2d = \frac{3}{4} + \frac{1}{2} + \frac{3}{4}$; $a+b+c+d = 1$; $\frac{1}{a+b+c+d} = 1$.

Ответ: 1 ч.

428. Пусть производительность первого студента — x , производительность второго студента — y , производительность первого школьника — z , производительность второго школьника — t .

Необходимо найти $\frac{10}{x+y+z+t}$.

По условию $\begin{cases} x+z+t = \frac{10}{7}, \\ y+z+t = \frac{10}{10}, \\ x+y = \frac{10}{12}. \end{cases}$

Тогда $2(x+y) + 2(z+t) = \frac{10}{7} + \frac{10}{10} + \frac{10}{12}$, $x+y+z+t = \frac{1370}{840}$;

$\frac{10}{x+y+z+t} = \frac{840}{137}$.

Тогда все вместе они решат 10 задач за $\frac{840}{137}$ минут.

Ответ: $\frac{840}{137}$ мин.

429. Пусть производительность 1-го садовника — x , производительность 2-го садовника — y , производительность 3-го садовника — z , производительность 4-го садовника — t .

$$\text{По условию} \quad \begin{cases} x + y = \frac{7}{120}, \\ y + z + t = \frac{9}{200}, \\ z + x + t = \frac{4}{75}. \end{cases}$$

Найти $\frac{1}{x + y + z + t}$.

Сложим уравнения системы: $2x + 2y + 2z + 2t = \frac{7}{120} + \frac{9}{200} + \frac{4}{75}$,

$2(x + y + z + t) = \frac{94}{600}$, $x + y + z + t = \frac{47}{600}$, $\frac{1}{x + y + z + t} = \frac{600}{47}$ часа.

Ответ: $\frac{600}{47}$ часа.

430. Пусть первоначальная скорость такси $x \frac{\text{км}}{\text{ч}}$, тогда на путь из A

в B было потрачено $\frac{200}{x}$ часов, а обратный путь водитель прошёл за

$1 + \frac{200 - x}{x - 20}$ часов. Зная, что обратный путь занял на $\frac{1}{4}$ часа больше, составим уравнение:

$$1 + \frac{200 - x}{x - 20} = \frac{200}{x} + \frac{1}{4}, \quad \frac{200 - x}{x - 20} - \frac{200}{x} = -\frac{3}{4},$$

$$\frac{200x - x^2 - 200x + 4000}{x(x - 20)} = -\frac{3}{4}; \quad x \neq 0, x \neq 20.$$

$$4(-x^2 + 4000) = -3(x^2 - 20x), \quad -4x^2 + 16000 = -3x^2 + 60x,$$

$x^2 + 60x - 16000 = 0$, по теореме, обратной теореме Виета, $x_1 = 100$, $x_2 = -160$ (не удовлетворяет условию задачи).

Ответ: 100 км/ч.

431. Пусть расстояние AB равно x км, тогда на этот путь затрачено $\frac{x}{80}$ часов, а на обратный — $\frac{30}{40} + \frac{x-30}{90} = \frac{3}{4} + \frac{x-30}{90}$ часа. Зная, что на обратный путь водитель затратил на $\frac{5}{18}$ часа меньше, составим уравнение:

$$\frac{x}{80} - \frac{3}{4} - \frac{x-30}{90} = \frac{5}{18}; \quad \frac{x}{80} - \frac{x-30}{90} = \frac{5}{18} + \frac{3}{4}; \quad \frac{x}{80} - \frac{x-30}{90} = \frac{37}{36};$$

$$\frac{9x - 8x + 240}{720} = \frac{37}{36}; \quad x + 240 = 37 \cdot 20; \quad x = 500.$$

Расстояние между пунктами — 500 км.

Ответ: 500 км.

432. Обозначим через D место встречи поездов. Пусть расстояние $AD = x$ км, а $BD = y$ км (см. рис. 193), тогда $v_I = \frac{y}{50} \frac{\text{км}}{\text{ч}}$, а $v_{II} = \frac{x}{8} \frac{\text{км}}{\text{ч}}$.

Первый поезд прошёл путь AD за $\frac{50x}{y}$ часов, второй поезд прошёл путь BD за $\frac{8y}{x}$ часов. Зная, что до встречи они шли одно и то же время, составим уравнение:

$$\frac{50x}{y} = \frac{8y}{x}.$$

Обозначим $\frac{x}{y} = u$; $50u = \frac{8}{u}$; $50u^2 = 8$; $u^2 = \frac{8}{50}$, $u > 0$; $u = \frac{2}{5}$; $\frac{x}{y} = \frac{2}{5}$

или $\frac{y}{x} = 2,5$.




Рис. 193

Первый поезд прошёл до встречи в 2,5 раза меньший путь, чем ему осталось пройти, значит, он потратил на него в 2,5 раза меньше времени, то есть $50 : 2,5 = 20$ часов.

Ответ: 20.

433. Пусть C — место встречи двух велосипедистов. Тогда первый велосипедист проехал расстояние $S_2 = CB$ за 48 минут, а второй проехал расстояние $S_1 = AC$ за 27 минут. Так как скорости велосипедистов постоянны, то скорость первого велосипедиста $v_1 = \frac{S_2}{48}$, а скорость второго

— $v_2 = \frac{S_1}{27}$. Тогда первый затратил на дорогу до встречи $\frac{S_1}{v_1}$ минут, а

второй — $\frac{S_2}{v_2}$ минут. Однако каждый из велосипедистов доехал до места

встречи от пункта своего отправления за одно и то же время. Поэтому

$$\frac{S_1}{v_1} = \frac{S_2}{v_2}, \text{ откуда } \frac{S_1}{\frac{S_2}{48}} = \frac{S_2}{\frac{S_1}{27}} \Rightarrow \left(\frac{S_1}{S_2}\right)^2 = \frac{27}{48}, \left(\frac{S_1}{S_2}\right)^2 = \frac{9}{16}, \frac{S_1}{S_2} = \frac{3}{4}.$$

Следовательно, время от начала движения велосипедистов до их встречи равно $\frac{S_1}{v_1} = 48 \cdot \frac{S_1}{S_2} = 48 \cdot \frac{3}{4} = 36$ минут.

Ответ: 36.

434. Пусть в начале пути в трамвай село x пассажиров. Тогда согласно условию следующая последовательность соответствует количеству пассажиров в трамвае после каждой остановки: x ; $x + 8 - 2 = x + 6$; $x + 6 + 8 - 4 = x + 10$; $x + 10 + 8 - 6 = x + 12$; $x + 12 + 8 - 8 = x + 12$; $x + 12 + 8 - 10 = x + 10$; $x + 10 + 8 - 12 = x + 6$; $x + 6 + 8 - 14 = x$; $x + 8 - 16 = x - 8$. Так как по условию на последней остановке было 25 человек, то $x - 8 = 25$; $x = 33$. Следовательно, наибольшее количество пассажиров, ехавших в трамвае, было $x + 12 = 33 + 12 = 45$ (чел.).

Ответ: 45.

435. Пусть в начале пути в трамвай село x пассажиров. Тогда согласно условию следующая последовательность соответствует количеству пассажиров в трамвае после каждой остановки: x ; $x + 10 - 6 = x + 4$; $x + 4 + 10 - 8 = x + 6$; $x + 6 + 10 - 10 = x + 6$; $x + 6 + 10 - 12 = x + 4$; $x + 4 + 10 - 14 = x$; $x + 10 - 16 = x - 6$; $x - 6 + 10 - 18 = x - 14$; $x - 14 + 10 - 20 = x - 24$. Так как по условию на последней остановке было 10 человек, то $x - 24 = 10$; $x = 34$. Следовательно, наибольшее количество пассажиров, ехавших в трамвае, было $x + 6 = 34 + 6 = 40$ (чел.).

Ответ: 40.

436. В сутки на табло электронных часов (без секунд) светится хотя бы одна цифра 1:

1) 10 раз, обозначая десятки часов; 2 раза, обозначая единицы часов; всего в течение 12 часов;

2) 10 раз, обозначая десятки минут; 5 раз, обозначая единицы минут; в течение 15 минут каждые 12 часов:

$$15 \text{ мин} \cdot 12 = 180 \text{ мин} = 3 \text{ часа.}$$

Итого: $12\text{ч} + 3\text{ч} = 15\text{ч}$.

Ответ: 15.

437. В сутки на табло электронных часов (без секунд) светится хотя бы одна цифра 3:

1) 3 раза, обозначая единицы часов в течение трёх часов;

2) 9 раз, обозначая десятки минут;

3) 6 раз, обозначая единицы минут, в течение 15 минут каждые 21 час:

$$15 \text{ мин} \cdot 21 = 315 \text{ мин} = 5,25 \text{ часа.}$$

Итого: $3\text{ч} + 5,25\text{ч} = 8,25\text{ч}$.

Ответ: 8,25.

438. Пусть x км/ч — скорость лодки в стоячей воде, по условию $x > 3$.

	v (км/ч)	t (ч)	S (км)
по течению	$x + 3$	$\frac{39}{x + 3}$	39
против течения	$x - 3$	$\frac{28}{x - 3}$	28
в озере	x	$\frac{70}{x}$	70

Зная, что моторная лодка прошла путь по течению реки и против течения реки за то же время, за которое она могла пройти путь по озеру, составим и решим уравнение:

$$\frac{39}{x + 3} + \frac{28}{x - 3} = \frac{70}{x}, \quad 39x \cdot (x - 3) + 28x \cdot (x + 3) = 70 \cdot (x^2 - 9),$$

$$39x^2 - 117x + 28x^2 + 84x = 70x^2 - 630, \quad 3x^2 + 33x - 630 = 0,$$

$$x^2 + 11x - 210 = 0.$$

По теореме, обратной теореме Виета, $x_1 = 10$, $x_2 = -21$ не удовлетворяет условию $x > 3$. 10 км/ч — скорость лодки в стоячей воде.

Ответ: 10 км/ч.

439. Пусть x км/ч — скорость байдарки в стоячей воде, тогда $(x + 2)$ км/ч составит скорость байдарки по течению, а $(x - 2)$ км/ч — скорость про-

тив течения реки. $\frac{25}{x}$ ч — время, которое затратил турист, плывя по озеру,

$\frac{9}{x-2}$ ч — время движения против течения реки, $\frac{56}{x+2}$ ч — время движения по течению. По условию задачи турист плыл по озеру и против течения реки столько же времени, сколько плыл по течению. Составим и решим уравнение:

$$\frac{25}{x} + \frac{9}{x-2} = \frac{56}{x+2}, \quad x > 2, \quad 25(x^2 - 4) + 9x(x+2) = 56x(x-2),$$

$$25x^2 - 100 + 9x^2 + 18x = 56x^2 - 112x, \quad 22x^2 - 130x + 100 = 0,$$

$$11x^2 - 65x + 50 = 0, \quad D = 65^2 - 4 \cdot 11 \cdot 50 = 4225 - 2200 = 2025, \quad x_{1,2} = \frac{65 \pm 45}{22},$$

$$x_1 = \frac{110}{22} = 5, \quad x_2 = \frac{20}{22} = \frac{10}{11} \text{ не удовлетворяет условию } x > 2.$$

5 км/ч — скорость байдарки в стоячей воде.

Ответ: 5 км/ч.

440. Пусть x кг — масса меди в сплаве, тогда $(x+5)$ кг — первоначальная масса сплава; $\frac{x}{x+5} \cdot 100\%$ — процентное содержание меди в первоначальном сплаве; $(x+20)$ кг — масса нового сплава; $\frac{x}{x+20} \cdot 100\%$ — процентное содержание меди в новом сплаве.

По условию содержание меди понизилось на 30%. Составим и решим уравнение:

$$\frac{x}{x+5} \cdot 100 - \frac{x}{x+20} \cdot 100 = 30, \quad x > 0; \quad \frac{10x}{x+5} - \frac{10x}{x+20} = 3;$$

$$10x^2 + 200x - 10x^2 - 50x = 3(x+5)(x+20); \quad 150x = 3(x+5)(x+20);$$

$x^2 + 25x - 50x + 100 = 0; \quad x^2 - 25x + 100 = 0; \quad x_1 = 5, \quad x_2 = 20.$ Оба числа удовлетворяют условию $x > 0$. Первоначальная масса сплава могла быть либо 10 кг, либо 25 кг.

Ответ: 10 кг, 25 кг.

441. Пусть x г — масса серебра в сплаве, тогда $(x+80)$ г — первоначальная масса сплава, $\frac{80}{x+80} \cdot 100\%$ — процентное содержание золота в первоначальном сплаве, $(x+180)$ г — масса сплава после добавления

100 г золота, тогда $\frac{180}{x+180} \cdot 100\%$ — процентное содержание золота в новом сплаве. По условию содержание золота в сплаве по сравнению с первоначальным повысилось на 20%. Составим и решим уравнение:

$$\frac{180}{x+180} \cdot 100 - \frac{80}{x+80} \cdot 100 = 20, \quad \frac{900}{x+180} - \frac{400}{x+80} = 1,$$

$$900x + 72000 - 400x - 72000 = x^2 + 260x + 14400, \quad x^2 - 240x + 14400 = 0,$$

$$(x - 120)^2 = 0, \quad x = 120. \quad 120 \text{ г серебра было в сплаве.}$$

Ответ: 120.

443. Пусть до начала матча x часов.

	v (км/ч)	t (ч)	S (км)
пешком	5	$x + 1$	$5(x + 1)$
на велосипеде	10	$x - \frac{1}{2}$	$10\left(x - \frac{1}{2}\right)$

Зная, что путь от дома болельщика до стадиона один и тот же, составим и решим уравнение:

$$5(x + 1) = 10\left(x - \frac{1}{2}\right); \quad x + 1 = 2x - 1; \quad x = 2.$$

2 часа до начала матча.

Ответ: 2.

444. Пусть x км/ч — скорость пешехода, y км/ч — скорость велосипедиста.

1. Велосипедист отправился в путь на 1 час раньше пешехода, и они встретятся через 2 часа после выезда велосипедиста. Отсюда следует, что пешеход прошёл x км, а велосипедист проехал $2y$ км, значит, $x + 2y = 28$.

2. Пешеход выйдет на 1 час раньше велосипедиста, и через 2 часа после выхода пешехода расстояние между ними сократится в 3,5 раза. Отсюда следует, что пешеход прошёл $2x$ км, а велосипедист проехал y км, значит,

$$2x + y = 28 - \frac{28}{3,5}.$$

Составим и решим систему уравнений:

$$\begin{cases} x + 2y = 28, & | -2 \\ 2x + y = 20. \end{cases}$$

Сложим $-2x - 4y = -56$ и $2x + y = 20$. Получим $-3y = -36$; $y = 12$.

Подставим $y = 12$ во второе уравнение системы и найдём x :

$$2x + 12 = 20; \quad 2x = 8; \quad x = 4.$$

4 км/ч — скорость пешехода, 12 км/ч — скорость велосипедиста.

Ответ: 12 км/ч; 4 км/ч.

445. Пусть x г — масса первого раствора, y г — масса второго раствора, тогда $0,3x$ г — масса кислоты в первом растворе, $0,5y$ г — масса кислоты во втором растворе, $(0,3x + 0,5y)$ г — масса кислоты в смеси, что по условию задачи составляет 45% массы раствора. Составим уравнение:

$$0,3x + 0,5y = 0,45(x + y); 0,5y - 0,45y = 0,45x - 0,3x; 0,05y = 0,15x; \\ y = 3x; x : y = 1 : 3.$$

Ответ: 1 : 3.

446. Пусть x г — масса первого сплава, y г — масса второго сплава, тогда $0,4x$ г — масса меди в первом сплаве, $0,6y$ г — масса меди во втором сплаве, $(0,4x + 0,6y)$ г — масса меди после того, как соединили два сплава, что по условию задачи составляет 45% массы вновь полученного сплава: $0,4x + 0,6y = 0,45 \cdot (x + y)$; $0,6y - 0,45y = 0,45x - 0,4x$; $0,15y = 0,05x$; $3y = x$; $x : y = 3 : 1$.

Ответ: 3 : 1.

447. Пусть первоначальная скорость катера — x км/ч. Тогда за 3 часа катер прошёл $3x$ км. Оставшееся расстояние $(87,5 - 3x)$ км он прошёл за $\frac{87,5 - 3x}{x + 2}$ часа. Так как 87,5 км катер должен был проплыть за

$$\frac{87,5}{x} \text{ часа, то получаем уравнение: } 3 + \frac{1}{3} + \frac{87,5 - 3x}{x + 2} = \frac{87,5}{x}; x > 0;$$

$$\frac{87,5 - 3x}{x + 2} = \frac{87,5 \cdot 3 - 10x}{3x}; (87,5 - 3x) \cdot 3x = (87,5 \cdot 3 - 10x)(x + 2);$$

$$87,5 \cdot 3x - 9x^2 = 87,5 \cdot 3x - 10x^2 + 2 \cdot 87,5 \cdot 3 - 20x; x^2 + 20x - 525 = 0; \\ x_1 = 15; x_2 = -35.$$

Так как $x > 0$, то первоначальная скорость катера 15 км/ч.

Ответ: 15 км/ч.

448. Пусть t минут — время до встречи пешеходов; v_A, v_B — скорости пешеходов, вышедших из пунктов A и B соответственно (см. рис. 194), тогда

$$\begin{cases} v_A \cdot t = 12v_B, \\ v_B \cdot t = 27v_A; \end{cases} \Leftrightarrow \begin{cases} \frac{v_A}{v_B} = \frac{12}{t}, \\ \frac{v_A}{v_B} = \frac{t}{27}; \end{cases}$$

$$t^2 = 27 \cdot 12; t > 0; t = \sqrt{27 \cdot 12} = \sqrt{3^4 \cdot 4} = 2 \cdot 9 = 18.$$

Через 18 минут после выхода пешеходы встретились.

1) $18 + 12 = 30$ (мин) — время пешехода, который вышел из пункта B .

2) $18 + 27 = 45$ (мин) — время пешехода, который вышел из пункта A .

Ответ: 30 мин, 45 мин.

449. Пусть x г меди и y г цинка находятся в первоначальном куске сплава, тогда $(x + y)$ г — масса сплава. После увеличения количества меди на 40% масса меди в новом сплаве составила $1,4x$ г, а после уменьшения количе-

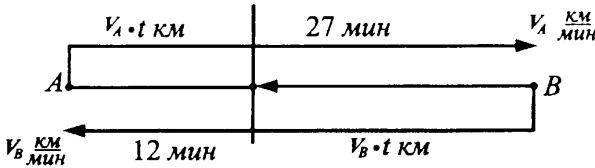


Рис. 194

ства цинка в новом сплаве масса цинка составила $0,6y$ г; $(1,4x + 0,6y)$ г — масса нового сплава.

По условию масса куска сплава увеличилась на 20%, значит, составила $1,2(x + y)$ г. Получаем уравнение:

$$1,2(x + y) = 1,4x + 0,6y; 1,2y - 0,6y = 1,4x - 1,2x; 0,6y = 0,2x; 3y = x.$$

Отсюда следует, что $\frac{x}{y} = 3 : 1$, значит, меди было 75%, а цинка — 25% в первоначальном куске сплава.

Ответ: медь — 75%, цинк — 25%.

450. Пусть в прошлом сезоне продали n абонементов, выручка составила $8000n$ рублей. В настоящем сезоне продали $0,75n$ абонементов, стоимость одного абонемента увеличили на x рублей, значит, $(8000 + x) \cdot 0,75n$ рублей — выручка в настоящем сезоне. По условию выручка уменьшилась на 2,5% по сравнению с прошлым сезоном, значит, она составила $8000n \cdot 0,975$ рублей. Составим и решим уравнение:

$$(8000 + x) \cdot 0,75n = 8000n \cdot 0,975, 0,75x = 8000 \cdot 0,225, x = 2400.$$

На 2400 рублей увеличили стоимость абонемента.

Ответ: 2400.

451. Обозначим через $S_{\text{неч.}}$ сумму членов, стоящих на нечётных местах среди первых 12 членов арифметической прогрессии, а через $S_{\text{чёт.}}$ сумму членов, стоящих на чётных местах среди первых 12 членов арифметической прогрессии. Тогда условие задачи можно записать в виде системы

$$\begin{cases} S_{\text{неч.}} + S_{\text{чёт.}} = 354, \\ \frac{S_{\text{чёт.}}}{S_{\text{неч.}}} = \frac{32}{27}, \end{cases} \Leftrightarrow \begin{cases} S_{\text{чёт.}} = \frac{32}{27} S_{\text{неч.}}, \\ S_{\text{неч.}} + \frac{32}{27} S_{\text{неч.}} = 354 \end{cases} \Rightarrow$$

$$\frac{59}{27} S_{\text{неч.}} = 354 \Rightarrow S_{\text{неч.}} = \frac{354 \cdot 27}{59} = 162. \text{ Тогда } S_{\text{чёт.}} = 354 - S_{\text{неч.}} = 354 - 162 = 192.$$

Если a_k — k -й член арифметической прогрессии, а d — её разность, то $S_{\text{неч.}} = \frac{a_1 + a_1 + 2d \cdot 5}{2} \cdot 6 = 6a_1 + 30d$, так как числа, стоящие на нечётных

местах арифметической прогрессии $\{a_k\}$, также составляют арифметическую прогрессию, но с разностью $2d$. Аналогично получим, что

$$S_{\text{чёт.}} = \frac{a_2 + a_2 + 2d \cdot 5}{2} \cdot 6 = 6a_2 + 30d.$$

Поэтому $S_{\text{чёт.}} - S_{\text{неч.}} = (6a_2 + 30d) - (6a_1 + 30d) = 6(a_2 - a_1) = 6d$. Так как $S_{\text{чёт.}} - S_{\text{неч.}} = 30$, то $6d = 30 \Rightarrow d = 5$.

Ответ: 5.

452. Пусть v_A км/ч ($v_A > 0$) и v_B км/ч ($v_B > 0$) — скорости поездов, которые одновременно отправились навстречу друг другу из пунктов A и B соответственно (см. рис. 195).

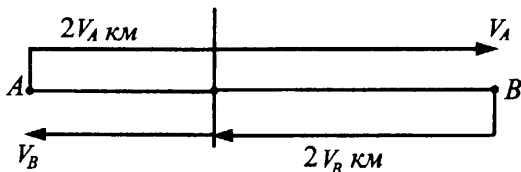


Рис. 195

1) $(v_A + v_B)$ км/ч — скорость сближения, $2(v_A + v_B)$ км — расстояние между пунктами. По условию расстояние составляет 180 км.

$$2(v_A + v_B) = 180.$$

2) $\frac{2v_A}{v_B}$ ч — время движения после встречи поезда, который вышел из пункта B .

$\frac{2v_B}{v_A}$ ч — время движения после встречи поезда, который вышел из пункта A .

По условию второй поезд прибыл в пункт A на 54 мин раньше, чем первый в пункт B .

$$\frac{2v_B}{v_A} - \frac{2v_A}{v_B} = \frac{54}{60}.$$

Составим и решим систему уравнений

$$\begin{cases} v_A + v_B = 90, \\ \frac{2v_B}{v_A} - \frac{2v_A}{v_B} = \frac{9}{10}. \end{cases}$$

Из второго уравнения системы найдём отношение $\frac{v_B}{v_A}$.

Обозначим $\frac{v_B}{v_A} = t, t > 0$.

$$2t - \frac{2}{t} = \frac{9}{10}; 2t^2 - \frac{9}{10}t - 2 = 0; 20t^2 - 9t - 20 = 0; t_1 = \frac{5}{4}; t_2 = -\frac{4}{5} \text{ — не}$$

удовлетворяет условию $t > 0$, значит, $\frac{v_B}{v_A} = \frac{5}{4}$.

Вернёмся к исходной системе:

$$\begin{cases} v_A + v_B = 90, \\ \frac{v_B}{v_A} = \frac{5}{4}; \end{cases} \quad \begin{cases} v_A + v_B = 90, \\ v_A = 0,8v_B; \end{cases} \quad \begin{cases} 0,8v_B + v_B = 90, \\ v_A = 0,8v_B, \end{cases}$$

$v_B = 50, v_A = 40$. 40 км/ч — скорость поезда, который вышел из пункта А, 50 км/ч — скорость поезда, который вышел из пункта В.

Ответ: 40 км/ч; 50 км/ч.

453. v_A км/ч — скорость пешехода, который вышел из пункта А (первый); v_B км/ч — скорость пешехода, который вышел из пункта В (второй).

3 часа 45 минут = $3\frac{45}{60}$ часа = $3\frac{3}{4}$ часа = 3,75 часа — время до встречи пешеходов. Пусть t часов ($t > 0$) — время в пути второго пешехода; $(t + 4)$ — время в пути первого пешехода (см. рис. 196), тогда

$$\begin{cases} 3,75v_A = v_B(t - 3,75), \\ 3,75v_B = v_A(t + 4 - 3,75); \end{cases} \Leftrightarrow \begin{cases} \frac{v_A}{v_B} = \frac{t - 3,75}{3,75}, \\ \frac{v_A}{v_B} = \frac{3,75}{t + 0,25}; \end{cases}$$

$$\frac{t - 3,75}{3,75} = \frac{3,75}{t + 0,25}, t > 0. t^2 + 0,25t - 3,75t - 0,9375 = 14,0625;$$

$t^2 - 3,5t - 15 = 0; 2t^2 - 7t - 30 = 0; t_1 = 6, t_2 = -\frac{5}{2}$ — не удовлетворяет условию $t > 0$.

6 часов был в пути второй пешеход, 10 часов был в пути первый пешеход.

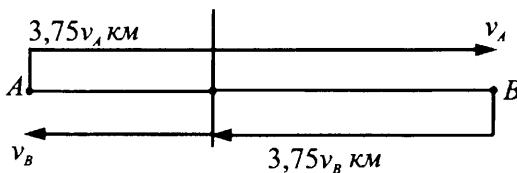


Рис. 196

Ответ: 10 ч; 6 ч.

454. Пусть x км/ч ($x > 0$) — скорость поезда после остановки, тогда $(x - 10)$ км/ч — скорость поезда до остановки. Так как 420 км составляют 60% всего пути, то весь путь AB равен $\frac{420}{0,6} = 700$ км. После остановки поезду осталось проехать $700 - 420 = 280$ км. Следовательно, остаток пути поезд должен был проехать за $\frac{280}{x - 10}$ ч, но, потеряв 0,5 ч, он проехал его за $\frac{280}{x}$ ч. Таким образом, получаем уравнение $\frac{280}{x - 10} - \frac{280}{x} = 0,5$; $x_1 = -70$ и $x_2 = 80$. Первый корень не удовлетворяет условию $x > 0$.

Ответ: 80 км/ч.

455. Пусть первая швея может выполнить всю работу за x дней ($x > 0$), а вторая — за y дней ($y > 0$). Тогда их производительность — $\frac{1}{x}$ и $\frac{1}{y}$ всей работы в день. Можно составить следующие уравнения, приняв всю работу за 1:

$$\begin{cases} \frac{6}{x} + \frac{10}{y} = \frac{1}{2}, \\ \frac{6}{x} + \frac{6}{y} + \frac{1}{10} = \frac{1}{2}. \end{cases}$$

Вычтем из первого уравнения системы второе, получим:

$$\frac{4}{y} - \frac{1}{10} = 0; \frac{4}{y} = \frac{1}{10}; y = 40.$$

Подставим это значение в первое уравнение системы:

$$\frac{6}{x} + \frac{1}{4} = \frac{1}{2}; \frac{6}{x} = \frac{1}{4}; x = 24.$$

Итак, первая швея может сделать всю работу за 24 дня, а вторая — за 40 дней.

Ответ: 24, 40.

456. Примем объём работы за 1.

Пусть первая машинистка сможет перепечатать рукопись за x дней ($x > 0$), вторая машинистка — за y дней ($y > 0$), $\frac{1}{x}$ — производительность первой машинистки, а $\frac{1}{y}$ — производительность второй. По условию задачи, работая вместе, они могут перепечатать рукопись за 6 часов;

$$6\left(\frac{1}{x} + \frac{1}{y}\right) = 1.$$

Если машинистки будут работать вместе 5 часов, то они напечатают $5\left(\frac{1}{x} + \frac{1}{y}\right)$ часть работы, а если вторая машинистка будет работать 3 часа, она напечатает $\frac{3}{y}$ часть работы. По условию задачи работа при этом будет завершена.

$$5\left(\frac{1}{x} + \frac{1}{y}\right) + \frac{3}{y} = 1.$$

Учитывая, что $x > 0$, $y > 0$, составим и решим систему уравнений:

$$\begin{cases} 6\left(\frac{1}{x} + \frac{1}{y}\right) = 1, \\ 5\left(\frac{1}{x} + \frac{1}{y}\right) + \frac{3}{y} = 1; \end{cases} \Leftrightarrow \begin{cases} \frac{1}{x} + \frac{1}{y} = \frac{1}{6}, \\ \frac{5}{6} + \frac{3}{y} = 1; \end{cases} \Leftrightarrow \begin{cases} \frac{1}{x} = \frac{1}{6} - \frac{1}{y}, \\ \frac{3}{y} = \frac{1}{6}; \end{cases} \Leftrightarrow \begin{cases} \frac{1}{x} = \frac{1}{6} - \frac{1}{18}, \\ y = 18; \end{cases} \Leftrightarrow \begin{cases} x = 9, \\ y = 18. \end{cases}$$

За 9 часов первая машинистка может перепечатать рукопись, за 18 часов перепечатает рукопись вторая машинистка.

Ответ: 9 ч; 18 ч.

457. Пусть v км/ч и t ч — скорость и время поездки первого мотоциклиста.

Второй мотоциклист был в пути на 6 минут меньше, поэтому $\left(t - \frac{1}{10}\right)$ часов — время поездки второго мотоциклиста. Скорость второго мотоциклиста — $1,25v$ км/ч. Учитывая, что $t > 0$, решим систему уравнений:

$$\begin{cases} vt = 30, \\ 1,25v\left(t - \frac{1}{10}\right) = 30; \end{cases} \Leftrightarrow \begin{cases} v = \frac{30}{t}, \\ 1,25 \cdot \frac{30}{t} \cdot \left(t - \frac{1}{10}\right) = 30. \end{cases}$$

Из второго уравнения последней системы имеем:

$$1,25 - \frac{0,125}{t} = 1; \frac{0,125}{t} = 0,25; t = \frac{0,125}{0,25} = \frac{1}{2} \Rightarrow v = 60 \text{ км/ч.}$$

Таким образом, 60 км/ч — скорость первого мотоциклиста, а скорость второго равна $v \cdot 1,25 = 75$ км/ч.

Ответ: 60 км/ч; 75 км/ч.

458. Пусть v км/мин — скорость первого пешехода, а t мин — потраченное им на дорогу время. Тогда для второго пешехода время, потраченное

им на дорогу, составляет $(t - 20)$ мин, а его скорость — $\frac{6}{5}v$ км/мин. Учтывая, что $t > 0$, решим систему уравнений:

$$\begin{cases} vt = 40, \\ \frac{6}{5}v(t - 20) = 40; \end{cases} \Leftrightarrow \begin{cases} v = \frac{40}{t}, \\ \frac{6}{5} \cdot \frac{1}{t} \cdot (t - 20) = 1; \end{cases} \Rightarrow \left(\frac{6}{5} - 1\right)t = 24 \Rightarrow$$

$$t = 120.$$

Ответ: 120.

459. Пусть v км/ч и t ч — скорость и время поездки первого грузовика соответственно. Тогда время поездки второго грузовика $\left(t - \frac{1}{2}\right)$ ч, а его

скорость — $\frac{6}{5}v$ км/ч. Составим и решим систему:

$$\begin{cases} vt = 150, \\ \frac{6}{5}v(t - 0,5) = 150; \end{cases} \Leftrightarrow \begin{cases} v = \frac{150}{t}, \\ \frac{6}{5} \cdot \frac{1}{t} \cdot (t - 0,5) = 1; \end{cases} \Rightarrow \left(\frac{6}{5} - 1\right)t = \frac{3}{5} \Rightarrow$$

$$t = 3.$$

Ответ: 3.

460. Пусть v км/ч и t ч — скорость и время поездки второго автомобиля соответственно. Тогда время поездки первого автомобиля $\left(t - \frac{5}{6}\right)$ ч, а его

скорость — $1,5v$ км/ч. Составим и решим систему:

$$\begin{cases} vt = 250, \\ 1,5v\left(t - \frac{5}{6}\right) = 250; \end{cases} \Leftrightarrow \begin{cases} v = \frac{250}{t}, \\ 1,5 \cdot \frac{1}{t} \cdot \left(t - \frac{5}{6}\right) = 1; \end{cases} \Rightarrow$$

$$\Rightarrow (1,5 - 1)t = \frac{5}{6} \cdot 1,5 \Rightarrow t = \frac{5}{2}.$$

Ответ: 2,5.

461. Пусть x км/ч ($x > 12$) — скорость мотоциклиста после остановки, тогда $(x - 12)$ км/ч — скорость мотоциклиста до остановки. После остановки мотоциклисту осталось проехать 36% пути, то есть $0,36 \cdot 300 = 108$ км. Следовательно, остаток пути мотоциклист должен был проехать за $\frac{108}{x - 12}$ ч, но, потеряв 18 мин (= 0,3 ч), он проехал его за $\frac{108}{x}$ ч. Таким образом, получаем уравнение

$$\frac{108}{x-12} - \frac{108}{x} = 0,3; \frac{36}{x-12} - \frac{36}{x} = 0,1; \frac{432}{x^2-12x} = 0,1;$$

$x^2 - 12x - 4320 = 0$; $x_1 = -60$ и $x_2 = 72$. Первый корень не удовлетворяет условию $x > 12$.

Ответ: 72 км/ч.

462. Пусть x км/ч ($x > 0$) — скорость поезда до остановки, тогда $(x + 10)$ км/ч — скорость поезда после остановки. Так как 420 км составляет 60% всего пути, то весь путь AB равен $\frac{420}{0,6} = 700$ км. После остановки поезду осталось проехать $700 - 420 = 280$ км. Следовательно, остаток пути поезд должен был проехать за $\frac{280}{x}$ ч, но, потеряв 0,5 ч, он проехал

его за $\frac{280}{x+10}$ ч. Таким образом, получаем уравнение $\frac{280}{x} - \frac{280}{x+10} = 0,5$;

$\frac{560}{x} - \frac{560}{x+10} = 1$; $\frac{5600}{x^2+10x} = 1$; $x_1 = -80$ и $x_2 = 70$. Первый корень не удовлетворяет условию $x > 0$.

Ответ: 70 км/ч.

463. 1) Автомобиль двигался на $30 + 25 + 25 = 80$ (мин) = $1\frac{1}{3}$ часа меньше, чем автобус. Пусть t — время движения автомобиля, тогда автобус двигался $t + 1\frac{1}{3}$ часов.

2) Если скорость автомобиля v км/ч, то скорость автобуса $0,6v$ км/ч. Так как автомобиль и автобус проехали одно и то же расстояние, то получаем уравнение $\left(t + \frac{4}{3}\right) \cdot 0,6v = vt$.

Сокращая на v ($v \neq 0$), получаем $(3t + 4) \cdot 0,2 = t$; $3t + 4 = 5t$; $t = 2$.

3) Теперь найдём скорость автомобиля и автобуса:

$$v_{\text{автом.}} = \frac{200}{2} = 100 \text{ км/ч}, v_{\text{автоб.}} = \frac{200}{2 + \frac{4}{3}} = 60 \text{ км/ч.}$$

Ответ: 100; 60.

464. 1) Автомобиль двигался на $25 + 26 - 3 = 48$ (мин) = $\frac{4}{5}$ часа меньше, чем велосипедист. Пусть t — время движения автомобиля, тогда велосипедист двигался $t + \frac{4}{5}$ часов.

2) Если скорость велосипедиста v км/ч, то скорость автомобиля $2,5v$ км/ч. Так как автомобиль и велосипедист проехали одно и то же расстояние, то получаем уравнение $(t + \frac{4}{5}) \cdot v = 2,5vt$. Сокращая на v ($v \neq 0$),

$$\text{получаем: } t + \frac{4}{5} = 2,5t; t = \frac{8}{15}.$$

3) Теперь найдём скорость автомобиля и велосипедиста:

$$v_{\text{автом.}} = \frac{64}{\frac{8}{15}} = 120 \text{ (км/ч)}, v_{\text{вел.}} = \frac{64}{\frac{8}{15} + \frac{4}{5}} = 48 \text{ (км/ч)}.$$

Ответ: 120; 48.

465. Пусть x — расстояние между городами A и B , а v ($v > 0$) — скорость велосипедиста. Тогда скорость мотоциклиста — $3v$. Время, которое затратит велосипедист на преодоление половины пути, будет равно $\frac{x}{2v}$, а время, которое затратит мотоциклист на преодоление того же рас-

стояния, соответственно равно $\frac{x}{2 \cdot 3v}$. Имеем первое уравнение системы:

$$\frac{x}{2v} = \frac{x}{6v} + 3. \text{ Во втором случае время велосипедиста, затраченное на пре-}$$

одоление расстояния $(\frac{x}{2} - 15)$, равно $\frac{x}{2v} - \frac{15}{v}$, а время мотоциклиста,

затраченное на преодоление расстояния $\frac{x}{2} + 15$ км, равно $\frac{x}{2 \cdot 3v} + \frac{15}{3v}$. Со-

ставляем второе уравнение системы: $\frac{x}{2v} - \frac{15}{v} = \frac{x}{6v} + \frac{15}{3v} + 2$.

Учитывая, что $v > 0$, решим систему уравнений:

$$\begin{aligned} & \begin{cases} \frac{x}{2v} = \frac{x}{6v} + 3, \\ \frac{x}{2v} - \frac{15}{v} = \frac{x}{6v} + \frac{15}{3v} + 2; \end{cases} \Leftrightarrow \begin{cases} \frac{x}{2v} = \frac{x}{6v} + 3, \\ \frac{x}{2v} - \frac{15}{v} = \frac{x}{6v} + \frac{15}{3v} + 2; \end{cases} \Leftrightarrow \\ & \Leftrightarrow \begin{cases} 3x = x + 18v, \\ 3x - 90 = x + 30 + 12v; \end{cases} \Leftrightarrow \begin{cases} 2x = 18v, \\ 2x = 12v + 120; \end{cases} \Leftrightarrow \\ & \Leftrightarrow \begin{cases} x = 9v, \\ x = 6v + 60; \end{cases} \Leftrightarrow \begin{cases} x = 9v, \\ 9v = 6v + 60; \end{cases} \Leftrightarrow \begin{cases} x = 9v, \\ 3v = 60; \end{cases} \Leftrightarrow \begin{cases} x = 180, \\ v = 20. \end{cases} \end{aligned}$$

Ответ: 180 км.

466. Обозначим скорость первого поезда через v_1 км/ч, скорость второго — через v_2 км/ч. Первый поезд проходит расстояние между станциями за $\frac{96}{v_1}$ часов, второй — за $\frac{96}{v_2}$ часов. Учитывая, что $v_1 > 0$, $v_2 > 0$, решим следующую систему уравнений:

$$\begin{cases} \frac{96}{v_1} + \frac{2}{3} = \frac{96}{v_2}, \\ v_1 = v_2 + 12; \end{cases} \Leftrightarrow \begin{cases} (96 + \frac{2v_1}{3}) \cdot v_2 = 96v_1, \\ v_1 = v_2 + 12; \end{cases} \Leftrightarrow \\ \Leftrightarrow \begin{cases} 48v_2 + \frac{1}{3}(v_2 + 12)v_2 = 48(v_2 + 12), \\ v_1 = v_2 + 12; \end{cases} \Leftrightarrow \begin{cases} \frac{1}{3}v_2^2 + 4v_2 - 576 = 0, \\ v_1 = v_2 + 12. \end{cases}$$

Корнями уравнения $v_2^2 + 12v_2 - 1728 = 0$ являются числа 36 и -48 . Второе из них не подходит по смыслу задачи. Итак, $v_2 = 36$ км/ч, $v_1 = 48$ км/ч.

Ответ: 36 км/ч; 48 км/ч.

467. Пусть скорость первого поезда равна v_1 км/ч ($v_1 > 0$), а скорость второго равна v_2 км/ч ($v_2 > 0$). Тогда время, затрачиваемое первым поездом на преодоление 720 км, составляет $\frac{720}{v_1}$ ч, а время, затрачиваемое

вторым поездом на преодоление того же расстояния, равно $\frac{720}{v_2}$ ч. Учитывая, что $v_1 > 0$, $v_2 > 0$, решим систему уравнений:

$$\begin{cases} \frac{720}{v_1} = \frac{720}{v_2} - 2, \\ \frac{60}{v_1} = \frac{50}{v_2}; \end{cases} \Leftrightarrow \begin{cases} \frac{720}{v_1} = \frac{720}{v_2} - 2, \\ v_2 = \frac{5}{6}v_1; \end{cases} \Leftrightarrow \begin{cases} \frac{720}{v_1} = \frac{864}{v_1} - 2, \\ v_2 = \frac{5}{6}v_1; \end{cases} \Leftrightarrow \\ \Leftrightarrow \begin{cases} \frac{144}{v_1} = 2, \\ v_2 = \frac{5}{6}v_1; \end{cases} \Leftrightarrow \begin{cases} v_1 = 72, \\ v_2 = 60. \end{cases}$$

Ответ: 72 км/ч; 60 км/ч.

468. Пусть скорость первого поезда равна v_1 км/ч ($v_1 > 0$), а скорость второго — v_2 км/ч ($v_2 > 0$). Тогда время, затрачиваемое первым поездом на преодоление 450 км, составляет $\frac{450}{v_1}$ ч, а время, затрачиваемое вторым

поездом на преодоление того же расстояния, равно $\frac{450}{v_2}$ ч.

Учитывая, что $v_1 > 0$, $v_2 > 0$, решим систему уравнений:

$$\begin{cases} \frac{450}{v_1} = \frac{450}{v_2} - 1,5, \\ \frac{250}{v_1} = \frac{200}{v_2}; \end{cases} \Leftrightarrow \begin{cases} \frac{450}{v_1} = \frac{450}{v_2} - 1,5, \\ v_2 = \frac{4}{5}v_1; \end{cases} \Leftrightarrow \begin{cases} \frac{450}{v_1} = \frac{562,5}{v_1} - 1,5, \\ v_2 = \frac{4}{5}v_1; \end{cases} \Leftrightarrow \begin{cases} \frac{112,5}{v_1} = 1,5, \\ v_2 = \frac{4}{5}v_1; \end{cases} \Leftrightarrow \begin{cases} v_1 = 75, \\ v_2 = 60. \end{cases}$$

Ответ: 75 км/ч; 60 км/ч.

469. Пусть x кг — количество варенья, которое было у Малыша первоначально, а y кг — количество варенья, которое Малыш с Карлсоном взяли с собой на крышу. Тогда в доме Малыша Карлсон съел $0,3x$ кг варенья, и из условия задачи имеем уравнение $0,3x + 0,2 + y + 1,7 = x$, (1). Поскольку из взятого на крышу варенья Малыш съел $0,3$ кг, то Карлсон съел $(y - 0,3)$ кг варенья. Тогда $0,3x + y - 0,3$ (кг) — общее количество съеденного Карлсоном варенья, и по условию $y - 0,3 = \frac{1}{3} \cdot (0,3x + y - 0,3)$ (2). Из

уравнения (2) выразим y через x : $y - 0,3 = 0,1x + \frac{1}{3}y - 0,1$; $\frac{2}{3}y = 0,1x + 0,2$;

$y = \frac{3}{2} \cdot (0,1x + 0,2) = 0,15x + 0,3$. Подставим найденное для y выражение в уравнение (1) и решим полученное уравнение: $0,3x + 0,2 + 0,15x + 0,3 + 1,7 = x$; $0,45x + 2,2 = x$; $0,55x = 2,2$; $x = 4$. Таким образом, у Малыша первоначально было 4 кг варенья.

Ответ: 4 кг.

470. Пусть x км — протяжённость всего выбранного туристами маршрута, а y км — протяжённость части маршрута, оставшейся после четырёх дней похода. Тогда из условия задачи имеем систему уравнений

$$\begin{cases} 20 + 0,3(x - 20) + \frac{1}{4}x + \frac{1}{5}x + y = x, \\ y = 0,8y + 2. \end{cases}$$

Из второго уравнения системы находим $0,2y = 2$, $y = 10$. Подставив найденное значение y в первое уравнение, получаем

$$20 + \frac{3x}{10} - 6 + \frac{x}{4} + \frac{x}{5} + 10 = x; \frac{12x + 10x + 8x}{40} + 24 = x; x - \frac{3}{4}x = 24; x = 96.$$

Итак, протяжённость всего выбранного туристами маршрута составляет 96 км.

Ответ: 96 км.

471. Пусть x литров — объём первого ведра, а y литров — объём второго. Время, необходимое для того, чтобы набрать оба ведра из первого крана, равно $\frac{x+y}{5}$ минут. А время, необходимое для того, чтобы набрать первое

ведро из второго крана, равно $\frac{x}{7}$ минут. Отсюда получаем $\frac{x+y}{5} = 2 \cdot \frac{x}{7}$;

$$7(x+y) = 10x; 7y = 3x.$$

Таким образом, $\frac{x}{y} = \frac{7}{3}$.

Ответ: $\frac{7}{3}$.

472. Пусть скорость лодки x км/ч ($x > 0$), тогда скорость катера $4x$ км/ч. Тогда время, затрачиваемое катером на прохождение 16 километров, равно $\frac{16}{4x}$ часов, а время, затрачиваемое лодкой, — $\frac{16}{x}$ часов. Отсюда полу-

чаем $\frac{16}{4x} + 3 = \frac{16}{x}$; $\frac{12}{x} = 3$; $x = 4$.

Ответ: 4 км/ч.

473. Пусть первый рабочий может наклеить обои в комнате за x часов ($x > 0$), тогда второй рабочий наклеит обои за $x+5$ часов. Вся работу примем за 1, тогда $\frac{1}{x}$ — производительность первого рабочего, $\frac{1}{x+5}$ — производительность второго. Так как, работая вместе, они наклеят обои за 6 ч, то их совместная производительность равна $\frac{1}{6}$. Таким образом, имеем

$\frac{1}{x} + \frac{1}{x+5} = \frac{1}{6}$; $\frac{2x+5}{x(x+5)} = \frac{1}{6}$; $x(x+5) = 6(2x+5)$; $x^2 - 7x - 30 = 0$;
 $x_1 = -3$, $x_2 = 10$. $x_1 = -3$ не удовлетворяет условию $x > 0$, то есть $x = 10$. Таким образом, первый рабочий может выполнить работу за 10 ч, второй — за 15 ч.

Ответ: 10 ч, 15 ч.

474. Пусть первая бригада может вспахать поле за x часов ($x > 0$), тогда вторая бригада может вспахать поле за $x+12$ часов. Примем всю

работу за 1, тогда $\frac{1}{x}$ — производительность первой бригады, а $\frac{1}{x+12}$ — производительность второй. Так как, работая вместе, они вспахали поле за 8 ч, то их совместная производительность равна $\frac{1}{8}$. Таким образом,

имеем $\frac{1}{x} + \frac{1}{x+12} = \frac{1}{8}$; $\frac{2x+12}{x(x+12)} = \frac{1}{8}$; $x(x+12) = 8(2x+12)$; $x^2 - 4x - 96 = 0$; $x_1 = -8$, $x_2 = 12$. $x_1 = -8$ не удовлетворяет условию $x > 0$, то есть $x = 12$; первая бригада может вспахать поле за 12 ч, вторая — за 24 ч.

Ответ: 12 ч; 24 ч.

475. Пусть первый токарь может выполнить задание за x часов ($x > 0$), тогда второй токарь может выполнить задание за $x+7$ часов. Всю работу примем за 1, тогда $\frac{1}{x}$ — производительность первого токаря, $\frac{1}{x+7}$ — производительность второго. Так как, работая вместе, они выполнили задание за 12 ч, то их совместная производительность равна $\frac{1}{12}$. Таким образом, имеем

$\frac{1}{x} + \frac{1}{x+7} = \frac{1}{12}$; $\frac{2x+7}{x(x+7)} = \frac{1}{12}$; $x(x+7) = 12(2x+7)$; $x^2 - 17x - 84 = 0$; $x_1 = -4$, $x_2 = 21$. $x_1 = -4$ не удовлетворяет условию $x > 0$, то есть $x = 21$; первый токарь может выполнить задание за 21 ч, второй — за 28 ч.

Ответ: 21 ч; 28 ч.

476. Пусть x страниц в час печатала первая машинистка, тогда вторая в час печатала $(x-2)$ страницы. Так как вторая машинистка работала на 1 час дольше, то получаем уравнение $\frac{60}{x-2} - \frac{60}{x} = 1$, ($x > 2$). Отсюда

имеем $\frac{60x - 60(x-2)}{(x-2)x} = 1$; $120 = (x-2)x$; $x^2 - 2x - 120 = 0$; $x_1 = -10$, $x_2 = 12$. $x_1 = -10$ не удовлетворяет условию $x > 2$, значит, первая машинистка печатала $x = 12$ страниц в час.

Ответ: 12.

477. Пусть t часов — время, которое будет находиться в пути Петя до того момента, когда его догонит Вася. Тогда Вася, до того как догонит Петю,

будет находиться в пути $\left(t - \frac{1}{3}\right)$ часов. Всего Петя пройдёт 4,5t км, а Вася проедет $12\left(t - \frac{1}{3}\right)$ км. Решим уравнение:

$$4,5t = 12\left(t - \frac{1}{3}\right); 4,5t = 12t - 4; 7,5t = 4; t = \frac{8}{15}. \text{ Следовательно,}$$

Вася догонит Петю на расстоянии $\frac{4,5 \cdot 8}{15} = 0,3 \cdot 8 = 2,4$ км от школы.

Ответ: 2,4 км.

478. Пусть t часов — время, которое будет находиться в пути Нина до того момента, когда её догонит брат. Тогда брат, до того как догонит Нину, будет находиться в пути $(t - 0,1)$ часов. Следовательно, Нина проедет 15t км, а брат проедет $40(t - 0,1)$ км. Решим уравнение: $15t = 40(t - 0,1)$;

$$15t = 40t - 4; 25t = 4; t = \frac{4}{25}. \text{ Итак, брат догонит Нину на расстоянии}$$

$$15t = 15 \cdot \frac{4}{25} = 2,4 \text{ км от дома.}$$

Ответ: 2,4.

479. Пусть x км/ч — первоначальная скорость автобуса, а S км — расстояние между городами, тогда $S = 8x$. Из условия следует, что после снижения скорости до $(x - 10)$ км/ч (через 5 ч после начала движения) автобус проехал оставшуюся часть пути за $\left(3 + \frac{1}{3}\right)$ часа. Таким образом, имеем

$$S = 5x + \frac{10}{3}(x - 10); 5x + \frac{10}{3}x - \frac{100}{3} = 8x; \frac{x}{3} = \frac{100}{3}; x = 100; \text{ то есть}$$

первоначальная скорость автобуса равна 100 км/ч.

Ответ: 100.

480. Пусть x км/ч — первоначальная скорость велосипедиста, а S км — расстояние, проезжаемое велосипедистом, тогда $S = 2x$. Из условия следует, что после снижения скорости до $(x - 3)$ км/ч (через 1,5 ч после начала движения) велосипедист проехал оставшуюся часть пути за 40 мин = $\frac{2}{3}$ часа. Таким образом, имеем

$$S = 1,5x + \frac{2}{3}(x - 3); 1,5x + \frac{2}{3}x - 2 = 2x; \frac{x}{6} = 2; x = 12, \text{ то есть}$$

первоначальная скорость велосипедиста равна 12 км/ч.

Ответ: 12.

481. Пусть x км/ч ($x > 0$) — первоначальная скорость поезда, тогда $x + 6$ км/ч — скорость поезда после задержки. Так как весь путь AB равен 78 км, а до задержки поезд проехал на 12 км больше, чем после задержки, то длина пути, пройденного до задержки, равна $\frac{78 + 12}{2} = 45$ км. Тогда после задержки поезду осталось проехать $78 - 45 = 33$ км. Следовательно, первую часть пути поезд проехал за $\frac{45}{x}$ ч, а вторую часть — за $\frac{33}{x + 6}$ ч. По условию первый отрезок времени больше второго на 15 мин ($= 0,25$ ч). Таким образом, получаем уравнение

$$\frac{45}{x} - \frac{33}{x + 6} = 0,25; \quad \frac{180}{x} - \frac{132}{x + 6} = 1; \quad \frac{48x + 1080}{x^2 + 6x} = 1; \quad x^2 - 42x - 1080 = 0.$$

Решаем квадратное уравнение, применяя формулу с чётным коэффициентом при x , и получаем корни $x_1 = -18$ и $x_2 = 60$. Первый корень не удовлетворяет условию $x > 0$.

Ответ: 60 км/ч.

482. Пусть x км/ч ($x > 75$) — скорость третьего мотоциклиста, тогда его скорость сближения с первым мотоциклистом равна $(x - 75)$ км/ч, а со вторым — $(x - 60)$ км/ч. За 20 мин ($= \frac{1}{3}$ ч), к моменту, когда третий мото-

циклист выехал из пункта A , первый мотоциклист проехал $\frac{1}{3} \cdot 75 = 25$ (км),

а второй — $\frac{1}{3} \cdot 60 = 20$ (км). Следовательно, третий мотоциклист догонит

первого за $\frac{25}{x - 75}$ ч, а второго за $\frac{20}{x - 60}$ ч. По условию первый отрезок времени больше второго на 1 ч. Таким образом, получаем уравнение

$$\frac{25}{x - 75} - \frac{20}{x - 60} = 1; \quad \frac{5x}{(x - 75)(x - 60)} = 1; \quad x^2 - 140x + 4500 = 0.$$

Решаем квадратное уравнение, применяя формулу с чётным коэффициентом при x , и получаем корни $x_1 = 50$ и $x_2 = 90$. Первый корень не удовлетворяет условию $x > 75$.

Ответ: 90 км/ч.

483. Пусть s — расстояние между A и B . Тогда $\frac{s}{5}$ — скорость движения парохода по течению (собственная скорость парохода плюс скорость течения реки), а $\frac{s}{7}$ — скорость движения парохода против течения (соб-

ственная скорость парохода минус скорость течения реки). Определим скорость течения реки: $\left(\frac{s}{5} - \frac{s}{7}\right) : 2 = \frac{s}{35}$. Следовательно, плоты от

A до B плывут $s : \frac{s}{35} = 35$ суток.

Ответ: 35.

484. Пусть s — расстояние между A и B . Тогда $\frac{s}{4}$ — скорость движения моторной лодки по течению (собственная скорость моторной лодки плюс скорость течения реки), а $\frac{s}{5}$ — скорость движения моторной лодки против течения (собственная скорость моторной лодки минус скорость течения реки). Определим скорость течения реки: $\left(\frac{s}{4} - \frac{s}{5}\right) : 2 = \frac{s}{40}$. Следовательно, скорость движения моторной лодки по течению больше скорости течения в $\frac{s}{4} : \frac{s}{40} = 10$ раз.

Ответ: 10.

485. Пусть второй насос перекачивает ежедневно x м³ ($x > 10$), тогда он работал $\frac{480}{x}$ часов. Тогда первый насос перекачивает $(x - 10)$ м³ в час,

и, значит, он работал $\frac{360}{x - 10}$ часов. По условию задачи известно, что первый насос работал дольше, чем второй, на 2 часа, то есть имеем уравнение $\frac{360}{x - 10} - \frac{480}{x} = 2$; $\frac{360x - 480(x - 10)}{(x - 10)x} = 2$; $2x^2 - 20x = 4800 - 120x$; $x^2 + 50x - 2400 = 0$; $x_1 = -80$, $x_2 = 30$. $x_1 = -80$ не удовлетворяет условию $x > 10$, то есть второй насос перекачивает за час $x = 30$ м³, при этом первый насос перекачивает 20 м³.

Ответ: 20 и 30.

486. Пусть второй насос перекачивает ежедневно x м³ ($x > 0$), тогда 100 м³ он перекачивает за $\frac{100}{x}$ часов. Тогда первый насос перекачивает

$(x + 5)$ м³/ч, значит, 90 м³ он перекачивает за $\frac{90}{x + 5}$ часов. По условию задачи известно, что первый насос перекачивает 90 м³ на 1 час быстрее, чем второй 100 м³, значит, имеем уравнение $\frac{90}{x + 5} + 1 = \frac{100}{x}$;

$$\frac{100(x+5) - 90x}{x(x+5)} = 1; x^2 + 5x = 10x + 500; x^2 - 5x - 500 = 0; x_1 = -20,$$

$x = 25$. $x_1 = -20$ не удовлетворяет условию $x > 0$, то есть второй насос перекачивает $x = 25$ м³/ч; при этом первый насос перекачивает 30 м³.

Ответ: 30 и 25.

487. Обозначим через x и y количество первого и второго растворов соответственно ($x > 0, y > 0$). Тогда из условия следует уравнение

$$\frac{0,4x + 0,7y}{x + y} = 0,6; \frac{x}{y} = \frac{1}{2}.$$

Ответ: 1 : 2.

488. Обозначим через x и y количество первого и второго сплавов соответственно ($x > 0, y > 0$). Тогда из условия следует уравнение

$$\frac{0,25x + 0,45y}{x + y} = 0,3; \frac{x}{y} = 3.$$

Ответ: 3 : 1.

489. Пусть x и y — количество первого и второго сплава соответственно ($x > 0, y > 0$). Тогда концентрация железа в новом сплаве составит

$$\frac{0,75x + 0,25y}{x + y} = 0,4 \Leftrightarrow 0,35x = 0,15y; \frac{x}{y} = \frac{3}{7}.$$

Ответ: 3 : 7.

490. Пусть x и y — количество первого и второго растворов соли соответственно ($x > 0, y > 0$). Тогда концентрация соли в новом растворе составит

$$\frac{0,64x + 0,36y}{x + y} = 0,48 \Leftrightarrow 0,16x = 0,12y; \frac{x}{y} = \frac{3}{4}.$$

Ответ: 3 : 4.

491. Пусть x — скорость парохода по течению, y — скорость против течения. В задаче требуется найти $k = \frac{x}{y}$, ($k > 1$) (см. рис. 197).

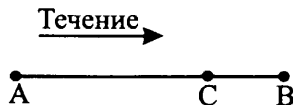


Рис. 197

По условию задачи имеем $\frac{AB}{x} = 2; \frac{BC}{y} = 2$. Кроме того,

$$\frac{BC}{x} + \frac{AB}{y} = 5. \text{ Отсюда } AB = 2x, BC = 2y, \frac{2y}{x} + \frac{2x}{y} = 5. \text{ Составим}$$

уравнение: $\frac{2}{k} + 2k = 5$; $2k^2 - 5k + 2 = 0$. Корни: $k_1 = 2$, $k_2 = \frac{1}{2}$. Так как $k > 1$, то $k = 2$. Значит, скорость парохода по течению в два раза больше скорости парохода против течения.

Ответ: 2.

492. Пусть x — скорость грузовика при движении с горы, y — скорость при движении в гору. В задаче требуется найти $k = \frac{x}{y}$ ($k > 1$). Обозначим, согласно условию задачи: A и B — конечные точки движения и C — нижняя точка (см. рис. 198).



Рис. 198

Тогда имеем $\frac{AC}{x} = 3$; $\frac{CB}{y} = 7$; $\frac{BC}{x} + \frac{CA}{y} = 22$. Откуда $\frac{7y}{x} + \frac{3x}{y} = 22$;

$\frac{7}{k} + 3k = 22$; $3k^2 - 22k + 7 = 0$. Корни: $k_1 = 7$, $k_2 = \frac{1}{3}$. Так как $k > 1$, то $k = 7$. Значит, скорость грузовика при движении с горы в семь раз больше скорости грузовика при движении в гору.

Ответ: 7.

493. Пусть x км/ч — скорость автомобиля, y км/ч — скорость автобуса; C — место их встречи. Тогда $\frac{AC}{x}$ (ч) и $\frac{CB}{y}$ (ч) — время, проведённое в пути до встречи автомобилем и автобусом соответственно; $\frac{AC}{y}$ (ч) и $\frac{CB}{x}$ (ч) — время, проведённое в пути после встречи автомобилем и автобусом соответственно. По условию $\frac{AC}{y} = 9$; $\frac{CB}{x} = 4$; $\frac{AC}{x} = \frac{CB}{y}$; $x > 0$;

$y > 0$. Отсюда $\frac{9y}{x} = \frac{4x}{y}$; $4x^2 = 9y^2$; $\left(\frac{x}{y}\right)^2 = \frac{9}{4}$. Так как $x > 0$; $y > 0$, то

$$\frac{x}{y} = \frac{3}{2} = 1,5.$$

Ответ: 1,5.

494. Пусть x км/ч — скорость автомобиля, y км/ч — скорость автобуса, C — место их встречи (см. рис. 199).




Рис. 199

Требуется найти $\frac{AB}{y}$ — время в пути автобуса. Так как они выехали из пунктов A и B одновременно, то до места встречи в пути они были одинаковое время: $\frac{AC}{x} = \frac{BC}{y}$. Из условия задачи следует, что $\frac{AC}{y} = 16$

и $\frac{BC}{x} = 4$, отсюда $AC = 16y$; $BC = 4x$. Следовательно, $\frac{16y}{x} = \frac{4x}{y}$;

$\left(\frac{x}{y}\right)^2 = 4$, ($x > 0$, $y > 0$); $\frac{x}{y} = 2$. Так как $AB = AC + BC$, то

$$\frac{AB}{y} = \frac{AC + BC}{y} = \frac{16y + 4x}{y} = 16 + 4 \cdot \frac{x}{y} = 16 + 4 \cdot 2 = 24 \text{ (часа)}.$$

Ответ: 24.

495. Пусть x , y , z — производительность первого, второго и третьего рабочих (объём работ/день) соответственно ($x > 0$, $y > 0$, $z > 0$). Весь объём работ примем за 1. Из условия задачи следует, что

$$\begin{cases} \frac{1}{x+y} = 3, \\ \frac{1}{x+z} = 3, \\ \frac{1}{y+z} = 6; \end{cases} \Leftrightarrow \begin{cases} x+y = \frac{1}{3}, \\ x+z = \frac{1}{3}, \\ y+z = \frac{1}{6}. \end{cases}$$

Сложим все три уравнения системы:

$$2(x + y + z) = \frac{2}{3} + \frac{1}{6} = \frac{5}{6}; \quad x + y + z = \frac{5}{12}.$$

Поэтому, работая вдвоём, рабочие выполняют всю работу за $\frac{1}{x + y + z} = \frac{12}{5} = 2,4$ ч.

Ответ: 2,4.

496. Пусть x, y, z — производительность первого, второго и третьего рабочих соответственно. Весь объём работ примем за 1. Тогда из условия задачи следует, что

$$\begin{cases} \frac{1}{x+y} = 18, \\ \frac{1}{x+z} = 12, \\ \frac{1}{y+z} = 9; \end{cases} \Leftrightarrow \begin{cases} x+y = \frac{1}{18}, \\ x+z = \frac{1}{12}, \\ y+z = \frac{1}{9}. \end{cases}$$

Требуется найти $\frac{1}{x+y+z}$. Сложим все три уравнения полученной системы:

$$2(x + y + z) = \frac{1}{18} + \frac{1}{12} + \frac{1}{9} = \frac{1}{4}. \text{ Значит, } x + y + z = \frac{1}{8}.$$

А искомое значение $\frac{1}{x+y+z} = 8$ (ч).

Ответ: 8.

497. Обозначим через x и y стоимость 1 кг первого и второго продуктов соответственно. Тогда из условия задачи $x + 10y = 200$. Первый продукт подорожал на 15%, то есть его стоимость составила $x + \frac{15}{100}x = 1,15x$.

Второй продукт подешевел на 25%, то есть его стоимость составила

$$y - \frac{25}{100}y = 0,75y. \text{ Поэтому } 1,15x + 10 \cdot 0,75y = 182. \text{ Эти два условия}$$

$$\text{должны выполняться одновременно: } \begin{cases} x + 10y = 200, \\ 1,15x + 7,5y = 182; \end{cases} \Leftrightarrow$$

$$\Leftrightarrow \begin{cases} x = 200 - 10y, \\ 1,15(200 - 10y) + 7,5y = 182. \end{cases}$$

Из второго уравнения системы получаем $230 - 11,5y + 7,5y = 182$; $y = 12$. Тогда из первого уравнения $x = 200 - 120 = 80$. Итак, $x = 80$, $y = 12$.

Ответ: 80 и 12.

498. Пусть в 100 г первого раствора было x г соли ($x\%$ -ный раствор), а в 100 г второго раствора — y г соли ($y\%$ -ный раствор). Тогда до испарения в 1000 г первого раствора содержалось $10x$ г соли, а в 1000 г второго раствора — $10y$ г соли. После испарения такое же количество соли стало содержаться соответственно в 800 г каждого раствора, то есть концентрация соли в каждом растворе увеличилась в $\frac{1000}{800} = \frac{5}{4} = 1,25$ раза. Пусть также до испарения мы брали a г второго раствора (и $2a$ г первого), а после испарения b г второго раствора (и $4b$ г первого). Составим и решим систему уравнений, учитывая, что концентрация соли в смеси будет 10%:

$$\begin{cases} \frac{2a \cdot (x/100) + a \cdot (y/100)}{3a} = 0,1, \\ \frac{4b \cdot (1,25x/100) + b \cdot (1,25y/100)}{5b} = 0,1; \end{cases} \Leftrightarrow \begin{cases} 2x + y = 30, \\ 5x + 1,25y = 50; \end{cases} \Leftrightarrow$$

$$\begin{cases} x = 5, \\ y = 20. \end{cases}$$

Ответ: 5 и 20.

499. Пусть первый поезд проходит путь от A до B за t_1 ч ($t_1 > 0$), а второй поезд путь от B до A — за t_2 ч ($t_2 > 0$). Если обозначить расстояние от A до B (или от B до A) через s км, то получим систему уравнений

$$\begin{cases} \frac{t_1}{2} - 2 = \frac{t_2}{2}, \\ \left(\frac{s}{t_1} + \frac{s}{t_2}\right) \cdot 2 = s - \frac{s}{4}; \end{cases} \Leftrightarrow \begin{cases} t_1 = t_2 + 4, \\ 8(t_1 + t_2) = 3t_1 t_2; \end{cases} \Leftrightarrow$$

$$\Leftrightarrow \begin{cases} t_1 = t_2 + 4, \\ 3t_2^2 - 4t_2 - 32 = 0. \end{cases}$$

Корнями последнего уравнения являются $t_2 = 4$ и $t_2 = -\frac{8}{3}$. Второй корень не удовлетворяет условию задачи. Значит, $t_2 = 4$ ч. Отсюда $t_1 = 8$ ч.

Ответ: 8 и 4.

500. Пусть скорость велосипедиста равна v_1 км/ч, а скорость мотоциклиста — v_2 км/ч. По условию велосипедист проезжает каждую минуту на 500 м меньше, чем мотоциклист. Это соответствует тому, что его скорость

на $\frac{1}{2}$ км
 $\frac{1}{60}$ ч = 30 км/ч меньше скорости мотоциклиста. Тогда имеем систему

$$\text{уравнений } \begin{cases} v_1 + 30 = v_2, \\ \frac{120}{v_1} - 2 = \frac{120}{v_2}; \end{cases} \Leftrightarrow \begin{cases} v_2 = v_1 + 30, \\ v_1^2 + 30v_1 - 1800 = 0. \end{cases}$$

Корнями последнего уравнения являются $v_1 = 30$ и $v_1 = -60$. Второй корень очевидно не удовлетворяет условию задачи. Значит, $v_1 = 30$. Из первого уравнения $v_2 = 60$.

Ответ: 30 и 60.

501. Имеется 200 граммов 30%-го раствора. Значит, кислоты в нем $\frac{200 \cdot 30}{100} = 60$ (г). Обозначим через x количество воды (в граммах), которое нужно долить, чтобы получился 6%-ный раствор. Тогда

$$\frac{60}{200 + x} = \frac{6}{100}. \text{ Отсюда } x = 800 \text{ (г).}$$

Ответ: 800.

502. Имеется 300 граммов 20%-го раствора кислоты с водой. Значит, кислоты в этом растворе $300 \cdot \frac{20}{100} = 60$ (г). Обозначим через x количество воды (в граммах), которое нужно добавить в имеющийся раствор, чтобы получился 16%-ный раствор. Тогда $\frac{60}{300 + x} = \frac{16}{100}$. Отсюда $x = 75$ (г).

Ответ: 75.

503. Пусть первый экскаватор, работая один, вырыл яму за x часов, тогда второй вырыл бы её за $3x$ часов. $\frac{49}{x}$ м³/ч — производительность первого

экскаватора, а $\frac{49}{3x}$ м³/ч — производительность второго экскаватора. Так

как их совместная производительность равна $49 : 1,5 = \frac{98}{3}$ (м³/ч), полу-

чим уравнение $\frac{49}{x} + \frac{49}{3x} = \frac{98}{3}$; $\frac{1}{x} + \frac{1}{3x} = \frac{2}{3}$; $x = 2$.

Первый экскаватор вырыл бы яму за 2 часа, а половину ямы за 1 час, тогда второй вырыл бы яму за 6 часов, а половину — за 3 часа. Если бы

каждый по очереди вырыл бы половину ямы, то они вырыли бы яму за $1 + 3 = 4$ (ч).

Ответ: 4.

504. Пусть скорость перевозки зерна второго грузовика — x (т/ч), тогда скорость первого — $2,5x$ (т/ч). Имеем $(2,5x + x) \cdot 3 = 31,5$, откуда $x = 3$.

Первый грузовик привёз бы 21 т зерна за $\frac{21}{7,5} = \frac{14}{5} = 2\frac{4}{5}$ (ч), а второй — 10,5 т за $\frac{10,5}{3} = \frac{7}{2} = 3\frac{1}{2}$ (ч). Общее время равно $3\frac{1}{2} + 2\frac{4}{5} = 6\frac{3}{10} = 6,3$ (ч).

Ответ: 6,3.

505. Пусть x км/ч ($x > 0$) — скорость первого поезда, а y км/ч ($y > 0$) — скорость второго поезда. За $\frac{840}{x}$ часов пройдёт 840 км первый поезд, а за

$\frac{840}{y}$ часов пройдёт это же расстояние второй поезд.

По условию задачи первый поезд затратит времени на 2 часа меньше, чем второй, значит, $\frac{840}{y} - \frac{840}{x} = 2$. За $\frac{63}{x}$ часов пройдёт 63 км первый поезд, за $\frac{54}{y}$ часов пройдёт 54 км второй поезд.

По условию время, затраченное поездами, одинаково, значит,

$\frac{63}{x} = \frac{54}{y}$. Составим и решим систему уравнений:

$$\begin{cases} 63 \cdot \frac{1}{x} = 54 \cdot \frac{1}{y}, \\ 840 \cdot \frac{1}{y} - 840 \cdot \frac{1}{x} = 2. \end{cases}$$

Замена $\frac{1}{x} = a$; $\frac{1}{y} = b$ приводит к системе уравнений

$$\begin{cases} 7a = 6b, \\ 420b - 420a = 1; \end{cases} \Leftrightarrow \begin{cases} a = \frac{6}{7}b, \\ 60b = 1; \end{cases} \Leftrightarrow \begin{cases} a = \frac{1}{70}, \\ b = \frac{1}{60}. \end{cases}$$

Возвращаясь к исходным переменным, получаем $x = 70$; $y = 60$.

Тогда 70 км/ч — скорость первого поезда; 60 км/ч — скорость второго поезда, $70 - 60 = 10$ (км/ч).

Ответ: 10.

506. Пусть x км/ч ($x > 0$) — скорость лодки по течению, y км/ч ($y > 0$) — скорость лодки против течения. Так как $12 \text{ мин} = \frac{1}{5} \text{ ч}$, $40 \text{ мин} = \frac{2}{3} \text{ ч}$,

$52 \text{ мин} = \frac{13}{15} \text{ ч}$, то $\frac{1}{5} \cdot x$ км — путь, пройденный одной лодкой по течению;

$\frac{2}{3} \cdot y$ км — путь, пройденный другой лодкой против течения; $\frac{1}{5} \cdot \frac{x}{y}$ ч — вре-

мя, затраченное одной лодкой на обратный путь против течения; $\frac{2}{3} \cdot \frac{y}{x}$ ч — время, затраченное другой лодкой на обратный путь по течению.

Зная, что время, затраченное лодками на обратный путь, в сумме равно $\frac{13}{15}$ часа, составим и решим уравнение: $\frac{1}{5} \cdot \frac{x}{y} + \frac{2}{3} \cdot \frac{y}{x} = \frac{13}{15}$. Обозначим искомое отношение скорости лодки по течению к скорости лодки против течения через t , имеем $\frac{x}{y} = t, t > 1$. Тогда уравнение примет вид

$\frac{1}{5}t + \frac{2}{3} \cdot \frac{1}{t} = \frac{13}{15}$; $3t^2 - 13t + 10 = 0$; $t_1 = \frac{10}{3}$, $t_2 = 1$ — не удовлетворяет условию $t > 1$.

Ответ: $\frac{10}{3}$.

507. Пусть x — концентрация первого раствора в процентах, y — второго. Из условия задачи следует

$$\begin{cases} 2\frac{x}{100} + 6\frac{y}{100} = \frac{36}{100} \cdot (2 + 6), \\ \frac{x}{100} + \frac{y}{100} = \frac{32}{100} \cdot (1 + 1). \end{cases}$$

Во втором уравнении считаем (не нарушая общности), что первого и второго раствора берут по одному килограмму.

$$\begin{cases} 2x + 6y = 36 \cdot 8, \\ x + y = 32 \cdot 2; \end{cases} \Leftrightarrow \begin{cases} 2x + 6(64 - x) = 288, \\ y = 64 - x. \end{cases}$$

Из первого уравнения получаем $x = 24$. Зная x , из второго уравнения получаем $y = 40$.

Ответ: 24 и 40.

508. Пусть для получения 30%-го раствора нужно взять x кг 28%-го раствора и y кг 36%-го раствора. Тогда $0,28x + 0,36y = 0,3(x + y)$;

$0,02x = 0,06y$; $\frac{x}{y} = 3$. То есть для получения раствора нужной кон-

центрации нужно взять три части 28%-го раствора и одну часть 36%-го раствора. Так как первого раствора имеется всего 2 кг, то, чтобы получить наибольший объём 30%-го раствора, нужно взять 2 кг 28%-го раствора и

$y = \frac{x}{3} = \frac{2}{3}$ (кг) 36%-го раствора. Тогда общее количество раствора будет

равно $x + y = 2 + \frac{2}{3} = 2\frac{2}{3}$ (кг).

Ответ: $2\frac{2}{3}$.

509. Пусть К — красный грузовик, а С — синий, x ч — время, за которое синий грузовик вывозит груз с первого склада ($x > 0$). Составим таблицу:

	1-й склад	2-й склад
К	3	$x - 7$
С	x	6

Имеем теперь пропорцию:

$\frac{3}{x} = \frac{x-7}{6}$; $x^2 - 7x - 18 = 0$; $x_1 = 9$, $x_2 = -2$. Так как по условию за-

дачи x — число положительное, то $x = 9$. Таким образом, синий грузовик может вывезти груз с первого склада быстрее, чем это сделает красный, в

$\frac{9}{3} = 3$ раза.

Ответ: 3.

510. Пусть x — время, за которое второй кран разгрузит баржу ($x > 0$). Рассмотрим таблицу:

	баржа	сухогруз
I кран	3	$x - 10$
II кран	x	8

Составим пропорцию: $\frac{3}{x} = \frac{x-10}{8}$; $x^2 - 10x - 24 = 0$; $x_1 = -2$; $x_2 = 12$. Так как x не может быть меньше нуля, то $x = 12$.

Примем всю работу по разгрузке баржи за единицу. Тогда $p_1 = \frac{1}{3}$ — производительность крана I, $p_2 = \frac{1}{12}$ — производительность крана II.

Искомая величина $\frac{p_1}{p_2} = 4$.

Ответ: 4.

511. Пусть V — собственная скорость лодки, V_T — скорость течения реки. Тогда из условия задачи получим систему

$$\begin{cases} \frac{6}{V + V_T} + \frac{6}{V - V_T} = \frac{35}{60}, \\ \frac{18}{V - V_T} - \frac{18}{V + V_T} = \frac{15}{60}. \end{cases} \quad \text{Обозначим } \frac{1}{V + V_T} = a \text{ и } \frac{1}{V - V_T} = b.$$

$$\text{Тогда } \begin{cases} a + b = \frac{7}{72}, \\ b - a = \frac{1}{72}; \end{cases} \Leftrightarrow \begin{cases} a = \frac{3}{72}, \\ b = \frac{4}{72}. \end{cases}$$

Возвращаясь к переменным V и V_T , получим

$$\begin{cases} \frac{1}{V + V_T} = \frac{3}{72}, \\ \frac{1}{V - V_T} = \frac{4}{72}; \end{cases} \Leftrightarrow \begin{cases} V + V_T = 24, \\ V - V_T = 18; \end{cases} \Leftrightarrow \begin{cases} 2V_T = 6, \\ V = 18 + V_T; \end{cases} \Leftrightarrow \\ \Leftrightarrow \begin{cases} V_T = 3, \\ V = 21. \end{cases}$$

Ответ: 21.

512. Пусть V — собственная скорость катера, V_T — скорость течения реки. Тогда из условия задачи получим систему

$$\begin{cases} \frac{36}{V - V_T} + \frac{36}{V + V_T} = 3\frac{1}{2}, \\ \frac{12}{V - V_T} - \frac{12}{V + V_T} = \frac{10}{60}. \end{cases}$$

Обозначим $\frac{1}{V - V_T} = a$ и $\frac{1}{V + V_T} = b$.

$$\text{Тогда } \begin{cases} 36a + 36b = \frac{7}{2}, \\ 12a - 12b = \frac{1}{6}; \end{cases} \Leftrightarrow \begin{cases} a = \frac{1}{18}, \\ b = \frac{1}{24}. \end{cases}$$

Возвращаясь к переменным V и V_T , получим

$$\begin{cases} \frac{1}{V - V_T} = \frac{1}{18}, \\ \frac{1}{V + V_T} = \frac{1}{24}; \end{cases} \Leftrightarrow \begin{cases} V - V_T = 18, \\ V + V_T = 24; \end{cases} \Leftrightarrow \begin{cases} V_T = V - 18, \\ 2V = 42; \end{cases} \Leftrightarrow$$

$$\Leftrightarrow \begin{cases} V_T = 3, \\ V = 21. \end{cases}$$

Ответ: 21.

513. Пусть x км/ч — скорость первого туриста, y км/ч — скорость второго туриста. Расстояние, пройденное первым туристом до встречи, равно $3x$ км, а расстояние, пройденное вторым туристом до встречи, равно $2y$ км, ($AC = 3x$; $BC = 2y$) (см. рис. 200).

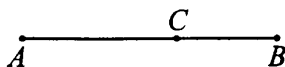


Рис. 200

$\frac{2y}{x}$ ч — время движения первого туриста на участке BC .

$\frac{3x}{y}$ ч — время движения второго туриста на участке AC .

Так как первый турист пришёл в пункт B на 5 часов раньше, чем второй пришёл в пункт A , получим уравнение $\frac{3x}{y} - \frac{2y}{x} = 5$. Пусть $\frac{x}{y} = t$, $t > 0$, тогда $3t - \frac{2}{t} = 5$; $3t^2 - 5t - 2 = 0$; $t_1 = 2$, $t_2 = -\frac{1}{3}$ не удовлетворяет условию $t > 0$.

Скорость первого туриста в два раза больше скорости второго туриста.

Ответ: 2.

514. Пусть x — время, которое затратил автомобиль на путь от места встречи до пункта A . Этот же участок пути велосипедист проехал за 6 часов. Кроме того, участок пути от места встречи до пункта B автомобиль проехал за 2 часа, а велосипедист — за $(x + 11)$ часов. Получим уравнение $\frac{x}{6} = \frac{2}{x + 11}$; $x^2 + 11x - 12 = 0$; $x_1 = 1$, $x_2 = -12$, которое имеет положительный корень $x = 1$. Значит, скорость автомобиля в 6 раз больше скорости велосипедиста.

Ответ: 6.

515. Пусть p_i — производительность i -ой группы программистов, $i = 1, 2, 3$. Тогда из условия задачи получим систему уравнений

$$\begin{cases} 4(p_1 + p_2 + p_3) = 1, \\ p_2 = 3p_3, \\ \frac{1}{p_1} - \frac{1}{p_2 + p_3} = 6. \end{cases}$$

Из первого уравнения системы следует, что $p_1 = \frac{1 - 4p_2 - 4p_3}{4}$. Подставляя в третье уравнение системы выражения для p_1 и p_2 , получим уравнение $\frac{4}{1 - 16p_3} - \frac{1}{4p_3} = 6 \Leftrightarrow \frac{384p_3^2 + 8p_3 - 1}{4p_3(1 - 16p_3)} = 0 \Leftrightarrow$

$$\Leftrightarrow \begin{cases} 384p_3^2 + 8p_3 - 1 = 0, \\ p_3 \neq 0, \\ p_3 \neq \frac{1}{16}. \end{cases}$$

Отсюда, учитывая, что по смыслу задачи $p_3 > 0$, получим $p_3 = \frac{1}{24}$. Тогда

$$p_2 = 3 \cdot p_3 = \frac{1}{8}, p_1 = \frac{1 - 4 \cdot \frac{1}{8} - 4 \cdot \frac{1}{24}}{4} = \frac{1}{12}.$$

Ответ: 12, 8 и 24 месяца.

516. Пусть p_i — производительность i -ой группы программистов, $i = 1, 2, 3$. Тогда из условия задачи получим систему уравнений

$$\begin{cases} 2(p_1 + p_2 + p_3) = 1, \\ p_1 = 3p_3, \\ p_1 = p_2 + p_3. \end{cases}$$

Из первого и третьего уравнений системы следует, что $4p_1 = 1, p_1 = \frac{1}{4}$.

Подставляя во второе уравнение системы p_1 , получаем $p_3 = \frac{1}{12}$. Тогда,

подставляя p_1 и p_3 в третье уравнение, найдём $p_2 = p_1 - p_3 = \frac{1}{4} - \frac{1}{12} = \frac{1}{6}$.

Ответ: 4, 6 и 12 месяцев.

517. Пусть v_1, l_1 — соответственно скорость (в м/с) и длина (в м) поезда; v_2, l_2 — соответственно скорость (в м/с) и длина (в м) электрички.

Согласно условию задачи, $v_2 = \frac{1}{2}v_1; l_2 = \frac{1}{3}l_1$. Зная, что поезд прохо-

дит мимо столба за 5 секунд, имеем $\frac{l_1}{v_1} = 5$. Чтобы определить время, за которое мимо друг друга пройдут поезд и электричка, нужно их общую длину разделить на суммарную скорость (из условия задачи ясно, что по-

езд и электричка движутся навстречу друг другу), то есть это время равно

$$\frac{l_1 + l_2}{v_1 + v_2} = \frac{l_1 + \frac{1}{3}l_1}{v_1 + \frac{1}{2}v_1} = \frac{8l_1}{9v_1} = \frac{8 \cdot 5}{9} = \frac{40}{9} \text{ (с)}.$$

Ответ: $\frac{40}{9}$.

518. Пусть v_1, l_1 — соответственно скорость (в м/с) и длина (в м) поезда, v_2, l_2 — соответственно скорость (в м/с) и длина (в м) электрички. Согласно условию задачи, $v_1 = v_2; l_1 = 1,5l_2$. Зная, что электричка проходит мимо столба за 8 секунд, имеем $\frac{l_2}{v_2} = 8$. Чтобы определить время, за которое мимо друг друга пройдут поезд и электричка, нужно их общую длину разделить на суммарную скорость (из условия задачи ясно, что поезд и электричка движутся навстречу друг другу), то есть это время равно

$$\frac{l_1 + l_2}{v_1 + v_2} = \frac{1,5l_2 + l_2}{v_2 + v_2} = \frac{2,5l_2}{2v_2} = \frac{2,5 \cdot 8}{2} = 10 \text{ (с)}.$$

Ответ: 10.

520. Пусть x — количество шоколада с содержанием 25% какао-бобов, y — количество шоколада с содержанием 70% какао-бобов, которые нужно взять, чтобы получить шоколад, содержащий 45% какао-бобов. Из условия задачи следует, что $\frac{0,25x + 0,7y}{x + y} = 0,45; 0,25x + 0,7y =$

$$= 0,45x + 0,45y; 0,2x = 0,25y; \frac{x}{y} = \frac{5}{4}.$$

Ответ: 5 : 4.

521. Пусть за x дней может вспахать всё поле первый трактор. Тогда за $(x + 2)$ дня может вспахать всё поле второй трактор; $\frac{1}{x}$ — производительность первого трактора (часть поля, которую он вспахивает за один день), $\frac{1}{x + 2}$ — производительность второго трактора.

По условию за 4 дня совместной работы было вспахано 0,9 поля. Следовательно, $4\left(\frac{1}{x} + \frac{1}{x + 2}\right) = 0,9$, где $x > 0$;

$$\frac{2x + 2}{x(x + 2)} = \frac{9}{40}; (2x + 2)40 = 9(x^2 + 2x); 9x^2 - 62x - 80 = 0. \text{ Решением}$$

этого уравнения являются $x_1 = 8$, $x_2 = -\frac{10}{9}$. $x_2 = -\frac{10}{9}$ — не удовлетворяет условию $x > 0$. Следовательно, первый трактор вспашет поле за 8 дней, второй — за 10 дней.

Ответ: 8 и 10 дней.

522. Пусть за x дней может перевезти весь груз первый грузовик. Тогда за $(x - 3)$ дня может перевезти весь груз второй грузовик; $\frac{1}{x}$ — производительность первого грузовика, $\frac{1}{x-3}$ — производительность второго грузовика (часть груза, которую он перевозит за один день).

По условию за 5 дней совместной работы грузовики перевезли 0,75 всего груза. Следовательно, $5\left(\frac{1}{x} + \frac{1}{x-3}\right) = 0,75$, где $x > 3$; $\frac{x-3+x}{x(x-3)} = 0,15$; $0,15x^2 - 2,45x + 3 = 0$. Решением этого уравнения являются $x_1 = 15$, $x_2 = \frac{4}{3}$. Так как должно выполняться неравенство $x > 3$, то $x_2 = \frac{4}{3}$ не удовлетворяет условию задачи. Получаем: первый грузовик весь груз может перевезти за 15 дней, второй — за 12 дней.

Ответ: 15 и 12 дней.

523. Для ответа на поставленный в условии вопрос достаточно определить, сколько общих точек имеют прямая $y = a$ ($a > 0$) и график функции $y = |x^2 - 4x - 3|$. Графиком функции $y = x^2 - 4x - 3$ является парабола с вершиной, абсцисса которой равна $x_B = \frac{-(-4)}{2 \cdot 1} = 2$, а ордината равна $y_B = 2^2 - 4 \cdot 2 - 3 = -7$. Отражая часть графика $y = x^2 - 4x - 3$, расположенную ниже оси Ox , симметрично относительно оси Ox , получаем график функции $y = |x^2 - 4x - 3|$, эскиз которого изображён на рисунке 201. Таким образом, при $0 < a < 7$ прямая $y = a$ пересекает график $y = |x^2 - 4x - 3|$ в четырёх точках, при $a = 7$ — в трёх точках и при $a > 7$ — в двух.

Ответ: 4 при $0 < a < 7$; 3 при $a = 7$; 2 при $a > 7$.

524. Построим графики функций $y = |2x^2 + 4x - 7|$; $y = a$ ($a > 0$) и найдём количество точек их пересечения.

1) Построим график $y = 2x^2 + 4x - 7$ (см. рис. 202).

а) Вершина: $x_0 = -\frac{b}{2a} = -\frac{4}{4} = -1$, $y_0 = 2 - 4 - 7 = -9$. $(-1; -9)$ —

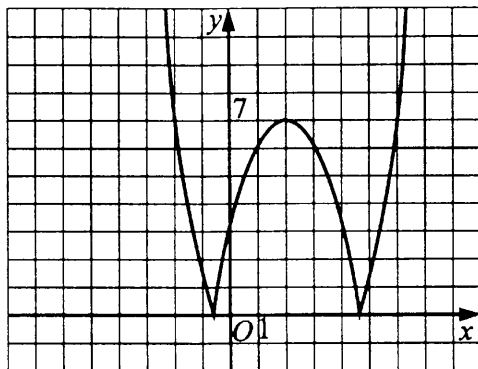


Рис. 201

координаты вершины параболы.

б) Дополнительные точки:

x	-4	-3	-2	0	1	2
y	9	-1	-7	-7	-1	9

2) Построим график $y = |2x^2 + 4x - 7|$ (см. рис. 202).

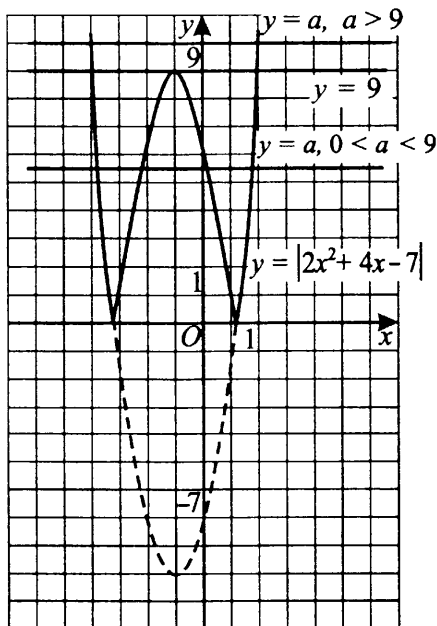


Рис. 202

Получаем, что графики данных функций пересекаются в четырёх точках при $0 < a < 9$, в трёх точках при $a = 9$, в двух точках при $a > 9$.

Ответ: 4 при $0 < a < 9$; 3 при $a = 9$; 2 при $a > 9$.

525. Построим ломаную, заданную условием

$$y = \begin{cases} -3x - 4, & \text{если } x < -2, \\ 2, & \text{если } -2 \leq x \leq 2, \\ 3x - 4, & \text{если } x > 2. \end{cases} \quad (\text{см. рис. 203})$$

Проводим прямую MB , проходящую через точки с координатами $(0; 1)$ и $(2; 2)$. Эта прямая задаётся уравнением $y = \frac{1}{2}x + 1$ и имеет угловой

коэффициент $k_1 = \frac{1}{2}$. Проведём прямую ME , проходящую через точку с координатами $(0; 1)$ параллельно прямой $y = 3x - 4$. Очевидно, угловой коэффициент этой прямой $k_2 = 3$. При положительном k прямая $y = kx + 1$ пересекает ломаную в двух точках, если она лежит внутри угла BME . Следовательно, $k_1 < k < k_2$; $\frac{1}{2} < k < 3$.

Ответ: $(0,5; 3)$.

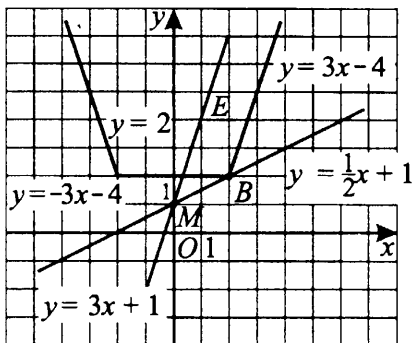


Рис. 203

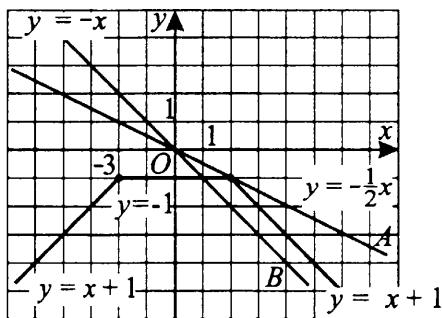


Рис. 204

526. Построим ломаную, заданную условием

$$y = \begin{cases} x + 1, & \text{если } x < -2, \\ -1, & \text{если } -2 \leq x \leq 2, \\ -x + 1, & \text{если } x > 2. \end{cases} \quad (\text{см. рис. 204}).$$

Проводим прямую OA , проходящую через начало координат и точку с координатами $(2; -1)$. Эта прямая задаётся уравнением $y = -\frac{1}{2}x$ и имеет угловой коэффициент $k_1 = -\frac{1}{2}$. Проведём прямую OB , проходящую через начало координат параллельно прямой $y = -x + 1$. Угловой коэффициент этой прямой $k_2 = -1$. При отрицательном значении k прямая $y = kx$ пересекает ломаную в двух точках, если она лежит внутри угла AOB . Следовательно, $k_2 < k < k_1$; $-1 < k < -\frac{1}{2}$.

Ответ: $(-1; -0,5)$.

527. Найдём координаты точек пересечения прямой $y = 0,3x + p$ с осями координат.

1) С осью Ox : $y = 0$; $0,3x + p = 0$; $x = -\frac{10p}{3}$; $(-\frac{10p}{3}; 0)$.

2) С осью Oy : $x = 0$; $y = p$; $(0; p)$.

3) Прямая $y = 0,3x + p$ образует с осями координат прямоугольный треугольник (см. рис. 205) с катетами $|\frac{10p}{3}|$ и $|p|$. По условию площадь треугольника равна 60; $S = \frac{1}{2} \cdot \frac{10}{3}|p| \cdot |p| = \frac{5}{3}p^2$. Из уравнения $\frac{5}{3}p^2 = 60$ находим $p = \pm 6$.

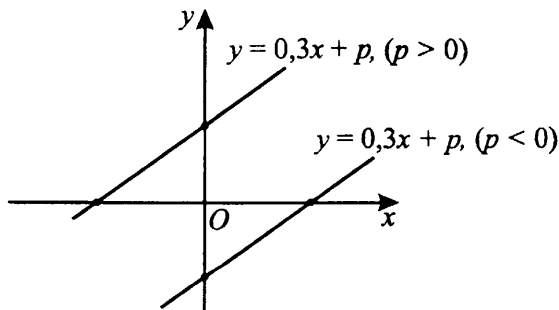


Рис. 205

Ответ: ± 6 .

528. $y = -2x + p$, $S_{\triangle AOB} = 49$, $S_{\triangle AOB} = \frac{|AO| \cdot |BO|}{2}$ (см. рис. 206).

Найдём координаты точек:

а) $A: A(0; y)$. $y = -2x + p$, $x = 0$, $y = p$, $A(0; p)$;

б) $B: B(x; 0)$. $y = -2x + p$, $-2x + p = 0$, $x = \frac{1}{2}p$, $B\left(\frac{1}{2}p; 0\right)$.

$$S_{OAB} = \frac{|OA| \cdot |OB|}{2}, S_{OAB} = \frac{|p| \cdot \frac{1}{2} \cdot |p|}{2}, \frac{1}{4}p^2 = 49, p^2 = 4 \cdot 49, p = \pm 14.$$

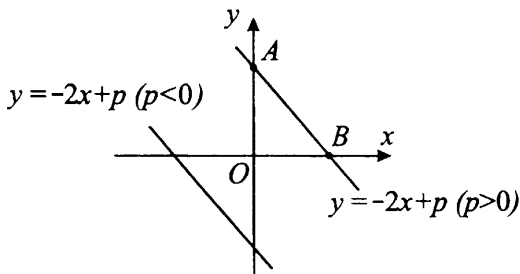


Рис. 206

Ответ: $-14; 14$.

529. Найдём координаты точек пересечения прямой $y = -1,5x + n$ с осями координат.

С осью Ox : $\left(\frac{2}{3}n; 0\right)$, с осью Oy : $(0; n)$.

Прямая $y = -1,5x + n$ образует с осями координат прямоугольный треугольник с катетами $\left|\frac{2}{3}n\right|$ и $|n|$.

По условию площадь треугольника равна 75.

$S = \frac{1}{2} \cdot \frac{2}{3} \cdot |n| \cdot |n| = \frac{1}{3} \cdot n^2$. Решим уравнение $\frac{1}{3}n^2 = 75$, $n^2 = 225$, $n_{1,2} = \pm 15$.

Ответ: ± 15 .

530. Найдём координаты точек пересечения прямой $y = 7x - 2m$ с осями координат.

С осью Ox : $\left(\frac{2}{7}m; 0\right)$, с осью Oy : $(0; -2m)$.

Прямая $y = 7x - 2m$ образует с осями координат прямоугольный треугольник с катетами $\left|\frac{2}{7}m\right|$ и $|-2m|$.

По условию площадь треугольника равна 14.

$$\frac{1}{2} \cdot \frac{2}{7} \cdot |m| \cdot 2 \cdot |m| = 14; m^2 = \frac{14 \cdot 7}{2}; m^2 = 49; m_{1,2} = \pm 7.$$

Ответ: ± 7 .

531. $2x^2 - \frac{1}{2}x + (k-3)(k+5) = 0$. $x_1 < 2 < x_2$, где x_1 и x_2 — корни.

1) Найдём корни уравнения

$$4x^2 - x + 2(k-3)(k+5) = 0, x_{1,2} = \frac{1 \pm \sqrt{1 - 32(k-3)(k+5)}}{8}.$$

2) Тогда по условию

$$\frac{1 - \sqrt{1 - 32(k-3)(k+5)}}{8} < 2 < \frac{1 + \sqrt{1 - 32(k-3)(k+5)}}{8} \Leftrightarrow$$

$$\Leftrightarrow 1 - \sqrt{1 - 32(k-3)(k+5)} < 16 < 1 + \sqrt{1 - 32(k-3)(k+5)} \Leftrightarrow$$

$$\Leftrightarrow \begin{cases} 1 - \sqrt{1 - 32(k-3)(k+5)} < 16, \\ 1 + \sqrt{1 - 32(k-3)(k+5)} > 16; \end{cases} \Leftrightarrow$$

$$\Leftrightarrow \begin{cases} -\sqrt{1 - 32(k-3)(k+5)} < 15, \\ \sqrt{1 - 32(k-3)(k+5)} > 15; \end{cases} \Leftrightarrow$$

$$\Leftrightarrow \begin{cases} \sqrt{1 - 32(k-3)(k+5)} > -15, \\ \sqrt{1 - 32(k-3)(k+5)} > 15; \end{cases} \Leftrightarrow \sqrt{1 - 32(k-3)(k+5)} > 15 \Leftrightarrow$$

$$\Leftrightarrow 1 - 32(k-3)(k+5) > 225 \Leftrightarrow 32(k-3)(k+5) < -224 \Leftrightarrow$$

$$\Leftrightarrow k^2 + 2k - 15 < -7 \Leftrightarrow k^2 + 2k - 8 < 0 \Leftrightarrow -4 < k < 2.$$

Ответ: $(-4; 2)$.

533. $9x^2 - 6x - (l-2)(l+2) - 3 = 0$.

Введём обозначение: $f(x) = 9x^2 - 6x - (l-2)(l+2) - 3$,

$f(x) = 9x^2 - 6x - l^2 + 1$. Учитывая, что старший коэффициент квадратного трёхчлена $f(x)$ положителен, можно сделать вывод, что число 2 находится между корнями уравнения $f(x) = 0$ тогда и только тогда, когда $f(2) < 0$ (см. рис. 207). Решим неравенство $f(2) < 0$. $9 \cdot 4 - 6 \cdot 2 - l^2 + 1 < 0$; $25 - l^2 < 0$; $(l-5)(l+5) > 0$; $l < -5$, $l > 5$ (см. рис. 208).

Ответ: $(-\infty; -5) \cup (5; +\infty)$.

534. Обозначим $y = kx^2 - (k-3)x + k$ (1) и

$$y = (2k-1) \cdot x^2 - 2kx + k + \frac{9}{4} \quad (2).$$

1) Так как по условию прямая $y = kx + 1$ и парабола (1) имеют ровно две общие точки, то уравнение $kx^2 - (k-3)x + k = kx + 1$ имеет 2 различных действительных корня, значит, $D > 0$.

$$kx^2 - 2kx + 3x + k - 1 = 0; kx^2 + (3-2k)x + (k-1) = 0.$$

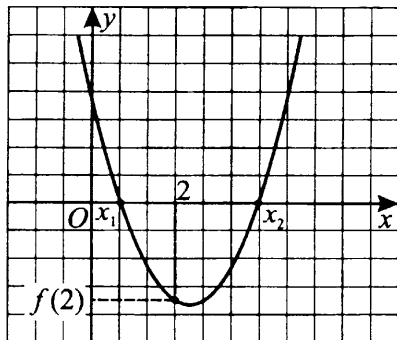


Рис. 207



Рис. 208

$$D = (3 - 2k)^2 - 4k(k - 1); 9 - 12k + 4k^2 - 4k^2 + 4k > 0; -8k + 9 > 0; \\ k < \frac{9}{8}.$$

2) Так как прямая $y = kx + 1$ не пересекает параболу (2), уравнение $(2k - 1)x^2 - 2kx + k + \frac{9}{4} = kx + 1$ не имеет действительных корней, значит, $D < 0$.

$$(2k - 1)x^2 - 3kx + k + \frac{5}{4} = 0.$$

$$D = 9k^2 - 4(2k - 1)\left(k + \frac{5}{4}\right) = 9k^2 - 8k^2 - 10k + 4k + 5 = k^2 - 6k + 5.$$

Решим неравенство $k^2 - 6k + 5 < 0$; $(k - 5)(k - 1) < 0$; $1 < k < 5$ (см. рис. 209).

$$3) \text{ Таким образом, } \begin{cases} k < \frac{9}{8}, \\ 1 < k < 5; \end{cases} \Leftrightarrow 1 < k < \frac{9}{8}.$$




Рис. 209

Ответ: $\left(1; \frac{9}{8}\right)$.

535. Выделим в каждом трёхчлене полный квадрат:

$$3(4x^2 - 12x + 9 + 2)(x^2 + 22x + 121 + 4) = 24 - a^2;$$

$$3((2x - 3)^2 + 2)((x + 11)^2 + 4) = 24 - a^2;$$

$$3((2x - 3)^2(x + 11)^2 + 4(2x - 3)^2 + 2(x + 11)^2 + 8) = 24 - a^2;$$

$$3(2x - 3)^2(x + 11)^2 + 12(2x - 3)^2 + 6(x + 11)^2 + 24 = 24 - a^2;$$

$$3(2x - 3)^2(x + 11)^2 + 12(2x - 3)^2 + 6(x + 11)^2 = -a^2.$$

Левая часть уравнения принимает положительные значения при любом действительном значении x , правая часть принимает либо отрицательные значения, либо ноль. Следовательно, данное уравнение не имеет корней ни при каких значениях параметра a .

536. Выделим в каждом трёхчлене полный квадрат:

$$(49x^2 - 112x + 64 + 1)(x^2 + 26x + 169 + 2) = 2 - x^2;$$

$$((7x - 8)^2 + 1)((x + 13)^2 + 2) = 2 - x^2;$$

$$(7x - 8)^2(x + 13)^2 + 2(7x - 8)^2 + (x + 13)^2 + 2 = 2 - x^2;$$

$$(7x - 8)^2(x + 13)^2 + 2(7x - 8)^2 + (x + 13)^2 = -x^2.$$

Левая часть уравнения принимает положительные значения при любом действительном значении x , правая часть принимает либо отрицательные значения, либо ноль. Следовательно, данное уравнение не имеет корней.

537. Касание прямой и параболы означает, что они имеют лишь одну общую точку (для графиков других функций, отличных от квадратичной, это может быть и не так). То есть нужно определить, при каких значениях параметров k и a уравнение $ax^2 = k(x - a)$ имеет единственный корень. $ax^2 - kx + ka = 0$, $D = k^2 - 4ka^2$, квадратное уравнение имеет единственный корень тогда и только тогда, когда $D = 0$, то есть $k(k - 4a^2) = 0$. В случае $k = 0$ прямой, данной в условии, является прямая $y = 0$, ордината точки касания никак не может быть равна 4, то есть $k \neq 0$. Тогда из уравнения $k(k - 4a^2) = 0$ получаем, что $k = 4a^2$. Пусть $(x_0; y_0)$ — точка касания. Абсцисса x_0 точки касания является корнем уравнения

$$ax^2 - kx + ka = 0, \text{ и так как } D = 0, \text{ то } x_0 = \frac{k}{2a} = \frac{4a^2}{2a} = 2a.$$

Подставляя x_0 в уравнение прямой, получаем ординату точки касания $y_0 = k(x_0 - a) = 4a^2(2a - a) = 4a^3$. По условию $y_0 = 4$, то есть $4a^3 = 4$; $a = 1$; $k = 4a^2 = 4$.

Ответ: $k = 4$; $a = 1$.

538. По условию прямая $y = kx + b$ касается параболы $y = x^2 + bx$, абсцисса точки касания $x = 2$.

а) Выразим b через k из уравнения $x^2 + bx = kx + b$, зная, что $x = 2$:
 $4 + 2b = 2k + b$, $b = 2k - 4$.

б) Уравнение $x^2 + bx = kx + b$, $x^2 + (b - k)x - b = 0$ имеет 1 корень, тогда $D = 0$. $D = (b - k)^2 + 4b$, $b^2 - 2bk + k^2 + 4b = 0$.

в) Найдём b и k из условий а) и б):

$$\begin{cases} b = 2k - 4, \\ b^2 - 2bk + k^2 + 4b = 0, \end{cases}$$

$$(2k - 4)^2 - 2k \cdot (2k - 4) + k^2 + 4 \cdot (2k - 4) = 0,$$

$$4k^2 - 16k + 16 - 4k^2 + 8k + k^2 + 8k - 16 = 0, k = 0, \text{ тогда } b = 2 \cdot 0 - 4 = -4.$$

Ответ: $k = 0$; $b = -4$.

539. $x^2 - (a + 4)x + 2a + 5 = 0$, так как уравнение имеет два корня, то $D > 0$, $D = (a + 4)^2 - 4(2a + 5)$; $a^2 + 8a + 16 - 8a - 20 > 0$; $a^2 - 4 > 0$, кроме того

$$\frac{1}{x_1} + \frac{1}{x_2} \geq -2; \frac{x_1 + x_2}{x_1 \cdot x_2} \geq -2; \frac{a + 4}{2a + 5} \geq -2; \frac{a + 4 + 4a + 10}{2a + 5} \geq 0;$$

$$\frac{5a + 14}{2a + 5} \geq 0, \text{ таким образом,}$$

$$\begin{cases} a^2 - 4 > 0, \\ \frac{5a + 14}{2a + 5} \geq 0; \end{cases} \begin{cases} (a - 2)(a + 2) > 0, \\ \frac{5a + 14}{2a + 5} \geq 0. \end{cases}$$

$(-\infty; -2,8] \cup (-2,5; -2) \cup (2; +\infty)$ (см. рис. 210).

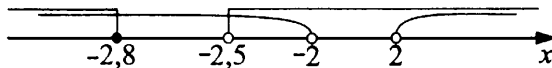


Рис. 210

Ответ: $(-\infty; -2,8] \cup (-2,5; -2) \cup (2; +\infty)$.

540. Данное уравнение может иметь два различных корня лишь тогда, когда оно квадратное (то есть $a \neq 0$) и его дискриминант положителен.

$$D = (2a + 3)^2 - 4a(a + 2) = 4a + 9 > 0 \Rightarrow \text{при } a > -\frac{9}{4}, a \neq 0$$

данное уравнение имеет два различных корня — x_1, x_2 . По условию, нужно выбрать те значения параметра a , при которых $x_1^2 + x_2^2 > 3$. Выразим $x_1^2 + x_2^2$ через коэффициенты данного уравнения, воспользовавшись теоремой Виета и тождеством $x_1^2 + x_2^2 = (x_1 + x_2)^2 - 2x_1x_2$. Имеем

$$x_1^2 + x_2^2 = \frac{(2a + 3)^2}{a^2} - \frac{2(a + 2)}{a} = \frac{2a^2 + 8a + 9}{a^2}. \text{ Решим неравенство}$$

$\frac{2a^2 + 8a + 9}{a^2} > 3$. С учётом условия $a \neq 0$ оно равносильно неравенству

$2a^2 + 8a + 9 > 3a^2 \Leftrightarrow a^2 - 8a - 9 < 0$; $a \in (-1; 9)$. Остаётся вспомнить, что условие $a > -\frac{9}{4}$ при $a \in (-1; 9)$ выполнено. Учитывая, что $a \neq 0$, получаем $a \in (-1; 0) \cup (0; 9)$.

Ответ: $(-1; 0) \cup (0; 9)$.

542. Наименьшее трёхзначное число, кратное 15, — это 105, наибольшее — 990. Задача сводится к нахождению суммы членов арифметической прогрессии, у которой $a_1 = 105$, $a_n = 990$, $d = 15$. Найдём число членов этой прогрессии, применив формулу общего члена.

$$a_n = a_1 + d \cdot (n - 1), 105 + 15 \cdot (n - 1) = 990, 7 + n - 1 = 66, n = 60.$$

Сумму членов найдём по формуле

$$S_n = \frac{a_1 + a_n}{2} \cdot n, S_{60} = \frac{105 + 990}{2} \cdot 60 = 32\,850.$$

Ответ: 32 850.

543. Наименьшее трёхзначное число, кратное 14, — это 112, наибольшее — 994. Задача сводится к нахождению суммы членов арифметической прогрессии, у которой $a_1 = 112$, $a_n = 994$, $d = 14$.

Найдём число элементов этой прогрессии, применив формулу общего члена. $a_n = a_1 + d(n - 1)$; $112 + 14(n - 1) = 994$; $8 + n - 1 = 71$; $n = 64$.

Сумму членов найдём по формуле $S_n = \frac{a_1 + a_n}{2} \cdot n$.

$$S_{64} = \frac{112 + 994}{2} \cdot 64 = 35\,392.$$

Ответ: 35 392.

544. Пусть t_1, t_2, t_3, t_4, t_5 — заданные числа.

По условию $\sqrt{t_1 \cdot t_2} = 243$, тогда $t_1 \cdot t_2 = 243^2 = 3^{10}$, а $\sqrt[3]{t_3 \cdot t_4 \cdot t_5} = 32$, тогда $t_3 \cdot t_4 \cdot t_5 = 32^3 = 2^{15}$. Имеем $t_1 \cdot t_2 \cdot t_3 \cdot t_4 \cdot t_5 = 3^{10} \cdot 2^{15}$, среднее геометрическое всех пяти чисел равно:

$$\sqrt[5]{t_1 \cdot t_2 \cdot t_3 \cdot t_4 \cdot t_5} = \sqrt[5]{3^{10} \cdot 2^{15}} = 3^2 \cdot 2^3 = 9 \cdot 8 = 72.$$

Ответ: 72.

545. Графиком функции $y = x^2 - (2a - 1)x + 3a$ является парабола, ветви которой направлены вверх.

Найдём координаты вершины параболы:

$$x_0 = \frac{2a - 1}{2} = a - 0,5,$$

$$y_0 = (a - 0,5)^2 - (2a - 1)(a - 0,5) + 3a = a^2 - a + 0,25 - 2a^2 + 2a - 0,5 + 3a = -a^2 + 4a - 0,25.$$

$(a - 0,5; -a^2 + 4a - 0,25)$ — искомые координаты. $E(y) = [y_0; +\infty)$.

По условию задачи необходимо, чтобы $E(y) = [1,5; +\infty)$, значит, $y_0 = 1,5$.

$$-a^2 + 4a - 0,25 = 1,5; \quad a^2 - 4a + 1,75 = 0; \quad a_1 = 0,5, \quad a_2 = 3,5.$$

Ответ: 0,5; 3,5.

546. По условию задачи окружность $x^2 + y^2 = 10$ не имеет общих точек с прямой $mx + y = 10$, значит, система уравнений $\begin{cases} x^2 + y^2 = 10, \\ mx + y = 10 \end{cases}$ должна быть несовместной.

$$\begin{cases} x^2 + y^2 = 10, \\ y = 10 - mx; \end{cases} \quad \begin{cases} x^2 + (10 - mx)^2 = 10, \\ y = 10 - mx. \end{cases}$$

Рассмотрим первое уравнение этой системы:

$$x^2 + 100 - 20mx + m^2x^2 - 10 = 0, \quad (1 + m^2)x^2 - 20mx + 90 = 0.$$

$1 + m^2 \neq 0$, поэтому уравнение квадратное. Оно не должно иметь действительных корней, следовательно, $D < 0$.

$$(20m)^2 - 4 \cdot 90 \cdot (1 + m^2) < 0, \quad 400m^2 - 360m^2 < 360, \quad 40m^2 < 360, \quad m^2 < 9, \quad |m| < 3.$$

Ответ: $(-3; 3)$.

547. Найдём координаты вершины параболы $y = 2x^2 + ax + 1$.

$$x_0 = -\frac{a}{2 \cdot 2} = -\frac{a}{4};$$

$$y_0 = 2 \cdot \left(\frac{a}{4}\right)^2 + a \cdot \left(-\frac{a}{4}\right) + 1 = \frac{a^2}{8} - \frac{a^2}{4} + 1 = \frac{a^2 - 2a^2 + 8}{8} = \frac{8 - a^2}{8};$$

$\left(-\frac{a}{4}; \frac{8 - a^2}{8}\right)$ — координаты вершины.

Найдём ординату y_1 точки с абсциссой x_0 , лежащей на прямой $y = x$,

$$y_1 = -\frac{a}{4}.$$

Поскольку вершина параболы лежит выше прямой, ордината y должна быть больше ординаты y_1 . Следовательно, все искомые значения параметра a удовлетворяют неравенству

$$\frac{8 - a^2}{8} > -\frac{a}{4}; \quad \frac{8 - a^2}{8} > -\frac{2a}{8}; \quad 8 - a^2 > -2a; \quad a^2 - 2a - 8 < 0;$$

$$(a + 2)(a - 4) < 0; \quad -2 < a < 4.$$

Целые искомые значения параметра a : $-1; 0; 1; 2; 3$.

Ответ: $-1; 0; 1; 2; 3$.

548. Найдём координаты вершины параболы $y = x^2 + ax - 2$.

$$x_0 = -\frac{a}{2}; \quad y_0 = \left(-\frac{a}{2}\right)^2 + a\left(-\frac{a}{2}\right) - 2 = \frac{a^2}{4} - \frac{a^2}{2} - 2 = -\frac{a^2}{4} - 2.$$

Найдём ординату y_1 точки с абсциссой x_0 , лежащей на прямой $y = 2x$:

$$y_1 = 2\left(-\frac{a}{2}\right) = -a.$$

Поскольку вершина параболы лежит ниже прямой, ордината y_1 должна быть больше ординаты y_0 . Следовательно, все искомые значения параметра a удовлетворяют неравенству

$-\frac{a^2}{4} - 2 < -a$; $a^2 - 4a + 8 > 0$; $(a-2)^2 + 4 > 0$. Это неравенство верно при любом действительном значении a . В задаче необходимо найти все целые значения a , следовательно, $a \in \mathbb{Z}$.

Ответ: $a \in \mathbb{Z}$.

549. $y = x^2 - x + 1$, $x + my - 1 = 0$.

По условию задачи парабола $y = x^2 - x + 1$ имеет с прямой $x + my - 1 = 0$ единственную общую точку, значит, система уравнений

$$\begin{cases} y = x^2 - x + 1, & (1) \\ x + my - 1 = 0 & (2) \end{cases} \text{ должна иметь единственное решение.}$$

Из второго уравнения системы выразим x через y и подставим в первое уравнение:

$$x = 1 - my, y = (1 - my)^2 - (1 - my) + 1, 1 - 2my + m^2y^2 - 1 + my - y + 1 = 0, m^2y^2 - (m + 1) \cdot y + 1 = 0.$$

1) $m = 0$, $-y + 1 = 0$, $y = 1$, уравнение имеет единственный корень, значит, система имеет единственное решение, что удовлетворяет условию задачи.

2) $m \neq 0$, уравнение квадратное, оно должно иметь единственный корень, следовательно, $D = 0$.

$$(m + 1)^2 - 4m^2 = 0, m^2 + 2m + 1 - 4m^2 = 0, 3m^2 - 2m - 1 = 0, m_1 = 1,$$

$$m_2 = -\frac{1}{3}.$$

При $m_1 = 1$ и $m_2 = -\frac{1}{3}$ система имеет единственное решение.

Ответ: $0, 1, -\frac{1}{3}$.

550. 1. Отметим, что если $m = 0$, то прямая $-x - 1 = 0$ имеет с параболой единственную общую точку.

2. $m \neq 0$. Система

$$\begin{cases} y = x^2 + x + 1, \\ my - x - 1 = 0; \end{cases}$$

должна иметь единственное решение.

$$\begin{cases} y = x^2 + x + 1, \\ x = my - 1. \end{cases}$$

Подставив значение x из второго уравнения системы в первое уравнение, получим $y = (my - 1)^2 + (my - 1) + 1$; $y = m^2y^2 - my + 1$; $m^2y^2 - (m + 1)y + 1 = 0$.

Уравнение должно иметь один корень, следовательно, $D = 0$.
 $(m + 1)^2 - 4m^2 = 0$; $m^2 + 2m + 1 - 4m^2 = 0$; $3m^2 - 2m - 1 = 0$;
 $m_{1,2} = \frac{1 \pm \sqrt{1 + 3}}{3}$; $m_1 = 1$, $m_2 = -\frac{1}{3}$.

Ответ: 0 ; 1 ; $-\frac{1}{3}$.

551. Найдём абсциссу вершины параболы $y = x^2 - 2ax + 43$:

$$x_0 = \frac{2a}{2} = a.$$

1) Пусть $x_0 < -2$, тогда $a < -2$. Так как ветви параболы направлены вверх, то на промежутке $[x_0; +\infty)$ функция возрастает (см. рис. 211).
 $y_{\text{наим.}} = y(-2) = 4 - 2a \cdot (-2) + 43 = 7$; $4a = -40$; $a = -10$. $a = -10$ удовлетворяет условию $a < -2$.

2) Пусть $x_0 \geq -2$, тогда $a \geq -2$. Наименьшее значение функция принимает в вершине параболы (см. рис. 212).
 $y_{\text{наим.}} = y(x_0) = y(a) = a^2 - 2a^2 + 43 = 7$; $a^2 = 36$; $a_1 = 6$; $a_2 = -6$ — не удовлетворяет условию $a \geq -2$.

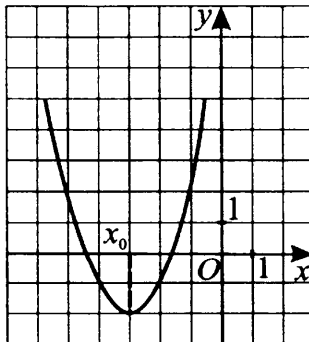


Рис. 211

Ответ: -10 ; 6 .

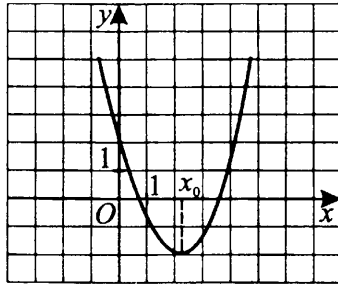


Рис. 212

552. Найдём абсциссу вершины параболы $y = -x^2 + 2ax - 71$ на $[-3; +\infty)$:

$$x_0 = \frac{-2a}{-2} = a.$$

1) Пусть $x_0 < -3$, тогда $a < -3$. Так как ветви параболы направлены вниз, то на промежутке $[x_0; +\infty)$ функция убывает (см. рис. 213).

$y_{\text{наиб.}} = y(-3) = -9 + 2a \cdot (-3) - 71 = 10$; $-6a = 90$; $a = -15$ — удовлетворяет условию $a < -3$.

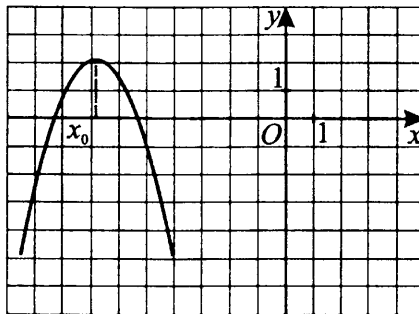


Рис. 213

2) Пусть $x_0 \geq -3$, тогда $a \geq -3$. Наибольшее значение функция принимает в вершине параболы (см. рис. 214).

$y_{\text{наиб.}} = y(x_0) = y(a) = -a^2 + 2a^2 - 71 = 10$; $a^2 = 81$; $a_1 = 9$, $a_2 = -9$ — не удовлетворяет условию $a \geq -3$.

Ответ: -15 ; 9 .

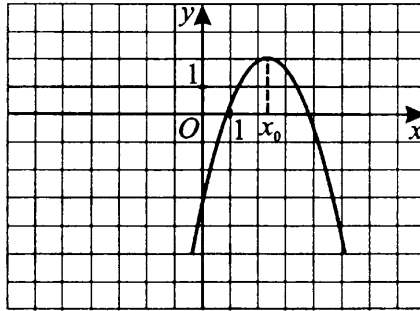


Рис. 214

$$553. x^2 - 2ax + a^2 - 1 = 0.$$

$$x_{1,2} = a \pm \sqrt{a^2 - a^2 + 1}; x_1 = a - 1, x_2 = a + 1.$$

По условию задачи число 3 заключено между корнями уравнения, то есть $a - 1 < 3 < a + 1$; $\begin{cases} a - 1 < 3, \\ a + 1 > 3; \end{cases} \begin{cases} a < 4, \\ a > 2; \end{cases} 2 < a < 4.$

Ответ: $2 < a < 4.$

$$554. x^2 - 6ax + 9a^2 - 2a + 2 = 0.$$

1) Найдём допустимые значения параметра a . Уравнение имеет действительные корни, если $D \geq 0$.

$$D = (6a)^2 - 4(9a^2 - 2a + 2) = 36a^2 - 36a^2 + 8a - 8 = 8a - 8; 8a - 8 \geq 0;$$

$$a \geq 1. \text{ Абсцисса вершины параболы } x_0 = \frac{6a}{2} = 3a \geq 3.$$

2) Рассмотрим функцию $y = x^2 - 6ax + 9a^2 - 2a + 2$. Графиком функции является парабола, ветви которой направлены вверх, значит, на промежутках $(-\infty; x_1)$ и $(x_2; +\infty)$, где $x_2 \geq x_1$, функция принимает положительные значения. Из условия следует: $3 \in (-\infty; x_1)$ (см. рис. 215), значит, $y(3) > 0$.

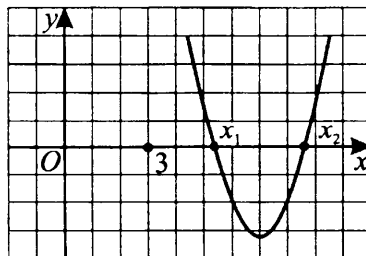


Рис. 215

3) Найдём значения параметра a , решив систему неравенств

$$\begin{cases} 3^2 - 6a \cdot 3 + 9a^2 - 2a + 2 > 0, \\ a \geq 1; \end{cases} \quad \begin{cases} 9 - 18a + 9a^2 - 2a + 2 > 0, \\ a \geq 1; \end{cases}$$

$$\begin{cases} 9a^2 - 20a + 11 > 0, \\ a \geq 1; \end{cases} \quad \begin{cases} 9(a-1)\left(a - \frac{11}{9}\right) > 0, \\ a \geq 1; \end{cases}$$

$$\begin{cases} \begin{cases} a < 1, \\ a > \frac{11}{9}, \end{cases} & a > \frac{11}{9} \text{ (см. рис. 216).} \\ a \geq 1; \end{cases}$$

Так как $x_0 \geq 3$, то случай, при котором оба корня меньше 3, невозможен.

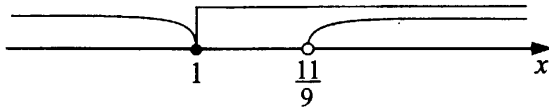


Рис. 216

Ответ: $a > \frac{11}{9}$.

555. Пусть (x_0, y_0) — координаты вершины данной параболы, тогда

$$x_0 = -\frac{b}{2a}, \text{ где } b = -7, a = m, \text{ то есть } x_0 = \frac{7}{2m} \text{ (} m \neq 0 \text{)}.$$

Так как вершина параболы должна лежать во II четверти, то $x_0 < 0$; $\frac{7}{2m} < 0$; $m < 0$. Ветви параболы направлены вниз. Так как вершина находится во II четверти, то квадратный трёхчлен имеет 2 различных действительных корня.

$$D > 0; 49 - 16m^2 > 0; -\frac{7}{4} < m < \frac{7}{4}; \text{ учитывая, что } m < 0, \text{ получаем}$$

$$-\frac{7}{4} < m < 0.$$

Ответ: $(-1,75; 0)$.

556. ОДЗ: $x \in [2; 7]$.

Левая часть уравнения $\sqrt{x-2} + \sqrt{7-x} = c$ есть сумма двух неотрицательных чисел, следовательно, $c \geq 0$.

Тогда $(\sqrt{x-2} + \sqrt{7-x})^2 = c^2$; $x-2+7-x+2\sqrt{(x-2)(7-x)} = c^2$; $2\sqrt{(x-2)(7-x)} = c^2 - 5$. Отсюда $c^2 \geq 5$. Так как $c \geq 0$, то $c \geq \sqrt{5}$.

$4(7x - x^2 + 2x - 14) = c^4 - 10c^2 + 25$; $4x^2 - 36x + c^4 - 10c^2 + 81 = 0$. Так как заданное уравнение должно иметь хотя бы один корень, то и полученное квадратное уравнение относительно x должно иметь хотя бы один корень. Следовательно, $D = 36^2 - 4 \cdot 4(c^4 - 10c^2 + 81) \geq 0$; $c^4 - 10c^2 \leq 0$; $c^2(c^2 - 10) \leq 0$. Учитывая, что $c \geq \sqrt{5}$, получаем $c^2 - 10 \leq 0$, $c \leq \sqrt{10}$.

Таким образом, $\sqrt{5} \leq c \leq \sqrt{10}$. Отрезок $[\sqrt{5}; \sqrt{10}]$ содержит единственное целое число 3.

Подставляя $c = 3$ в заданное уравнение, получаем два корня: $x_1 = 3$ и $x_2 = 6$. Следовательно, $c = 3$ — искомое значение.

Ответ: 3.

$$557. 2\sqrt{x+3} + \sqrt{11-4x} = c. \quad (1)$$

Левая часть уравнения представляет собой сумму двух неотрицательных чисел, значит, $c \geq 0$. Уравнение равносильно системе

$$\begin{cases} x+3 \geq 0, \\ 11-4x \geq 0, \\ c \geq 0, \\ (2\sqrt{x+3} + \sqrt{11-4x})^2 = c^2; \end{cases}$$

$$\begin{cases} x \geq -3, \\ x \leq \frac{11}{4}, \\ c \geq 0, \\ 4x + 12 + 4\sqrt{(x+3)(11-4x)} + 11 - 4x = c^2; \end{cases}$$

$$\begin{cases} -3 \leq x \leq \frac{11}{4}, \\ c \geq 0, \\ 4\sqrt{11x - 4x^2 + 33 - 12x} = c^2 - 23; \end{cases}$$

$$\begin{cases} -3 \leq x \leq \frac{11}{4}, \\ c \geq 0, \\ c^2 - 23 \geq 0, \\ 16(33 - x - 4x^2) = (c^2 - 23)^2; \end{cases}$$

$$\begin{cases} -3 \leq x \leq \frac{11}{4}, \\ c \geq 0, \\ |c| \geq \sqrt{23}, \\ 64x^2 + 16x - 528 + (c^2 - 23)^2 = 0; \end{cases}$$

$$\begin{cases} -3 \leq x \leq \frac{11}{4}, \\ c \geq \sqrt{23}, \\ 64x^2 + 16x - 528 + (c^2 - 23)^2 = 0. \end{cases}$$

Рассмотрим уравнение $64x^2 + 16x - (528 - (c^2 - 23)^2) = 0$. (2)

По условию уравнение (1) должно иметь хотя бы один корень, значит, дискриминант уравнения (2) должен быть неотрицательным числом.

$$D \geq 0; 16^2 + 4 \cdot 64 \cdot (528 - (c^2 - 23)^2) \geq 0; 528 - (c^2 - 23)^2 \geq 0; \\ (c^2 - 23)^2 \leq 529; |c^2 - 23| \leq 23; -23 \leq c^2 - 23 \leq 23; 0 \leq c^2 \leq 46; \\ |c| \leq \sqrt{46}.$$

Учитывая, что $c \geq \sqrt{23}$, имеем

$$\begin{cases} c \geq \sqrt{23}, \\ -\sqrt{46} \leq c \leq \sqrt{46}; \end{cases} \quad \sqrt{23} \leq c \leq \sqrt{46}.$$

Отрезок $[\sqrt{23}; \sqrt{46}]$ содержит два целых числа: 5 и 6.

Проверка показала, что при $c = 5$ уравнение (1) имеет один корень, при $c = 6$ два корня (выполните самостоятельно).

Ответ: 5; 6.

558. Найдём координаты точки пересечения прямых $3x + ay + 1 = 0$ и $2x - 3y - 4 = 0$, решив систему уравнений

$$\begin{cases} 3x + ay = -1, \\ 2x - 3y = 4. \end{cases}$$

а) Умножим первое уравнение системы на 2, а второе — на (-3) , а затем сложим полученные уравнения: $(2a + 9)y = -14$; $y = -\frac{14}{2a + 9}$; $a \neq -4,5$.

б) Умножим первое уравнение системы на 3, второе — на a , получим $9x + 3ay = -3$ и $2ax - 3ay = 4a$, сложим полученные уравнения

$$(9 + 2a)x = 4a - 3, \quad x = \frac{4a - 3}{9 + 2a}, \quad a \neq -4,5.$$

$\left(\frac{4a - 3}{9 + 2a}; -\frac{14}{2a + 9}\right)$ — искомые координаты. При $a = -4,5$ система несовместна (проверьте самостоятельно).

По условию задачи точка находится в третьей координатной четверти, значит, и абсцисса, и ордината — отрицательные числа. Найдём значения параметра a ($a \neq -4,5$), решив систему неравенств

$$\begin{cases} \frac{4a-3}{9+2a} < 0, \\ -\frac{14}{2a+9} < 0; \end{cases} \begin{cases} \frac{4a-3}{2a+9} < 0, \\ 2a+9 > 0; \end{cases} \begin{cases} 4a-3 < 0, \\ 2a+9 > 0; \end{cases} \begin{cases} a < \frac{3}{4}, \\ a > -\frac{9}{2}; \end{cases}$$

$$-4,5 < a < 0,75.$$

Ответ: $(-4,5; 0,75)$.

559. Найдём координаты точки пересечения прямых $x + 5y - 3 = 0$ и $ax - 2y - 1 = 0$, решив систему уравнений

$$\begin{cases} x + 5y = 3, \\ ax - 2y = 1. \end{cases}$$

а) Умножим первое уравнение системы на $-a$ и сложим со вторым уравнением; получим $(-5a - 2)y = -3a + 1$; $y = \frac{3a-1}{5a+2}$; $a \neq -0,4$.

б) Умножим первое уравнение системы на 2, а второе — на 5 и сложим полученные уравнения; получим $(2 + 5a)x = 11$; $x = \frac{11}{5a+2}$; $a \neq -0,4$.

$(\frac{11}{5a+2}; \frac{3a-1}{5a+2})$ — координаты точки пересечения заданных прямых.

При $a = -0,4$ система несовместна (проверьте самостоятельно).

По условию задачи, точка находится в четвёртой координатной четверти, значит, её абсцисса положительная, а ордината отрицательная.

Найдём значения параметра a ($a \neq -0,4$), решив систему неравенств

$$\begin{cases} \frac{11}{5a+2} > 0, \\ \frac{3a-1}{5a+2} < 0; \end{cases} \begin{cases} 5a+2 > 0, \\ a - \frac{1}{3} < 0; \end{cases} \begin{cases} a > -0,4, \\ a < \frac{1}{3}. \end{cases}$$

$-0,4 < a < \frac{1}{3}$ — решение системы неравенств.

Ответ: $(-0,4; \frac{1}{3})$.

560. По определению корнем уравнения является число, при подстановке которого в уравнение получается верное числовое равенство. Так как число $2 + \sqrt{5}$ является корнем уравнения $x^3 - 5x^2 + 3x + b = 0$, то $(2 + \sqrt{5})^3 - 5(2 + \sqrt{5})^2 + 3(2 + \sqrt{5}) + b = 0$ — верное числовое равенство, из которого находим, что

$$\begin{aligned} b &= -(2 + \sqrt{5})^3 + 5(2 + \sqrt{5})^2 - 3(2 + \sqrt{5}) = \\ &= -8 - 12\sqrt{5} - 30 - 5\sqrt{5} + 20 + 20\sqrt{5} + 25 - 6 - 3\sqrt{5} = 1. \end{aligned}$$

Итак, $b = 1$.

Ответ: $b = 1$.

561. Точка $M(3; 1)$ лежит вне заданной окружности, следовательно, через неё можно провести две касательные к этой окружности. Подставляя координаты этой точки в общий вид уравнения прямой $y = kx + b$, получим $1 = 3k + b$; $b = 1 - 3k$. Следовательно, уравнения прямых, проходящих через точку M , имеют вид $y = kx + 1 - 3k$.

Каждая из прямых должна иметь с данной окружностью одну общую точку. Следовательно, система уравнений $\begin{cases} x^2 + y^2 = 5, \\ y = kx + 1 - 3k \end{cases}$ должна иметь относительно x и y единственное решение. Подставляя значение y из второго уравнения системы в первое, получим

$$x^2 + (kx + 1 - 3k)^2 = 5; (1 + k^2)x^2 + 2(k - 3k^2)x + 9k^2 - 6k - 4 = 0.$$

Это уравнение имеет один корень, если

$$D = 4(k - 3k^2)^2 - 4(1 + k^2)(9k^2 - 6k - 4) = 0; 2k^2 - 3k - 2 = 0; k_1 = -0,5, k_2 = 2. \text{ Тогда } b_1 = 1 - 3k_1 = 2,5, b_2 = 1 - 3k_2 = -5.$$

Таким образом, искомые уравнения касательных имеют вид $y = -0,5x + 2,5$ и $y = 2x - 5$.

Ответ: $y = -0,5x + 2,5$; $y = 2x - 5$.

562. 1) Пусть $a = 0$, тогда $y = 2x + 2$; графиком этой функции является прямая, пересекающая ось Ox в одной точке, что удовлетворяет условию задачи.

2) Пусть $a \neq 0$, тогда графиком функции $y = ax^2 + 2x - a + 2$ является парабола.

Для того чтобы она пересекала ось Ox только в одной точке, необходимо равенство нулю дискриминанта уравнения $ax^2 + 2x - a + 2 = 0$.

$$D = 4 - 4a(2 - a) = 0; 4a^2 - 8a + 4 = 0; a^2 - 2a + 1 = 0; (a - 1)^2 = 0; a = 1.$$

Ответ: 0; 1.

563. Найдём координаты точки пересечения прямых $y = 2x + 3$ и $y = 2a - 3x$, решив систему уравнений:

$$\begin{cases} y = 2x + 3, \\ y = 2a - 3x; \end{cases} \Leftrightarrow \begin{cases} 2x + 3 = 2a - 3x, \\ y = 2x + 3; \end{cases} \Leftrightarrow \begin{cases} x = \frac{2a - 3}{5}, \\ y = \frac{4a + 9}{5}. \end{cases}$$

$\left(\frac{2a - 3}{5}; \frac{4a + 9}{5}\right)$ — искомые координаты.

Найдём ординату y_1 точки с абсциссой $x = \frac{2a-3}{5}$, лежащей на прямой

$$y = x: y_1 = \frac{2a-3}{5}.$$

Поскольку точка пересечения прямых $y = 2x + 3$ и $y = 2a - 3x$ лежит выше прямой $y = x$, то ордината $y_1 = \frac{2a-3}{5} < \frac{4a+9}{5}$.

Найдём значения параметра a , решив неравенство:

$$\frac{4a+9}{5} > \frac{2a-3}{5}; 4a+9 > 2a-3; 2a > -12; a > -6.$$

Ответ: $a \in (-6; +\infty)$.

564. Запишем уравнение прямой $y = kx + b$.

Точки $A(1; 2)$, $B(3; a+1)$, $C(a; 4)$ лежат на прямой, значит, $y(1) = 2$, $y(3) = a+1$, $y(a) = 4$ и имеет место система уравнений

$$\begin{cases} k+b=2, \\ 3k+b=a+1, \\ ak+b=4; \end{cases} \Leftrightarrow \begin{cases} b=2-k, \\ 3k+2-k=a+1, \\ ak+2-k=4; \end{cases} \Leftrightarrow$$

$$\Leftrightarrow \begin{cases} b=2-k, \\ k=\frac{a-1}{2}, \\ \frac{(a-1)^2}{2}=2; \end{cases} \Leftrightarrow \begin{cases} b=2-k, \\ k=\frac{a-1}{2}, \\ |a-1|=2; \end{cases} \Leftrightarrow$$

$$\Leftrightarrow \begin{cases} b=2-k, \\ k=\frac{a-1}{2}, \\ \begin{cases} a-1=2, \\ a-1=-2; \end{cases} \end{cases} \Leftrightarrow \begin{cases} b=2-k, \\ k=\frac{a-1}{2}, \\ \begin{cases} a=3, \\ a=-1. \end{cases} \end{cases}$$

При $a = -1$, $k = -1$, $b = 3$, $y = -x + 3$,
при $a = 3$, $k = 1$, $b = 1$, $y = x + 1$.

Ответ: $-1, 3$.

565. Найдём абсциссу x_0 точки пересечения прямых $y = 5x - 3$ и $y = a + 1 - 2x$, приравняв ординаты y . Получаем

$5x_0 - 3 = a + 1 - 2x_0$, откуда $x_0 = \frac{a+4}{7}$. Тогда ордината точки пересечения

прямых $y_0 = \frac{5a-1}{7}$. Далее находим ординату y_1 точки с абсциссой x_0 ,

лежащей на прямой $y = -x$: $y_1 = -\frac{a+4}{7}$. Поскольку точка пересечения прямых $y = 5x - 3$ и $y = a + 1 - 2x$ лежит ниже прямой $y = -x$, ордината y_1 должна быть больше ординаты y_0 . Следовательно, условие задачи выполняется при всех значениях параметра, удовлетворяющих неравенству $-\frac{a+4}{7} > \frac{5a-1}{7}$; $a < -0,5$.

Ответ: $a \in (-\infty; -0,5)$.

566. Для ответа на поставленный в условии вопрос достаточно определить, сколько общих точек имеют прямая $y = a$ и график функции $y = |x^2 - 6x + 4|$. Графиком функции $y = x^2 - 6x + 4$ является парабола с вершиной, абсцисса которой равна $x_0 = \frac{-(-6)}{2} = 3$, а ордината равна $y_0 = 3^2 - 6 \cdot 3 + 4 = -5$. Отражая часть графика $y = x^2 - 6x + 4$, расположенную ниже оси Ox , симметрично относительно оси Ox , получаем график функции $y = |x^2 - 6x + 4|$, эскиз которого изображён на рисунке 217.

Таким образом, при $a = 0$ прямая $y = a$ пересекает график $y = |x^2 - 6x + 4|$ в двух точках, при $0 < a < 5$ — в четырёх точках, при $a = 5$ — в трёх точках и при $a > 5$ — в двух точках.

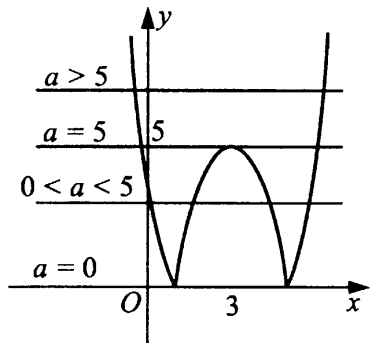


Рис. 217

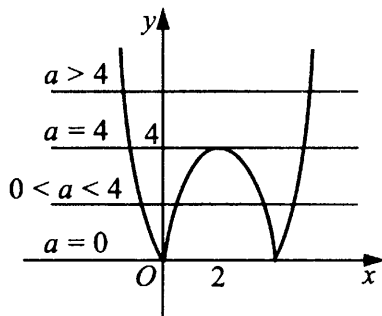


Рис. 218

Ответ: 2 при $a = 0$; 4 при $0 < a < 5$; 3 при $a = 5$; 2 при $a > 5$.

567. Определим, сколько общих точек имеют прямая $y = a$ и график функции $y = |x^2 - 4x|$. Графиком функции $y = x^2 - 4x$ является парабола, абсцисса вершины которой $x_0 = \frac{-(-4)}{2} = 2$, ордината $y_0 = 2^2 - 4 \cdot 2 = -4$.

Отражая часть графика $y = x^2 - 4x$, расположенную ниже оси Ox , симметрично относительно оси Ox , получаем график функции $y = |x^2 - 4x|$,

эскиз которого изображён на рисунке 218. Таким образом, при $a = 0$ прямая $y = a$ пересекает график $y = |x^2 - 4x|$ в двух точках, при $0 < a < 4$ — в четырёх точках, при $a = 4$ — в трёх точках и при $a > 4$ — в двух точках.

Ответ: 2 при $a = 0$; 4 при $0 < a < 4$; 3 при $a = 4$; 2 при $a > 4$.

568. Выразим y из первого уравнения системы $y = nx - 5$ и подставим во второе: $2x + 3n(nx - 5) = 7$. Выразим теперь x через n :

$$2x + 3n(nx - 5) = 7 \Leftrightarrow (3n^2 + 2)x - 15n = 7 \Leftrightarrow x = \frac{15n + 7}{3n^2 + 2}. \text{ Тогда}$$

$$y = nx - 5 = \frac{n(15n + 7)}{3n^2 + 2} - 5 = \frac{7n - 10}{3n^2 + 2}. \text{ Итак, система имеет решение,}$$

зависящее от параметра n : $x = \frac{15n + 7}{3n^2 + 2}$, $y = \frac{7n - 10}{3n^2 + 2}$. Так как $3n^2 + 2 > 0$, то, для того чтобы выполнялось условие $x > 0$, $y < 0$, необходимо и достаточно, чтобы n удовлетворяло системе неравенств $\begin{cases} 15n + 7 > 0, \\ 7n - 10 < 0. \end{cases}$

Решением системы является интервал $-\frac{7}{15} < n < \frac{10}{7}$. Целых значений n в этом интервале только два: $n = 0$; 1.

Ответ: 0; 1.

569. Выразим y из первого уравнения системы $y = 4 - 2nx$ и подставим во второе: $3x - 2n(4 - 2nx) = 5$. Выразим из этого уравнения x :

$$3x - 2n(4 - 2nx) = 5 \Leftrightarrow (4n^2 + 3)x - 8n = 5 \Leftrightarrow x = \frac{8n + 5}{4n^2 + 3}. \text{ Тогда}$$

$$y = 4 - 2nx = 4 - \frac{2n(8n + 5)}{4n^2 + 3} = \frac{12 - 10n}{4n^2 + 3}. \text{ Итак, система имеет ре-}$$

шение, зависящее от параметра n : $x = \frac{8n + 5}{4n^2 + 3}$, $y = \frac{12 - 10n}{4n^2 + 3}$. Так как $4n^2 + 3 > 0$, то, для того чтобы $x > 0$, $y > 0$, необходимо и достаточно, чтобы n удовлетворяло системе неравенств $\begin{cases} 8n + 5 > 0, \\ 12 - 10n > 0. \end{cases}$ Решением

системы является интервал $-\frac{5}{8} < n < \frac{6}{5}$. Целых значений n в этом интервале только два: $n = 0$; 1.

Ответ: 0; 1.

570. Для того чтобы график квадратичной функции $y = ax^2 + bx + c$ располагался ниже оси абсцисс, необходимо и достаточно выполнения следующих условий для соответствующего квадратного уравнения: $D < 0$,

$a < 0$. Для квадратного уравнения $ax^2 - 6x + a = 0$ имеем $D = 36 - 4a^2$.

Получаем систему неравенств

$$\begin{cases} a < 0, \\ 36 - 4a^2 < 0; \end{cases} \quad \begin{cases} a < 0, \\ 9 - a^2 < 0. \end{cases}$$

Откуда находим: $a \in (-\infty; -3)$ (см. рис. 219).

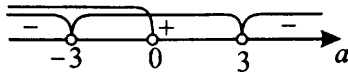


Рис. 219

Ответ: $(-\infty; -3)$.

571. Для того чтобы график квадратичной функции $y = ax^2 + bx + c$ располагался выше оси абсцисс, необходимо и достаточно для соответствующего квадратного уравнения выполнения условий: $D < 0$, $a > 0$.

Для квадратного уравнения $ax^2 - 2ax + 3 = 0$ имеем $D = 4a^2 - 12a$.

Получаем систему неравенств

$$\begin{cases} a > 0, \\ 4a^2 - 12a < 0; \end{cases} \Leftrightarrow \begin{cases} a > 0, \\ 4a(a - 3) < 0; \end{cases} \Leftrightarrow \begin{cases} a > 0, \\ a < 3. \end{cases}$$

Ответ: $(0; 3)$.

572. Для того чтобы график квадратичной функции $y = ax^2 + bx + c$ располагался выше оси абсцисс, необходимо и достаточно выполнения для соответствующего квадратного уравнения условий: $D < 0$, $a > 0$.

Для квадратного уравнения $ax^2 - 4x + a = 0$ имеем $D = 16 - 4a^2$. Получаем систему неравенств

$$\begin{cases} a > 0, \\ 16 - 4a^2 < 0; \end{cases} \Leftrightarrow \begin{cases} a > 0, \\ 4(2 - a)(2 + a) < 0. \end{cases}$$

Решая второе неравенство последней системы методом интервалов и учитывая, что $a > 0$, получим $a \in (2; +\infty)$.

Ответ: $(2; +\infty)$.

573. Для того чтобы график квадратичной функции $y = ax^2 + bx + c$ располагался ниже оси абсцисс, необходимо и достаточно выполнения для соответствующего квадратного уравнения условий: $D < 0$, $a < 0$.

Для квадратного уравнения $ax^2 - 8x + a = 0$ имеем $D = 64 - 4a^2$. Получаем систему неравенств

$$\begin{cases} a < 0, \\ 64 - 4a^2 < 0; \end{cases} \Leftrightarrow \begin{cases} a < 0, \\ 16 - a^2 < 0. \end{cases}$$

Откуда находим: $a \in (-\infty; -4)$ (см. рис. 220).

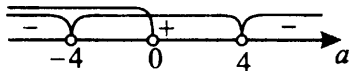


Рис. 220

Ответ: $(-\infty; -4)$.

574. Так как первая парабола пересекает ось Ox в точке $x = 2$, то $x = 2$ является корнем уравнения $y_1(x) = 0$. Пусть $x = a$ — второй корень уравнения $y_1(x) = 0$, тогда $y_1 = (x - a)(x - 2) = x^2 - x(a + 2) + 2a$; значит, $b = -(a + 2)$, $c = 2a$.

Поскольку $A(1; 2)$ — точка пересечения данных парабол, то справедлива система

$$\begin{cases} y_1(1) = 2, \\ y_2(1) = 2; \end{cases} \quad \begin{cases} 1 - (a + 2) + 2a = 2, \\ -1 + k + l = 2; \end{cases} \quad \begin{cases} a = 3, \\ k + l = 3. \end{cases}$$

Проекция вершины второй параболы на ось Ox — это абсцисса вершины, то есть точка $x = \frac{k}{2}$. Аналогично проекция вершины первой параболы —

точка $x = \frac{a + 2}{2}$. Из условия следует, что $\frac{k}{2} = \frac{a + 2}{2} + 1$. Так как $a = 3$, то

$\frac{k}{2} = \frac{5}{2} + 1 = 3,5$; $k = 7$. Подставив $k = 7$ во второе уравнение последней системы, получим $l = 3 - k = -4$. Таким образом, $k = 7$, $l = -4$.

Ответ: $k = 7$, $l = -4$.

575. Так как вторая парабола пересекает ось Ox в точке $x = 3$, то $x = 3$ является корнем уравнения $y_2(x) = 0$. Пусть $x = a$ — второй корень уравнения $y_2(x) = 0$, тогда $y_2 = -(x - a)(x - 3) = -x^2 + x(a + 3) - 3a$; значит, $d = a + 3$; $f = -3a$. Поскольку $A(2; 3)$ — точка пересечения данных парабол, то справедлива система

$$\begin{cases} y_1(2) = 3, \\ y_2(2) = 3; \end{cases} \quad \begin{cases} 4 + 2b + c = 3, \\ -4 + 2(a + 3) - 3a = 3; \end{cases} \quad \begin{cases} 2b + c = -1, \\ a = -1. \end{cases} \quad (1)$$

Проекция вершины первой параболы на ось Ox — это абсцисса вершины, то есть точка $x = -\frac{b}{2}$. Аналогично проекция вершины второй параболы

на ось Ox — точка $x = \frac{a + 3}{2}$. Из условия следует, что $\frac{a + 3}{2} = -\frac{b}{2} + 2$.

Так как $a = -1$, то $\frac{b}{2} = 2 - \frac{a+3}{2} = 1$; $b = 2$. Подставив $b = 2$ в уравнение (1), получим $c = -1 - 4 = -5$. Таким образом, $b = 2$, $c = -5$.

Ответ: $b = 2$, $c = -5$.

576. Если данная парабола симметрична относительно прямой $x = -2$, то на этой прямой лежит её вершина, то есть $x_0 = -\frac{b}{2} = -2$; $b = 4$.

Парабола $y = x^2 + bx + c$ касается прямой $y = 2x + 3$ тогда и только тогда, когда уравнение $x^2 + bx + c = 2x + 3$ имеет ровно одно решение, то есть дискриминант уравнения $x^2 + (b-2)x + c-3 = 0$ равен нулю: $D = (b-2)^2 - 4(c-3) = 0$; $(b-2)^2 = 4(c-3)$. Подставив $b = 4$, получим: $4 = 4(c-3)$; $c = 4$.

Ответ: $b = 4$; $c = 4$.

577. Если данная парабола симметрична относительно прямой $x = 3$, то на этой прямой лежит её вершина, то есть $x_0 = -\frac{b}{2} = 3$; $b = -6$.

Парабола $y = x^2 + bx + c$ касается прямой $y = 2x - 5$ тогда и только тогда, когда уравнение $x^2 + bx + c = 2x - 5$ имеет ровно одно решение, то есть дискриминант уравнения $x^2 + (b-2)x + c+5 = 0$ равен нулю: $D = (b-2)^2 - 4(c+5) = 0$; $(b-2)^2 = 4(c+5)$. Подставив $b = -6$, получим $64 = 4(c+5)$; $c+5 = 16$; $c = 11$.

Ответ: $b = -6$; $c = 11$.

578. Уравнение $x^2 - 2bx + b + 6 = 0$ имеет корни тогда и только тогда, когда его дискриминант неотрицателен. $D = 4b^2 - 4(b+6) \geq 0$; $4(b-3)(b+2) \geq 0$; $b \in (-\infty; -2] \cup [3; +\infty)$. Если корни x_1, x_2 отрицательны, то, согласно теореме Виета, имеем

$$\begin{cases} x_1 + x_2 = 2b < 0, \\ x_1 x_2 = b + 6 > 0; \end{cases} \Leftrightarrow -6 < b < 0.$$

Учитывая, что $b \in (-\infty, -2] \cup [3, +\infty)$, получаем, что искомыми значениями параметра b являются $b \in (-6; -2]$.

Ответ: $(-6; -2]$.

579. Уравнение $x^2 - 2bx + b + 6 = 0$ имеет корни тогда и только тогда, когда его дискриминант неотрицателен. $D = 4b^2 - 4(b+6) \geq 0$; $4(b-3)(b+2) \geq 0$; $b \in (-\infty; -2] \cup [3; +\infty)$. Если корни x_1, x_2 положительны, то, согласно теореме Виета, имеем

$$\begin{cases} x_1 + x_2 = 2b > 0, \\ x_1 x_2 = b + 6 > 0; \end{cases} \Leftrightarrow b > 0.$$

Учитывая, что $b \in (-\infty, -2] \cup [3, +\infty)$, получаем, что искомыми значениями параметра b являются $b \in [3, +\infty)$.

Ответ: $[3, +\infty)$.

580. Графиком функции $y = f(x)$ является непрерывная кривая (см. рис. 221), совпадающая при $x < -2$ с графиком гиперболы $y = \frac{4}{x}$, при $-2 \leq x \leq 2$ с графиком прямой $y = \frac{x}{2} - 1$ и при $x > 2$ с графиком параболы $y = x^2 - 6x + 8 = (x - 2)(x - 4)$. Вершина параболы находится в точке $(3; -1)$, ветви направлены вверх. По графику определяем, что прямая $y = t$ имеет с графиком функции $y = f(x)$ две общие точки при $-2 < t < -1$ и при $t = 0$.

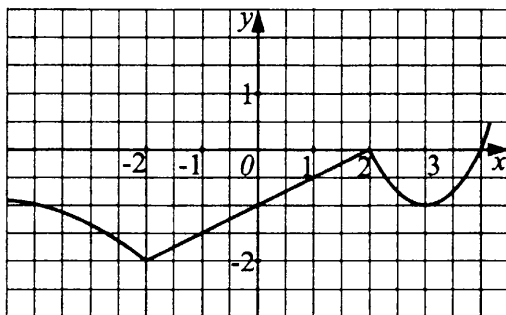


Рис. 221

Ответ: $t \in (-2; -1) \cup \{0\}$.

581. Графиком функции $y = f(x)$ является непрерывная кривая (см. рис. 222), совпадающая при $x < -1$ с графиком параболы $y = 2x^2 + 8x + 8 = 2(x + 2)^2$, вершина которой находится в точке $(-2; 0)$, а ветви направлены вверх; при $-1 \leq x < 0$ с графиком прямой $y = -x + 1$; при $0 \leq x \leq 3$ с графиком прямой $y = x + 1$; при $x > 3$ с графиком гиперболы $y = \frac{12}{x}$. По графику определяем, что прямая $y = t$ имеет с графиком функции $y = f(x)$ три общие точки при $0 < t < 1$ и при $2 < t < 4$.

Ответ: $t \in (0; 1) \cup (2; 4)$.

582. Графиком функции $y = f(x)$ является непрерывная кривая (см. рис. 223), совпадающая при $x \leq -3$ с графиком гиперболы $y = \frac{6}{x}$, при

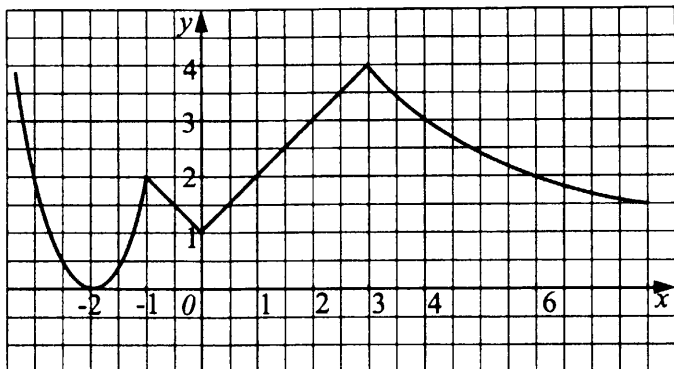


Рис. 222

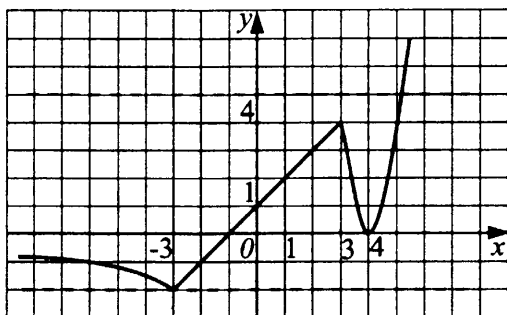


Рис. 223

$-3 < x \leq 3$ с графиком прямой $y = x + 1$ и при $x > 3$ с графиком параболы $y = 4x^2 - 32x + 64 = (2x - 8)^2$.

Вершина параболы находится в точке $(4; 0)$, ветви направлены вверх. По рисунку определяем, что прямая $y = t$ имеет с графиком функции $y = f(x)$ только одну общую точку при $t = -2$ и при $t > 4$.

Ответ: $\{-2\} \cup (4; +\infty)$.

583. Графиком функции $y = f(x)$ является непрерывная кривая (см. рис. 224), совпадающая при $x \leq -1$ с графиком гиперболы $y = -\frac{1}{x}$, при $-1 < x \leq 1$ с графиком прямой $y = -x$ и при $x > 1$ с графиком параболы $y = -x^2 + 4x - 4 = -(x - 2)^2$. Вершина параболы находится в точке $(2; 0)$, ветви направлены вниз. По рисунку определяем, что прямая $y = t$ имеет с графиком функции $y = f(x)$ три общие точки при $-1 < t < 0$.

Ответ: $(-1; 0)$.

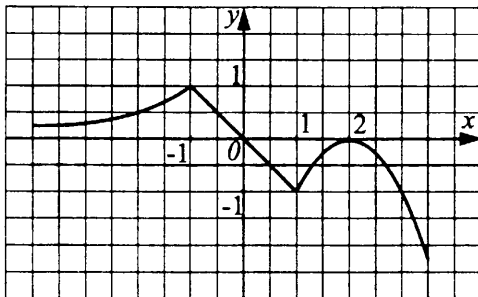


Рис. 224

584. Прямая $y = kx + 4$ не пересекает параболу $y = 3 - 2x - x^2$ тогда и только тогда, когда дискриминант уравнения $3 - 2x - x^2 = kx + 4$ отрицателен.

То есть $D = (k + 2)^2 - 4 = k^2 + 4k + 4 - 4 = k^2 + 4k = k(k + 4) < 0$.

Последнее неравенство имеет решение $-4 < k < 0$. Наибольшее целое значение из этого промежутка $k = -1$.

Ответ: -1 .

585. Прямая $y = kx - 3$ имеет с параболой $y = x^2 - 2x + 1$ одну общую точку тогда и только тогда, когда дискриминант уравнения $x^2 - 2x + 1 = kx - 3$; $x^2 - (2 + k)x + 4 = 0$ равен нулю.

То есть $D = (k + 2)^2 - 4 \cdot 4 = k^2 + 4k - 12 = 0$. Корни: $k_1 = -6$; $k_2 = 2$. При этих значениях k прямая $y = kx - 3$ и парабола $y = x^2 - 2x + 1$ имеют одну общую точку.

Ответ: $-6; 2$.

586. Прямая $y = kx - 2$ не пересекает параболу $y = x^2 - x - 1$ тогда и только тогда, когда уравнение $x^2 - x - 1 = kx - 2$; $x^2 - (1 + k)x + 1 = 0$ не имеет решений.

То есть $D = (k + 1)^2 - 4 < 0$; $k^2 + 2k - 3 < 0$; $-3 < k < 1$.

Так как по условию $k \geq 0$, то получаем $0 \leq k < 1$.

Ответ: $0 \leq k < 1$.

587. Прямая $y = kx - \frac{41}{4}$ и парабола $y = x^2 + 3x - 4$ имеют не более одной точки пересечения тогда и только тогда, когда дискриминант квадратного уравнения $x^2 + 3x - 4 = kx - \frac{41}{4}$; $x^2 + (3 - k)x + 6,25$ меньше либо равен нулю. $D = (3 - k)^2 - 25 = k^2 - 6k - 16 \leq 0$.

Решениями этого неравенства будут $-2 \leq k \leq 8$. Но так как k — число отрицательное, то $-2 \leq k < 0$.

Ответ: $-2 \leq k < 0$.

588. Прямая $y = kx + 5$ имеет с параболой $y = x^2 - 4x + 14$ единственную общую точку тогда и только тогда, когда уравнение $x^2 - 4x + 14 = kx + 5$ имеет один корень.

То есть $D = (k + 4)^2 - 4 \cdot 9 = k^2 + 8k - 20 = 0$. Корни: $k_1 = -10$, $k_2 = 2$. Но так как по условию k — число отрицательное, то $k = -10$.

Ответ: -10 .

589. Прямая $y = kx - 1$ имеет с параболой $y = x^2 + 2x + 3$ единственную общую точку тогда и только тогда, когда уравнение $x^2 + 2x + 3 = kx - 1$; $x^2 + (2 - k)x + 4 = 0$ имеет один корень.

То есть $D = (2 - k)^2 - 4 \cdot 4 = k^2 - 4k - 12 = 0$. Решая полученное уравнение, найдём $k_1 = 6$, $k_2 = -2$. Но так как по условию $k < 0$, то выбираем ответ $k = -2$.

Ответ: -2 .

590. Прямая $y = kx - 13$ пересекает параболу $y = x^2 + 3x - 4$ в двух точках тогда и только тогда, когда уравнение $x^2 + 3x - 4 = kx - 13$; $x^2 + (3 - k)x + 9 = 0$ имеет два различных решения.

То есть $D = (3 - k)^2 - 4 \cdot 9 = k^2 - 6k - 27 > 0$. Это неравенство имеет решения: $k < -3$ или $k > 9$. Так как по условию $k > 0$, то получаем ответ $k > 9$.

Ответ: $k > 9$.

591. Графики функций $y = kx - 5$ и $y = x^2 - 2x - 1$ пересекаются в двух точках тогда и только тогда, когда уравнение $x^2 - 2x - 1 = kx - 5$; $x^2 - (k + 2)x + 4 = 0$ имеет два различных корня.

То есть $D = (k + 2)^2 - 16 > 0$; $k^2 + 4k - 12 > 0$; $(k + 6)(k - 2) > 0$; $k \in (-\infty; -6) \cup (2; +\infty)$. Так как по условию $k > 0$, то искомые значения $k \in (2; +\infty)$.

Ответ: $(2; +\infty)$.

592. Графики функций $y = kx - 8$ и $y = x^2 + 5x + 1$ не имеют общих точек тогда и только тогда, когда уравнение $kx - 8 = x^2 + 5x + 1$; $x^2 + (5 - k)x + 9 = 0$ не имеет действительных корней.

То есть $D = (5 - k)^2 - 36 = k^2 - 10k - 11 = (k + 1)(k - 11) < 0$. Решением последнего неравенства является интервал $-1 < k < 11$. Так как $k > 0$, то $0 < k < 11$.

Ответ: $0 < k < 11$.

593. Графики функций $y = kx - 11$ и $y = x^2 + 6x + 25$ не имеют общих точек тогда и только тогда, когда уравнение $kx - 11 = x^2 + 6x + 25$; $x^2 + (6 - k)x + 36 = 0$ не имеет действительных корней.

То есть $D = (6 - k)^2 - 144 = k^2 - 12k - 108 = (k + 6)(k - 18) < 0$.

Решением последнего неравенства является интервал $-6 < k < 18$. Так как $k > 0$, то $0 < k < 18$.

Ответ: $0 < k < 18$.

$$594. \begin{cases} 8 - 6x > 4x - 12, \\ 3x + 16 < 5x + 4a; \end{cases} \Leftrightarrow \begin{cases} 10x < 20, \\ 2x > 16 - 4a; \end{cases} \Leftrightarrow \begin{cases} x < 2, \\ x > 8 - 2a. \end{cases}$$

Отметим на числовых осях области, на которых выполняется каждое из неравенств (см. рис. 225).

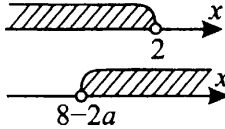


Рис. 225

Так как по условию задачи система имеет только одно целое решение, то $x = 1$, следовательно, $0 \leq 8 - 2a < 1$; $-8 \leq -2a < -7$; $4 \geq a > \frac{7}{2}$; $3,5 < a \leq 4$.

Ответ: $3,5 < a \leq 4$.

$$595. \begin{cases} 12 + 7x < 9x - 6, \\ x - 9 < 6a - 2x; \end{cases} \Leftrightarrow \begin{cases} 18 < 2x, \\ 3x < 6a + 9; \end{cases} \Leftrightarrow \begin{cases} x > 9, \\ x < 2a + 3. \end{cases}$$

Так как по условию задачи система имеет ровно два целых решения, то $11 < 2a + 3 \leq 12$ (см. рис. 226).

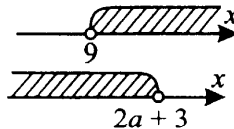


Рис. 226

Из этого неравенства получим $8 < 2a \leq 9$; $4 < a \leq \frac{9}{2}$; $4 < a \leq 4,5$.

Ответ: $4 < a \leq 4,5$.

596. Заданная парабола имеет с осью Ox не менее одной общей точки тогда и только тогда, когда дискриминант уравнения $x^2 + 3x - 2c = 0$ неотрицателен. Учитывая, что $c < 0$, получим систему неравенств

$$\begin{cases} 9 + 8c \geq 0, \\ c < 0; \end{cases} \Leftrightarrow \begin{cases} c \geq -\frac{9}{8}, \\ c < 0. \end{cases}$$

Ответ: $-\frac{9}{8} \leq c < 0$.

597. Для того чтобы парабола $y = px^2 - 4x + 3 = 0$ не имела с осью Ox ни одной общей точки, дискриминант уравнения $px^2 - 4x + 3 = 0$ должен быть меньше нуля.

$$D = 16 - 12p < 0; \quad p > \frac{4}{3}.$$

Ответ: $p > \frac{4}{3}$.

598. Графики функций $y = px^2 - 24x + 1$ и $y = 12x^2 - 2px - 1$ пересекаются в двух точках, если уравнение $px^2 - 24x + 1 = 12x^2 - 2px - 1$ имеет два различных действительных корня. Выполнив преобразования, получаем $(12 - p)x^2 - 2(p - 12)x - 2 = 0$. Уравнение $ax^2 + 2tx + c = 0$ имеет два

различных действительных корня, если $\begin{cases} a \neq 0; \\ \frac{D}{4} > 0. \end{cases}$

В данном случае имеем

$$\begin{cases} 12 - p \neq 0, \\ (p - 12)^2 + 2(12 - p) > 0; \end{cases} \Leftrightarrow \begin{cases} p \neq 12, \\ (p - 12)(p - 14) > 0; \end{cases} \Leftrightarrow \begin{cases} p < 12, \\ p > 14. \end{cases}$$

Ответ: $p \in (-\infty; 12) \cup (14; +\infty)$.

599. Прямая $y = kx + 10$ и парабола $y = -x^2 - 3x + 6$ не имеют общих точек, если уравнение $kx + 10 = -x^2 - 3x + 6$ не имеет действительных корней, то есть $D < 0$. Получим $x^2 + (3+k)x + 4 = 0$; $D = (3+k)^2 - 16 < 0$; $9 + 6k + k^2 - 16 < 0$; $k^2 + 6k - 7 < 0$; $(k - 1)(k + 7) < 0$; $-7 < k < 1$. По условию $k < 0$, следовательно, $-7 < k < 0$.

Ответ: $-7 < k < 0$.

600. Если уравнение $ax^2 - 4x + 2 = 0$ имеет два различных корня, то $a \neq 0$ и дискриминант $D > 0$. По теореме Виета произведение корней $x_1 x_2$ приведённого квадратного уравнения есть его свободный член. Обозначим корни уравнения $x^2 - \frac{4}{a}x + \frac{2}{a} = 0$ через x_1 и x_2 . Тогда $x_1 \cdot x_2 = \frac{2}{a}$,

и так как корни имеют разные знаки, то $\frac{2}{a} < 0$, $a < 0$. В этом случае

$$D = \frac{16}{a^2} - \frac{8}{a} > 0.$$

Наибольшее целое значение a , удовлетворяющее неравенству $a < 0$, есть $a = -1$.

Ответ: -1 .

601. По условию абсцисса вершины данной параболы $x_0 = -\frac{b}{2} = -4$.

Отсюда $b = 8$. Итак, уравнение параболы $y = x^2 + 8x + c$. Так как вершина параболы находится в точке $K(-4; 7)$, то $7 = (-4)^2 + 8(-4) + c$; $7 = 16 - 32 + c$. Отсюда $c = 23$.

Ответ: $b = 8$; $c = 23$.

602. Данная прямая пересекает заданную окружность, если имеет решения система уравнений $\begin{cases} x^2 + (y - 4)^2 = 2, \\ y = kx + 2. \end{cases}$

Подставив значение y из второго уравнения системы в первое, получим $x^2 + (kx - 2)^2 = 2$; $(k^2 + 1)x^2 - 4kx + 2 = 0$. Для того чтобы прямая пересекла окружность в двух точках, дискриминант последнего уравнения должен быть больше нуля: $D = 16k^2 - 8k^2 - 8 > 0$; $k^2 > 1$; $|k| > 1$. Так как k — число отрицательное, то $k < -1$.

Ответ: $k < -1$.

603. Данная прямая пересекает заданную окружность, если имеет решения система уравнений $\begin{cases} y = x + k + 1, \\ (x + 1)^2 + (y - 1)^2 = 2. \end{cases}$

Подставив значение y из первого уравнения системы во второе, получим $(x + 1)^2 + (x + k + 1 - 1)^2 = 2$; $2x^2 + 2(1 + k)x - 1 + k^2 = 0$.

Прямая пересечёт окружность в двух точках, если дискриминант полученного уравнения будет больше нуля: $\frac{D}{4} = (1 + k)^2 + 2 - 2k^2 > 0$; $k^2 - 2k - 3 < 0$; $-1 < k < 3$. Нам нужны неположительные значения k , значит, $-1 < k \leq 0$.

Ответ: $-1 < k \leq 0$.

604. Данные прямая и парабола не имеют общих точек, если уравнение $3x^2 - 2ax + 4 = a - 2$ не имеет решений. В этом случае дискриминант

квадратного уравнения $3x^2 - 2ax + 6 - a = 0$ должен быть меньше нуля.

$$\frac{D}{4} = a^2 - 18 + 3a; a^2 + 3a - 18 < 0; -6 < a < 3.$$

Ответ: $-6 < a < 3$.

605. Данные прямая и парабола не имеют общих точек, если уравнение $2x^2 + 2kx + 6 = -k - 6$ не имеет решений. В этом случае дискриминант квадратного уравнения $2x^2 + 2kx + 12 + k = 0$ должен быть меньше нуля.

$$\frac{D}{4} = k^2 - 24 - 2k; k^2 - 2k - 24 < 0; -4 < k < 6.$$

Ответ: $-4 < k < 6$.

606. Прямая $y = kx - 2$ не имеет общих точек с параболой $y = x^2 + 3x - 1$ тогда и только тогда, когда уравнение $x^2 + 3x - 1 = kx - 2$;

$x^2 + (3 - k)x + 1 = 0$ не имеет корней, то есть $D = (3 - k)^2 - 4 < 0$.

Прямая не имеет общих точек с параболой $y = x^2 - x + 2$ тогда и только тогда, когда уравнение $x^2 - x + 2 = kx - 2$; $x^2 - (1 + k)x + 4 = 0$ не имеет корней, то есть $D = (1 + k)^2 - 16 < 0$. Следовательно, данная прямая не имеет общих точек с обеими параболой, если выполняется система неравенств

$$\begin{cases} (3 - k)^2 - 4 < 0, \\ (1 + k)^2 - 16 < 0; \end{cases} \Leftrightarrow \begin{cases} k^2 - 6k + 5 < 0, \\ k^2 + 2k - 15 < 0; \end{cases} \Leftrightarrow \begin{cases} 1 < k < 5, \\ -5 < k < 3; \end{cases} \Leftrightarrow \\ \Leftrightarrow 1 < k < 3.$$

Ответ: $1 < k < 3$.

607. Прямая $y = kx + 5$ не имеет общих точек с параболой, если уравнения $kx + 5 = -2x^2 - 2x + 3$ и $kx + 5 = x^2 + 5x + 21$ не имеют решений. В этом случае их дискриминанты отрицательны:

$$\begin{cases} (k + 2)^2 - 4 \cdot 2 \cdot 2 < 0, \\ (5 - k)^2 - 4 \cdot 16 < 0; \end{cases} \Leftrightarrow \begin{cases} k^2 + 4k - 12 < 0, \\ k^2 - 10k - 39 < 0; \end{cases} \Leftrightarrow \\ \Leftrightarrow \begin{cases} -6 < k < 2, \\ -3 < k < 13; \end{cases} \Leftrightarrow -3 < k < 2.$$

Ответ: $-3 < k < 2$.

608. Построим график данной функции (см.рис. 227).

Проведём прямую OA , проходящую через начало координат и точку с координатами $(-4; -4)$, и прямую OB , проходящую через начало координат и параллельную прямым $y = 2x + 4$ и $y = 2x - 12$. Прямая $y = ax$ имеет три общие точки с графиком данной функции тогда и только тогда, когда она лежит внутри угла AOB , следовательно, $1 < a < 2$.

Ответ: $1 < a < 2$.

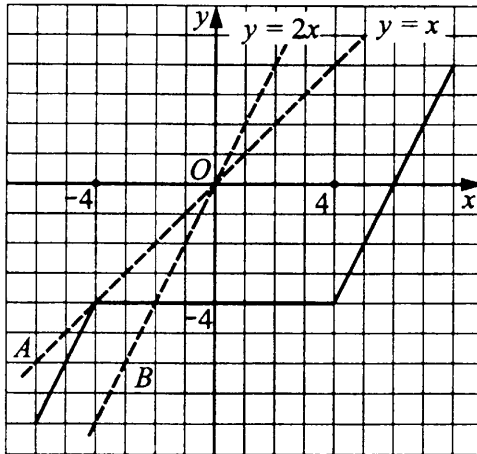


Рис. 227

609. Рассмотрим функцию $y(x) = 2x^2 + 2(a+2)x + a + 6$. Её графиком является парабола, ветви которой направлены вверх. Значения параметра a , при которых все решения неравенства $y(x) < 0$ являются положительными числами, можно найти из условий

$$\begin{cases} D < 0, \\ \begin{cases} D \geq 0, \\ y(0) \geq 0, \\ x_0 \geq 0, \end{cases} \end{cases}$$

где D — дискриминант уравнения $y(x) = 0$, x_0 — абсцисса вершины параболы $y(x)$.

Решаем полученную совокупность неравенств:

$$\begin{cases} 4a^2 + 8a - 32 < 0, \\ \begin{cases} 4a^2 + 8a - 32 \geq 0, \\ a + 6 \geq 0, \\ -\frac{2(a+2)}{4} \geq 0; \end{cases} \end{cases} \Leftrightarrow \begin{cases} -4 < a < 2, \\ \begin{cases} a \leq -4, \\ a \geq 2, \\ a \geq -6, \\ a \leq -2; \end{cases} \end{cases} \Leftrightarrow \begin{cases} -4 < a < 2, \\ -6 \leq a \leq -4; \end{cases} \Leftrightarrow \\ \Leftrightarrow -6 \leq a < 2. \end{cases}$$

Ответ: $-6 \leq a < 2$.

Замечание. При $D < 0$ неравенство $y(x) < 0$ не имеет решений. Это означает, что множество решений неравенства не содержит неположительных чисел, то есть выполняется условие задачи.

610. Рассмотрим функцию $y(x) = 2x^2 + 2(a-2)x + 6 - a$. Её графиком является парабола, ветви которой направлены вверх. Значения параметра a , при которых все решения неравенства $y(x) < 0$ являются отрицательными

ми числами, можно найти из условий

$$\begin{cases} D < 0, \\ D \geq 0, \\ y(0) \geq 0, \\ x_0 \leq 0, \end{cases}$$

где D — дискриминант уравнения $y(x) = 0$, x_0 — абсцисса вершины параболы $y(x)$. Решаем полученную совокупность неравенств:

$$\begin{cases} 4a^2 - 8a - 32 < 0, \\ \begin{cases} 4a^2 - 8a - 32 \geq 0, \\ 6 - a \geq 0, \\ -\frac{2(a-2)}{4} \leq 0; \end{cases} \end{cases} \Leftrightarrow \begin{cases} -2 < a < 4, \\ \begin{cases} a \geq 4, \\ a \leq -2, \\ a \leq 6, \\ a \geq 2; \end{cases} \end{cases} \Leftrightarrow \begin{cases} -2 < a < 4, \\ 4 \leq a \leq 6; \end{cases} \Leftrightarrow \\ \Leftrightarrow -2 < a \leq 6. \end{cases}$$

Ответ: $-2 < a \leq 6$.

Замечание. При $D < 0$ неравенство $y(x) < 0$ не имеет решений. Это означает, что множество решений неравенства не содержит неотрицательных чисел, то есть выполняется условие задачи.

612. Данное неравенство эквивалентно неравенству $x^2 + (4a - 3)x + 1,75 - 3a \leq 0$. Это неравенство не имеет решений, когда дискриминант D соответствующего квадратного уравнения меньше нуля. Вычислим $D = (4a - 3)^2 - 4(1,75 - 3a) = 16a^2 - 12a + 2 = 2(8a^2 - 6a + 1)$. Решим неравенство $8a^2 - 6a + 1 < 0$. Для этого решим уравнение $8a^2 - 6a + 1 = 0$.

Его корни $a_1 = \frac{1}{4}$ и $a_2 = \frac{1}{2}$, а решение неравенства есть $\frac{1}{4} < a < \frac{1}{2}$.

Ответ: $\frac{1}{4} < a < \frac{1}{2}$.

613. Неравенство $ax^2 + (a - 3)x + a > 0$ выполняется при любых x , если $a > 0$ и дискриминант уравнения $ax^2 + (a - 3)x + a = 0$

$D = (a - 3)^2 - 4a \cdot a < 0$. Получаем

$$\begin{cases} a^2 - 6a + 9 - 4a^2 < 0, \\ a > 0; \end{cases} \Leftrightarrow \begin{cases} a^2 + 2a - 3 > 0, \\ a > 0; \end{cases} \Leftrightarrow \\ \begin{cases} (a - 1)(a + 3) > 0, \\ a > 0. \end{cases}$$

Решая методом интервалов последнюю систему (см. рис. 228), получим $a > 1$.

Ответ: $a > 1$.




Рис. 228

615. Построим график функции $y = ||4x - 5| - 1|$ (см. рис. 229).

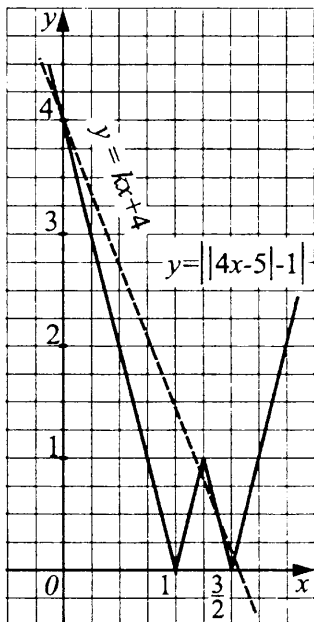


Рис. 229

Прямая $y = kx + 4$ проходит через точку $(0; 4)$ при любом значении параметра k . При $k = -4$ прямая $y = kx + 4$ имеет бесконечное множество общих точек с графиком данной функции. При $k \neq -4$ для выполнения условия задачи необходимо, чтобы прямая $y = kx + 4$ лежала «не выше» точки $(\frac{5}{4}; 1)$ и «не ниже» точки $(0; \frac{3}{2})$. Запишем уравнения прямых, проходящих через точки $(0; 4)$, $(\frac{3}{2}; 0)$ и $(0; 4)$, $(\frac{5}{4}; 1)$:

$$1) \begin{cases} 4 = 0 \cdot k + b, \\ 0 = \frac{3}{2}k + b; \end{cases} \quad k = -\frac{8}{3}, b = 4; y = -\frac{8}{3}x + 4;$$

$$2) \begin{cases} 4 = 0 \cdot k + b, \\ 1 = \frac{5}{4}k + b; \end{cases} \quad k = -\frac{12}{5}, b = 4; y = -\frac{12}{5}x + 4.$$

Из вышесказанного следует, что условие задачи выполняется при $-\frac{12}{5} \leq k \leq -\frac{8}{3}$ и $k = -4$.

Ответ: $k = -4, -\frac{12}{5} \leq k \leq -\frac{8}{3}$.

616. Построим график функции $y = ||3x - 2| - 4|$ (см. рис. 230).

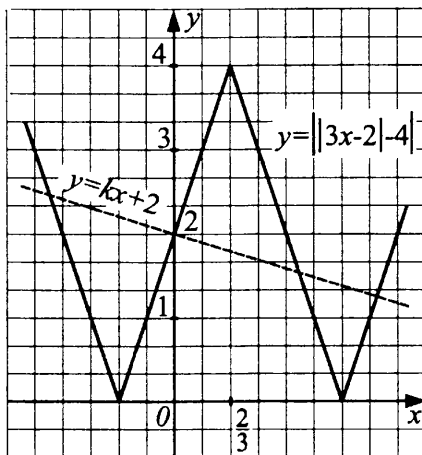


Рис. 230

Прямая $y = kx + 2$ проходит через точку $(0; 2)$ при любом значении параметра k . При $k = 3$ прямая $y = kx + 2$ имеет бесконечное множество общих точек с графиком данной функции. При $k > 3$ $y = kx + 2$ имеет единственную общую точку с графиком данной функции, значит, $k \leq 3$. При $k = -1$ $y = kx + 2$ имеет три общие точки с графиком данной функции, а при $k < -1$ графики функций $y = kx + 2$ и $y = ||3x - 2| - 4|$ имеют менее трёх общих точек, значит, $k \geq -1$. При $-1 \leq k \leq 3$ условие задачи выполняется.

Ответ: $-1 \leq k \leq 3$.

617. Будем решать эту задачу графически. Для этого построим в одной системе координат графики функций $y = kx$ и $y = y(x)$, имея в виду, что прямая $y = kx$ проходит через начало координат, а параметр k есть угловой коэффициент этой прямой. При различных значений k прямая

$y = kx$, проходящая через начало координат, принимает разные положения (см. рис. 231).

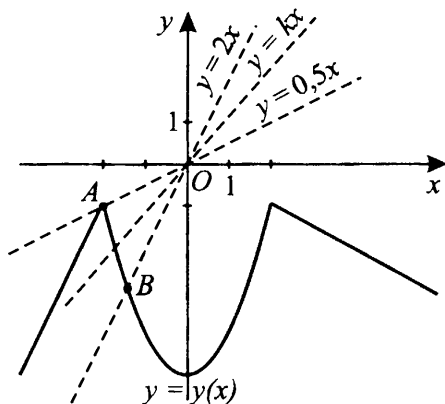


Рис. 231

Прямая $y = kx$ и кривая $y = y(x)$ пересекаются в двух различных точках тогда и только тогда, когда прямая $y = kx$ будет проходить внутри угла AOB , где прямая OB задана уравнением $y = 2x$, а прямая OA — уравнением $y = 0,5x$.

При любом другом k прямая $y = kx$ пересекает график функции $y = y(x)$ либо не более, чем в одной точке, либо в бесконечном числе точек при $k = -0,5$.

Таким образом, $0,5 < k < 2$.

Ответ: $0,5 < k < 2$.

618. Построим график данной функции

$$y = \begin{cases} 3x + 5, & \text{если } x < -2, \\ -x + 2, & \text{если } -2 < x \leq 2, \\ x - 2, & \text{если } x > 2 \end{cases}$$

(см. рис. 232).

Прямая $y = kx$ пересекает график функции в двух различных точках, если:

1) угловой коэффициент прямой больше углового коэффициента прямой $y = 0$ и меньше либо равен угловому коэффициенту прямой, проходящей через точку с координатами $(-2; -1)$;

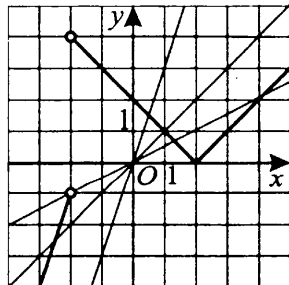


Рис. 232

2) угловой коэффициент прямой больше либо равен угловому коэффициенту прямой, параллельной прямой $y = x - 2$, и меньше углового коэффициента прямой, параллельной прямой $y = 3x + 5$.

1. Найдём угловой коэффициент прямой, проходящей через точку с координатами $(-2; -1)$: $-1 = -2k$, $k = 0,5$.

Угловой коэффициент прямой $y = 0$ равен 0. Получаем $0 < k \leq 0,5$.

2. Угловой коэффициент прямой, параллельной прямой $y = x - 2$, равен 1, а прямой, параллельной прямой $y = 3x + 5$, равен 3. Получаем $1 \leq k < 3$. Прямая $y = kx$ имеет две общие точки с графиком заданной функции, если $0 < k \leq 0,5$ и $1 \leq k < 3$.

Ответ: $(0; 0,5] \cup [1; 3)$.

619. Будем решать эту задачу графически. Для этого построим в одной системе координат графики функций $y = kx$ и $y = \begin{cases} 3x + 3, & x < 0, \\ x - 2, & 0 \leq x < 1, \\ -2x + 1, & x \geq 1. \end{cases}$

Для различных значений k прямая $y = kx$, проходящая через начало координат, принимает разные положения.

Из рисунка 233 следует, что $k \in (-\infty; -2]$ или $k = -1$, так как для всех других k прямая $y = kx$ будет иметь с кривой или одну общую точку, или три общие точки, или не будет иметь ни одной.

Ответ: $k \in (-\infty; -2] \cup \{-1\}$.

621. Построим в одной системе координат данный прямоугольник (с его диагоналями) и прямую $y = kx$ (см. рис. 234).

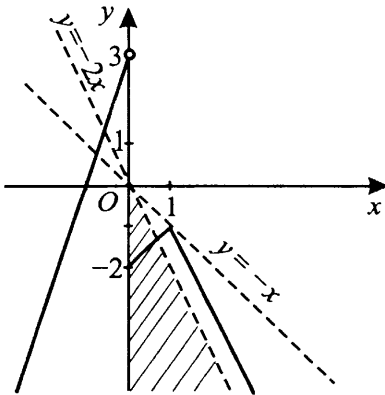


Рис. 233

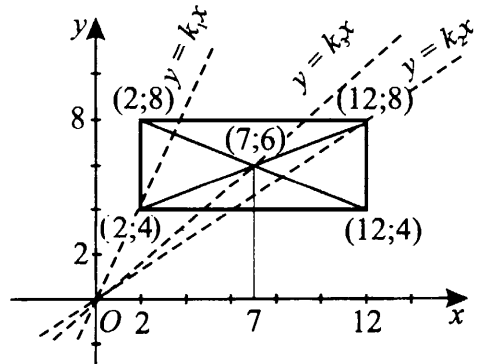


Рис. 234

Пусть $y = k_1x$ — прямая, проходящая через точки $(0; 0)$ и $(2; 4)$; $y = k_2x$ — прямая, проходящая через точки $(0; 0)$ и $(12; 8)$; $y = k_3x$ — прямая, проходящая через точки $(0; 0)$ и $(7; 6)$. Тогда прямая $y = kx$ имеет ровно две общие точки с множеством точек, принадлежащих диагоналям этого прямоугольника, тогда и только тогда, когда $k_1 \leq k \leq k_2$ и $k \neq k_3$.

Легко видеть, что $k_1 = 2$, $k_2 = \frac{2}{3}$, $k_3 = \frac{6}{7}$.

Ответ: $\frac{2}{3} \leq k < \frac{6}{7}$; $\frac{6}{7} < k \leq 2$.

622. Рассмотрим $\triangle ABD$ и $\triangle ACD$.

$AB = CD$ как диаметры одной окружности; $\angle BDA = \angle CAD = 90^\circ$ как вписанные углы, опирающиеся на диаметры; $\angle ABD = \angle DCA$ как вписанные углы, опирающиеся на дугу AD .

Следовательно, $\triangle ABD = \triangle ACD$ по гипотенузе и острому углу.

623. Пусть $AC = a$, тогда $R = \frac{2 \cdot 3 \cdot a}{4S} = \frac{6a}{4 \cdot \frac{3\sqrt{15}}{4}} = \frac{2a}{\sqrt{15}}$; $R\sqrt{15} = 2a$

(см. рис. 235). По формуле Герона

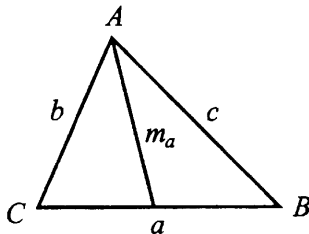


Рис. 235

$S = \sqrt{p(p-a)(p-b)(p-c)}$, где $p = \frac{a+2+3}{2} = \frac{5+a}{2}$ — полупериметр $\triangle ABC$, $b = 2$, $c = 3$ — стороны $\triangle ABC$.

Тогда $S = \sqrt{\frac{5+a}{2} \cdot \frac{5-a}{2} \cdot \frac{a+1}{2} \cdot \frac{a-1}{2}} = \frac{1}{4} \sqrt{(25-a^2)(a^2-1)}$;

$\frac{3\sqrt{15}}{4} = \frac{1}{4} \sqrt{(25-a^2)(a^2-1)}$; $9 \cdot 15 = -a^4 + 26a^2 - 25$; $a^4 - 26a^2 + 160 = 0$;

$a_1 = 4$, $a_2 = \sqrt{10}$.

Учитывая формулу для вычисления медианы

$$m_a = \frac{1}{2}\sqrt{2 \cdot 2^2 + 2 \cdot 3^2 - a^2} = \frac{1}{2}\sqrt{26 - a^2} \text{ и условие } m_a < \frac{a}{2}, \text{ то есть}$$

$\sqrt{26 - a^2} < a$, получаем верное неравенство при $a = 4$ и неверное неравенство при $a = \sqrt{10}$.

Таким образом, $R\sqrt{15} = 2a = 8$.

Ответ: 8.

624. 1. $S_{ABC} = \frac{1}{2} \cdot AC \cdot CB = \frac{1}{2} \cdot 48 \cdot 36 = 864$. С другой стороны,

$S_{ABC} = \frac{1}{2} \cdot AB \cdot CD$, где $AB = \sqrt{AC^2 + CB^2} = \sqrt{48^2 + 36^2} = 60$. Тогда

$CD = \frac{2S_{ABC}}{AB} = 28,8$ (см. рис. 236).

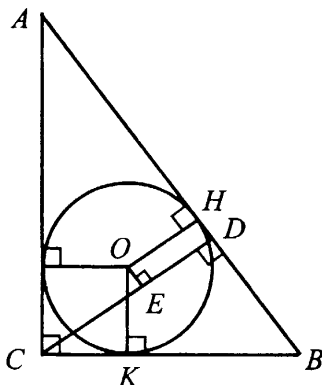


Рис. 236

2. $S_{ABC} = \frac{Pr}{2}$, $r = \frac{2S_{ABC}}{P}$, где $P = 36 + 48 + 60 = 144$ — периметр,

$r = OH$ — радиус вписанной окружности $\triangle ABC$. Тогда $r = \frac{2 \cdot 864}{144} = 12$.

3. Так как $OEDH$ — прямоугольник, то $OE = HD = BH - BD$. Но $BD = \sqrt{CB^2 - CD^2} = \sqrt{36^2 - 28,8^2} = 21,6$; $BH = BK = CB - r = 36 - 12 = 24$. Следовательно, $OE = 24 - 21,6 = 2,4$.

Ответ: 2,4.

625. Треугольники ABC и CBH — прямоугольные, $\angle ACB = \angle CHB = 90^\circ$, $\angle ABC = \angle CBH$. Следовательно, треугольники ABC и CBH подобны по первому признаку подобия треугольников.

627. Треугольники ABC и MNP подобны по третьему признаку подобия треугольников, так как стороны треугольника ABC пропорциональны сторонам треугольника MNP : $\frac{AB}{PN} = \frac{BC}{MP} = \frac{AC}{MN} = 2$ (MN , MP , PN — средние линии треугольника ABC).

628. Из формулы длины медианы $m_b = \frac{1}{2}\sqrt{2a^2 + 2c^2 - b^2}$ найдём сторону b .

$2 = \frac{1}{2}\sqrt{2(\sqrt{15})^2 + 2 \cdot 1^2 - b^2}$, $16 = 30 + 2 - b^2$, $b^2 = 16$, $|b| = 4$. Так как $b > 0$, то $b = 4$.

Тогда периметр треугольника $p = 1 + \sqrt{15} + 4 = 5 + \sqrt{15}$. Следовательно, $(5 - \sqrt{15})p = (5 - \sqrt{15})(5 + \sqrt{15}) = 25 - 15 = 10$.

Ответ: 10.

629. 1) Точки M и N — середины сторон AB и BC , значит, MN — средняя линия $\triangle ABC$, $MN = \frac{1}{2}AC$, $AC = 6 \cdot 2 = 12$ (см. рис. 237).

$$AB = BC = \frac{P_{ABC} - AC}{2} = \frac{32 - 12}{2} = 10,$$

$$MB = NB = \frac{1}{2}AB = \frac{1}{2} \cdot 10 = 5, BK = 4.$$

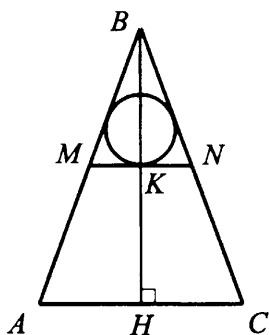


Рис. 237

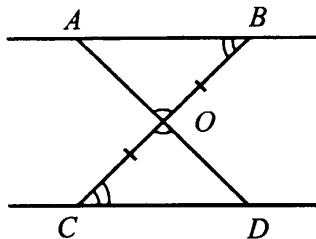


Рис. 238

2) $P_{MBN} = \frac{1}{2}P_{ABC} = \frac{1}{2} \cdot 32 = 16$.

3) $S_{ABC} = \frac{1}{2}AC \cdot BH = \frac{1}{2} \cdot 12 \cdot 8 = 48$,

$$S_{MBN} = \frac{1}{4}S_{ABC} = \frac{1}{4} \cdot 48 = 12.$$

$S_{MBN} = \frac{1}{2}rP_{MBN}$, где r — радиус окружности, вписанной в $\triangle MBN$,

$$r = \frac{2S_{MBN}}{P_{MBN}} = \frac{2 \cdot 12}{16} = 1,5.$$

Ответ: 1,5.

630. Доказательство:

1) $\angle AOB = \angle COD$ как противолежащие (см. рис. 238).

2) $\angle ABC = \angle BCD$ как накрест лежащие.

3) $\triangle AOB = \triangle COD$ по второму признаку равенства треугольников ($OB = OC$, $\angle DOC = \angle BOA$, $\angle ABO = \angle OCD$).

631. Так как AD — медиана треугольника ABC , то $BD = CD = 2$ и $BC = 2CD = 4$ (см. рис. 239).

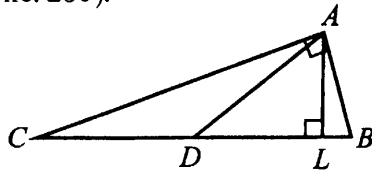


Рис. 239

Так как $AC^2 + AB^2 = BC^2$, то треугольник ABC — прямоугольный по теореме, обратной теореме Пифагора. Следовательно, его площадь

$S = \frac{1}{2} \cdot AC \cdot AB = \frac{\sqrt{15}}{2}$. С другой стороны, $S = \frac{1}{2} \cdot BC \cdot AL$. Тогда

$$AL = \frac{2S}{BC} = \frac{\sqrt{15}}{4}.$$

Так как ABC — прямоугольный треугольник и AD — его медиана, то

$$AD = \frac{BC}{2} = 2. \text{ Тогда } DL = \sqrt{AD^2 - AL^2} = \sqrt{2^2 - \left(\frac{\sqrt{15}}{4}\right)^2} = \frac{7}{4}.$$

Таким образом, $BL = BD - DL = 2 - \frac{7}{4} = \frac{1}{4}$.

Ответ: 0,25.

632. Радиус вписанной окружности треугольника MBN $r = \frac{2S}{P}$, где S и P — площадь и периметр этого треугольника соответственно (см. рис. 240).

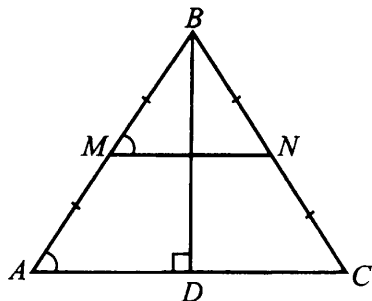


Рис. 240

Так как $\cos \angle BAC = \frac{AD}{AB}$, то $AB = \frac{AD}{\cos \angle BAC} = \frac{AD}{\sqrt{1 - \sin^2 \angle BAC}} =$
 $= \frac{5}{3}AD = \frac{5}{3}MN = 10$. Значит, $P = 2MB + MN = AB + MN = 16$.

Так как $MN \parallel AC$, то $\angle BAC = \angle BMN$. Тогда
 $S = \frac{1}{2} \cdot MB \cdot MN \cdot \sin \angle BMN = \frac{1}{2} \cdot 5 \cdot 6 \cdot \frac{4}{5} = 12$.

Таким образом, $r = \frac{2 \cdot 12}{16} = 1,5$.

Ответ: 1,5.

633. Доказательство:

$\triangle ABN = \triangle CBM$ по первому признаку равенства треугольников ($BN = BM$, $BC = BA$, $\angle B$ — общий), значит, $AN = CM$ (см. рис. 241).

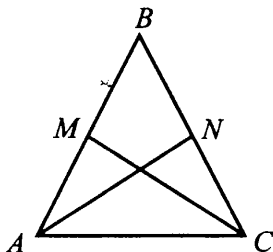


Рис. 241

634. Так как медиана прямоугольного треугольника, проведённая из вершины прямого угла, равна половине гипотенузы, то $AB = 2CD = 5$ (см. рис. 242). Тогда $AC = AB - 1 = 4$ и $BC = \sqrt{AB^2 - AC^2} = 3$. Значит, $P_{ABC} = 3 + 4 + 5 = 12$.

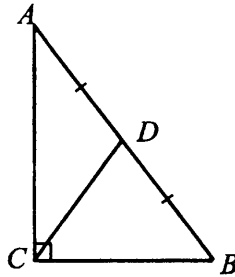


Рис. 242

Ответ: 12.

635. Так как центр описанной окружности точка O является также серединой гипотенузы треугольника ABC и $\angle ADO$ — прямой, то OD — средняя линия этого треугольника (см. рис. 243).

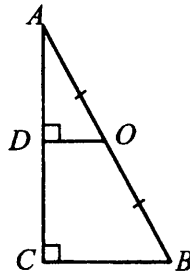


Рис. 243

Тогда $BC = 2OD = 2 \cdot 2,5 = 5$; $AB = \sqrt{AC^2 + BC^2} = \sqrt{12^2 + 5^2} = 13$;
 $S_{ABC} = \frac{1}{2} \cdot AC \cdot BC = \frac{12 \cdot 5}{2} = 30$; $P_{ABC} = 13 + 12 + 5 = 30$. Итак,
 $r = \frac{2S_{ABC}}{P_{ABC}} = \frac{2 \cdot 30}{30} = 2$ — радиус вписанной окружности треугольника ABC .

Ответ: 2.

637. Так как центр описанной окружности точка O является также серединой гипотенузы треугольника ABC и $\angle ADO$ — прямой, то OD — средняя линия этого треугольника (см. рис. 244). Значит, $BC = 2OD = 5$.

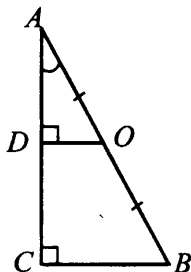


Рис. 244

Так как $\operatorname{tg} \angle BAC = \frac{BC}{AC} = \frac{5}{12}$, то $AC = \frac{12 \cdot 5}{5} = 12$.

$$AB = \sqrt{AC^2 + BC^2} = \sqrt{12^2 + 5^2} = 13.$$

$$P_{ABC} = AB + BC + AC = 13 + 5 + 12 = 30.$$

Ответ: 30.

638. По условию $AB = 29$, $AC = 27$, $AD = 26$ (см. рис. 245). Используя формулу для нахождения медианы, получим

$$AD = \frac{1}{2} \sqrt{2AB^2 + 2AC^2 - BC^2}; \quad 2 \cdot 26 = \sqrt{2 \cdot 29^2 + 2 \cdot 27^2 - BC^2};$$

$$BC = 2\sqrt{109}.$$

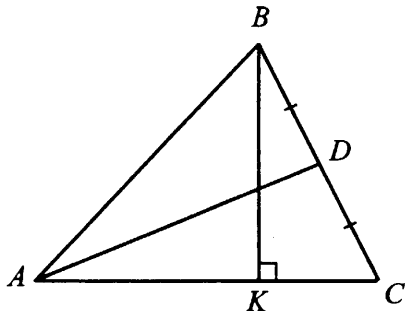


Рис. 245

По теореме косинусов для треугольника ABC :

$$BC^2 = AB^2 + AC^2 - 2 \cdot AB \cdot AC \cdot \cos A; \quad 436 = 29^2 + 27^2 - 2 \cdot 29 \cdot 27 \cdot \cos A;$$

$$\cos A = \frac{21}{29}. \quad \text{Отсюда } \sin A = \sqrt{1 - \cos^2 A} = \frac{20}{29}. \quad \text{Так как } \sin A = \frac{BK}{AB}, \text{ то}$$

$$BK = AB \sin A = 29 \cdot \frac{20}{29} = 20.$$

Ответ: 20.

639. Пусть $AB = \sqrt{10}$, $BC = \sqrt{13}$, $BD = AC = x$, $AD = y$ (см. рис. 246).

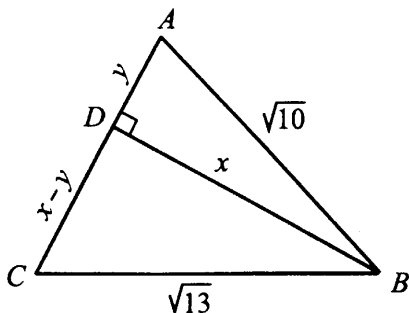


Рис. 246

Используя теорему Пифагора для треугольников ABD и BDC , получим систему уравнений

$$\begin{cases} x^2 + (x - y)^2 = 13, \\ x^2 + y^2 = 10. \end{cases}$$

Эта система имеет единственное решение $x = 3$, $y = 1$, удовлетворяющее условиям $x > 0$, $y > 0$, $x > y$.

Ответ: 3.

640. Заметим, что $\triangle BMK \sim \triangle BAC$, так как $\angle B$ — общий, а $\frac{BM}{BA} = \frac{BK}{BC}$, значит, $\angle MKB = \angle ACB$ и прямые MK и AC параллельны.

641. Пусть $AB = BC = 4$, $AD = 3$, $AC = x$ (см. рис. 247). Тогда медиану треугольника можно найти по формуле $AD = \frac{1}{2}\sqrt{2AB^2 + 2AC^2 - BC^2}$.

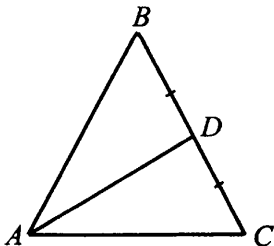


Рис. 247

Отсюда, $3 = \frac{1}{2}\sqrt{2 \cdot 4^2 + 2x^2 - 4^2}$; $x^2 = 10$.

Ответ: 10.

642. $\triangle MNK \sim \triangle ABC$, так как все его стороны пропорциональны сторонам треугольника ABC с коэффициентом $\frac{1}{2}$ как средние линии. Значит, все углы равны.

644. Доказательство:

$\angle BCM = \angle ACM = 45^\circ$ (см. рис. 248). $\triangle BMC$ — равнобедренный, поэтому возможны три варианта:

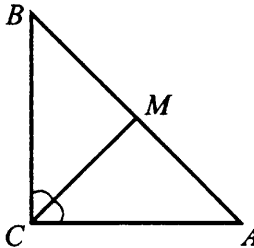


Рис. 248

1) $\angle BMC = \angle BCM = 45^\circ \Rightarrow \angle B = 90^\circ$, а это невозможно.

2) $\angle MBC = \angle BMC = \frac{180^\circ - 45^\circ}{2} = 67,5 \Rightarrow \angle AMC = 112,5^\circ \Rightarrow \angle MAC = 180^\circ - 112,5^\circ - 45^\circ = 22,5^\circ$, и $\triangle CMA$ не равнобедренный.

3) Значит, $\angle MBC = \angle BCM = 45^\circ \Rightarrow \angle BMC = 90^\circ \Rightarrow \angle AMC = 90^\circ \Rightarrow \angle MAC = 45^\circ$. Таким образом, треугольник ABC — равнобедренный.

646. По условию $ON = 5$, $MN = 6$ (см. рис. 249).

$\triangle KNO \sim \triangle NBO$, так как они оба прямоугольные и $\angle NOK = \angle NOB$.

Следовательно, $\frac{BN}{KN} = \frac{ON}{OK}$; $BN = \frac{KN \cdot ON}{OK} = \frac{3 \cdot 5}{\sqrt{5^2 - 3^2}} = \frac{15}{4}$.

$BK = \sqrt{BN^2 - KN^2} = \frac{9}{4}$.

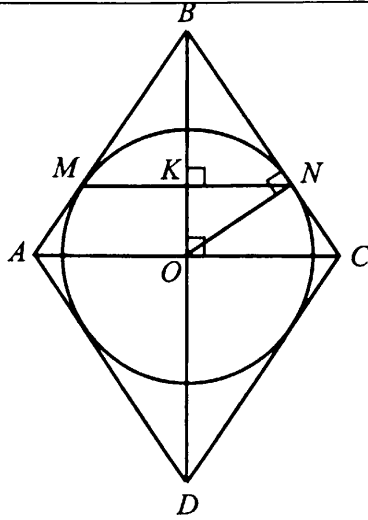


Рис. 249

$\triangle BKN \sim BOC$, так как они оба прямоугольные и $\angle OBC = \angle KBN$.

Следовательно, $\frac{BN}{BC} = \frac{BK}{BO}$; $BC = \frac{BN \cdot BO}{BK} = \frac{\frac{15}{4} \left(\frac{9}{4} + 4 \right)}{\frac{9}{4}} = \frac{125}{12}$.

Ответ: $\frac{125}{12}$.

648. Так как $ABCD$ — параллелограмм, то $BO = OD$. Следовательно, $\triangle BCO = \triangle DOC$ по первому признаку равенства треугольников (OC — общая, $BO = OD$, $\angle BOC = \angle DOC = 90^\circ$). Значит, $BC = CD$ и, так как противоположные стороны параллелограмма попарно равны, то все стороны $ABCD$ равны, то есть $ABCD$ — ромб.

649. $\angle MAD = \angle AMB$ как накрест лежащие, и, так как $\angle BAM = \angle MAD$, то треугольник ABM — равнобедренный, то есть $BM = AB = 4$ (см. рис. 250).

$\angle NMC = \angle AMB$ как вертикальные, и $\angle BAM = \angle MNC$ как накрест лежащие. Следовательно, треугольник MNC — равнобедренный и $MC = CN = 2$. Значит, $AD = BC = BM + MC = 4 + 2 = 6$.

Так как треугольник ABK прямоугольный, то $BK = AB \cdot \sin \angle BAK = 4 \cdot \sin 60^\circ = 2\sqrt{3}$, $AK = \frac{AB}{2} = 2$ (катет, лежащий против угла в 30°).

Итак, $KD = AD - AK = 6 - 2 = 4$; $BD = \sqrt{BK^2 + KD^2} = 2\sqrt{7}$.

Ответ: $2\sqrt{7}$.

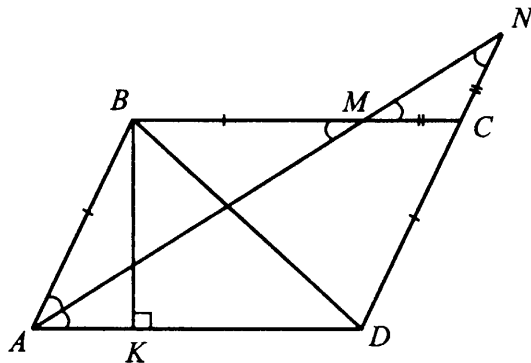


Рис. 250

650. 1) $\angle 1 = \angle 2$, так как AK — биссектриса угла A (см. рис. 251).
 $\angle 2 = \angle 3$ как накрест лежащие при параллельных прямых BC и AD
и секущей AK . Отсюда $\angle 1 = \angle 3$. Значит, $\triangle ABK$ — равнобедренный,
 $BK = AB = 4$.

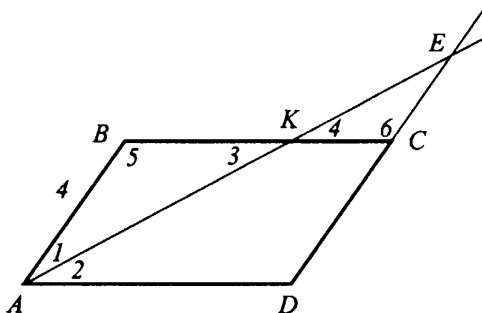


Рис. 251

2) $\triangle ABK \sim \triangle ECK$ по первому признаку подобия ($\angle 3 = \angle 4$ как
вертикальные, $\angle 5 = \angle 6$ как накрест лежащие при параллельных сторонах
 AB и CD и секущей BC).

Из подобия треугольников следует $\frac{AB}{EC} = \frac{BK}{KC}$.

Отсюда $KC = \frac{EC \cdot BK}{AB} = \frac{1 \cdot 4}{4} = 1$.

Ответ: 1.

651. Пусть $AB = 3$, $AC = \sqrt{37}$, $\angle BAK = 60^\circ$ (см. рис. 252). Тогда $AK = \frac{AB}{2} = \frac{3}{2}$ как катет, лежащий против угла в 30° , и $BK =$
 $= AB \cdot \cos A = 3 \cdot \cos 60^\circ = \frac{3\sqrt{3}}{2}$.

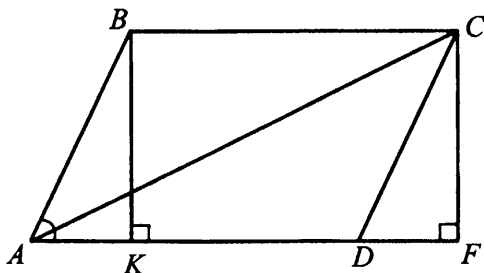


Рис. 252

Пусть $KD = x$. Так как $AK = DF$ ($\triangle ABK = \triangle DCF$ по второму признаку), то $AF = AK + KD + DF = x + 3$. Тогда $AF = \sqrt{AC^2 - CF^2} =$
 $= \sqrt{AC^2 - BK^2} = \sqrt{37 - \frac{27}{2}} = \frac{11}{2}$; $x + 3 = \frac{11}{2}$; $x = \frac{5}{2}$. Следовательно,
 $AD = AK + KD = \frac{3}{2} + \frac{5}{2} = 4$.

Таким образом, $P_{ABCD} = 2AB + 2AD = 2 \cdot 3 + 2 \cdot 4 = 14$.

Ответ: 14.

652. Доказательство:

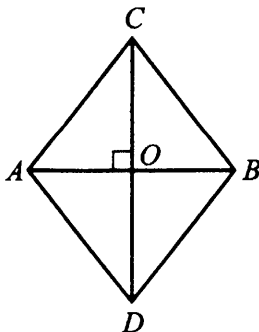


Рис. 253

Известно, что $AB \perp CD$, $AO = OB$, $CO = OD$ (см. рис. 253).
 $\triangle AOC = \triangle BOD$ по первому признаку равенства треугольников
 ($AO = OB$, $CO = OD$, $\angle COA = \angle BOD$). Аналогично $\triangle COB = \triangle AOD$.

$\triangle AOC = \triangle COB$ по первому признаку равенства треугольников
 ($\angle AOC = \angle COB$, OC — общая сторона, $AO = OB$).

Значит, $\triangle AOC = \triangle OCB = \triangle AOD = \triangle BOD$, а потому
 $AC = BC = AD = BD$, то есть $ABCD$ — ромб.

653. Пусть $AC = 3x$, $BD = 4x$ (см. рис. 254). По теореме Пифагора для
 треугольника AOB получим $AB^2 = AO^2 + BO^2$; $25 = \frac{9}{4}x^2 + 4x^2$; $x = 2$.
 Тогда $BD = 8$, $AC = 6$ и $BD + AC = 14$.

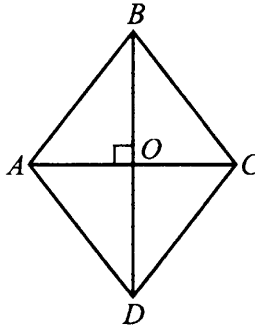


Рис. 254

Ответ: 14.

654. Доказательство:

$\triangle ABM = \triangle MCD$ по первому признаку равенства треугольников
 ($BM = MC$, $CD = AB$, $\angle ABM = \angle MCD$), значит, $AM = MD$.

655. По условию $3\angle CBD = \angle ABD$ (см. рис. 255). При этом $\angle ABC =$
 $= 180^\circ - \angle BAD = 120^\circ$. Тогда $\angle ABC = 3\angle CBD + \angle CBD$;
 $120^\circ = 4\angle CBD$; $\angle CBD = 30^\circ$; $\angle ABD = 90^\circ$.

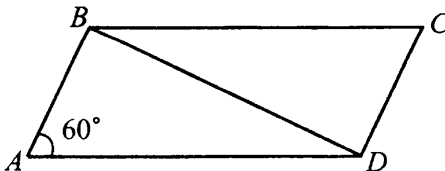


Рис. 255

Пусть $AD = x$. Тогда по условию $2x + 2AB = 90$; $AB = 45 - x$. Кроме того, треугольник ABD — прямоугольный и $\angle ADB = 30^\circ$. Значит, $AB = \frac{1}{2}AD = \frac{x}{2}$ (катет, лежащий против угла в 30°).

Итак, $\frac{x}{2} = 45 - x$; $x = 30$.

Ответ: 30.

656. Так как $\angle CBF = \angle BFA$ как накрест лежащие, то треугольник ABF — равнобедренный, то есть $AF = AB = 12$ (см. рис. 256).

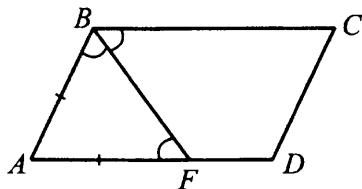


Рис. 256

Пусть $AF = 4x$, тогда $FD = 3x$. Так как $4x = 12$, то $x = 3$ и $AD = AF + FD = 7x = 21$. Следовательно, $P_{ABCD} = 2(AB + AD) = 2(12 + 21) = 66$.

Ответ: 66.

657. Так как MN — средняя линия $\triangle ABC$, то $MN \parallel AC$. Так как PL — средняя линия $\triangle ADC$, то $PL \parallel AC$. Следовательно, $MN \parallel PL$ (см. рис. 257). Аналогично $MP \parallel NL$. Значит, $MNLP$ — параллелограмм.

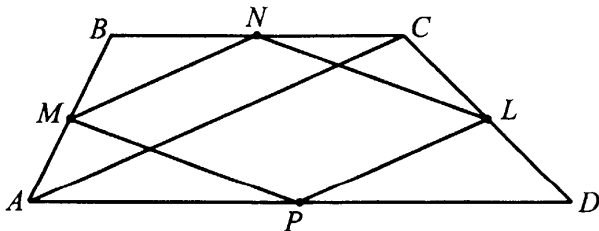


Рис. 257

658. Из равенства отрезков касательных, проведённых к окружности из одной точки, следуют равенства: $AM = AQ$, $BM = BN$, $CN = CP$, $DP = DQ$ (см. рис. 258). Отсюда $AB + CD = AM + MB + CP + PD = AQ + BN + CN + DQ = AD + BC$.

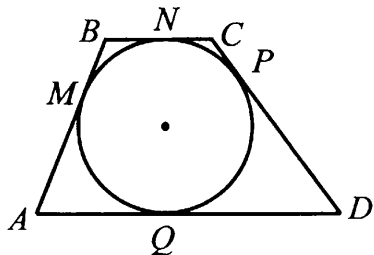


Рис. 258

660. $\angle BCA = \angle BDA$ как опирающиеся на одну и ту же дугу (см. рис. 259).
 $\angle BCA = \angle CAD$ как накрест лежащие при параллельных прямых BC и

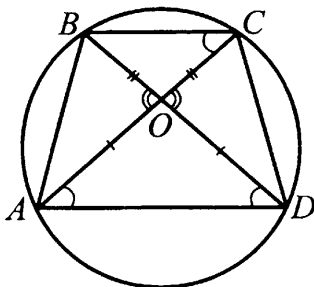


Рис. 259

AD и секущей AC . Значит, $\angle CAD = \angle BDA$, то есть $\triangle AOD$ — равнобедренный и $AO = OD$. Аналогично доказывается, что $BO = OC$. Так как, кроме того, $\angle AOB = \angle COD$ как вертикальные, то $\triangle AOB = \triangle COD$ по первому признаку равенства треугольников. Следовательно, $AB = CD$, то есть трапеция $ABCD$ — равнобедренная.

661. Так как $BO = OD$, $\angle ADO = \angle OBK$ как накрест лежащие,
 $\angle AOD = \angle BOK$ как вертикальные, то $\triangle AOD = \triangle BOK$ (см. рис. 260).
Тогда $CK = BK - BC = 10 - 5 = 5$.

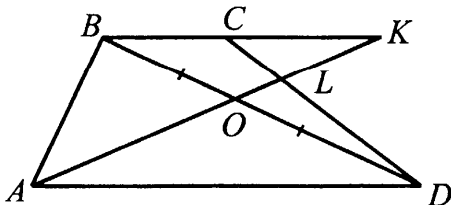


Рис. 260

$\triangle CLK \sim \triangle DLA$ ($\angle ALD = \angle CLK$ как вертикальные и $\angle DCK = \angle CDA$ как накрест лежащие). При этом $\frac{CK}{AD} = \frac{5}{10} = \frac{1}{2}$. Следовательно, $\frac{CL}{LD} = \frac{1}{2}$, $\frac{LD}{CD} = \frac{2}{3}$, $LD = \frac{2}{3}CD = \frac{2}{3} \cdot 9 = 6$.

Ответ: 6.

663. В треугольнике ABM : $BM = 2r = 2 \cdot 2 = 4$, где r — радиус вписанной окружности; $BM = \frac{1}{2}AB$, $AB = 8$ (см. рис. 261).

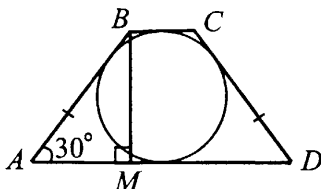


Рис. 261

Так как в $ABCD$ можно вписать окружность, то $AD + BC = AB + CD = 8 + 8 = 16$. Тогда средняя линия трапеции равна $\frac{1}{2}(AD + BC) = 8$.

Ответ: 8.

664. Так как трапеция описана около окружности, то $AB + CD = BC + AD$ (см. рис. 262). Тогда $P_{ABCD} = AB + BC + CD + AD = 2(BC + AD) = 4MN = 4 \cdot 10 = 40$, где MN — средняя линия трапеции.

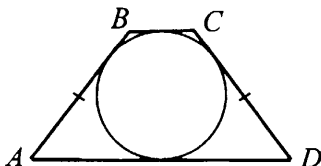


Рис. 262

Ответ: 40.

665. Так как трапеция описана около окружности, то $AB + CD = BC + AD$ (см. рис. 263). Средняя линия трапеции $MN = \frac{1}{2}(BC + AD) =$
 $= \frac{1}{2}(AB + CD) = AB = 5$.

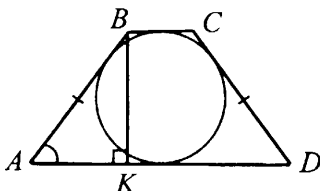


Рис. 263

Так как $\sin \angle BAK = \frac{BK}{AB}$, то $BK = AB \sin \angle BAK = 5 \cdot \frac{4}{5} = 4$. Тогда $S_{ABCD} = MN \cdot BK = 5 \cdot 4 = 20$.

Ответ: 20.

666. Так как трапеция равнобокая, то вокруг неё можно описать окружность (см. рис. 264). Тогда $\angle BAC = \angle BDC$ как вписанные углы, опирающиеся на одну и ту же дугу. Следовательно, $\triangle AOD$ — равнобедренный ($\angle OAD = \angle ODA$, так как углы при основании равнобокой трапеции равны, и $\angle BAC = \angle BDC$) и, так как он прямоугольный, то $\angle OAD = 45^\circ$. Но треугольник AOK также прямоугольный с острым углом в 45° , следовательно, он равнобедренный и $AK = OK$.

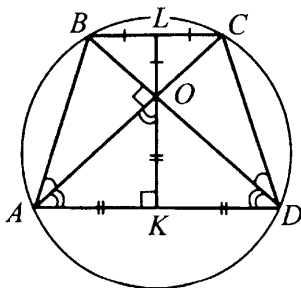


Рис. 264

Аналогично можно доказать, что $OL = BL$. Значит, $KL = KO + OL =$
 $= AK + BL = \frac{1}{2}(AD + BC) = MN$, где MN — средняя линия трапеции.

$$S_{ABCD} = \frac{1}{2}(AD + BC) \cdot KL = MN \cdot KL = KL^2; KL^2 = 4; KL = 2.$$

Ответ: 2.

667. Пусть R, r и a — радиусы описанной и вписанной окружностей и сторона правильного шестиугольника соответственно (см. рис. 265). Тогда по теореме Пифагора $R^2 = \left(\frac{a}{2}\right)^2 + r^2$. Так как в правильном шестиугольнике

$$R = a \text{ и } r = R - 1 \text{ по условию, то получим уравнение } a^2 = \left(\frac{a}{2}\right)^2 + (a-1)^2;$$

$a = 4 \pm 2\sqrt{3}$. Так как из условия следует, что $r = a - 1 > 0$, то есть $a > 1$, то $a = 4 + 2\sqrt{3}$.

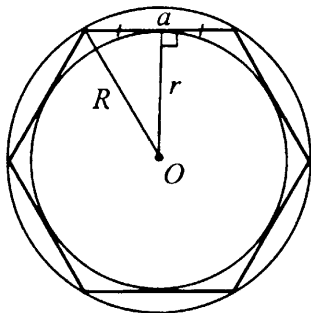


Рис. 265

Ответ: $4 + 2\sqrt{3}$.

668. $\angle AKB = \angle CKD$ как вертикальные, $\angle ABD = \angle ACD$ как вписанные углы, опирающиеся на одну и ту же дугу. Следовательно, треугольники ABK и CDK подобны по первому признаку подобия треугольников.

669. Треугольники AOB и OBC равны по третьему признаку равенства треугольников: $AO = CO$ как радиусы окружности; BO — общая сторона; $AB = CB$ как отрезки касательных, проведённых из одной точки.

671. Точки M и N — середины хорд AB и AC , значит, MN — средняя линия $\triangle ABC$ (см. рис. 266).

$$MN = \frac{1}{2}BC, BC = 2MN = 2 \cdot 5 = 10.$$

$$\text{Периметр } P_{ABC} = 17 + 9 + 10 = 36,$$

$$\text{полупериметр } p = \frac{1}{2}P_{ABC} = \frac{1}{2} \cdot 36 = 18.$$

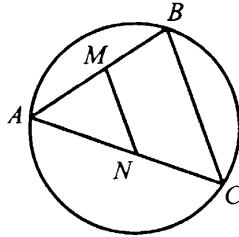


Рис. 266

Следовательно, $S_{ABC} = \sqrt{p(p-a)(p-b)(p-c)} =$
 $= \sqrt{18(18-10)(18-17)(18-9)} = 36$. Тогда радиус окружности
 $R = \frac{abc}{4S}$, а диаметр $2R = \frac{abc}{2S} = \frac{9 \cdot 10 \cdot 17}{2 \cdot 36} = 21,25$.

Ответ: 21,25.

672. Так как $AOEB$ — прямоугольник, то $AB = OE$ (см. рис. 267).

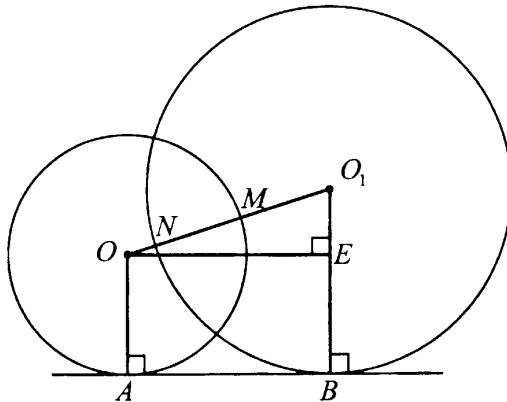


Рис. 267

По теореме Пифагора для треугольника OO_1E получим
 $OE = \sqrt{OO_1^2 - O_1E^2} = \sqrt{OO_1^2 - (O_1B - EB)^2} =$
 $= \sqrt{80 - (8 - 4)^2} = 8$.

Ответ: 8.

673. По теореме о касательной и секущей $AD \cdot AC = AB^2$,
 $AD = \frac{AB^2}{AC} = 3$ (см. рис. 268).

Ответ: 3.

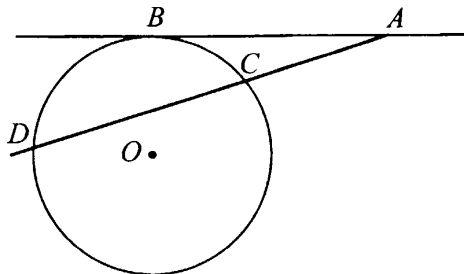


Рис. 268

674. По теореме о касательной и секущей $AN \cdot AM = AB^2$,
 $AN = \frac{AB^2}{AM} = 3$ (см. рис. 269). Тогда $MN = AN - AM = 3 - 1 =$
 $= 2$; $OM = ON = 1$ — радиус окружности; $AO = AM + OM = 2$.

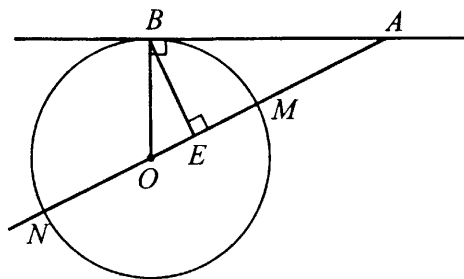


Рис. 269

$$S_{OBA} = \frac{1}{2}BO \cdot AB = \frac{1}{2}AO \cdot BE; BE = \frac{BO \cdot AB}{AO} = \frac{1 \cdot \sqrt{3}}{2} =$$

$$= \frac{\sqrt{3}}{2}; BE^2 = \frac{3}{4}.$$

Ответ: 0,75.

675. $\triangle ACB \sim \triangle ADC$, так как они прямоугольные и имеют общий острый угол при вершине A (см. рис. 270). Тогда $\frac{AB}{AC} = \frac{CB}{CD}$; $CB = AB \cdot \frac{CD}{AC}$
и $AB = 2 \cdot 17,5 = 35$.

Пусть $AC = 5x$, $AD = 3x$. Тогда по теореме Пифагора
 $CD = \sqrt{AC^2 - AD^2} = 4x$, то есть $\frac{CD}{AC} = \frac{4}{5}$.

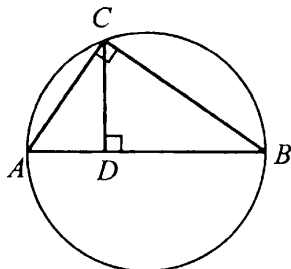


Рис. 270

Таким образом, $CB = 35 \cdot \frac{4}{5} = 28$ и $AC = \sqrt{AB^2 - CB^2} = \sqrt{35^2 - 28^2} = 21$. Итак, $AC + CB = 21 + 28 = 49$.

Ответ: 49.

676. Так как $\angle ACD = 90^\circ$, то AD — диаметр окружности (см. рис. 271). FE — средняя линия треугольника ACD . Следовательно, $AD = 2FE = 12$ и искомый радиус окружности равен 6.

Ответ: 6.

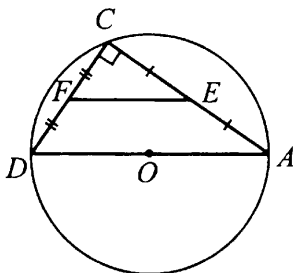


Рис. 271

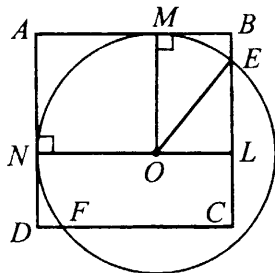


Рис. 272

677. Так как по условию $BE = DF = 2$ и $EC = FC = 23$, то сторона квадрата $ABCD$ равна 25 (см. рис. 272).

Пусть r — радиус окружности. Тогда $OE = r$, $EL = BL - BE = OM - BE = r - 2$, $OL = NL - NO = 25 - r$. Так как EOL — прямоугольный треугольник, то по теореме Пифагора $EL^2 + OL^2 = OE^2$; $(r - 2)^2 + (25 - r)^2 = r^2$; $r^2 - 54r + 629 = 0$; $r = 37$ или $r = 17$, причём значение $r = 37$ не удовлетворяет условию $OL = 25 - r > 0$.

Ответ: 17.

Литература

1. Федеральный государственный образовательный стандарт основного общего образования (5–9 классы). Приказ Минобрнауки РФ №1897 от 17.12.2010.
2. Демонстрационный вариант экзаменационной работы для проведения в 2014 году государственной (итоговой) аттестации (в новой форме) по математике обучающихся, освоивших основные общеобразовательные программы основного общего образования [Электронный ресурс]. — Москва: ФИПИ, 2013. — Режим доступа: www.fipi.ru, свободный.
3. Спецификация контрольных измерительных материалов для проведения в 2014 году государственной (итоговой) аттестации (в новой форме) по математике обучающихся, освоивших основные общеобразовательные программы основного общего образования [Электронный ресурс]. — Москва: ФИПИ, 2013. — Режим доступа: www.fipi.ru, свободный.
4. Математика. 9 класс. Подготовка к ГИА-2015: учебно-методическое пособие / Под редакцией Ф. Ф. Лысенко, С. Ю. Кулабухова. — Ростов-на-Дону: Легион, 2014. — 320 с.

ГИА-9

Учебное издание

Коннова Елена Генриевна
Нужа Галина Леонтьевна
Ольховая Людмила Сергеевна
Резникова Нина Михайловна
Фридман Елена Михайловна
Ханин Дмитрий Игоревич

**МАТЕМАТИКА. РЕШЕБНИК.
9 КЛАСС. ПОДГОТОВКА К ГИА-2015**

Под редакцией **Ф. Ф. Лысенко, С. Ю. Кулабухова**

Налоговая льгота: издание соответствует коду 95 3000 ОК 005-93 (ОКП)

Обложка *В. Кириченко*
Компьютерная верстка *С. Иванов*
Корректор *Н. Пимонова*

Подписано в печать с оригинал-макета 23.07.2014.
Формат 60x84¹/₁₆. Бумага типографская.
Гарнитура Таймс. Печать офсетная. Усл. печ. л. 19,5.
Тираж 15 000 экз. Заказ № **12**.

Издательство ООО «Легион» включено в перечень организаций, осуществляющих издание учебных пособий, которые допускаются к использованию в образовательном процессе в имеющих государственную аккредитацию и реализующих образовательные программы общего образования образовательных учреждениях. Приказ Минобрнауки России № 729 от 14.12.2009, зарегистрирован в Минюст России 15.01.2010 № 15987.

ООО «ЛЕГИОН»

Для писем: 344000, г. Ростов-на-Дону, а/я 550.
Адрес редакции: 344082, г. Ростов-на-Дону, ул. Согласия, 7.
www.legionr.ru e-mail: legionrus@legionrus.com

Отпечатано в соответствии с качеством предоставленных
диапозитивов в ООО «Полиграфобъединение»
347900, г. Таганрог, ул. Лесная биржа, 6В.